



SIIRT İL MİLLİ EĞİTİM MÜDÜRLÜĞÜ

2020

ORTAOKUL

7 - 11 ARALIK

6

ÖDEU TAKİP SİSTEMİ

0484 223 10 28

arge56@meb.gov.tr

siirt.meb.gov.tr

@mem_siirt

@siirtmem

İSİMLER (ADLAR)

A) Varlıkların Verilişine Göre İsimler	B) Varlıkların Sayılarına Göre İsimler	C) Varlıkların Niteliklerine (Oluşlarına) Göre İsimler
Özel İsim	Tekil İsim	Somut İsim
Cins İsim	Çoğul İsim	Soyut İsim
	Topluluk İsmi	

A) VARLIKLARA VERİLİŞLERİNE GÖRE İSİMLER

1. ÖZEL İSİM : Tek olan, diğer varlıklar içinde tam bir benzeri bulunmayan varlıklara verilen isimler “özel” isimlerdir. İnsan isimleri, kurum adları, millet adları, din adları, ırk adları, yer adları; kitap, dergi adları, hayvanlara verilen takma isimler vb. özel isimlerdendir.

Büşra, İlknur, Siirt Valiliği, Siirt İl Millî Eğitim Müdürlüğü, Türk, Müslüman, Türkçe, Afrika, Karabaş vb.

2. CİNS İSİM: Aynı cinsten birçok varlığın ortak olan ismine “cins” isim denir.

Göz, anne, baba, dayı, kanepa, kulaklık, çatal vb.

B) VARLIKLARIN SAYILARINA GÖRE İSİMLER

1. TEKLİK (TEKİL) İSİM: Sayısal anlamda tek olan, çoğul takısı (-ler, -lar) almamış adlardır. Gazete, balık, roman vb.

2. ÇOKLUK (ÇOĞUL) İSİM: Sayısal anlamda birden fazla olan, çoğul takısı

(-ler, -lar) almış adlardır. Çoğul anlamı bu ekler ile sağlanır. Gazeteler, balıklar, romanlar vb.

3. TOPLULUK İSMİ: Biçimce tekil, anlamca çoğul isimlerdir. Yani “-ler, -lar” çoğul eki almadığı halde anlam olarak birden fazla varlığı ifade eden isimler ”topluluk” isimleridir. Topluluk isimleri parçaların birleşmesinden oluşan “bütün”ü ifade eder. Ordu, sürü, demet vb.

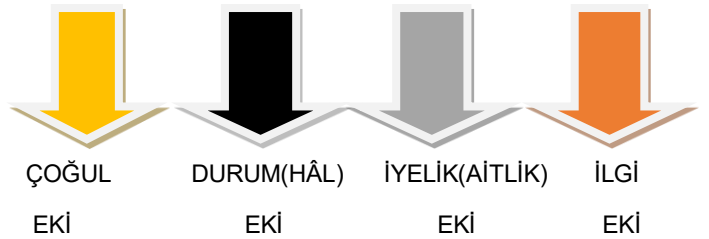
C) VARLIKLARIN NİTELİKLERİNE (OLUŞLARINA) GÖRE İSİMLER

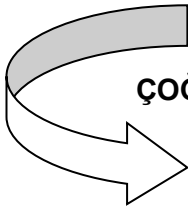
1. SOMUT İSİM: Beş duyu organımızdan herhangi bir tanesiyle algılayabildiğimiz, yani elle tutup gözle görebildiğimiz, koklayıp tadabildiğimiz veya duyabildiğimiz varlıkları karşılayan isimler “somut” isimlerdir. Duman, toprak, rüzgar, göl vb.

2. SOYUT İSİM: Beş duyu organımızdan herhangi biriyle algılayamadığımız, var olduklarını hislerimizle ve düşünce yoluyla bildiğimiz kavramları karşılayan isimlere “soyut” isimler denir. Aşk, sevgi, özlem, kaygı, öfke vb.

İSİM (AD) ÇEKİM EKLERİ

İsimlerin ve isim soylu sözcüklerin sonuna gelerek onları diğer isimlere, edatlara, eylemlere bağlayan; cümle içindeki görevlerini belirleyen, ait oldukları kişileri belirten ve isimlerin çeşitli durumlarını bildiren eklerdir.





ÇOĞUL (ÇOKLUK) EKİ

İsimlerin sayı bakımından birden çok olduğunu belirtir.

Ahmet kitaplarını arkadaşına verdi.

Not: Çoğul eki (-lar, -ler), adlara çoğul anlamı dışında anlamlar da katar:

Eliflere yarın gideceğiz. (aile)

Bu savaşı Osmanlılar kazandı. (soy)

Ülkemiz Azerbaycan ile işbirliği yaptı. (millet)

Daha çok Neşet Ertaşlar yetiştirmeliyiz. (benzerlik)

Seni dünyalar kadar özledim. (abartma)

Ahmet Beyler henüz işe gelmedi mi? (saygı)

DURUM(HÂL) EKLERİ

Belirtme Eki (-ı,-i,-u,-ü)

Yönelme Eki (-e,-a)

Bulunma Eki (-de,-da,-te,-ta)

Ayrılma Eki (-den,-dan,-ten,-tan)

a) Belirtme durumu eki (-ı / -i / -u / -ü)

Eylemdeki işten, hareketten, oluştan etkilenen varlığı belirtir.

Kapıyı açamayınca çilingir çağırırdı.

b) Yönelme durumu eki: (-e / -a)

İsme getirilen “-a, / -e” hâl ekidir.

Eve geç döneceğini söyledi.

c) Bulunma durumu eki: (-de / -da / -te / -ta)

İsmlere “-da / -de / -ta / -te” ekleri getirilerek yapılır.

Eylül dün ablasında kaldı.

d) Ayrılma durumu eki: (-den / -dan / -ten / -tan)

İsmlere “-dan / -den / -tan / -ten” ekleri getirilerek yapılır.

Okuldan çıkınca bize uğradı.

Not: İsmi ek almamış haline yalın hâl denir.

Okul, ev, kapı, dolap vb.

İYELİK (AİTLİK) EKLERİ

İsmlere gelerek onların kime veya neye ait olduğunu belirten eklerdir. Şahıslara göre çekimlenir.

(benim) defterim

(senin) defterin

(onun) defteri

(bizim) defterimiz

(sizin) defteriniz

(onların) defterleri

İLGİ EKİ

(-ın,-in,-un,-ün)

Bir ismi başka bir isimle ilgili hale getirir; isimleri isimlere bağlar.

Bu ek 1. tekil ve 1. çoğul şahıs için “-im” şeklindedir: ben-**im**, biz-**im**

Ev**in** kedisi çok sevimliydi.

İSİM TAMLAMALARI

- ❖ BELİRTİSİZ İSİM TAMLAMASI
- ❖ BELİRTİLİ İSİM TAMLAMASI
- ❖ ZİNCİRLEME İSİM TAMLAMASI

Bir adın, başka bir adla oluşturduğu tamlamadır. İsim tamlamasında birinci kelime tamlayan, ikinci kelime tamlanandır.

BELİRTİSİZ İSİM TAMLAMASI

Sadece tamlananın ek aldığı tamlamadır. Tamlanan iyelik ekini alır.
Kapı kolu
Kol düğmesi
Tırnak makası

BELİRTİLİ İSİM TAMLAMASI

Tamlayanın da tamlanın da ek aldığı tamlamadır. Tamlayan ilgi ekini tamlanan da iyelik ekini alır.
Defterin sayfası
Bahçenin duvarı
Evin kapısı

ZİNCİRLEME İSİM TAMLAMASI

İkiden fazla ismin birbirine bağlandığı isim tamlamalarıdır. Zincirleme isim tamlaması ayrı bir tamlama çeşidi değildir. Bu tamlamada tamlayan ya da tamlanan veya her ikisi de kendi içinde başka bir isim tamlaması oluşturur.

Türkçe dersi sınavı
Evin sokak kapısı
Sokak lambasının ışığı

1) Aşağıdaki cümlelerin hangisinde **çatlak** sözcüğü mecaz anlamda kullanılmıştır?

- A) Çatıdaki çatlak yüzünden odaya yağmur suyu damlıyor.
- B) Nasır tutmuş ellerinde çatlaklar vardı.
- C) Ar damarı çatlamış birinden uzak durmak en iyisi.
- D) Şubat sonuna doğru yoldaki buzlar çatlamış, güneş ışığıyla erimişti bile.

2) Eş anlamlı sözcükler, yazılışları ve okunuşları farklı olmasına rağmen aynı anlamı taşıyan kelimelerdir. Eş anlamlı sözcükler birbirlerinin yerine kullanılabilir. Eş anlamlılık çoğunlukla Türkçe sözcüklerle dilimize yabancı dillerden girmiş sözcükler arasındadır.

Buna göre altı çizili sözcüklerden hangisinin eş anlamlısı yoktur?

- A) Bazı kelimeler insana çok ağır gelir.
- B) Bu yaz tatilinde yüzmeyi mutlaka öğrenmeliyim.
- C) Bana neden hala cevap yazmadı?
- D) Korona sürecinde en çok özlediğim şeylerden biri de misafirlerdir.

3) Herhangi bir bilim, sanat ya da meslekle ilgili özel bir kavramı karşılayan sözcüklere terim denir. Bu tarz sözcüklerin yer aldığı cümleler terim anlamlı cümle olur.

Buna göre aşağıdaki cümlelerin hangisinde terim anlamlı bir sözcük kullanılmıştır?

- A) Ne yaparsan yap, özgün olsun daima.
- B) İşin buraya varacağı o tarihten belliydi.
- C) Derste, yazdığı epik şiiri okuyunca uzun süre alkışlanmıştı.
- D) Yine yorgun bir şekilde eve yürüyorduk.

*Sözlüğün gerçek anlamından tamamen kopmadan benzerlik ve işlevsellik açısından kazandığı yeni anlama "**yan anlam**" denir.*

4) Aşağıdaki cümlelerde altı çizili sözcüklerden hangisi yan anlamda kullanılmıştır?

- A) Bu şarkı aklıma hep hatıraları getirir.
- B) Gömlek giyerken kollarını katlamak bende alışkanlık haline gelmiş.
- C) Mangaldaki kanatlar nar gibi kızarmıştı.
- D) Çocuğun yeşil gözleri, siyah saçları vardı.

5) Yaşlı adam () eskimiş evinin gıcırdayan kapısını sessizce kapatıp yola düştü () Daracık sokağı ağır adımlarla bitirdikten sonra bir an durdu () aklına onu duygulandıran bir şey geldi () gençlik yılları ()

Yukarıda parantez ile gösterilen yerlere sırasıyla aşağıdaki noktalama işaretlerinden hangileri getirilmelidir?

- A) (,) (;) (:) (.) (!)
- B) (,) (.) (,) (:) (.)
- C) (,) (.) (,) (:) (!)
- D) (;) (.) (,) (:) (...)

6) Aşağıdaki cümlelerin **hangisinde yazım yanlışı vardır?**

- A) Mardin’de yaşadığım yılları özlüyorum.
- B) Bu muydu beklediğin haber?
- C) Sabahın köründe dışarıdan gelen sesler beni uyandırdı.
- D) Çalışkanlığı ile herkezin takdirini topluyor.

7) Aşağıdaki cümlelerin hangisinde **amaç sonuç ilişkisi yoktur?**

- A) Otobüs gelmediği için sınava yetişemedi.
- B) Müzik dinlemek için bilgisayarını açtı.
- C) Tatile gidebilmek için para biriktiriyordu.
- D) Annemi mutlu edeyim diye yatağımı topladım.



Ayşe:
“Dost acı söyler.”

Ebru: “Dost acıyı tatlı söyler.”

Ayşe:
“Haklısın ama bu bir atasözüdür.”

8) Yukarıdaki konuşmada atasözleri ile ilgili vurgulanmak istenen aşağıdakilerden hangisidir?

- A) Genellikle mecaz anlam taşırlar.
- B) Halkın ortak malıdır.
- C) Az sözle çok şey anlatırlar.
- D) Kalıplaşmış ifadelerden oluşur.

9) Aşağıdaki cümlelerden hangisi kanıtlanabilirlik açısından farklıdır?

- A) Neil Armstrong, Ay’a ayak basan ilk insandır.
- B) Çift sayılar ikiye tam bölünür.
- C) Bir yılda on iki ay vardır.
- D) Gökkuşağının bu güzel renkleri hepimizde bir sevinç uyandırmıştı.

10) Çokluk (Çoğul) eki bazı durumlarda eklendiği sözcüğe çokluk anlamı dışında farklı anlamlar da kazandırabilir.

Aşağıdaki cümlelerin hangisinde bu duruma uygun bir kullanım söz konusudur?

- A) Köpekler sadık hayvanlardır.
- B) Bu ülkede Mustafa Kemaller tükenmez.
- C) Yarın sınavlar başlayacak.
- D) Kitapları ve defterleri çantanıza koyun.

11) Şahıs zamirleri 'o, onlar' ile işaret zamiri 'o, onlar' ı karıştırmamak için cümledeki anlamına bakarız. 'o, onlar' zamirleri insan yerine kullanılmışsa şahıs zamiri insan dışında bir varlık ya da kavram için kullanılmış ise işaret zamiridir.

Aşağıdaki cümlelerin hangisinde 'O' şahıs zamiri olarak kullanılmıştır?

- A) O, bütün bunların farkındadır.
- B) Onu buzdolabına koymayı unutma.
- C) Dün akşam kirlendiğinde onu makineye attım.
- D) Evden çıkarken onu açık bıraktığı aklına geldi.

12) İsim soylu sözcükleri diğer isimlere, edatlara bağlayan; isimlerin cümledeki diğer sözcüklerle ilişki kurarak çeşitli görevler almasını sağlayan eklere **durum (hâl)ekleri** denir. İsimlerin ve isim soylu sözcüklerin durum eki almamış şekline **yalinhâl** denir. Durum (Hâl) ekleri, isimlere; belirtme (-i), yönelme(-e), bulunma(-de), ayrılma (-den) anlamı katarlar.

Aşağıdaki cümlelerin hangisinde bulunma anlamı vardır?

- A) Kapıyı tanımadığım biri açtı.
- B) Yarın Siirt'e gideceğiz.
- C) Okuldan çıkıp eve gitti.
- D) Ayşe dün evde kitap okudu.

13) Aşağıdaki cümlelerin hangisinde tekil ad, çoğul ad ve topluluk adı bir arada kullanılmıştır?

- A) Tavan arasından gelen ses dikkatini çekti.
- B) Kışlık kazakları çıkartma vakti geldi.
- C) Sürüden ayrılanı kurt kapar.
- D) Kardeşlerimle annem için bir demet gül topladık.

14) Bir kimsenin, özellikle tanınmış kişilerin yaşadıkları dönemde gördükleri ya da yaşadıkları ilginç olayları gözlemlerine ve bilgilerine dayanarak anlattıkları yazı türüne..... denir.

Yaşanmış ya da tasarlanmış bir olayı, bir durumu anlatan kısa, kurmaca anlatılara denir.



Masal



Hikâye



Anı



Günlük

Bu parçalarda boş bırakılan yerlere sırasıyla sembollerle gösterilen metin türlerinden hangileri gelmelidir?

A)



B)



C)



D)



15) Bir ismin anlamca daha iyi belirtilebilmesi için, başka bir isimden yardım alarak birlikte kullanılmasına **isim tamlaması** denir.

İsim tamlamalarında **birinci isim tamlayan**, **ikinci isim ise tamlanan** adını alır.

Tamlayan ve tamlananın ek aldığı durumlarda belirtili isim tamlaması adını alır.

Buna göre aşağıdaki cümlelerin hangisinde belirtili isim tamlaması vardır?

A) Yalancının mumu yatsıya kadar yanar.

B) Annem bebek kıyafeti almaya gitti.

C) Ali Türkçe kitabını getirmeyi unutmuştu.

D) Havalar soğumaya başlayınca canım lahana turşusu çeker.

16) “Bir şeyi derinlemesine ve ayrıntılarına inmeden okumak” anlamına gelen deyim aşağıdakilerden hangisidir?

A) Göze batmak

B) Gözden düşmek

C) Göz atmak

D) Göz doldurmak

17)

Nasrettin Hoca, kaybettiği eşeğini bulamamış. Komşularından biri, "Pazara git, yüksek sesle bağırarak eşeğini kaybettiğini duyur." demiş. Hoca da pazara giderek şöyle bağırmaya başlamış:

- Eşeğim kayboldu. Eşeğimi kim bulursa ona yularıyla, semeriyle müjdelik vereceğim.

Hocanın bağırmasını duyanlardan biri Hocaya şunları söylemiş:

- Aman Hocam! Takımıyla bağışladıktan sonra ha eline geçmiş, ha geçmemiş ne fark eder? Kazancın ne olacak?

Hoca adama şu karşılığı vermiş:

- Amma da yaptın ha! Bulmak zevkini o kadar önemsiz mi sayıyorsun?

Yukarıdaki metne göre aşağıdaki hikâye unsurlarından hangisi yoktur?

- A) Olay B) Mekan
C) Zaman D) Kişiler

18) Sözün etkisini artırmak, bir şeyin niteliğini göz önüne getirmek, canlandırmak ya da daha etkili kılmak için onunla başka bir şey arasında ortak bir nitelikte ilişki kurmaya "benzetme" denir.

Buna göre aşağıdaki cümlelerin hangisinde benzetme sanatı kullanılmıştır?

- A) Bahçedeki ağaçta sarkmış narlar iştah kabartıyordu.
B) Gitar kursunda bu hafta akort yapmayı öğrendik.
C) Tahta yapbozlardan çok güzel bir uçak maketi yaptık.
D) Gece başlayan kar, sabah olunca beyaz bir örtü gibi süslemişti şehri.

19) Karşılaştırma cümleleri, birden fazla varlık, kavram ya da durumun karşılaştırıldığı cümlelerdir. Karşılaştırmada benzerlik, farklılık, üstünlük gibi değişik durumlar ifade edilir.

Buna göre aşağıdaki cümlelerin hangisinde karşılaştırma yoktur?

- A) Kışın Sivas, Siirt'ten daha soğuktur.
B) TRT'de yeni başlayan bu dizi Anadolu'yu çok güzel anlatıyor.
C) Vaka sayıları geçen aya göre artış göstermiş.
D) Yaşamın en güzel yılları gençlik yıllarıdır.

20)

Bir dünya düşünürüm

İlk günden beri;

Açılmış da masallar gülü

Hırsın, kinin kapısı kapanmış.

Yüzlerdeki gülümseme çocuksu,

Gözlerde sevginin ışığı yanmış.

...

Coşkun ERTEPİNAR

Aşağıdakilerden hangisi şairin istediği bir dünya değildir?

- A) İnsanların birbirlerine sevgi beslediği
B) Dostluk ve samimiyetin olduğu
C) Kavgaların olmadığı
D) Herkesin kendisini düşündüğü

| MUTLAK DEĞER |

ÖĞRENME ALANI

M.6.1. Sayılar ve İşlemler

ALT ÖĞRENME ALANI

M.6.1.4. Tam Sayılar

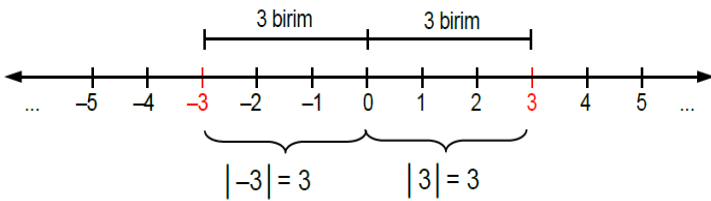
KAZANIM

M.6.1.4.3. Bir tam sayının mutlak değerini belirler ve anlamlandırır. Mutlak değer in sayı doğrusunda ve gerçek hayatta (asansör, termometre vb.) ne anlama geldiği üzerinde durulur.

KONU ÖZETİ

- Bir sayının pozitif ya da negatif olması bize bu sayının sayı doğrusu üzerinde sıfırın hangi tarafında olduğunu belirtir.
- Pozitif ya da negatif olduğunu bildiğimiz bir sayının tam yerini ise sayının sıfıra olan uzaklığına göre belirleriz.
- Bir sayının başlangıç noktasına (Sayı doğrusu üzerinde 0 noktasına) olan uzaklığına o sayının mutlak değeri denir.
- Herhangi bir **a** sayısının mutlak değeri **|a|** ile gösterilir.

Örnek $|-3|$ ve $|3|$ değerlerini bulalım.



-3 'ün 0'a olan uzaklığı 3 birimdir. Öyleyse $|-3| = 3$ 'tür.

3 'ün 0'a olan uzaklığı 3 birimdir. Öyleyse $|3| = 3$ 'tür.

!!! UNUTMA

Uzaklık negatif olamayacağından 0 hariç tüm sayıların mutlak değeri pozitiftir.

0 sayısının kendisine uzaklığı olmadığı için 0'ın mutlak değeri 0'a eşittir, yani $|0| = 0$ 'dir.

- 1) Tablo: Siirt'te Ocak ayında Beş Farklı Sıcaklık Değerleri

GÜNLER	SICAKLIK (°C)
Pazartesi	-8
Salı	-2
Çarşamba	-5
Perşembe	-1
Cuma	-10

Yukarıdaki tabloda Ocak ayında Siirt'te yaşanan beş farklı geceye ait sıcaklık değerleri verilmiştir.

Buna göre en sıcak gece aşağıdakilerden hangisidir?

- A) Pazartesi B) Salı
C) Çarşamba D) Perşembe

- 2) Aşağıdakilerden hangisi yönlü sayılarla ifade edildiğinde diğerlerinden farklıdır?

- A) %20 zarar
B) 1700 m yüksekliğinde bir dağ
C) 200 lira kâr
D) Deniz üstünde 3 m

- 3) (-10) sayısının başlangıç noktasına olan uzaklığı kaç birimdir?

- A) -10
B) -5
C) 5
D) 10

- 4) Mutlak değeri 4'ten küçük olan tam sayılar aşağıdakilerden hangisidir?

- A) -5, -4, -3, -2, -1, 0, 1, 2, 3, 4, 5
B) -4, -3, -2, -1, 0, 1, 2, 3, 4
C) -3, -2, -1, 0, 1, 2, 3
D) 0, 1, 2, 3, 4

- 5) -7'den büyük 6'dan küçük kaç tane tam sayı vardır?

- A) 10 B) 11 C) 12 D) 13

- 6) Bir asansörde, zemin katın altındaki katlar negatif tam sayılarla temsil edilmektedir. Tuncay, zemin kattan aşağıda bulunan otoparka asansörle inecektir. Tuncay'ın asansörde bastığı düğme aşağıdakilerden hangisi olabilir?

- A) 5 B) 4 C) 1 D) -3

- 7) Aşağıdaki ifadelerden hangisi yanlıştır?

- A) Bütün pozitif tam sayılar 0'dan büyüktür.
B) Bütün negatif tam sayılar 0'dan küçüktür.
C) Bütün tam sayıların mutlak değeri pozitiftir.
D) Sayı doğrusundaki bir sayı, sağındaki sayılardan küçüktür.

8) Aşağıda verilen tam sayıların sıralanışı hangi şıkta doğru olarak verilmiştir.

$$a = 6 \quad b = -4 \quad c = -11 \quad d = |-8|$$

- A) $b < a < c < d$
 B) $c < d < b < a$
 C) $d < a < c < b$
 D) $c < b < a < d$

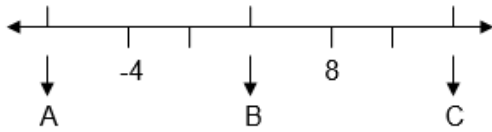
9) $-65 < N < 18$ ise aşağıdakilerden hangisi N sayısı yerine yazılamaz?

- A) -66 B) -59 C) 15 D) 0

10) Rakamları farklı iki basamaklı en büyük doğal sayı ile en büyük negatif tam sayının sıfıra olan uzaklıkları toplamı aşağıdakilerden hangisidir?

- A) 100 B) 99 C) 98 D) 97

11)



Yukarıda eşit aralıkla çizilmiş bir sayı doğrusu verilmiştir.

Bu sayı doğrultusuna göre aşağıdakilerden hangisi A, B ve C harflerine karşılık gelen tamsayılardan biri olamaz?

- A) -7 B) 2 C) 5 D) 14

12) -11 ile 35 arasında kaç tane çift tam sayı vardır?

- A) 21 B) 22 C) 23 D) 24

13) Yerden (20br) derinlikte bulunan bir su kuyusuna düşen kurbağa, kuyudan çıkmak için her zıplamasında (3br) yukarı tutunup (1br) aşağı kaymaktadır. Buna göre kurbağanın 7'nci zıplamasının sonunda konumu aşağıdakilerden hangisi olur?

- A) +6 B) +4 C) -4 D) -6

14) x 'in mutlak değeri 5'ten küçük ise x 'in alabileceği tam sayıların kümesi aşağıdakilerden hangisidir?

- A) $\{0, 1, 2, 3, 4\}$
 B) $\{-5, -4, -3, -2, -1, 1, 2, 3, 4, 5\}$
 C) $\{-4, -3, -2, -1, 0, +1, +2, +3, +4\}$
 D) $\{0, 1, 2, 3, 4\}$

15)

- I. Sıfırın işareti yoktur.
 II. Mutlak değer, birer sayının sıfıra olan uzaklığıdır.
 III. En küçük iki basamaklı tam sayı (-10)'dur.
 IV. En büyük negatif tam sayı (-1)'dir.
 V. Negatif tam sayıların mutlak değerleri kendinden küçüktür.
 Yukarıda verilen ifadelerden hangileri doğrudur?

- A) I-II-V B) I-II-IV
 C) II-IV-V D) II-III-IV

16) $-7 < | -6 | < -3 < -5 < | -8 |$

Sıralamasında hangi sayıların yerleri değiştirilirse sıralama doğru olur?

- A) $| -6 |$ ile -5 B) $| -8 |$ ile -7
 C) $| -6 |$ ile $| -8 |$ D) -3 ile -5

17) $6, 4, 3, 1, 0, -1, -3, -4, -5$

Yukarıdaki sayılardan en az kaç tanesi çıkarılırsa kalan sayılar pozitif tam sayı olur?

- A) 2 B) 3 C) 4 D) 5

18) Aşağıdaki eşitliklerden hangisi yanlıştır?

- A) $| +5 | = +5$
 B) $| -8 | = -8$
 C) $| 0 | = 0$
 D) $| 10 | = +10$

19) $| -6 |$, $+5$, -4 sayılarının küçükten büyüğe doğru sıralanışı aşağıdakilerden hangisidir?

- A) $| -6 | < -4 < +5$
 B) $-4 < | -6 | < +5$
 C) $-4 < +5 < | -6 |$
 D) $| -6 | < +5 < -4$

20) $| m | < 40$

Olduğuna göre m yerine yazılabilecek tam sayılar kaç tanedir?

- A) 39 B) 40 C) 79 D) 80

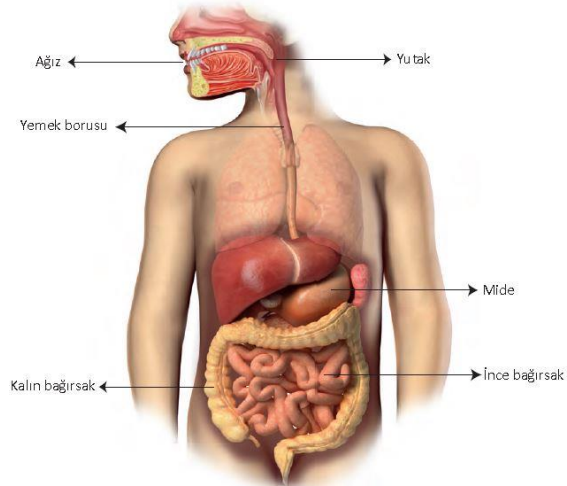
Sindirim Nedir?

Yaşamımızı devam ettirebilmek için enerjiye ihtiyacımız vardır ve bu enerjiyi yediğimiz besinlerden karşılarız. Vücuda alınan büyük molekülü besin içeriklerinin hücrelerimiz tarafından kullanılabilir kadar küçük parçalara ayrılmasına **sindirim** denir. Sindirim, mekanik ve kimyasal olmak üzere iki yolla gerçekleşir.

Fiziksel (Mekanik) sindirim; çiğneme ve kas hareketleriyle besinlerin küçük parçalara ayrılması olayıdır.

Kimyasal sindirim; parçalanmış besin maddelerinin enzimler yardımı ile yapı taşlarına kadar parçalanmasıdır.

Sindirim Sistemi Yapı ve Organları



Ağızda çiğnenen besinler **yutak** yardımı ile yemek borusuna iletilir. **Yemek borusu** yapısında bulunan kaslar ile besinler mideye ulaştırılır. **Mide** bir yandan kasılıp gevşeyerek mekanik sindirim yaparken bir yandan da mide asidi ve mide enzimlerinin yardımı ile besinlerdeki proteinlerin kimyasal sindirimini gerçekleştirir.

İyice küçük parçalara ayrılmış besinler mideden ince bağırsağa geçer. **İnce bağırsakta**, karbonhidrat ve proteinlerin sindirilmemiş kısımları **pankreas**tan gelen salgılarda bulunan enzimler yardımıyla sindirilir. Yağlar ise **karaciğerden** salgılanıp **safra kesesinde** depolanan safranın ince bağırsağa verilmesi ile fiziksel sindirime uğrar ve daha sonra pankreasın gelen enzimler ile kimyasal olarak sindirilir. Sindirilen bu besinler ince bağırsak duvarında bulunan **villüsler** tarafından emilir ve kana karışır.

Besin İçerikleri	Sindirildiği Yer
Karbonhidratlar	Ağız, ince bağırsak
Proteinler	Mide, ince bağırsak
Yağlar	İnce bağırsak

Besinlerin sindirilmeyen kısımları **kalın bağırsağa** ulaşır. Kalın bağırsakta ise posada kalan mineraller emilir ve su emilimi tamamlanır. Besin maddelerinin vücudumuz tarafından kullanılmayan kısımları da vücuttan atılmak üzere **anüse** yollanır.

Besinlerin sindirim sisteminde izlediği yol;

Ağız → Yutak → Yemek Borusu → Mide → İnce Bağırsak → Kalın Bağırsak → Anüs

şeklinde dir.

Sindirim Sisteminin Sağlığı

Sindirim sisteminin sağlığı için yapılması gerekenler aşağıda sıralanmıştır.

- Ağız ve diş sağlığına özen gösterilmeli, dişler düzenli olarak günde en az 2 defa fırçalanmalı ve 6 ayda bir kontrol ettirilmelidir.
- Besinleri aşırı sıcak veya soğuk, aşırı tuzlu veya baharatlı olarak tüketmekten kaçınmalı ve besinler iyice çiğnendikten sonra yutulmalıdır.
- Yemekler yavaş yenmelidir.
- Tükettiğimiz besinlerin temizliğine dikkat edilmeli, meyve ve sebzeler yıkanmadan tüketilmemelidir.
- Karbonhidrat, protein, yağ, vitamin, su ve mineralleri vücudun ihtiyaç duyduğu kadar alarak dengeli beslenmelidir.
- Alkol ve sigara tüketiminin vücutta kanser riskini arttırdığı bilinmektedir. Alkol mide ve ince bağırsağın iç duvarını tahriş ederek ülser, gastrit ve bağırsak iltihabına sebep olabilir. Ayrıca alkol, karaciğere de zarar vererek siroza neden olabilir. Bu nedenle alkol ve sigara tüketimine dikkat edilmelidir.
- Stresten uzak durulmalıdır.
- Günde en az iki litre su içilmelidir.

- 1) I. Düz kas
II. Çizgili kas
III. Kalp kası

Aysel uyurken çalışan organlarını baz alarak uyku sırasında çalışan kaslarını saymıştır. Aysel yukarıda verilen kaslardan hangisi veya hangileri saymıştır?

- A) Yalnız I B) I ve III
C) II ve III D) I, II ve III

2) Aşağıda verilenlerden hangisi destek ve hareket sisteminin görevlerinden biri değildir?

- A) Kemikler ve kaslar ile birlikte hareketi sağlar.
B) Vücuda şekil verir, destek sağlar.
C) Besin ve oksijenin vücuda dağılmasını sağlar.
D) Kalp ve Akciğer gibi önemli organları korur.

3) Sindirim Sistemi ile ilgili verilen bilgilerden hangisi yanlıştır?

- A) Karaciğer ve Pankreas sindirime yardımcı organlardır.
B) Vitaminler ve mineraller ince bağırsakta kana geçer.
C) Ağızda kimyasal sindirim gerçekleşir.
D) Dengeli ve düzenli beslenerek sindirim sisteminin sağlığını koruyabiliriz.

4) Kanın pıhtılaşmasını sağlayan yapı aşağıdakilerden hangisidir?

- A) Alyuvar B) Akyuvar
C) Böbrek D) Kan pulcukları

5) Safra sıvısı salgılayan organ hangisidir?

- A) Kalın bağırsak B) Mide
C) İnce Bağırsak D) Karaciğer

**6) I. Karbonhidratların kimyasal sindiriminin başladığı yer
II. Besinlerin kimyasal sindiriminin tamamlandığı yer
III. Proteinlerin kimyasal sindiriminin başladığı yer**

Olayların gerçekleştiği organlar hangisinde verilmiştir?

- A) I. Ağız II. Mide III. Mide
B) I. Mide II. İnce Bağırsak III. Ağız
C) I. Ağız II. İnce Bağırsak III. Mide
D) I. Mide II. İnce Bağırsak III. Mide

7) Pankreas ve
Sindirime yardımcı organlardır
Safra sıvısımekanik
sindirimi yaparken
Pankreas öz suyu
sindirimine yardımcı olur.

Boşlukları doğru kavramlarla
doldurunuz.

- A) Karaciğer-protein-kimyasal
- B) Ağız-yağ-mekanik
- C) Karaciğer-yağ-kimyasal
- D) Mide-protein-kimyasal

8) Aşağıdakilerden hangisi oksijence
zengin kan bulunur?

- A) Akciğer atardamarı
- B) Aort atar damarı
- C) Böbrek toplar damarı
- D) Üst ana toplar damar

9) Aşağıdaki organların hangisinin
çalışmasında kaslar etkili olmaz?

- A) Beyin
- B) Mide
- C) Kalp
- D) Bağırsak

10) Aşağıdaki besin içeriklerinden
hangisi sindirime uğramadan kana
geçebilir?

- A) Proteinler
- B) Vitaminler
- C) Yağlar
- D) Karbonhidratlar

11) Güneş tutulması ile ay tutulmasının
ortak noktası aşağıdakilerden
hangisinde verilmiştir?

- A) Dünya üzerinde dar bir alanda
gözlenir.
- B) Dünya, Güneş ve Ay aynı
doğrultuya geldiklerinde gerçekleşir.
- C) Uzun süre gözlenir ve çıplak gözle
izlenebilir.
- D) Dünya Ay'ın gölgesinde kalır.

12) Aşağıda örnekleri verilen kaslar
hangi şıkta doğru bir şekilde verilmiştir?

Kalp Kasları- Kol Kasları- Mide Kasları

- A) Düz Kas Çizgili Kas Kalp Kası
- B) Kalp Kası Düz Kas Çizgili Kas
- C) Çizgili Kas Düz Kas Kalp Kası
- D) Kalp Kası Çizgili Kas Düz kas

13) Aşağıdakilerden hangisi büyük kan
dolaşımının amaçlarından birisi
değildir?

- A) Kanın akciğerlerde temizlenmesini
sağlamak
- B) Vücuda oksijen dağıtmak
- C) Vücuda besin dağıtmak
- D) Kirli kanın kalbe geri dönmesini
sağlamak.

14) İnsanlardaki dolaşım sistemi ile ilgili aşağıdaki bilgilerden hangisi yanlıştır?

A) Akciğer atardamarı oksijen bakımından fakir kanı taşır.

B) Kalbin sol tarafında oksijen bakımından fakir kan, sağ tarafında oksijen bakımından zengin kan bulunur.

C) Küçük kan dolaşımı kalp ile akciğer arasında gerçekleşir.

D) Kandaki oksijen ve karbondioksitin taşınmasını sağlayan kan hücreleri alyuvarlardır.

15) Kalbin art arda kasılmaları sonucu oluşan özellikle bilekteki atar damarlarda hissedilen kanın düzenli, ritmik hareketine ne denir?

- A) Tansiyon B) Kan pulcukları
C) Nabız D) Kalp

16)

1. Kalp	2. Akciğer	3. Mide
4. İnce bağırsak	5. Damarlar	6. Göğüs Kafesi
7. Yutak	8. Kıkırdak	9. Kan

Yukarıdaki tabloda verilen yapı ve organlarından hangileri sindirim sisteminde yer alır?

- A) 1-6-9 B) 3-5-8
C) 2-5-7 D) 3-4-7

17) Öğretmeni tarafından sorulan güneş sisteminde doğal uydusu bulunan gezegenler nelerdir sorusuna Ahmet' in verdiği cevap;

- Merkür
- Venüs
- Dünya
- Mars
- Jüpiter

şeklinde dir.

Buna göre Ahmet' in verdiği cevap hakkında aşağıdakilerden hangisi söylenebilir.

A) Verdiği bütün cevaplar doğrudur.

B) Cevapları arasından Merkür 'ü çıkarmalıdır.

C) Verdiği bütün cevaplar yanlıştır.

D) Cevapları arasından Merkür ve Venüs gezegenlerini çıkarmalı Satürn, Uranüs ve Neptün gezegenlerini cevabına eklemelidir.

18) Dünyanın atmosferine giren meteorlar sürtünme sonucu yanarak çevrelerine ışık yayarlar



Yukarıdaki görselde verilen olay halk arasında hangi isimle ifade edilir?

- A) Güneş tutulması
B) Ay tutulması
C) Yıldız kayması
D) Yıldız yağmuru

19) Mars ve Jupiter arasında Güneş sisteminin oluşumunda ortaya çıkan taş ve metal parçaları asteroit kuşağını oluşturur.

Asteroit kuşağında bulunan asteroitler ile ilgili aşağıdakilerden hangisi veya hangileri söylenebilir?

1. Asteroitler gezegenlerden daha büyük yapıllı gök cisimleridir.
2. Asteroitler düzgün şekillere sahiptirler.
3. Yüzeylerinde kraterler bulunur.

- A) 1 ve 2
B) Yalnız 3
C) 1, 2 ve 3
D) 2 ve 3

20) Güneş ve Ay tutulmalarını gözlemleyen bir bilim insanı bu tutulmalar hakkında aşağıdaki yorumları yapmaktadır.

1. Güneş ve Ay tutulmaları her ay gerçekleşir.
2. Güneş tutulmaları Dünya üzerinden her noktada gözlemlenir.
3. Güneş tutulması sadece Dünya üzerinden gece saatlerinde gözlemlenir.

Yukarıda verilen yorumlardan hangisi veya hangileri yanlıştır?

- A) Yalnız 1
B) Yalnız 2
C) 1, 2 ve 3
D) 1 ve 3

Orta Asya'da İslam'dan önce ve İslam'dan sonra birçok devlet yaşamıştır.

1) Aşağıdakilerden hangisi İslam'dan önce Orta Asya'da kurulan devletlerden biri değildir?

- A) Karahanlılar B) Göktürkler
C) Hunlar D) Uygurlar

2) Aşağıdakilerden hangisi Orta Asya'nın özelliklerinden biri değildir?

- A) Konargöçer bir hayat tarzıyla ve hayvancılık ile yapılmıştır.
B) Çadır, kilim ve demir bu kültürün önemli unsurlarındandır.
C) Çok Tanrı inancı vardır ve ölümden sonra hayata inanılırdı.
D) Kamış ve çamurdan evler yapılmıştır

İslam'dan önce ilk Türk devletlerinde devlet işlerinin görüşülüp karara bağlandığı meclise.....denir.

3) Yukarıdaki boşluğa aşağıdaki hangi kavram gelmelidir?

- A) divan B) toy
C) kurultay D) töre

Hükümdara devleti yönetme yetkisinin Tanrı tarafından verildiği inancına.....denir.

4) Yukarıdaki boşluğa aşağıdaki hangi kavram gelmelidir?

- A) göktanrı B) kut
C) balbal D) yuğ

5) Aşağıdakilerden hangisi Orta Asya'dan göçün nedenlerinden biri değildir?

- A) Nüfusun artması ve otlakların azalması
B) İklimin ılık ve kışın hafif geçmesi
C) Salgın hastalıklar
D) Komşu devletlerin saldırıları ve kendi aralarındaki mücadeleler

--- Tarihte bilinen ilk Türk devletidir.

--- Devlet en parlak dönemini Metehan döneminde yaşamıştır.

--- Mete günümüz ordusunda kullanılan onlu sistemi (10'lu Sistem) kurdu.

--- Oğuz Kağan destanındaki Oğuz'un Metehan olduğu sanılmaktadır.

6) Yukarıdaki açıklamalar aşağıdaki hangi devletle ilgilidir?

- A) Asya Hun Devleti
B) Göktürk Devleti
C) Uygur Devleti
D) Karahanlı Devleti

--- Tarihte Türk adıyla kurulan ilk Türk devletidir.

--- Hükümdar Bilge Kağan, kardeşi Kül Tigin ve vezir Tonyukuk adına Orhun Yazıtı (kitabe)'ları dikildi.

--- Orhun Yazıtları Türk tarihinin ve edebiyatının ilk yazılı belgeleridir

--- Ergenekon Destanı bu devlete aittir.

7) Yukarıdaki açıklamalar aşağıdaki hangi devletle ilgilidir?

- A) Asya Hun Devleti
- B) Uygur Devleti
- C) Göktürk Devleti
- D) Karahanlı Devleti

-- Türk tarihinde yerleşik hayata geçen ilk uygarlıktır.

--- Kâğıt ve matbaayı kullanan ilk uygarlıktır.

--- Manihaizm dinini benimsemeleri Türklük ve savaşçılık özelliklerinin yok olmasına neden olmuştur.

--- Türeyiş ve Göç Destanı Uygurlara aittir.

8) Yukarıdaki açıklamalar aşağıdaki hangi devletle ilgilidir?

- A) Göktürk Devleti
- B) Uygur Devleti
- C) Asya Hun Devleti
- D) Karahanlı Devleti

9) Aşağıdakilerden hangisi Peygamberimiz Hz. Muhammed (S.A.V) döneminde yaşanan bir olay değildir?

- A) Uhut Savaşı
- B) Bedir Savaşı
- C) Hendek Savaşı
- D) Sıffin Savaşı

10) Orta Asya Türk Devletleri ile ilgili aşağıdakilerden hangisi yanlıştır?

- A) Orta Asta Türkleri ölümler için "Yuğ" adı verilen dini törenler yaparlardı.
- B) Kağan'ın eşine "Hatun" adı verilirdi.
- C) Dünya tarihinde ilk düzenli ordusu Balamir Han kurmuştur.
- D) Orta Asya'da devletin başında "Kağan" bulunurdu.

Mekke'den Medine'ye göç edenlere.....;

Medine'de göç edenleri karşılayan Müslümanlara.....denir.

11) Yukarıdaki boşluklara sırayla hangi kavramlar gelmelidir?

- A) muhacir - ensar
- B) ensar - muhacir
- C) hicret - ensar
- D) muhacir - hicret

12) Aşağıdakilerden hangisi, Orta Asya'dan gerçekleşen göçlerin nedenleri arasında yer almaz?

- A) Çin'in baskısı,
- B) Kuraklık ve hayvan hastalıkları,
- C) Taht kavgalar
- D) Uygarlıkta ileri olan Avrupa'ya yerleşme

* Kuranı Kerim kitap halineDöneminde getirildi.
*Kuranı Kerim çoğaltılarak diğer şehirlere.....döneminde gönderilmiştir.

13) Yukarıdaki boşluklara sırasıyla aşağıdaki hangi halifeler gelmelidir?

- A) Hz. Osman- Hz. Ebubekir
- B) Hz. Ebubekir- Hz. Ali
- C) Hz. Ebubekir- Hz. Osman
- D) Hz. Osman- Hz. Ali

*Halifeliği saltanat (babadan oğulageçiş) haline getirdiler.
*Arap olmayanlara kötü davrandılar,
*İslamiyet'i baskı (kılıçla) yoluyla kabul ettirmeye çalışarak Arap Milliyetçiliği yaptılar.

14) Yukarıdaki açıklamalar aşağıdakilerden hangisi ile ilgilidir?

- A) Abbasi Devleti
- B) Emevi Devleti
- C) Hz. Muhammed Dönemi
- D) Dört Halife Dönemi

*Başta Türkler olmak üzere tüm Müslümanlara eşit davrandılar.
Türlere iyi davranmaları Türklerin İslamiyet'e girmesini kolaylaştırdı.

--- Türkler devlet yönetiminde görev aldılar. Türk askeri ve aileleri için Samarra şehrini kurdular.

15) Yukarıdaki açıklamalar aşağıdakilerden hangisi ile ilgilidir?

- A) Abbasi Devleti
- B) Emevi Devleti
- C) Dört Halife Dönemi
- D) Hz. Muhammed Dönemi

16) Türkler ve Abbasiler birlikte Çin'e karşı 751 yılında Çin'i yendiler. Bu savaş ile Türkler gruplar halinde Müslüman olmaya başladılar.

Yukarıda açıklaması verilen savaş aşağıdakilerden hangisidir?

- A) Cemel Savaşı B) Bedir Savaşı
C) Talas Savaşı D) Hendek Savaşı

1-Emeviler Dönemi

2- Dört Halife Dönemi

3- Hz. Muhammed Dönemi

4-Abbasiler Dönemi

17) Yukarıda verilen İslam tarihi döneminin kronolojik olarak sıralaması aşağıdakilerden hangisidir?

- A)4-1-2-3 B) 2-3-4-1
C)1-4-3-2 D) 3-2-1-4

--- İlk Müslüman Türk devletidir.

--- Satuk Buğra Han'ın İslamiyet'i kabulü ile Müslüman Türk devleti haline geldiler.

--- Türkçeyi resmi dil olarak kabul etmişlerdir.

--- İpek Yolu üzerinde tüccarları konaklaması için yaptıkları kervansaraylar ticaretin gelişmesini sağlamıştır.

18) Yukarıdaki açıklamalar aşağıdaki hangi devletle ilgilidir?

- A) Gazneli Devleti
B) Karahanlı Devleti
C) Büyük Selçuklu Devleti
D) Anadolu Selçuklu Devleti

--- En parlak dönemi Sultan Mahmut dönemidir.

--- Sultan Mahmut Hindistan'a 17 sefer düzenleyerek İslam'ı yaymış ve Hindistan'ın zenginliğini ülkesine getirmiştir.

--- Hükümdar Mahmut Sultan unvanını kullanan ilk hükümdardır.

--- 1040 yılında Selçuklular ile yapılan Dandanakan Savaşı ile dağılmaya başlamıştır.

19) Yukarıdaki açıklamalar aşağıdaki hangi devletle ilgilidir?

- A) Gazneli Devleti
B) Anadolu Selçuklu Devleti
C) Büyük Selçuklu Devleti
D) Karahanlı Devleti

20) Aşağıdakilerden hangisi Hz Muhammed (S.A.V) döneminde yaşanmış bir olaydır?

- A) Talas Savaşı
B) Cemel Savaşı
C) Hendek Savaşı
D) Dandanakan Savaşı

1) Namaz ibadeti ile ilgili olarak aşağıda verilen bilgilerden hangisi/hangileri yanlıştır?

I-İmanın şartlarından biridir.

II-Allah'a karşı kulluk görevimizdir.

III-İnsanları kötülüklerden alıkoyar.

IV- İslam'ın esasları arasında yer alır.

V-Farz olan bir ibadettir.

VI-Kur'an'da ' salat' kelimesiyle ifade edilmiştir.

VII-Günlük sabah, öğle ve akşam olmak üzere üç vakit yerine getirilir.

A) I-III-VII

B) III-IV-VI

C) VI ve VII

D) I ve VII

2) İslam dininde sorumluluk çağına gelmiş Müslümanlardan yapılması kesin olarak istenen, terk edilmesi günah olan ibadet, iş ve davranışlara denir.

Yukarıda tanımı verilen kavram aşağıdakilerden hangisidir?

A)Vacip B)Farz

C)Sünnet D)Farz

3) Namazda, vücudun örtülmesi gereken yerlerin örtülmesi demektir. Namaz kılariken kadınların el, ayak ve yüz dışında tüm vücudu; erkeklerin ise en az göbekleri ve diz kapaklarının altına kadar olan yerleri örtmeleri gerekmektedir.

Yukarıdaki metinde namazın dışındaki farzlardan biri hakkında bilgi verilmiştir. Hakkında bilgi verilen bu kavram aşağıdakilerden hangisidir?

A)Hadesten taharet

B)Necasetten taharet

C)Ka'de-i ahire

D)Setr-i avret

4)I- İlk insandır.

II-Melekler onun önünde saygıyla eğilmiştir

III- Bir süre cennette yaşamıştır.

IV- Topraktan yaratılmıştır.

Hz. Adem (as) ile ilgili olarak yukarıda verilen bilgilerden hangileri doğrudur?

A) I-II-III-IV

B) I-III-IV

C) I ve III

D) I ve IV

5) Aşağıda verilen kutsal kitap ve gönderildiği peygamber hangisinde yanlış eşleştirilmiştir?

- A) Tevrat- Hz. Musa
- B) Kuran-ı Kerim- Hz. Muhammed
- C) Zebur- Hz. İbrahim
- D) İncil- Hz. İsa

6) Yüce Allah insanlık tarihinin başlangıcından günümüze kadar olan zaman dilimi içerisinde pek çok peygamber göndermiştir. Kuran-ı Kerim’de peygamberlerden bazılarının adı belirtilmekte, bir kısım peygamberin ise hayat hikâyeleri ve tevhit mücadeleleri hakkında bilgiler verilmektedir. Kur’an ‘da adı geçen peygamberlerin sayısı yirmi beştir.

Buna göre aşağıdakilerden hangisi Kur’an-ı Kerim’de adı geçen peygamberlerden biri değildir?

- A) Hz. Şit
- B) Hz. Şuayp
- C) Hz. Hud
- D) Hz. Lut

7) “Kıyamet gününde kulun hesaba çekileceği ilk amelidir. Eğer bu ameli düzgün olursa diğer hesapları iyi gider ve kazançlı çıkar, düzgün olmazsa kaybeder ve zararlı çıkar.” (Hadis-i Şerif)

Yukarıda verilen hadiste bahsedilen amel/davranış aşağıdakilerden hangisidir?

- A) Hac ibadet,
- B) Namaz ibadeti
- C) Oruç ibadeti
- D) Sadaka ibadeti

8) İki güzel dua örneğidir. Bu dualar “Allahümme inni nesta’inüke” ve “Allahümme iyyake na’büdu” ifadeleriyle başlar. Vitir namazının son rekatında bu dualar okunur. Bunun dışında istediğimiz zaman dua etmek, Allah’tan yardım dilemek ve O’na sığınmak amacıyla da okuyabiliriz. Bu dualardan birinin Türkçe anlamı şu şekildedir: “Allah’ım! Senden yardım isteriz, günahlarımızı bağışlamamı dileriz, senden bize yardım etmeni isteriz. Sana güvenirim, bize verdiğin nimetleri bilerek Seni hayır ile överiz, Sana şükreder, asla nankörlük etmeyiz. Nimetlerini inkâr eden ve Sana karşı geleni bırakırız.”

Yukarıdaki metinde hakkında bilgi verilen dua aşağıdakilerden hangisidir?

- A) Salli-Barik duaları
- B) Subhaneke duası
- C) Kunut duaları
- D) Tahiyat duası

9) " Sana vahyedilen kitabı oku ve namazı kıl. Muhakkak ki namaz hayasızlıktan ve kötülükten alıkoyar. Allah'ı anmak elbette (ibadetlerin) büyüğüdür. Allah yaptıklarınızı bilir." (Ankebut suresi,45. Ayet)

Yukarıda verilen ayette namazın hangi yönüne vurgu yapılmaktadır?

- A) İnsanın kendini değerli hissetmesini sağlar.
- B) İnsanın kötü davranışlardan uzak kalmasını sağlar.
- C)İnsanı dünyanın sıkıntılarından bir süreliğine de olsa uzak tutar.
- D)İnsana güç, güven, iç huzuru gibi güzel duygular kazandırır.

10) Hz Muhammed(sav) bir gün ashabına sordu: "Ne dersiniz? Birinizin kapısının önünde bir nehir olsa ve o kimse bu nehirde her gün beş kez yıkansa onda kirden eser kalır mı?"

Ashab-ı Kiram: " Hayır, kalmaz ya Resulallah!" dedi. Bu cevap üzerine Allah Resulü (s.a.v) şöyle buyurdu: "İşte beş vakit namaz da böyledir. Allah beş vakit namazla günahları silip yok eder. 'buyurdu.

Yukarıda verilen hadiste namazla ilgili vurgulanan yön aşağıdakilerden hangisidir?

- A) Namazın belli vakitlerde kılınması insana zamanı planlama ve iyi değerlendirme alışkanlığı kazandırır.
- B) Günün belirli vakitlerinde namaz kılmak insana Allah'ın huzurunda olduğu, Allah'ın her an kendisini görüp gözettiği bilinci oluşturur.
- C)Günün belirli vakitlerinde namaz kılınması kişinin maddi ve manevi olarak arınmasını sağlar.
- D)Namazın belirli vakitlerde topluca kılınması, insanlarla tanışıp kaynaşmasına, iyi ilişkiler kurmasına katkı sağlar.

11) Farz ve vacip namazların dışında Peygamberimizin sünnetinde kılınması tavsiye edilen namazlara nafile namazlar denir. Nafile namazlar, Allah'ın rızasına erişmek, daha çok sevap kazanmak amacıyla kılınan namazlardır. Buna göre;

I-Yatsı namazı

II-Teheccüt namazı

III-Cenaze namazı

IV-Hacet namazı

V-Cuma namazı

VI-Duha namazı

VII-Şükür namazı

Yukarıda verilen namaz çeşitlerinden hangisi ya da hangileri nafile namazlar arasında yer almaz?

A)I-III-V

B)I-V-VI

C)V-VI-VII

D)II-V-VI

12) Peygamberler insanlara örnek olmaları için Allah tarafından gönderilmiştir. Doğru ve güzel olanı insanlara anlatmışlar, bu uğurda yaşamları boyunca türlü zorlukla karşılaşmışa asla yılgınlık göstermemişlerdir. Allah'ın kendilerine vermiş olduğu dine davet görevini en iyi biçimde yerine getirmeye çalışmışlardır.

Aşağıdakilerden hangisi bu metinden hareketle ulaşılabilecek sonuçlardan biri olamaz?

A) Peygamberler insanlar için güzel birer örnektir.

B) İnsanları dine davet ettiklerinde insanlar onlara hemen inanmış, sıkıntı yaşamamışlardır.

C)İnsanları güzel davranışlar sergilemeye davet etmişlerdir.

D)Peygamberler Allah'ın elçileridir, Allah tarafından vazifelenirilmişlerdir.

13) Sözlükte; gizli konuşma, fısıldama, ilham etme, ortaya çıkarma anlamlarına gelir. İslami bir kavram olarak ise; Peygamberler aracılığıyla insanlara hayatın hangi ilkelere göre yönlendirilmesi ve nelere uyulup nelerden sakınılması gerektiğini bildiren ilahi bilgi ve bu bilginin gönderiliş tarzı demektir.

Yukarıdaki metin aşağıdaki sorulardan hangisine karşılık söylenmiş olabilir?

- A) İlahi kitap ne demektir?
- B) Vahiy ne demektir?
- C)Mucize ne demektir?
- D)Nebi ve resul ne demektir?

14)Yüce kitabımız Kur'an-ı Kerim geçmişte yaşamış bazı peygamberlerin yapmış oldukları dualardan örnekler verir. Buna göre aşağıda verilen dua örneklerinden hangisi Hz. İbrahim'e ait olan bir duadır.

- A) Ey Rabbim! Beni ve soyumdan gelen insanları, namazı dosdoğru kılanlardan eyle. Dualarımızı kabul buyur.
- B) Rabbimiz! Biz kendimize zulmettik. Eğer bizi bağışlamaz ve bize acımazsan mutlaka ziyan edenlerden oluruz.
- C)Rabbim! Gönlüme ferahlık ver. İşimi bana kolaylaştır. Dilimdeki bağı çöz ki sözümü anlasınlar.
- D)Ey Rabbim! Beni Müslüman olarak vefat ettir ve beni salihler arasına kat.

15) Dinimizde namaz çok önemli bir ibadet kabul edilir. Herhangi bir sebeple beş vakit namazdan birini zamanında kılamayan bir Müslümanın, kılamadığı namazı daha sonra kılaması gerekir. Peygamberimiz (s.a.v): "Kim uyuyakalır ya da unuttuğu için namazı vaktinde kılmamış olursa hatırladığı anda namazını kılsın." buyurmuştur.

Yukarıdaki metinde hangi namaz hakkında bilgi verilmiştir?

- A) Sabah namazı
- B) Yolculuk namazı
- C)Tövbe namazı
- D)Kaza namazı

16)Sabahleyin güneş doğduktan sonra kılınan nafie namaz aşağıdakilerden hangisidir?

- A) Tahiyetül mescit namazı
- B) Şükür namazı
- C)Duha namazı
- D)Teravih namazı

17) Aşağıda Peygamber inancı ile ilgili verilen bilgilerden hangisi yanlış bir bilgi içermektedir?

- A) Bütün peygamberler insanları Allah'a kulluk etmeye çağırmışlardır.
- B) Bütün peygamberlere aralarında ayırım yapmaksızın inanmalıyız.
- C) Bütün peygamberler doğru sözlü, güvenilir, zeki kimseler olup örnek bir ahlaka sahiptirler.
- D) Bütün peygamberlere vahiyyle birlikte ilahi bir kitap da verilmiştir.

18) Bir namazın sahih yani geçerli olması için belirlenmiş olan bazı şartlar vardır. Bunlar "namazın şartları" ya da 'namazın farzları' olarak adlandırılmaktadır. Namazın farzları; dışındaki farzlar ve içindeki farzlar olmak üzere ikiye ayrılır. Bu farzlar, altısı içinde, altısı dışında olmak üzere on iki tanedir.

Buna göre aşağıda verilen şartlardan/farzlardan hangisi namazın dışındaki şartlardan biridir?

- A) Niyet etmek
- B) İftitah tekbiri
- C) Secde etmek
- D) Kıraat yapmak

19) Bütün peygamberlerin sahip oldukları bazı ortak özellikleri bulunur. "Sıdk" sıfatı bu özelliklerden biridir.

Aşağıda verilen öncüllerden hangisi Peygamberlerin 'sıdk' sıfatıyla ilgili bilgi içermektedir?

- A) Akıllı ve zeki olmak demektir. Peygamberler keskin bir zekâyâ, üstün bir akla ve güçlü bir mantığa sahiptirler.
- B) Doğru olmak demektir. Peygamberler doğru sözlü ve dürüst kimselerdir.
- C) İlahi mesajları insanlara çekinmeden ekleme ve çıkarma yapmadan olduğu gibi iletmek demektir.
- D) Günahtan uzak durmak demektir. Peygamberler her türlü günah işlemekten kaçınmışlardır.

20) Yüce dinimiz İslam temizliği bazı ibadetlerin ön şartı saymıştır. Namaz kılabilmek için temiz olmak gerekir. Bunun için dinimiz namaz kılacak kişinin abdestli olmasını şart koşmuştur. Abdestin dört tane farzı bulunur. Buna göre aşağıdakilerden hangisi abdestin farzlarından biri değildir?

- A) Elleri dirsekler dâhil yıkamak
- B) Başın dörtte birini mesh etmek
- C) Kulakları temizlemek
- D) Yüzü yıkamak

1) 01.08.1987

- A) One August, one nine eight seven
 B) The first of August, nineteen eighty seven
 C) The first of eight, one thousand eighty seven.
 D) One of August, nineteen eighty seven.

Read the text below and answer the questions 2. - 3.

I'm Jack. I'm eleven. I go to 30 Ağustos Primary School. My school is close to my house. I walk to school in the morning, but my father takes me home after school. My mother prepares healthy food and drink fruit juice. I love them.

2) Which of the following IS NOT true according to the text?

Peter - - - -.

- A) is a teacher
 B) loves healthy food
 C) goes to school on foot
 D) arrives home with his father

3) Which of the following is CORRECT?

- A) Peter takes the bus to school.
 B) Peter lives away from his school.
 C) Peter's mother prepares healthy food.
 D) Peter's father makes sandwiches for him.

Read the conversation and answer the question.

Kevin : Hi, Sally. How are you?

Sally : Fine, thanks.

Kevin : - - - -?

Sally : No, I'm sorry. I have English classes today.

Kevin : - - - -?

Sally : It is at eleven a.m.

Kevin : - - - -?

Sally : Two.

Kevin : - - - -?

Sally : Yes, of course.

4) Which of the following question DOES NOT take place in the conversation?

- A) Where do you go after school
 B) Can I have your English books
 C) What time does your English class start
 D) Can I have your books after the English class

5) Miranda : - - - - ?

Beatrice : Of course. Here you are.

Miranda : Thank you very much.

Which of the following completes the conversation above?

- A) Can I have croissant and some tea
 B) Do you know the benefits of tea
 C) What can I have for breakfast
 D) What's your favourite food

6)

Look at the chart and answer the question.

- I. I have lunch at half past twelve.
 II. I get up at seven o'clock.
 III. I do my homework at quarter past five.
 IV. I come back home at quarter past three.

Which of the following is the CORRECT order of the sentences?

- A) II / I / III / IV
 B) III / IV / II / I
 C) II / I / IV / III
 D) IV / II / I / III

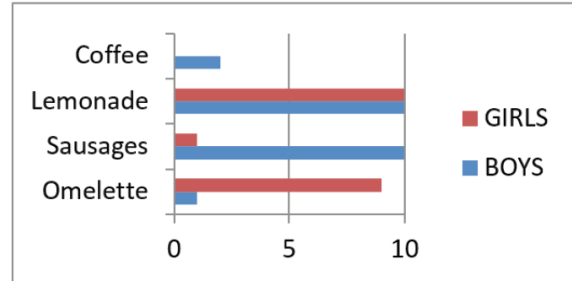
7) Herald : Do you want some coffee?

Shawn : - - - -. I don't like coffee.

Which of the following completes the conversation above?

- A) It's my favourite
 B) Yes, please
 C) No, thanks
 D) Sure

8) Look at the graphic below and answer the question.



Look at the graphic below and answer the question

This is the graphic of 6-A students' favourite food for breakfast.

Which of the following IS **NOT** correct according to the graphic?

- A) Boys sometimes have coffee for breakfast.
 B) Girls like sausages very much.
 C) Boys and girls like lemonade.
 D) Girls like omelette a lot

9) Aşağıdaki kelimelerden hangisi farklıdır?

- A) town
 B) downtown
 C) city
 D) healthy

10) Verilen diyalogda boş bırakılan yere uygun düşen seçeneği işaretleyiniz.

Barbara : Is there cheese? I want to make sandwich.

Kim : Yes, there is on the plate. You can make ten sandwich

- A) some/any
 B) any/some
 C) any/any
 D) a lot of / many

11) Fruits and vegetables are very

.....

- A) crowded
- B) thin
- C) sad
- D) healthy

12) Read and complete the sentence

November is the.....month of year

- A) 1st
- B) 11th
- C) 5th
- D) 9th

13) Ahmet:.....?

İsmet: It is quarter past four.

Which of the following completes the conversation?

- A)Where are you from
- B)What is the date
- C)How do you spend a week
- D) what time is it?

Hello, I'm pelin. I get up at 08:00. I wash my hands and face. I brush my teeth. I have breakfast at 08:30. My lessons start at 09:00. I have six lessons a day. I leave school at 03.00 p.m. After school, I play soccer with my friends. I get home at 04:00 p.m. I have a rest, I watch TV and I go online. I start doing my homework at 07:30 p.m. and I finish my homework at 09:00 p.m. Then, I read a book for half an hour.

14) How many hours a day does she study and read a book

- A) 2 hours
- B) 1,5 hours
- C) 2.5 hours
- D) 3 hours

15) Which of the following question has NO answer in the text?

- A) What time does Pelin get up?
- B) What does she do before breakfast?
- C) What does she do after school?
- D) What time does she go to bed?

16)

Read the dialogue and answer the question.

What do you do in the evenings?

.....



Which of the following does NOT complete the dialogue?

- A) I play computer games with my brother
- B) I get dressed and have breakfast
- C) I have a rest and watch TV
- D) I do my homework and read a book

17) We have a guest for dinner. My sister and I are _____ the table at the moment.

- A) Drawing
- B) setting
- C) doing
- D) having

I



kiosk

II



farm

III



skyscraper

IV



village

18) Which picture-word pair is WRONG?

- A) I B) II C) III D) IV

19) I don't like villages because they are quiet I like big cities because they are crowded. There are many high buildings and farms in big cities.

Which underlined word is ODD?

- A) farms
- B) crowded
- C) quiet
- D) high

20)

- I. make the animals
- II. ride a horse
- III. water the flowers
- IV. have a party

Which pair is WRONG?

- A) I B) II C) III D) IV

CEVAP ANAHTARI

TÜRKÇE

- 1) C
- 2) B
- 3) C
- 4) B
- 5) B
- 6) D
- 7) A
- 8) D
- 9) D
- 10) B
- 11) A
- 12) D
- 13) D
- 14) B
- 15) A
- 16) C
- 17) C
- 18) D
- 19) B
- 20) D

MATEMATİK

- 1) D
- 2) A
- 3) D
- 4) C
- 5) C
- 6) D
- 7) C
- 8) D
- 9) A
- 10) B
- 11) C
- 12) C
- 13) D
- 14) C
- 15) B
- 16) A
- 17) D
- 18) B
- 19) C
- 20) C

FEN BİLİMLERİ

- 1) B
- 2) C
- 3) B
- 4) D
- 5) D
- 6) C
- 7) C
- 8) B
- 9) A
- 10) B
- 11) B
- 12) D
- 13) A
- 14) B
- 15) C
- 16) D
- 17) D
- 18) C
- 19) B
- 20) C

SOSYAL BİLGİLER

- 1) A
- 2) D
- 3) C
- 4) B
- 5) B
- 6) A
- 7) C
- 8) B
- 9) D
- 10) C
- 11) A
- 12) D
- 13) C
- 14) B
- 15) A
- 16) C
- 17) D
- 18) B
- 19) A
- 20) C

DİN KÜLTÜRÜ VE
AHLAK BİLGİSİ

- 1) D
- 2) B
- 3) D
- 4) A
- 5) C
- 6) A
- 7) B
- 8) C
- 9) B
- 10) C
- 11) A
- 12) B
- 13) B
- 14) A
- 15) D
- 16) C
- 17) D
- 18) A
- 19) B
- 20) C

İNGİLİZCE

- 1) B
- 2) A
- 3) C
- 4) A
- 5) A
- 6) C
- 7) C
- 8) B
- 9) D
- 10) B
- 11) D
- 12) B
- 13) D
- 14) A
- 15) D
- 16) B
- 17) B
- 18) D
- 19) A
- 20) A

EMEĞİ GEÇEN ÖĞRETMENLERİMİZ

SIİRT MİLLİ EĞİTİM AR-GE BİRİMİ

MURAT EKİNCİ

Koordinatör Okul Müdürü

KÜBRA SARAN

Bilişim Teknolojileri Öğretmeni

LEYLA ARSLAN
Türkçe Öğretmeni

YONCA TAN
MAHMUT EKİNCİ
ABDULLAH ESMER
GÖZDE ÖZGÜN
Fen Bilimleri Öğretmenleri

İDRİS AKDEMİR
**Din Kültürü ve Ahlak Bilgisi
Öğretmeni**

NİMET BARTIK
MERAL TANRIÖVER
FATMA ORAL
MEHMET FATİH ÇELAPKOLU
MUSTAFA KORKUT
Matematik Öğretmenleri

HÜSEYİN AYDIN
ŞÜKRÜ ÖZER
Sosyal Bilgiler Öğretmenleri

YASEMİN KEZER
İngilizce Öğretmeni