



SIIRT İL MİLLİ EĞİTİM MÜDÜRLÜĞÜ

2020

ORTAOKUL

30 KASIM - 04 ARALIK

6

ÖDEU TAKİP SİSTEMİ

0484 223 10 28

arge56@meb.gov.tr

siirt.meb.gov.tr

@mem_siirt

@siirtmem

- 1)Bu ders kafiye çeşitlerini işleyeceğiz.
- 2)Tarlaları yine nadasa bıraktık.
- 3)Bu yemek için bir saatimi harcadım.
- 4)Bu oyunda süflör kullanmayacağız.

1)Yukarıda altı çizili sözcüklerden hangisi terim değildir?

- A)1 B)2
C)3 D)4

2)Aşağıdaki cümlelerin hangisinde deyim kullanılmamıştır?

- A) Ortalığı ayağa kaldırdı, bağırıp çağırarak.
B) O kadar üzüldü ki saçını başını yoldu.
C)Hastalanınca tüm işleri yarına bıraktı.
D)Tüm kapılar yüzüne kapandı.

" Bu okula başlayalı ashağı yukarı beş yıl oldu. "

3)Yukarıdaki cümlede altı çizili ikilemenin cümleye kattığı anlam aşağıdaki cümlelerin hangisinde vardır?

- A) Yaklaşık olarak on yıldır bu işi yapıyor.
B) Yıllardan beri bana mektup yazmıyor.
C)Bu araba taş çatlasa on milyar eder.
D)İlk günden beridir ondan hoşlanıyorum

4)Aşağıdaki cümlelerin hangisinde deyim yanlış anlamda kullanılmıştır?

- A) O kadar sevindi ki boynunu büktü.
B) Her işin püf noktalarını bilir.
C)Yardımların hepsini elinin tersiyle itti.
D)Konuları ince eleyip sık dokuyarak işledi.

5)Aşağıdaki cümlelerin hangisinde kullanılan atasözü mecaz anlamlıdır?

- A) Bir çöplükte iki horoz ötmez.
B) Keskin sirke küpüne zarar.
C)Mum dibine ışık vermez.
D)Mart kapıdan baktırır, kazma kürek yaktırır.

Yutmadan evvel çiğnemek ne ise, konuşmadan evvel düşünüp taşınmak da odur. "

6)Sözü ile asıl anlatılmak istenen nedir?

- A) İnsanın bin düşünüp bir söylemesi
B) İnsanın lokmasını iyi çiğnemesi
C) İnsanın sözünü açık ve etkili söylemesi
D) İnsanın tatlı bir dil kullanması

“ Gerçek dost, düşebileceği yerde dostunu kollayandır; her işinde ona baş sallayan değil. “

7)Aşağıdakilerden hangisi anlamca bu cümleyle aynı doğrultudadır?

- A) Dost her zaman arkadaşının yanında olandır.
- B) Dost, dostunu her zaman kollayandır.
- C)Gerçek dost her şeye evet diyendir.
- D)Dost, hata yapmayı engelleyendir.

“ En verimli okuma devri on beşle yirmi yaş arasında olan devirdir; çünkü o zaman okunan şeyler sadece bir zihinsel gereksinimi tatmin etmez; bütün kişiliği besler. “

8)Yukarıdaki cümleden çıkarılamayacak yargı aşağıdakilerden hangisidir?

- A) Belli bir devrede okunan şeyler düşünsel ihtiyacı da tatmin eder.
- B) On beşle yirmi yaş arasında okunanlar daha etkili olur.
- C)Belli bir dönemde okunan şeyler şahsiyetin oluşmasında etkindir.
- D)Ne okunacaksa on beşle yirmi yaş arasında okunmalıdır.

En büyük sevincimiz ve kederimiz başka insanlarla olan ilişkilerimizden kaynaklanır. Yaşamda mutluluk ve huzur, sağlıklı iletişim biçimleriyle kurulan ilişkilerde yaşanır. Sağlıklı iletişim becerileri bir dizi tekniklerin öğrenilmesiyle yaşama geçirilir, ancak bu tekniklerden önce işe kendimizden başlamamız uygun olur.

(9. ve 10. sorular parçaya göre cevaplandırılacaktır.)

9)Aşağıdaki atasözlerinden hangisi parçadaki altı çizili kısma anlamca en yakındır?

- A) Kızım sana söylüyorum, gelinim sen anla.
- B) Komşunun tavuğu komşuya kaz görünür.
- C) İğneyi kendine çuvaldızı başkasına batır.
- D) El elin eşeğini türkü çağırarak arar.

10)Parçadan çıkarılamayacak yargı aşağıdakilerden hangisidir?

- A) İnsanlarla ilişkilerimiz duygularımızı etkiler.
- B) Sağlıklı iletişimle mutluluğu yakalayabiliriz.
- C)Bir kısım tekniklerle doğru iletişim kurabiliriz.
- D)İletişim teknikleri uygulamayla öğrenilmez.

Bir güvercin kanadında okşuyorum
Göklerin maviliğini
Serçelerin civıltısıyla sınıyor içime
Ağaçların yeşilliği
Bulutların ipek gölgesi
Çocukların yüzünde ışıldıyor

11)Şiirin konusu aşağıdakilerden hangisidir?

- A) Doğanın önemi.
- B) Yaşama sevinci
- C)Çocuk sevgisi.
- D) Özgürlük isteği

" Ne yaptıysam gözüne girmeyi başaramadım. Beni harçlıksız bırakmaktan zevk alırdı sanki. Kimi zaman kaçıp bahçedeki koca cevizin altında, hendekte veya damda yattığım geceler, onun umurunda bile değildim. "

12)Aşağıdakilerden hangisi parçanın hem başına hem de sonuna getirilebilir?

- A) Hiçbir istediğimi yerine getirmezdi
- B) Oldum olası sevmezdi beni babam
- C)Her yıl sonunda taktir alırdım.
- D)Üstelik eve her dönüşümde hastalanırdım.

" Bir başka dünyaya ayak basmıştı sanki. Bu, hesapta olmayan bir kar yağışıyla karşılaşmaya benziyordu. Bir de, ilk kez kalınan yabancı bir evde, uyandıktan sonraki şaşkınlığa... Sabah sabah, yirmi çeşit şarkıya, yerinde duramayan rengârenk kalabalığa karışmak... İşte hayatın yalan gürültüsü, yalan sessizliği. Bir bakıyorsunuz, düş mavileriyle çevrilmiş dünya. Bir bakıyorsunuz, çığlık çığlığa, sarılar, kırmızılar sarmış her yanı. Değişmeyen renk nerede? Onu bulamıyorsunuz. Gülünç geliyor düşününce, çirpinişi insanın. Her şey, eskiyor, yenileniyor, çürüyor, atılıyor. "

13)Paragrafta yazar asıl neyi vurgulamaktadır?

- A) Dünyanın insana farklı şeyler sunduğu
- B) Her gün farklı şeylerle ilgilenmenin güzelliği
- C) İnsanın dünyadaki çirpinişinin komik olduğu
- D) Hesapta olmayan bir kar yağışının zorluğu

" Beş yüz yıllık bir kültür çarşısı olan Sahaflar Çarşısı, Beyazıt Camii ile Kapalı Çarşı arasında yer alır. Bir kapısı Kapalı Çarşı'nın Çarşı Kapısına, diğer kapısı Beyazıt Camii'nin arkasına açılan Sahaflar Çarşısı, kültür dünyamızın atardamarıdır. İstanbul'a gelenlerin, İstanbul'u tanıyanların uğramayı ihmal etmeyecekleri bir yer olan Sahaflar Çarşısı denilince akla kitap gelir. "

14)Parçadan aşağıdakilerden hangisi çıkarılamaz?

- A) Sahaflar Çarşısı dünyanın kültür merkezidir.
- B) Sahaflar Çarşısı beş yüz yıllık bir çarşıdır.
- C) Sahaflar Çarşısı denilince kitap akla gelir.
- D) İstanbul'a gelenler Sahaflar Çarşısına mutlaka uğrar.

" Ülke sınırından geçmek, her şeyiyle yabancı bambaşka dünyaya girmek. Koparılır gibi ayrılmak doğup büyüdüğün yerlerden..... "

15)Bu parça aşağıdakilerin hangisiyle tamamlanamaz?

- A) Bilseniz ne acı.
- B) Tekrar dönmek mi
- C) Ne kadar zor
- D) Elveda vatan

16) Aşağıdaki kelimelerden hangisinin kökü isimdir?

- A) vatandaş.
- B) sayı
- C) ölçü.
- D) görüntü

" Büyük adam, büyüklüğünü küçük adama davranışlarıyla anlatır. "

17)Yukarıdaki cümlede yapım eki almış kaç sözcük vardır?

- A) 1
- B)2
- C)3
- D)4

18)Hangi cümlenin sonuna nokta işareti (.) doğru konulmuştur ?

- A) Sen ne yaptığını sanıyorsun.
- B) Ne kadar çok yorulduğumu anlatamam.
- C)Ayağa kalkar kalkmaz şöyle söyledi.
- D)Çabuk buraya gel, kimseyi üzme.

19) Aşağıdaki cümlelerin hangisinde benzetme yoktur?

- A) Düşünce goncadır, dil tomurcuk.
B) Bacak kadar çocukla çekişmiş
C) Sonuncu olduğuna çok üzülüyordu.
D) Pelin zehir gibi bir öğrenciydi

26 öğrencisi olan bir sınıfta, öğrencilerin Tarih sınavlarından, beşli not sistemine göre, aldığı notlar ve öğrenci sayısı aşağıda belirtilmiştir.

Notlar	0	1	2	3	4	5
Öğrenci sayısı	-	3	4	8	5	6

20) 3 ve üstünde not alanlar başarılı sayıldığına göre, bu sınıfta kaç öğrenci başarılı olmuştur?

- A)15 B)17
C)19 D)21

1) Aşağıdaki üslü ifadelerden hangisinin değeri diğerlerinden farklıdır?

- A) 2^8 B) 4^4 C) 8^3 D) 16^2

2) I. $2^3 = 3^2$
II. 10^5 'in değeri 6 basamaklı bir doğal sayıdır.
III. $2^2 + 2^2 = 4^2$

Yukarıda verilen ifadelerden hangisi ya da hangileri doğrudur?

- A) Yalnız II B) II ve III
C) I ve II D) I, II, III

3) Bir anne ile ikiz çocuklarının yaşları toplamı 34'tür. Çocuklar doğduğunda anneleri 25 yaşında olduğuna göre çocukların şimdiki yaşları kaçtır?

- A) 3 B) 4 C) 5 D) 6

4) Cumhuriyet Ortaokulu öğrencileri ve öğretmenleri hayvanat bahçesi gezisine gidecektir. Okulda 310 öğrenci ve 15 öğretmen bulunmaktadır.

Her 30 kişi için bir otobüs kiralanacağına göre gezi için en az kaç otobüs gereklidir?

- A) 9 B) 10 C) 11 D) 16

5) Markete alışverişe giden Zeki'nin 50 TL parası vardır. Tanesi 1,25 TL olan içeceklerden 4 tane, tanesi 2TL olan bisküvilerden 5 tane, tanesi 3 TL olan cipslerden 2 tane, kilosu 7 TL olan muzdan ise 2 kilo almıştır.

Zeki, kalan parasıyla tanesi 1,5 TL olan çikolatalardan kaç tane alabilir?

- A) 5 B) 8 C) 10 D) 12

6) 24 sayısının çarpanları aşağıdakilerden hangisinde doğru ve tam olarak verilmiştir?

- A) 2, 4, 6, 12
B) 1, 2, 4, 6, 12, 24
C) 1, 2, 3, 4, 6, 8, 12, 24
D) 1, 2, 3, 4, 6, 8, 12, 16, 18, 24

7) 1, 2, 4, 8, A, B, C

Yukarıda bir sayının doğal sayı çarpanları küçükten büyüğe sıralanarak verilmiştir.

Buna göre C kaçtır?

- A) 16 B) 24
C) 32 D) 64

8) Beş basamaklı 51A48 sayısı 3'e kalan sız bölünebildiğine göre A yerine kaç farklı sayı gelebilir?

- A) 4 B) 3 C) 2 D) 1

9) A9C sayısı 5'e ve 9'a tam bölünebiliyorsa A yerine yazılacak rakamların çarpımı kaçtır?

- A) 0 B) 4 C) 18 D) 36

10) I. En küçük asal sayı 1'dir.

II. Asal sayılar yalnızca 1'e ve kendisine tam bölünür.

III. 2'den başka çift asal sayı yoktur

Yukarıdakilerden hangisi veya hangileri doğrudur?

- A) Yalnız II B) I ve III
C) II ve III D) I, II ve III

11) 540 sayısının asal çarpanlara ayrılmış hali $2^a \cdot 3^b \cdot 5^c$ ise $a + b + c$ kaçtır?

- A) 4 B) 5 C) 6 D) 7

12) Bilgi: 1'den başka ortak böleni olmayan sayılara aralarında asal sayılar denir.

Aşağıdaki sayı çiftlerinden hangileri aralarında asal sayıdır?

- A) 6 - 9 B) 12 - 21
C) 15 - 17 D) 20 - 35

13) Bir sınıftaki öğrenciler dörder dörder ve üçer üçer sıraya dizildiğinde her defasında 1 öğrenci açıkta kalmaktadır. Bu sınıftaki öğrenci sayısının 40 ile 50 arasında olduğu bilindiğine göre sınıf mevcudu kaçtır?

- A) 49 B) 47 C) 45 D) 41

14) Aşağıdakilerden hangisi boş kümedir?

- A) Haftanın C harfiyle başlayan günleri
B) Türkiye'nin S harfiyle başlayan illeri
C) İki basamaklı rakamlar
D) 50'den büyük asal sayılar

15) $T = \{ 1, 2, 3, 4 \}$

Liste yöntemi ile verilen T kümesinin ortak özellik yöntemiyle gösterimi aşağıdakilerden hangisidir?

- A) $T = \{ \text{Rakamlar} \}$
 B) $T = \{ 5\text{'ten küçük doğal sayılar} \}$
 C) $T = \{ 5\text{'ten küçük rakamlar} \}$
 D) $T = \{ 0 \text{ ile } 5 \text{ arasındaki doğal sayılar} \}$

16) $\mathcal{S} = \{ \text{ANKARA kelimesini oluşturan harfler} \}$ \mathcal{S} kümesinin eleman sayısı kaçtır?

- A) 4 B) 5 C) 6 D) 7

17) Boş kümenin sembolü aşağıdakilerden hangisidir?

- A) $\square \emptyset$ B) $\{ 0 \}$ C) \emptyset D) $[\emptyset]$

18) Doktor Sevgi Hanım 6 günde bir, Hemşire Merve Hanım 4 günde bir nöbet tutmaktadır. İkisi birlikte Perşembe günü nöbet tuttuktan sonra birlikte tutacakları ilk nöbet hangi güne denk gelir

- A) Salı B) Çarşamba
 C) Cumartesi D) Pazar

19)

11	13	15	23	27	29
----	----	----	----	----	----

Yukarıdaki sayılardan kaç tanesi asal sayıdır?

- A) 2 B) 3
 C) 4 D) 5

20) Birinde 20 litre vişne suyu, diğerinde 32 litre portakal suyu bulunan iki kaptaki içecekler birbirine karıştırılmadan ve hiç artmayacak şekilde eşit hacimli şişelere doldurulacaktır.

Aşağıda hacmi verilen şişelerden hangisi bu iş için kullanılamaz?

- A) 1lt B) 2lt C) 3lt D) 4lt

DOLAŞIM SİSTEMİ

Kazanımlar

F.6.2.3.1. Dolaşım sistemini oluşturan yapı ve organların görevlerini model kullanarak açıklar.

- Kalbin dört odacığı, kalbi oluşturan yapılar ve isimleri verilmeden belirtilir.
- Kalbi oluşturan yapıların ve kapakçıkların isimlerine yer verilmez.
- Kalbin çalışma mekanizmasına değinilmez. ç. Nabız ve tansiyona değinilir.
- Lenf dolaşımına değinilmez.

F.6.2.3.2. Büyük ve küçük kan dolaşımını şema üzerinde inceleyerek bunların görevlerini açıklar. Atardamar, toplardamar ve kılcal damarların ayrıntılı yapısına girilmeden görevleri belirtilir.

F.6.2.3.3. Kanın yapısını ve görevlerini tanımlar.

- Kan hücrelerinin yapısı verilmeden sadece görevleri açıklanır.
 - Alyuvarlarda hemoglobin ile gaz alışverişine değinilmez.
- F.6.2.3.4.** Kan grupları arasındaki kan alışverişini ifade eder.
- Kan gruplarında moleküler temellere girilmez.
 - Kan alışverişinin, uygulamalarda aynı gruplar arasında yapılması esas alındığından “genel alıcı” ve “genel verici” ifadeleri kullanılmaz.
 - Rh faktörüne kısaca değinilir ancak kan uyumsuzluğuna girilmez.

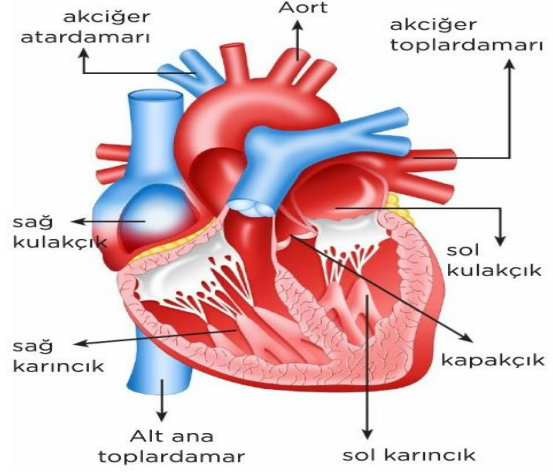
KONU ÖZETİ

Hücrelerde besin ve oksijen taşınması ile hücrelerde oluşan karbondioksit ve atık maddelerin uzaklaştırılmasını sağlayan sisteme **dolaşım sistemi** denir.

Dolaşım sistemi içerisinde; kalp, kan , damarları öğreneceğiz.

1.KALP

KALP



- ✓ Göğüs boşluğunda iki akciğer arasında bulunur. Kalbin görevi kanı pompalamaktır.
- ✓ Kalp 4 odacıktan oluşur. Bunlar sağ ve sol kulakçık ile sağ ve sol karıncıklardır.
- ✓ Kalbin üst odacıkları kasılırken(sağ ve sol kulakçık) alt odacıkları gevşer. Alt odacıkları kasılırken üst odacıkları gevşer.
- ✓ Kalbimizin kasılıp gevşeyerek atardamar duvarına yaptığı basınca ise tansiyon denir.
- ✓ Kalp atışının uçtaki atardamarlardan hissedilmesine nabız denir.
- ✓ Kalbimizin sol tarafında temiz, sağ tarafında kirli kan vardır.
- ✓ Yani sol kulakçık ve sol karıncık temiz kan, sağ kulakçık ve sağ karıncık kirli kan taşır.

2.KAN DAMARLARI

Damarlar; atardamar, toplardamar ve kılcal damarlar olmak üzere üç grupta incelenir.

1.Atardamarlar

- Kalbin pompaladığı kanı doku ve organlara taşıyan damarlardır
- Kan basıncının en yüksek olduğu damarlardır.
- Akciğer atardamarı hariç temiz kan (oksijence zengin) taşırlar.

2.Toplardamarlar

- Kanı kalbe getiren damarlardır.
- Akciğer toplardamarı hariç kirli kan (oksijence fakir) taşırlar.
- Akciğer toplardamarı hariç kirli kan(oksijence fakir) taşırlar.

3.Kılcaldamarlar

- Akciğer toplardamarı hariç kirli kan(oksijence fakir) taşırlar.
- Kan ve doku hücreleri arasında madde alışverişini sağlar.
- Kan akış hızı en yavaş damarlardır.

Vücutta Kan Dolaşımı

Kanın vücut içerisinde aldığı yola göre, küçük kan dolaşımı ve büyük kan dolaşımı olmak üzere iki çeşittir.

A. Küçük Kan Dolaşımı

- Kalp ile akciğerler arasında gerçekleşir.
- Kalpten gönderilen kirli kan(oksijence fakir) akciğerlerde temizlenerek(oksijence zengin) kalbe geri döner.
- Küçük kan dolaşımının amacı kirli kanı temizlemektir

B. Büyük Kan Dolaşımı

- Kalp ile vücut dokuları arasında gerçekleşir.
- Büyük kan dolaşımının amacı tüm dokulara besin ve oksijeni götürmek ve dokularda meydana gelen atık maddeleri toplamaktır.

3.KAN

Plazma ve kan hücreleri olmak üzere iki kısımdan oluşur.

1) Plazma

- Plazmanın %90'ı sudur.
- %10'luk kısmını ise; besin içerikleri, oksijen, karbondioksit ve atık maddeler oluşturur.

2) Kan Hücreleri

Alyuvar, akyuvar ve kan pulcukları olmak üzere üç çeşittir

a. Alyuvar

- Kırmızı kan hücreleridir.
- Kanımızda sayıca en fazla olan kan hücreleridir.
- Alyuvarın yapısında kana kırmızı rengini veren hemoglobin bulunur.
- Hemoglobin oksijen ve karbondioksit gazlarının taşınmasını sağlar.

b. Akyuvar

- Renksiz kan hücreleridir.
- Mikroplara ve yabancı maddelere karşı vücudumuzu korurlar.
- Hastalandığımızda sayıları artar.

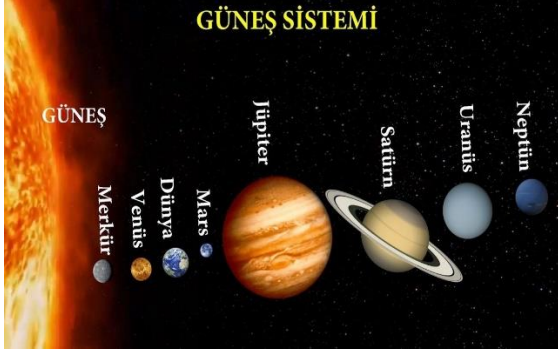
c. Kan Pulcukları

- Yaralanma gibi durumlarda kanın pıhtılaşmasını sağlar.
- Çok küçük ve renksizdirler.

Kan Grupları

- İnsanlarda A, B, AB ve 0 olmak üzere dört çeşit kan grubu bulunmaktadır.
- Kanda Rh faktörü bulunan kan Rh+, Rh faktörü bulunmayan kan Rh- olarak adlandırılır.
- Rh faktörü dikkate alındığında toplam sekiz farklı kan grubu görülür.
- Kan alışverişi aynı kan grupları arasında gerçekleşir.

1) Gezegenlerin Güneş'e yakınlık sırası, büyüklükleri ve birbirlerine uzaklıklarının temsil edildiği model görseldeki gibidir.



Verilen görsel göz önünde bulundurularak gezegenlerle ilgili aşağıdaki yorumlardan hangileri **yanlıştır**?

- A) Görselde gezegenlerin Güneş'e yakınlık sıralaması doğru verilmiştir.
- B) Görselde ilk dört gezegen karasal gezegenlerdir.
- C) Jüpiter, gazsal gezegenlerin en büyüğüdür.
- D) Gezegenlerin büyükten küçüğe doğru sıralamasında Uranüs 4.sırada yer alır.

2)

* Büyüklük bakımından 5.büyük gezegendir.

*Yaklaşık %70'i sularla kaplıdır.

*Güneş 'e en yakın 3.gezegendir.

*Halkası yoktur, uydusu Ay'dır.

Yukarıda bazı özellikleri verilen gezegen aşağıdakilerden hangisidir?

- A) Venüs
- B) Dünya
- C) Uranüs
- D) Mars

3) Aşağıdaki yapılardan hangisi **destek ve hareket** sisteminin temel yapılarından **değildir**?

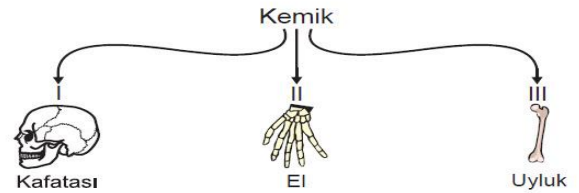
- A) Kemik
- B) Eklem
- C) Kalp
- D) Kas

4) Vücudumuzdaki hayati öneme sahip sıvı aşağıdakilerden hangisidir?

- A) Gözyaşı
- B) Kan
- C) Tükürük
- D) Ter

5)

Elif, şekillerine göre kemik çeşitlerini göstermek için aşağıdaki şemayı hazırlıyor.



Buna göre şemada numaralandırılmış yerlere yazılacak kemik türleri hangisinde doğru verilmiştir?

- A) Kısa kemik-Yassı Kemik-Uzun Kemik
- B) Kısa Kemik-Uzun Kemik-Yassı Kemik
- C) Yassı Kemik-Kısa Kemik-Uzun Kemik
- D) Uzun Kemik-Kısa Kemik-Yassı Kemik

6) İskelet sistemiyle ilgili bilgilerden hangisi **yanlıştır**?

A) Vücudumuzun çatisını oluşturan iskelet sistemimiz kemik, kıkırdak ve eklemlerden oluşmuştur.

B) Kemiklerimiz, kıkırdak dokunun sertleşmesiyle oluşur.

C) Yeni doğan bebeklerin kafatasının üst kısmı bingıldak adı verilen yumuşak bir kıkırdak dokudan oluşur. Büyüdükçe sertleşir.

D) Kulak kepçesi ve burun ucu bölgelerindeki kıkırdak doku, yaş ilerledikçe sertleşip kemikleşir.

7)

Kemik zarı → Kemiğin enine büyümesini sağlar

Kıkırdak doku → Kemiğin aşınmasını önler

? → Kan hücreleri üretir

Verilen eşleştirme tablosunda soru işareti olan yere aşağıdakilerden hangisi **getirilmelidir**?

A) Kırmızı kemik iliği

B) Kemik Zarı

C) Sert kemik doku

D) Süngerimsi Kemik Doku

8)



Güneş tutulmasını modellemek isteyen Ömer, bu gök cisimlerini hangi sıraya göre aynı doğrultuda dizmelidir?

A) I-II-III

B) II-I-III

C) III-II-I

D) III-I-II

9) *Uydusu ve halkası olmayan, halk arasında "Çoban Yıldızı" olarak adlandırılan gezegendir.

*Çok ince bir atmosfere sahip olan ve "Kızıl Gezegen" olarak adlandırılan gezegendir.

*Çevresinde taş ve tozlardan oluşan halkası bulunup, Güneş sisteminin en büyük gezegenidir.

Yukarıda hangi gezegenin özelliğinden **bahsedilmemiştir**?

A) Jüpiter

B) Uranüs

C) Mars

D) Venüs

10)

Kas çeşidi	Yorulma Özelliği	Kasılma Biçimi	Çalışma Şekli
L	YOK	YAVAŞ	İSTEMSİZ
G	YOK	HIZLI	İSTEMSİZ
S	VAR	HIZLI	İSTEMLİ

Bu kaslarla ilgili aşağıdakilerden hangisi **yanlıştır**?

- A) L kası kolda bulunmaz.
- B) G kasının enerji tüketimi fazladır.
- C) L ve G aynı organda bulunmaz.
- D) S kası iç organlarda bulunabilir.

11)



Kolumuzu dirseğimizden bükerken ve kolumuzu açarken kolumuzdaki kasların durumu yukarıdaki resimde gösterilmiştir.

Buna göre, kolumuzda bulunan kaslarla ilgili,

- I. Çift olarak bulunur
 - II. Çizgili kas özelliğindedir.
 - III. Zıt çalışan kaslardır.
- ifadelerinden hangileri doğrudur?**

- A) Yalnız I
- B) I ve II
- C) I, II ve III
- D) II ve III

12) Aşağıdakilerden hangisi insanlardaki sindirim olayı ile ilgili **doğru bilgidir**?

- A) Ağızda hem fiziksel hem kimyasal sindirim olur.
- B) Yemek borusunda kimyasal sindirim çok fazladır.
- C) Proteinlerin kimyasal sindirimi ağızda başlar.
- D) Karaciğerde üretilen safra sıvısı ile yağların kimyasal sindirimi gerçekleşir.

13) Dolaşım sistemimizle ilgili aşağıda verilenlerden **hangisi yanlıştır**?

- A) Küçük dolaşımının görevi kirli kanın temizlenmesini sağlamaktır.
- B) Büyük dolaşımın görevi hücrelere besin ve oksijen taşımaktır.
- C) İnsan kalbi iki odacıktan oluşur.
- D) Kan damarları atardamar, toplardamar ve kılcal damarlar olmak üzere üçe ayrılır.

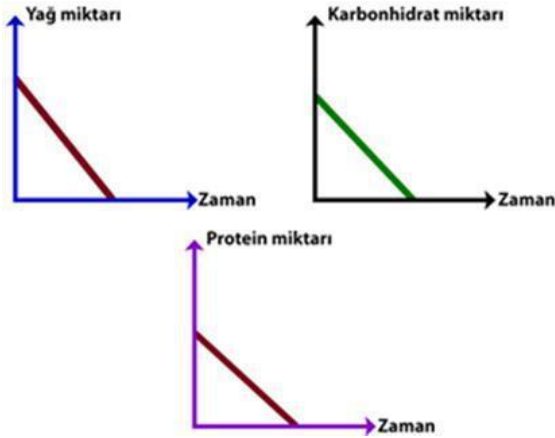
14)

Damar Çeşidi	Görevleri
1- ATARDAMAR	a. Hücreler ile kan arasında madde alışverişini yapmak
2-KILCAL DAMAR	b. Kalpten vücuda kan pompalamak
3- TOPLARDAMAR	c. Vücut organlarından kalbe kan taşımak

Buna göre damar çeşitlerinin görevleri ile doğru eşleştirilmesi hangi seçenekte verilmiştir?

- A) 1- b B) 1- a C) 1- b D) 1- c
 2- a 2- c 2- c 2- b
 3- c 3- b 3- a 3- a

15)



Grafiklerdeki sonuçlara göre Yusuf hangi sindirim sistemi organındaki kimyasal sindirim ile ilgili araştırma yapmıştır?

- A) Ağız
 B) Mide
 C) İnce Bağırsak
 D) Kalın Bağırsak

16) Aşağıdakilerden hangisi kimyasal sindirime örnektir?

- A) Çiğneme
 B) Midenin kasılıp gevşemesi
 C) Mide öz suyunun besinleri parçalaması
 D) Safra sıvısının yağları parçalaması

17)

- I. kanın pıhtılaşmasını sağlamak
 II. vücut savunmasını sağlamak
 III. Oksijen ve karbondioksit taşımak

Yukarıda kan hücrelerinin görevleri verilmiştir. Buna göre hangi şıkta kan hücrelerinin isimleri doğru verilmiştir?

	I	II	III
A)	Alyuvar	Akyuvar	Kan Pulcukları
B)	Akyuvar	Kan Pulcukları	Alyuvar
C)	Alyuvar	Kan Pulcukları	Akyuvar
D)	Kan Pulcukları	Akyuvar	Alyuvar

18) Aşağıdaki damarların hangisinde oksijence temiz kan bulunur?

- A) Alt ana toplardamar
 B) Üst ana toplardamar
 C) Akciğer atardamar
 D) Akciğer toplardamar

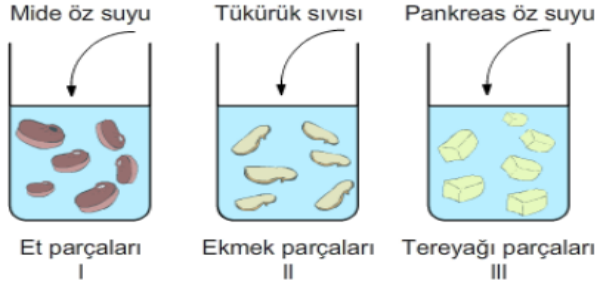
19) Besinlerin sindirimin sisteminde izlediği yolda yanlışlık yapılmıştır.

Ağız → Yutak → Yemek Borusu →
Mide → Kalın Bağırsak → İnce
Bağırsak → Anüs

Bu sıralamada hangi organın sırası yer değiştirdiğinde **yanlışlık düzelir**?

- A) Yutak → Yemek Borusu
- B) Mide → Kalın Bağırsak
- C) Kalın Bağırsak → İnce Bağırsak
- D) Yemek Borusu → Mide

20)

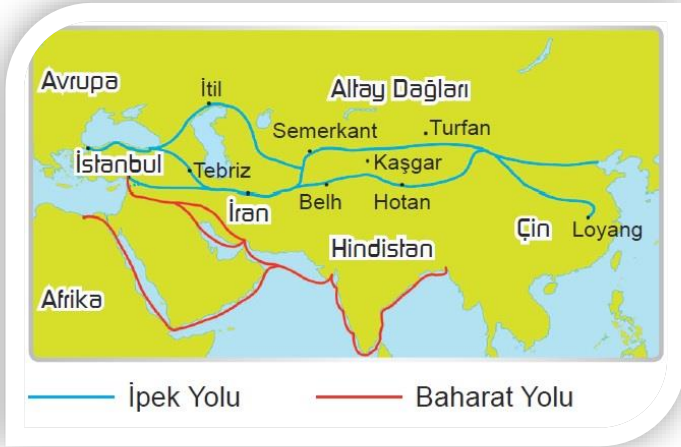


Buna göre, bir süre sonra numaralandırılmış deney tüplerinin hangilerinde kimyasal sindirim gerçekleşir?

- A) Yalnız II
- B) Yalnız III
- C) I ve II
- D) I, II ve III

ÜNİTE 2: TARİHE YOLCULUK TARİHİ YOLLAR

Tarih boyunca insanlar ürettiklerini ticaret yolları aracılığıyla taşıdılar ve sattılar. İpek ve Baharat Yolu da insanlık tarihinin en eski ve önemli ticaret yollarındandır.



A) İPEK YOLU

- İpek Yolu, Çin'in Xi'an (Şian) kentinden başlayarak Hazar Denizi'nin güneyinden ve kuzeyinden iki kol hâlinde Avrupa'ya uzanan tarihî ticaret yoludur.
- Kuzeyinden geçen kolu Kırım'a uğrarken, güneyinden geçen kolu Anadolu'yu boydan boya geçerek İstanbul'a kadar uzanmaktadır.
- İpek Yolu'nun hâkimiyetini ele geçirebilmek adına devletler sürekli birbirleriyle mücadele etmişlerdir.
- İpek Yolu sadece ipeğin değil deri, porselen, mücevher vb. değerli birçok malın taşındığı bir yol olmuştur. Bu yol sadece ticari anlamda değil, kültürel etkileşim anlamında da yol üzerinde bulunan devletlerin birbirlerinden etkilenmesine neden olmuştur.

B) BAHARAT YOLU

- Baharat günümüzden binlerce yıl önce doğu ülkelerinde kullanılıyordu.
- Kullanılan baharatların çoğu da Hindistan'da bulunuyordu. Karabiber, zerdeçal, tarçın, yenibahar, zencefil, karanfil vb. baharat türleri Orta Çağ Avrupa'sında da çok önemliydi. Bu baharatlar Avrupalı zenginlerin de vazgeçilmez tatlarıydı.
- Sadece sofralarda değil eczacılıkta, parfümlerde ve tütünlüklerde de kullanılıyordu.
- Hindistan'daki baharatların Basra Körfezi, Kızıldeniz ve Mısır yoluyla Akdeniz'e, buradan gemilerle Avrupa'ya taşınmasında kullanılan tarihî ticaret yoluna "**Baharat Yolu**" denir.
- Baharat Avrupa'da üretilmediği için çok değerliydi. Ancak doğudan batıya gelene kadar fiyatı çok artıyordu.
- Baharat Yolu'nda daha çok deniz yolculuğu yapılırdı. Mısırlılar ve Venedikliler bu yola hâkim olan devletlerdi. Daha sonraki yıllarda Osmanlı Devleti Mısır'ı ele geçirerek Baharat Yolu'na hâkim oldu. Baharat Yolu'nun ele geçirilmesi Osmanlı ekonomisine çok önemli katkılar sağladı.
- Avrupalılar baharatı daha ucuz alabilmek için yeni yollar aramaya başladılar ve yeni yollar keşfetmiş oldular. Baharat Yolu böylece önemini kaybetti.

1) Çin'in Şian kentinden başlayarak Anadolu ve Akdeniz aracılığıyla Avrupa'ya uzanan ve dünyaca ünlü bir ticaret yoludur. Bu sadece tüccarların ticaret yaptığı bir yol değil; bilginin, fikirlerin, dinlerin ve kültürlerin de toplumdan topluma yayıldığı bir yol olmuştur.

Yukarıda öneminden bahsedilen ticaret yolu aşağıdakilerden hangisidir?

- A) Kral Yolu
- B) Baharat Yolu
- C) İpek Yolu
- D) Kavimler Yolu

2) Anadolu Selçuklu Devleti döneminde Anadolu bir ticaret bölgesi hâline getirilmiştir. Alanya ve Sinop limanları alınmış, deniz ticareti hız kazanmıştır. Ticaret yolları üzerine, tüccarların konaklayıp dinlenebilecekleri kervansaraylar yapılmıştır. Ayrıca Sigortacılık faaliyetleri ile tüccarların malları güvence altına alınmıştır.

Yukarıdakilerden yola çıkarak Türkiye Selçukluları döneminde hangi alanda yaşanan gelişmelerden bahsedilmiştir.

- A) Siyasi
- B) Sosyal
- C) Dinî
- D) Ekonomik

3)



*Gelin tanış olalım
İşi kolay kılalım
Sevelim sevilelim
Dünya kimseye kalmaz*

Yunus Emre'nin şiirinde verilmek istenen düşünce aşağıdakilerden hangisi olabilir?

- A) Cömert bir insan olmamız
- B) İnsanlara değer vererek toplumsal birlikteliği sağlamamız
- C) Çıkarıcı olmamız
- D) Yardımsever olmamız

4)



Peygamber efendimiz Bedir Savaşında esir düşen Mekkeli müşriklere 10 Müslümana okuma yazma öğretmek karşılığında özgürlüğünü vadetmiştir.

Bu durum aşağıdakilerden hangisinin göstergesi olabilir?

- A) Hz. Muhammed'in tüm esirleri serbest bıraktığına
- B) Hz. Muhammed'in okuma yazmaya önem verdiğine
- C) Hz. Muhammed'in tüm savaşları kazandığına
- D) İslamiyet'in hızla yayıldığına

5) O'nun zamanında;

- ✚ Kur'an-ı Kerim çoğaltılmıştır.
- ✚ İlk İslam donanması kurulmuştur.
- ✚ Kıbrıs Adası fethedilmiştir.

Dört Halife Dönemi'nde yaşanan bu gelişmeler aşağıdaki halifelerden hangisinin dönemine aittir?

- A) Hz. Ebubekir B) Hz. Ali
C) Hz. Ömer D) Hz. Osman

6) "İnsanların piknik yapıp açık havada eğlenme hakları vardır. Ancak piknik yaparken çevreyi kirletmeye hakları yoktur. Çünkü tüm insanların temiz bir çevrede yaşama hakları vardır."

Buna göre aşağıdakilerden hangisi söylenemez?

- A) İnsanlar birbirlerinin haklarına saygı göstermelidir.
B) Kişilerin özgürlüğü başkasının hakkını çiğnememelidir.
C) İnsanlar haklarını sınırsızca kullanabilmelidir.
D) Haklarımızı kullanırken başkalarının hakkına zarar vermemeliyiz.

7)



"Osmanlı Devleti'nde insan merkezli mahalle anlayışının en güzel yansımalarından olan sadaka taşları vardı. Sadaka taşlarına para bırakıldıktan sonra ihtiyacı olan kişi sadaka taşından sadece ihtiyacı kadarını alır ve diğer ihtiyaç sahiplerini de düşünürdü."

Osmanlı Devleti zamanında yapılan bu faaliyeti aşağıdakilerden hangisine örnek olarak gösterebiliriz?

- A) Sorunlara karşı duyarsız kalmaya.
B) Kültürümüzü geliştirmeye
C) Uluslararası birlik ve beraberliğe
D) Sosyal yardımlaşmaya ve dayanışmaya

8)Aşağıda ilk Türk-İslam eserleri ve yazarları verilmiştir. Verilen eşleştirmelerden hangisi yanlıştır?

- A) Kaşgarlı Mahmut- Divanı Lügat-it Türk
B) Hoca Ahmet Yesevi – Divan-ı Hikmet
C) Yusuf Has Hacip – Atabetül Hakayık
D) Nizamülmülk – Siyasetname

9) Türkiye Selçukluları ve Moğollar arasında yapılan Köseadağ Savaşı, Moğolların galibiyeti ile sonuçlanmıştır. Bu savaştan sonra Türkiye Selçuklu Devleti yıkılış sürecine girmiş ve Anadolu'da Selçukluların kurduğu birlik bozulmuştur. Savaştan sonra Anadolu'da II. Türk Beylikleri dönemi başlamıştır.

Paragraftaki bilgiye göre aşağıdakilerden hangisi söylenebilir?

- A) Anadolu'da Türk tarihi sona ermiştir.
- B) Moğollar Anadolu' da yeni bir devlet kurmuştur.
- C) Savaştan sonra Türkler Bizans ile iş birliği yapmıştır.
- D) Anadolu'daki Türk siyasi birliği bozulmuştur.

10) Ahi Evran, Yunus Emre, Mevlâna, Hacı Bektaş Veli gibi önemli düşünürler Anadolu'nun fethinde önemli rol almışlardır. Bu düşünürlerin yaydığı öğretiler insanların birlik ve beraberliğini güçlendirmiştir. Günümüzde de bu öğretiler toplumumuzda önemli bir yer tutmaktadır.

Bu düşünürler ve öğretilerinin toplumsal yapıya katkıları ile ilgili olarak aşağıdaki çıkarımlardan hangisi yapılabilir?

- A) Günümüzde eski önemlerini kaybetmişlerdir.
- B) Anadolu'da İslamiyet'in yayılmasına katkı sağlamışlardır.
- C) Toplumda ayrışmaya neden olmuştur.
- D) En çok katkı sağlayan düşünür Yunus Emre'dir.

11) **Gazneli Mahmut'un sultanlığı sürecinde;**

- Sarayını bilim evi hâline getirmesi,
- Birçok bilim insanı ve sanatçıyı sarayında koruma altına alması

Aşağıdakilerden hangisinin kanıtıdır?

- A) İslam inancının etkisinde kaldığının
- B) Türk - İslam dünyasının lideri olduğunun
- C) Bilimsel faaliyetleri desteklediğinin
- D) Halifelik kurumunu yürüttüğünün

12) Ülkemizde deprem, sel gibi afetlerden sonra o bölge halkının gıda ve barınma ihtiyaçları için yardım toplanmaktadır.

Verilen bilgilere göre bu durumla ilgili aşağıdakilerden hangisi söylenemez?

- A) Halk Dayanışması
- B) Toplumsal birliktelik
- C) Çevreyi koruma
- D) Sosyal Yardımlaşma

13) İpek Yolu'nun hâkimiyetini ele geçirebilmek, iyi gelirler elde edebilmek adına devletler sürekli birbirleriyle mücadele etmişlerdir.

Yukarıda verilen bilgiye göre İpek Yolu mücadele eden devletler için hangi alanda öneme sahiptir?

- A) Kültürel
- B) Ekonomik
- C) Sosyal
- D) Askeri

14) Selçuklu Sultanı Alparslan döneminde Anadolu'ya yönelik Selçuklu akınları artınca Bizans ile karşı karşıya gelinir. Bizans İmparatoru Romanos Diyojen komutasındaki ordular, 1071 yılında yapılan mücadelede Selçuklu Sultanı Alparslan komutasındaki Büyük Selçuklu ordusuna yenilir. Selçukluların kazandığı bu zafer ile Anadolu'nun kapıları Türklere açılır, Anadolu'da Türk yerleşmesi başlar ve Alparslan'ın emri ile Anadolu'da fetih hareketlerine girişildi.

Bu parçada anlatılanlar aşağıdaki savaşlardan hangisinin sonuçlarına aittir?

- A) Pasinler B) Malazgirt
C) Dandanakan D) Talas

15) Karahanlılar döneminde yetişen en önemli bilim insanlarından biridir. Divan-ı Lügat-it Türk adlı ilk Türkçe sözlüğü yazmıştır.

Bu özellikler aşağıdaki Türk İslam bilginlerinden hangisine aittir?

- A) Kaşgarlı Mahmut
B) Nizamülmülk
C) Yusuf Has Hacib
D) Biruni

16) Baharat Yolu'nda daha çok deniz yolculuğu yapılırdı. Mısırlılar ve Venedikliler bu yola hâkim olan devletlerdi. Daha sonraki yıllarda Osmanlı Devleti Mısır'ı ele geçirerek Baharat Yolu'na hâkim oldu. Baharat Yolu'nun ele geçirilmesi Osmanlı ekonomisine çok önemli katkılar sağladı.

Yukarıda verilen bilgilere göre çıkarılacak en kapsamlı yargı aşağıdakilerden hangisidir?

- A) Baharat Yolu'nun kontrolünü eline geçiren devletler ekonomik açıdan önemli kazanımlar elde etmiştir.
B) Baharat Yolu en çok Venediklilerin kontrolünde olmuştur.
C) Baharat yolunda genellikle ipek ticareti yapılmıştır.
D) Baharat yolu en çok kullanılan ticaret yoludur.

17) Türklerin İslamiyet'e geçişini kolaylaştırıp hızlandıran sebepler arasında aşağıdakilerden hangisi yer almaz?

- A) Türklerin eski inancı Gök Tanrı inancının da tek tanrı inancını öngörmesi
B) İslam inancında Türklere benimsenen sosyal değerlerin benzer olması
C) Emevilerin eşitlikçi ve hoşgörülü politika uygulaması
D) Türklereki fetih anlayışı ile İslamiyet'teki cihat anlayışının benzerlik göstermesi

18)Çinliler ile Müslüman Abbasiler arasında yapılmıştır. Çin ordusunda yer alan Türkler, Abbasilere destek vermiş ve savaşı Abbasiler kazanmıştır. Bu savaştan sonra Türkler hızlı bir şekilde İslamiyet'e geçmeye başlamıştır.

Yukarıda bilgileri verilen bu savaş aşağıdakilerden hangisidir?

- A) Talas (751)
- B) Dandanakan (1040)
- C) Pasinler (1048)
- D) Malazgirt (1071)

19)Afet, kan, göç, sağlık, barınma, sosyal yardım, ilk yardım, eğitim, gençlik alanlarında Türkiye ve Dünya'da faaliyet gösteren insani yardım kuruluşu aşağıdakilerden hangisidir?

- A) 
- B) 
- C) 
- D) 

20)Aşağıdakilerden hangisi “Hz. Muhammed'in 622 yılında Mekke'den Medine'ye hicret etme” nedenleri arasındadır?

- A) Mekke'de can güvenliğinin tehdit edilmesi
- B) Medine'ye gidip devlet başkanı olmak istemesi
- C) Medine'de sadece Müslümanların yaşıyor olması
- D) Medine şehrinde ticaretin canlı olması

KAZANIMLAR

- 6.1.1. Peygamber ve peygamberlik kavramlarını tanımlar
- 6.1.2. Peygamberlerin özelliklerini ve görevlerini açıklar
- 6.1.3. Peygamberlerde insanlar için güzel örnekler olduğunu fark eder
- 6.1.4. Vahyin gönderiliş amacını araştırır
- 6.1.5. İlahi kitapları ve gönderildiği peygamberleri eşleştirir.
- 6.1.6. Hz. Âdem'in (a.s.) hayatını ana hatlarıyla özetler
- 6.1.7. Kunut dualarını okur, anlamını söyler.

1) Aşağıdakilerden hangisi, Kur'an-ı Kerim'de adı geçen peygamberlerden biri değildir?

- A) Hz. Eyüp B) Hz. Şit
- C) Hz. Yusuf D) Hz. Nuh

2) Allah'ın insanları, iyiliğe ve doğruluğa yönlendirmek için peygamberler aracılığı ile gönderdiği ilahi kurallar bütününe ne denir?

- A) Hadis
- B) Sünnet
- C) Vahiy
- D) Peygamber

3) Aşağıdakilerden hangisinde Kur'an-ı Kerim ile ilgili yanlış bir bilgi verilmiştir?

- A) Hz. Osman (r.a) zamanında çoğaltılmıştır.
- B) Bütün insanlara gönderilmiştir.
- C) Kur'an-ı Kerim 114 ayettir.
- D) Hz. Muhammed (sav) 'e indirilmiştir.

4) Aşağıdaki ilahi kitap ve gönderilen peygamber eşleştirmelerinden hangisi yanlıştır?

- A) Tevrat – Hz. Musa (a.s.)
- B) Zebur – Hz. İbrahim (a.s.)
- C) İncil – Hz. İsa (a.s.)
- D) Kur'ân-ı Kerim– Hz. Muhammed (s.a.v.)

5) Hz. Âdem'le (a.s.) ilgili aşağıda verilen bilgilerden hangisi yanlıştır?

- A) İlk peygamberdir.
- B) Eşi Hz. Havva 'dır.
- C) Kendisine 50 sahife gönderilmiştir.
- D) İlk insandır.

6) İnsanların dünya ve ahirette mutluluğunu sağlamak için peygamberler aracılığıyla gönderilen; inanç, ibadet, ahlak ve her türlü toplumsal kuralları içeren vahiyler bütünüdür. İçinde yer aldığı kitaplara ne ad verilir?

- A) Vahiy B) İlahi Kitap
C) Sure D) Ayet

7) Aşağıda verilen bilgilerden hangisi yanlıştır?

- A) Kur'an-ı Kerim'in en kısa suresi İhlas suresidir.
B) Kur'an-ı Kerim'in ilk suresi Fatıha, son suresi ise Nas suresidir.
C) Kur'an-ı Kerim Allah'ın (c.c.) gönderdiği son ilahi kitaptır.
D) Kur'an-ı Kerim, 610 yılının ramazan ayının Kadir gecesinde indirilmeye başlamıştır.

8) Kur'an-ı Kerim'in kitap haline getirilmesi kimin döneminde olmuştur?

- A) Hz. Muhammed (s.a.v)
B) Hz. Ebubekir
C) Hz. Osman
D) Hz. Ömer

9) Peygamberlerin zeki ve akıllı olduğunu ifade eden sıfat aşağıdakilerden hangisidir?

- A) Fetanet B) İsmet
C) Sıdk D) Tebliğ

Kur'an-ı Kerim'de ismi geçen ancak peygamber olup olmadığı konusunda farklı görüşler ileri sürülen üç isim vardır.

10) Aşağıdakilerden hangisi bu üç isimden biri değildir?

- A) Hz. Lokman B) Hz. Salih
C) Hz. Üzeyr D) Hz. Zülkarneyn

11) Kelime anlamı insanı hayrete düşüren ve aciz bırakan olay demektir. Allah'ın peygamberleri desteklemek için vermiş olduğu olağanüstü olaylardır.

Yukarıda tanımı verilen bu kavram hangisidir?

- A) Vahiy B) Tebliğ
C) Sıdk D) Mucize

12) Aşağıdakilerden hangisi peygamberlerin görevleri arasında sayılmaz?

- A) Allah tarafından gönderilen vahiy açıklamak.
- B) Yaşayışları ile örnek insan olmak.
- C) Diğer peygamberlere vahiy götürmek.
- D) İnsanları iyiye güzele yönlendirmek

13) Aşağıda verilen bilgilerden hangisi yanlıştır?

- A) Peygamberlik çalışarak elde edilen bir makam değildir.
- B) Hz. İdris'e 30 sahife gönderilmiştir.
- C) Kur'an-ı Kerimde ismi geçen peygamber sayısı 25'tir.
- D) İlk gönderilen ilahi kitap İncil'dir.

14) Vitir namazının üçüncü rekâtında tekbir aldıktan sonra okunan dua hangisidir?

- A) Süphaneke
- B) Kunut
- C) Fatiha
- D) İhlâs

15) Aşağıda tanımı verilmiş kavramlardan hangisinin tanımı yanlış verilmiştir?

- A) **Mucize:** Allah'ın izni ve yardımı ile peygamberlerin peygamberliklerini kanıtlamak için gösterdikleri olağanüstü olaylara denir.
- B) **Nebi:** Allah tarafından kendisine yeni bir kitap verilen elçilere denir.
- C) **Suhuf:** Allah'ın ilahi kitaplar dışında bazı peygamberlere verdiği ve sayfalar anlamına gelen kitapçıklara denir.
- D) **Vahiy:** Allah'ın peygamberler aracılığı ile insanlara ilettiği mesajlarına denir. Kısaca Allah'ın her sözüne, her mesajına denir.

16) Sırasıyla ilk ve son peygamberler aşağıdaki şıkların hangisinde doğru olarak verilmiştir?

- A) Hz. Âdem – Hz. Musa
- B) Hz. Âdem – Hz. Muhammed(s.a.v.)
- C) Hz. İsa – Hz. İbrahim
- D) Hz. İbrahim – Hz. Muhammed (s.a.v)

Size Rabbimin mesajlarını duyuruyorum ve ben sizin için güvenilir bir öğüt vericiyim. (A'raf Suresi, 68. Ayet)

17) Yukarıdaki ayette peygamberlerin özelliklerinden hangisinden söz edilmektedir?

- A) Tebliğ – Fetanet
- B) İsmet – Sıdk
- C) Emanet – Fetanet
- D) Tebliğ – Emanet

- Yahudilerin kutsal kitabıdır,
- Dili İbranicedir,
- Hz. Musa'ya (a.s) gönderilmiştir

18) Yukarıda özellikleri verilen kutsal kitabın adı hangi seçenekte doğru olarak verilmiştir?

- A) Tevrat
- B) İncil
- C) Kur'an-ı Kerim
- D) Zebur

- Günümüzde inananlar tarafından kabul görülen Matta, Markus, Luka, Yuhanna adında 4 kitap bulunmaktadır,
- Hz. İsa'ya (a.s) gönderilmiştir.
- Hıristiyanların kutsal kitabıdır.

19) Yukarıda özellikleri verilen kutsal kitabın adı hangi seçenekte doğru olarak verilmiştir?

- A) Tevrat
- B) İncil
- C) Kur'an-ı Kerim
- D) Zebur

- Müslümanların kutsal kitabıdır.
- Dili Arapçadır
- Hz. Muhammed (s.a.v)'e gönderilmiştir.

20) Yukarıda özellikleri verilen kutsal kitabın adı hangi seçenekte doğru olarak verilmiştir?

- A) Tevrat
- B) İncil
- C) Kur'an-ı Kerim
- D) Zebur

1) Jack is good at music so.....

- A) He takes guitar course
- B) He paints pictures
- C) He doesn't like music
- D) He plays tennis

2) Ecrin: How does he go to work?
Ezgi:

- A) At seven o'clock
- B) Once a week
- C) On foot
- D) At weekends

3) Mandy brushes her teeth in the mornings.

Which one is Mandy?

A)



B)



C)



D)



4) After school Tony goes to dance club. He arrives home at 5 o'clock and he does his homework. Then, he helps his father in the garden.

Which question has an answer in the paragraph above?

- A) What does Tony do after school?
- B) What time does Tony finish his homework?
- C) Does Tony Watch TV in the evenings?
- D) Why does Tony goes to dance club?

5) Ted:?

Mandy: It is seven o'clock.

- A) When is your English class?
- B) What is the date?
- C) What is the time?
- D) What is it?

6) Which one is TRUE according to the table?

Help dad	✓
Run errands	✓
Rest	X

- A) I help my dad but I don't run errands.
- B) I rest but I don't help dad.
- C) I run errands and rest.
- D) I help dad and run errands.

7) (I) He washes his face before
breakfast.

(II) He gets on the school bus.

(III) He wakes up.

(IV) He has breakfast.

Put the sentences into the correct
order.

- A) III-IV-II-I
- B) I-III-IV-II
- C) II-I-III-IV
- D) III-I-IV-II

8-10. soruları aşağıda yer alan
tabloya göre cevaplayınız.

NAME	ACTIVITY	TIME
Sally	Go to guitar course	4.30
Emma	Have a rest	6.00
Clare	Water the plants	2:15
Tom	Go shopping	8:45

8) Which one is TRUE?

- A) Sally goes to the guitar course at half past four.
- B) Emma plays basketball at six o'clock.
- C) Clare waters the plants at quarter to two.
- D) Tom goes shopping at half past eight.

9) What time does Tom do his
homework?

- A) at ten past eight.
- B) at quarter to eight
- C) at quarter past nine
- D) at quarter to nine

10) What does sally do at half past
four?

- A) She does her homework.
- B) She plays football.
- C) She takes care of her dog
- D) She goes to guitar course

11) Ayşe: Can I have some
lemonade?

Ela: Do you want some fruit
juice?

Ayşe: No, thanks. I don't like fruit
juice.

- A) I don't like drinks.
- B) It's all gone.
- C) No, thanks.
- D) I'm full.

12-14. soruları aşağıda yer alan metne göre cevaplayınız.

Hello, I'm Ali. I always have breakfast with my family in the mornings. I like croissant and tea for breakfast. My parents have tomato, cheese and honey for breakfast. I think they are healthy and nutritious food. My brother Samet likes cereal, milk and eggs. He always has them for breakfast.

12) Ali has and for his breakfast.

- A) milk - egg
- B) coffee - cookies
- C) croissant - tea
- D) cereal- milk

13) Ali thinks and are healthy food.

- A) coffee - croissant
- B) cheese - honey
- C) milk - cereal
- D) cheese - croissant

14) Ali's brother has for breakfast.

- A)  /  /  B)  /  / 
- C)  /  /  D)  /  / 

15) Selin: Do you want some cookies?

Helen: I love cookies.

- A) No, thanks
- B) I am not
- C) I don't
- D) Yummy!

16) I like lemonade but I like coke.

- A) not
- B) want
- C) don't
- D) am not

17) Harry: Do you some cake?

Clark: No, thanks.

- A) is
- B) want
- C) are
- D) do

18) Which of the following is healthy?

- A) egg
- B) coke
- C) candy
- D) chocolate

19) Which of the following is **NOT** a fruit?

- A) orange B) apple
C) green pepper D) banana

20) Which of the following is **NOT** a vegetable?

- A) parsley B) pear
C) tomato D) lettuce

CEVAP ANAHTARI

TÜRKÇE

- 1) C
- 2) C
- 3) A
- 4) A
- 5) A
- 6) A
- 7) D
- 8) D
- 9) C
- 10) D
- 11) B
- 12) B
- 13) A
- 14) A
- 15) B
- 16) A
- 17) D
- 18) B
- 19) C
- 20) C

MATEMATİK

- 1) C
- 2) A
- 3) A
- 4) C
- 5) C
- 6) C
- 7) D
- 8) A
- 9) D
- 10) C
- 11) C
- 12) C
- 13) A
- 14) C
- 15) D
- 16) A
- 17) C
- 18) D
- 19) C
- 20) C

FEN BİLİMLERİ

- 1) D
- 2) B
- 3) C
- 4) B
- 5) C
- 6) D
- 7) A
- 8) D
- 9) B
- 10) D
- 11) C
- 12) A
- 13) C
- 14) A
- 15) C
- 16) C
- 17) D
- 18) D
- 19) C
- 20) D

SOSYAL BİLGİLER

- 1) C
- 2) D
- 3) B
- 4) B
- 5) D
- 6) C
- 7) D
- 8) C
- 9) D
- 10) B
- 11) C
- 12) C
- 13) B
- 14) B
- 15) A
- 16) A
- 17) C
- 18) A
- 19) C
- 20) A

DİN KÜLTÜRÜ VE
AHLAK BİLGİSİ

- 1) B
- 2) C
- 3) C
- 4) B
- 5) C
- 6) B
- 7) A
- 8) B
- 9) A
- 10) B
- 11) D
- 12) C
- 13) D
- 14) B
- 15) B
- 16) B
- 17) D
- 18) A
- 19) B
- 20) C

İNGİLİZCE

- 1) A
- 2) C
- 3) A
- 4) A
- 5) C
- 6) D
- 7) D
- 8) A
- 9) D
- 10) D
- 11) B
- 12) C
- 13) B
- 14) D
- 15) D
- 16) C
- 17) B
- 18) A
- 19) C
- 20) B

EMEĞİ GEÇEN ÖĞRETMENLERİMİZ

SIİRT MİLLÎ EĞİTİM AR-GE BİRİMİ

MURAT EKİNCİ

Koordinatör Okul Müdürü

KÜBRA SARAN

Bilişim Teknolojileri Öğretmeni

<p>SÜMEYRA PAMUKÇU Türkçe Öğretmeni</p>	<p>MİNE AÇILAN Matematik Öğretmeni</p>
<p>GÜLSEREN KINACI TUBA GÖNCÜ Fen Bilimleri Öğretmenleri</p>	<p>BAHATTİN ÇALAPKULU MEHMET ULU Sosyal Bilgiler Öğretmenleri</p>
<p>LOKMAN DOĞRU Din Kültürü ve Ahlak Bilgisi Öğretmeni</p>	<p>HATİCE POLAT ÇİĞDEM ŞEKER İngilizce Öğretmenleri</p>