



SIIRT İL MİLLÎ EĞİTİM MÜDÜRLÜĞÜ

2020

ORTAOKUL

09 - 13 KASIM

6

ÖDEU TAKİP SİSTEMİ

0484 223 10 28

arge56@meb.gov.tr

siirt.meb.gov.tr

@mem_siirt

@siirtmem

SÖZCÜKTE ANLAM

Tek başına anlamı olan ve cümle kuruluşunda görevi bulunan anlatım birimlerinin en küçüğüne sözcük (kelime) denir.

Sözcükler, anlaşmamızı sağlayan bir araçtır. Sözcükleri bir düzen içinde bir araya getirerek cümleleri oluştururuz. Kullandığımız sözcükler oluşturduğumuz, cümlelere göre farklı farklı anlamlar kazanabilir.

1. Gerçek Anlam

Sözcüğün aklımıza gelen ilk anlamına gerçek anlam denir. Sözcüğün tek başınayken taşıdığı anlamdır ve sözlükteki ilk anlamıdır.

Örnek

Karabaş, bir şeyin kokusunu aldı.

(Koku: Nesnelere yayılan zerrelerin burunda uyandırdığı duygu)

Kör adama kimse yardım etmedi.

(Kör: Görme engeli)

Kitaplarını boş bir kutuya yerleştirdi.

(Boş: içinde, üstünde hiç kimse veya hiçbir şey bulunmayan)

2. Mecaz Anlam

Bir ilgi veya benzetme sonucu sözcüğün gerçek anlamından tamamen uzaklaşarak yeni bir anlam kazanmasına mecaz anlam denir.

Örnek

Ortalıkta savaş kokusu vardı.

(Koku: Belirti, işaret)

Olaylara karşı kör ve sağırdir.

(Kör: Duyarlılığını yitirmiş)

Boş sözlerle beni oyalamayın.

(Boş: Bir işe yaramayan)

Yazım Kuralları Konu Anlatımı

BÜYÜK HARFLERİN KULLANILDIĞI YERLER

1) Cümle içinde tırnak veya yay ayraç içine alınan cümleler büyük harfle başlar ve sonlarına uygun noktalama işareti (nokta, soru, ünlem vb.) konur.

•Atatürk "Muhtaç olduğun kudret, damarlarındaki asil kanda mevcuttur!" diyor.

UYARI: İki çizgi arasındaki açıklama cümleleri büyük harfle başlamaz.

Bir zamanlar -bu zamanlar çok da uzak değildir, bundan on, on iki yıl önce- Türk saltanatının maddi sınırları uçsuz bucaksız denilecek kadar genişti.

2) İki noktadan sonra gelen cümleler büyük harfle başlar.

•Menfaat sandalyeye benzer: Başında taşırırsan seni küçültür, ayağının altına alırsan yükseltir.

UYARI: İki noktadan sonra cümle ve özel ad niteliğinde olmayan örnekler sıra-landığında bunlar büyük harfle başlamaz.

Bu eskiliği siz de çok evde görmüşsünüzdür: duvarlarda çiviler, çivi yerleri, lekeler...

3) Kişi adlarından önce ve sonra gelen unvanlar, saygı sözleri, rütbe adları ve lakaplar büyük harfle başlar.

•Kaymakam Erol Bey / Mustafa Efendi / Zeynep Hanım / Mimar Sinan / Genç Osman

UYARI: Akrabalık bildiren kelimeler küçük harfle başlar.

Güzin ablama gittim.

Boş sözlerle beni oyalamayın.

(Boş: Bir işe yaramayan)

Nokta

- Cümlelerin sonuna konur.

Örnek: Okullar eylül ayında açılır.

- Bazı kısaltmaların sonuna konur.

Örnek:

Apartman (apt.)

Doktor (dr.)

Profesör (prof.)

Sokak(sk.)

- Sayılardan sonra sıra bildirmek amacıyla konur.

Örnek: 5., 2., 7., 10.

- Arka arkaya sıralandıkları için virgül ile veya çizgi ile ayrılan rakamlardan yalnızca sonucu rakamın sonuna konulur.

Örnek: 1, 2, 3, 5.

- Tarih yazılışlarında da noktadan yararlanır. Gün, ay, yılı gösteren sayıları birbirinden ayırmak için nokta konur.

Örnek: 10.09.1989 – 19. 04,2015

Not: Tarihlerde ay adları yazıyla yazıldığında ay adlarından önce ya da sonra nokta kullanılmaz.

- Saat ve dakika gösteren sayıları birbirinden ayırmak için nokta kullanılır.

Örnek:

Dersimiz bugün 15.50'de bitecektir.

Randevunuz saat 12'de idi.

- Sayılardan sonra sıra bildirmek amacıyla –ıncı, -inci ekinin yerine yine nokta konur.

Örnek:

Annemler bu apartmanın 3. Katında oturuyor.

İstanbul 2. Mehmet zamanında fethedildi.

- Bir yazının maddelerini gösteren rakam ve harflerden sonra nokta konur.

Örnek:

1.

A.

a.

- Bibliyografik künyelerin sonuna nokta konur. Örnek: Cahit Sıtkı Tarancı, 35 Yaş, Can Yayınları, İstanbul 1994.

- Dört ve dörtten çok rakamı bulunan sayıları sondan sayılmak üzere üçlü gruplara ayrıldığında her 3. Sayı için nokta konur.

Örnek: 1.658.013

- Matematikte çarpma işareti yerine kullanılır.

Örnek:

$$3 \cdot 7 = 21$$

$$9 \cdot 10 = 90$$

- Genel ağ adreslerinde kullanılır.
<https://turkcedersi.com.tr>

İLK 8 HAFTA KAZANIMLARINI İÇERMEKTEDİR.

Bu bahar havası, bu bahçe;
Havuzda su şırıl şırıldır.
Uçurtmam bulutlardan yüce,
Zıpızıplarım pırıl pırıldır.
Ne güzel dönüyor çemberim;
Hiç bitmese horoz şekerim!

Cahit Sıtkı TARANCI

4) Yukarıdaki şiire hâkim olan duygu hangisidir?

- A) Sevinç B) Karamsarlık
C) Şaşırma D) Özlem

Okuma gaye değil, araçtır. Okumanın sonunda bilgi edinmeli, faydalı şeyler öğrenmelidir. Okuduğumuz metin tarih ise günümüze ışık tutmalıdır, ahlak kitabı okuyorsak davranışlarımız düzelmelidir. Okuduğumuz bilgilerden faydalanmalıyız ve onları hayata tatbik etmeliyiz. Aksi takdirde marangozluk kitabı okuduğu hâlde hiçbir şey yapamayan adama benzeriz.

5) Bu paragrafın ana fikri aşağıdakilerden hangisidir?

- A) Okumak, zihnimizi ve yeteneklerimizi geliştirir.
B) Bol bol faydalı kitaplar okumalıyız.
C) Okuduğumuz bilgilerden faydalanmalı ve öğrendiğimizi hayatımıza uygulamalıyız.
D) Okuma, hayata farklı açılardan bakmamıza yardımcı olur.

6) Hatice, topladığı harçlıklarla markette alışveriş yapacaktır. Market alışverişiyle ilgili bilinenler şunlardır:

- Bisküvi alırsa içeceklerden meyve suyu alacak.
 Gofret veya çikolata alırsa içeceklerden süt almayacak.
 Kesinlikle bir içecek alacak.

Buna göre Hatice'nin yaptığı alışverişte aldıkları aşağıdakilerden hangisidir?

- A) Bisküvi, gofret, meyve suyu
B) Çikolata, süt, bisküvi
C) Gofret, çikolata, süt
D) Bisküvi, gofret, çikolata

7) Kendimize bir hedef belirliyorsak onun peşinden sonuna kadar gitmeliyiz. Pes etmeden kararlı bir şekilde yolumuzda yürümeliyiz. Ama bu hususta çabamızın sürekliliğine dikkat etmeliyiz. Sonuçta taşı delen suyun gücü değil, damlaların sürekliliğidir.

Bu metindeki altı çizili sözlerin yerine sırasıyla aşağıda verilen kelimelerden hangileri getirilebilir?

- A) Vazgeçmeden-devam etmeliyiz-devamlılığıdır
- B) Yorulmadan-koşmalıyız-varlığıdır
- C) Bıkmadan-çalışmalıyız-büyükülüğüdür
- D) Vazgeçmeden-durmamalıyız-kararlı olmasıdır

Benzetme, zayıf olan bir varlığın güçlü olan bir varlığa herhangi bir yönüyle benzetilmesidir. Örneğin “Pazardan aldığım biberler zehir gibi acıydı.” cümlesinde biberler, zehire benzetilmiştir.

Buna göre;

Kış geldi diye sevindi tüm çocuklar

Kar yağınca kar topu oynayacaklar

Kristal gibidir yağınca kar taneleri

Şimdi bekliyor çocuklar radyodan kar haberi

Ülkü GAZOVALI

8) Dizelerde benzeyen ve kendisine benzetilen öğeler hangi seçenekte doğru olarak verilmiştir?

Benzeyen - Kendisine benzetilen

- A) kış çocuk
- B) kar top
- C) çocuk haber
- D) kar taneleri kristal

Aşağıda noktanın işlevlerinden bazıları verilmiştir.

- Tamamlanmış cümlelerin sonunda kullanılır.
- Saat ve dakika bildiren sayıların arasında kullanılır.
- Bazı kısaltmaların sonunda kullanılır.
- Gün, ay ve yılı belirten sayılar arasında kullanılır.

9) Buna göre aşağıdaki cümlelerin hangisinde nokta (.) yanlış kullanılmıştır?

- A) O şiir, Hayat dergisinin 3. sayısında yayımlanmış.
- B) Otobüsümüz, 18.30'da Bursa'ya doğru hareket etti.
- C) Babam, 23.05.1950 yılında Erdemli'de doğmuş.
- D) Az veren candan, çok veren maldan

- I. vazgeçilmez şartı
- II. kendimizden
- III. her fotoğrafta
- IV. memnun olmamızdır
- V. güzel çıkmanın

10) Numaralanmış sözler anlamlı ve kurallı bir cümle oluşturacak biçimde sıralandığında hangisi baştan üçüncü olur?

- A) I B) II
- C) III D) V

Vasfi Mahir Kocatürk (1907-1961) şiirlerini "Tunç Sesleri", "Geçmiş Geceler", "Bizim Türküler", "Ergenekon" adlı kitaplarda topladı. Asıl çalışmasını edebiyat tarihi ve incelemesine ayırdı. Halk şiiri biçim özelliklerinden yararlanarak hece ölçüsüyle vatan, millet sevgisi, millî bilinç, kahramanlık, fedakârlık konularını işledi.

11) Vasfi Mahir Kocatürk'e ait dörtlüklerden hangisi bu metinde sözü edilen konulardan biriyle ilişkilendirilemez?

- A) Güzel yurdum, dağlarım;
Uzaktan göresim gelir.
Keskin esen yellerine,
Kendimi veresim gelir.

B) Kapının üstünde asmalar yeşil,
Güllerin yürek biçimi,
Saksında kor olmuş iki karanfil,
Uyan, ak elinle gözlerini sil.

C) Al yıldızlı al bayraklar,
Her yanda dalgalanıyor.
Süslendi evler, sokaklar;
Renk renk ışıklar yanıyor.

D) Bugün Yirmi Üç Nisan,
Toplandı bütün vatan,
Millet Meclisimize,
Atatürk oldu başkan.

Okumaya ilgi her geçen gün azalıyor. Bu ilgisizlik hayatın her alanında gösteriyor kendini. İster gelişen teknolojiyi sebep gösterin ister artan iş yükünü -şu kesindir ki- çok yakın bir zamanda az sayıdaki gerçek okuyucular müzeliğe olacaktırlar.

12)Bu parçaya altı çizili söz grubunun kattığı anlam aşağıdakilerden hangisidir?

- A) Tarihi anlatan, eskimiş
- B) İlgisi olmayan, aldırılmaz
- C) Sıkça rastlanan, sıradan
- D) Az bulunan, değerli

Komşunun bir çocuğu var, sanki bu zamana ait değil. Bu zamanki çocuklar gibi çok hareketli hiç değil. Nasıl yetiştirildiğini bilemeyeceğim. Yalnız bildiğim tek şey çocuğun son derece yumuşak başlı olduğudur. Hani derler ya "Ensesine vur, lokmasını al." diye. İşte tam da öyle biridir.

13)Bu parçada sözü edilen komşunun çocuğu için aşağıdakilerden hangisi söylenebilir?

- A) Şaşkın
- B) Sabırlı
- C) Akıllı
- D) Uysal

Ne kadar ----- olursan ol, ----- değilsen insanlığın temel gıdasından mahrum kalmışsındır.

14) Bu cümlede boş bırakılan yerlere sırasıyla aşağıdaki sözcüklerden hangileri getirilmelidir?

- A) havalı – namuslu
- B) anlayışlı – zengin
- C) sabırlı – hırslı
- D) çalışkan – dürüst

Anagram, bir sözcüğün harflerinin yerleri değiştirilerek yeni sözcükler oluşturulmasıdır. Anagram bir sözcük oluşturmanın tek kuralı, aynı harfleri kullanma zorunluluğudur. Örneğin “çakal-alçak”, “evli-veli” kelimeleri aynı harflerden oluşturulmuş anagram sözcüklerdir.

15) Bu bilgiye göre aşağıdaki cümlelerin hangisinde birbirinin anagramı olan kelimeler bir arada kullanılmıştır?

- A) Faturaların asıl ve suretleri aynı sıra numarası ile numaralandırılmıştı.
- B) Birbirimizden ayrılırsak başımıza bir iş gelir diye endişeleniyordu yedi arkadaş.
- C) Hayatını çeşitli bitkilerden imal ettiği parfüm ve bazı ilaçları satarak kazanıyordu.
- D) Su aramak için dışarı çıkmışken matarasını içeride unuttuğunu fark etti.

16) “Seçmek” sözcüğü aşağıdakilerin hangisinde “benzerleri arasında hoş gideni ayırmak” anlamında kullanılmıştır?

- A) Biz seni sınıf başkanlığına seçtik.
- B) O; yemek seçer, her şeyi yemezdi.
- C) Ben, okumak için bu kitabı seçtim.
- D) Bazı insanlar ileriye seçemez

Anlamca birbirinin tam tersi olan sözcüklere zıt (karşıt) anlamlı sözcükler denir.

Örnek: “gece” ve “gündüz” sözcükleri anlam olarak birbirlerinin tam karşıtıdır.

17) Buna göre aşağıdaki cümlelerin hangisinde karşıt anlamlı kelimeler bir arada kullanılmıştır?

- A) Arkadaşının şarkısına kaşlarının inişli çıkışlı devinmesiyle katılıyordu.
- B) Burcu'nun oraya gidip gitmediği kesin olmasa da orada olması güçlü bir ihtimaldi.
- C) Zorunlulukları değil, tercihleri önemsedim, olur olmaz yerlerde göğsüm kabarmadı.
- D) Yeryüzünde sözü geçer olmak, her zaman güçlü olmakla mümkün olmuştur.

Türkçeyi diğer dillerden ayıran en önemli özelliklerinden biri günlük hayatta deyim, atasözü ve özdeyişlerin sıklıkla kullanılması durumudur.

Aşağıdaki diyalogda “hapis kalmak” deyimini kullanılmış ve bu deyim anlamının yazılması gereken yer boş bırakılmıştır.

Hacivat : Sonra, takside hapis kaldım.

Karagöz : Ellerine kelepçe de vurdular mı Hacı Cavcav?

Hacivat : Kelepçe olur mu Karagöz’üm! Yani yol tıkanınca taksi --- ---. Ben de içinde kaldım.

18) Buna göre verilen deyim anlamı aşağıdakilerden hangisidir?

- A) Mahkûm olarak hapiste yatmak
- B) Bulunduğu yerden gidememek
- C) Gerekeni yapmak, çözüm yolu aramak
- D) Bir güçlüğü giderme çaresi, hâl çaresi aramak

Herkes için aynı olan, kanıtlanabilir, doğrulanabilir yargılara nesnel yargı; herkese göre değişebilen, kanıtlanamayan, doğrulanamayan yargılara ise öznel yargı denir.

19) Buna göre aşağıdaki cümlelerden hangisi kanıtlanabilirlik açısından diğerlerinden farklıdır?

- A) Oturduğumuz ev çok şirindi.
- B) Defteri çok az yapraklıydı.
- C) Konuyu çok güzel anlattı.
- D) Çalışkan, samimi bir çocuktü.

“-lık” yapım eki, isim kök veya gövdelerine eklenerek yeni bir isim gövdesi türetilip sözcüğe yeni anlamlar katar. Örneğin;

◆_Yer isimleri yapar: kömürlük, zeytinlik...

◆_Alet ve araç isimleri yapar: gözlük, başlık...

◆_Topluluk isimleri yapar: çamlık, ormanlık...

◆_Soyut isimler yapar: gençlik, insanlık...

◆_Sıfatlara gelerek durum bildiren isimler yapar: iyilik, açlık...

◆_Meslek isimleri yapar: öğretmenlik, avukatlık...

20) Buna göre aşağıdaki cümlelerin hangisinde “-lık” eki eklendiği sözcüğe “yer” anlamı katmamıştır?

A) Hasan dayım samanlıkta inekleri sağlıyordu.

B) Bahçedeki kulübeyi odunluk olarak kullanıyorduk.

C) Üç arkadaş derenin kenarındaki taşlıkta oturmuştu.

D) Bahçenin içindeki korkuluk, kargaları kaçırdı.

1) Bir apartmanda iki asansör bulunmaktadır. Arızadan dolayı ilk asansör sadece 3 ve 3'ün katlarında ikinci asansörde 4 ve 4'ün katlarında durmamakta diğer tüm katlarda durmaktadırlar. Bu arızaya rağmen apartman sakinlerinden tümü asansörleri kullanarak evlerine ulaştıklarına göre bu apartman kaç katlı olabilir?

A) 11 B) 12 C) 13 D) 14

2) Aslı arkadaşı Sevgi'ye sınıflarındaki öğrenci sayısını sorduğunda Sevgi sınıf mevcudumuz 330 sayısının asal çarpanlarının toplamı kadardır demiştir. Buna göre Sevgi'nin sınıfında kaç öğrenci vardır?

A) 19 B) 20 C) 21 D) 22

3) Bir çiçekçi elindeki çiçeklerini 6'şar ve 8'er gruptandırıyor fakat çiçeklerini 5'erli gruplara ayıramıyor buna göre bu çiçekçinin çiçek sayısı hangisi olabilir?

A) 240 B) 336 C) 480 D) 720

4) 1'den 200'e kadar olan sayıların bulunduğu bir tabloda İrem 9'un katlarını daire içine almıştır. Nazlı'da 12'nin katlarına çarpı işareti koymuştur Buna göre İrem ve Nazlı'nın ortak işaretlediği kaç sayı vardır?

A) 4 B) 5 C) 6 D) 7

5) 1258 sayısına hangi sayı eklenirse elde edilen sayı 3,5 ve 7 sayılarına tam bölünür?

A) 2 B) 3 C) 5 D) 7

6) 13, 14, 21, 22, 27, 42, 49, 55 sayılarının yazılı olduğu kartların bulunduğu kutudan Kerem 2'ye bölünenleri Yağmur 3'e bölünenleri Osman 5'e bölünenleri almıştır kutuda kalan kartların üstündeki sayıların toplamı kaçtır?

A) 27 B) 35 C) 49 D) 62

7) 160 cm ve 210 cm uzunluğundaki iki çubuk hiç artmayacak şekilde eşit uzunluktaki parçalara ayrılacaktır. Parça sayısı en az kaçtır?

A)35 B)36 C) 37 D)38

8) Rakamları birbirinden farklı üç basamaklı 2 ve 5 ile kalansız bölünen en büyük çift doğal sayı kaçtır?

A)980 B)985 C)986 D)987

9) 1'den 24'e kadar numaralandırılmış lambaların bulunduğu bir sitenin bahçesinde mavi düğmeye basıldığında 3'ün katları olan sayıların bulunduğu lambalar yanmakta, kırmızı düğmeye basıldığında ise 24 ün çarpanları olan sayıların bulunduğu lambalar yanmaktadır. Her iki durumda da yanan kaç lamba vardır?

A)3 B) 4 C)5 D)6

10) 100 kişilik bir salondaki seminerde konuşmacı olan Mehmet bey seyircilere 72 ve 48 sayısını kalansız bölebilen koltuktakiler sahneye çıksın lütfen demiştir. Sahneye en fazla kaç kişi çıkabilir?

A) 4 B) 5 C) 6 D)7

11) 291 sayısının kaç tane asal çarpanı vardır?

A)1 B)2 C)3 D)4

12) Aşağıdakilerden hangisi 150 sayısının asal çarpanlarına ayrılmış ifadesine eşittir?

A) $2 \cdot 3 \cdot 5^2$

B) $2^2 \cdot 3 \cdot 5^2$

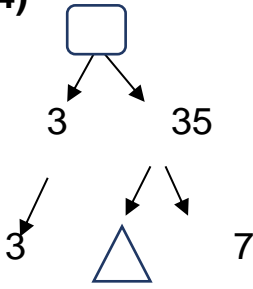
C) $2^2 \cdot 3^2 \cdot 5^2$

D) $2 \cdot 3 \cdot 5$

13) 60 ve 40 sayılarının en küçük ortak katı kaçtır?

- A)120
- B)150
- C)160
- D)200

14)



Yukarda verilen çarpan ağacına göre

$\square + \triangle$ işleminin sonucu kaçtır?

- A) 100
- B) 110
- C) 120
- D) 130

15) 30 ve 70 sayılarının en büyük ortak böleni kaçtır?

- A) 5
- B) 10
- C)15
- D)20

16) ?

2	2
2	3
3	3
3	5

Şeklinde asal çarpanlarına ayrılan sayı kaçtır?

- A)150
- B)160
- C)170
- D)180

17) Aşağıdaki sayı çiftlerinden hangisi aralarında asaldır?

- A) 13 ile 91
- B) 7 ile 133
- C) 9 ile 155
- D) 8 ile 140

18) 1 den 30 a kadar sayıların yazılı olduğu kartlardan Ayşe 24 sayısının bölenlerini maviye, Şengül 30 sayısının bölenlerini kırmızıya boyuyor. Buna göre aşağıdaki sayılardan hangisi hem kırmızı hem de mavi renge boyanmalıdır?

- A)15 B)12 C) 10 D)6

19)

$80 = 2^A \cdot 5^B$ ise A^B ifadesi kaç eştir?

- A) 4 B) 5 C) 6 D) 7

20) Aşağıda verilenlerden hangisi yanlıştır?

- A) 3 ile 13 aralarında asal sayılardır.
- B) 12 ve 18 sayılarının en küçük ortak katı 36 dır.
- C) 16 ve 50 sayılarının en büyük ortak böleni 2 dir
- D) Aralarında asal sayıların en küçük ortak katı 1 dir.

KAZANIM

ÜNİTE 1: Güneş Sistemi ve Tutulmalar

F.6.1.1.1. Güneş sistemindeki gezegenleri birbirleri ile karşılaştırır.

F.6.1.1.2. Güneş sistemindeki gezegenleri, Güneş'e yakınlıklarına göre sıralayarak bir model oluşturur.

F.6.1.2.2. Ay tutulmasının nasıl oluştuğunu tahmin eder.

F.6.1.2.3. Güneş ve Ay tutulmasını temsil eden bir model oluşturur.

ÜNİTE 2: Vücudumuzdaki Sistemler

F.6.2.1.1. Destek ve hareket sistemine ait yapıları örneklerle açıklar.

F.6.2.2.1. Sindirim sistemini oluşturan yapı ve organların görevlerini modeller kullanarak açıklar.

F.6.2.2.2. Besinlerin kana geçebilmesi için fiziksel (mekanik) ve kimyasal sindirime uğraması gerektiği çıkarımını yapar.

F.6.2.2.3. Sindirime yardımcı organların görevlerini açıklar.

1) Gezegenler içerisinde en fazla uyduya sahip olan hangisidir?

- A) Jüpiter B) Uranüs
C) Satürn D) Neptün

2) İl: Siirt

İlçe: Halanze

Okul: Naci Varola Ortaokulu

Sınıf: 6/A

Yukarıda verilen yerlerin aşağıdaki gezegenlerle eşleştirildiğinde

- Neptün
- Mars
- Dünya
- Venüs

Buna göre **Naci Varola Ortaokulu** hangi gezegenle eşleşir?

- A)Neptün B)Mars
C)Dünya D) Venüs

3) İl:Siirt

İlçe:Halanze

Okul:Naci Varola Ortaokulu

Yukarıdaki yerlerin büyüklüklerine bakılarak Güneş,Dünya ve Ay ile eşleştirildiğinde aşağıdaki sıralamalardan hangisi **Güneş tutulmasını** göstermektedir?

- A) Siirt Halenze Naci Varola Oraokulu
B) Halenze Siirt Naci Varola Ortaokulu
C) Siirt Naci Varola Ortaokulu Halenze
D) Naci Varola Ortaokulu Halenze Siirt

4) Venüs ile Uranüs arasında kaç gezegen vardır?

- A) 1 B) 2
C) 3 D) 4

5)

- I. Halkaları vardır
II. Gazlardan oluşmuşlardır.
III. Doğal uydusu vardır.
IV. Yıldız çevresinde dolanırlar.

Güneş Sistemi'ndeki tüm gezegenler için yukarıdakilerden hangileri doğrudur?

- A) Yalnız I B) I ve III
C) Yalnız IV D) I, II, III ve IV

6) Aşağıda Güneş Sistemi'deki gezegenlerden bazıları verilmiştir.



Gezegenler ok yönünde hangi özelliğine göre sıralanmıştır?

- A) Uydu sayılarına göre
B) Büyüklüklerine göre
C) Halka sayılarına göre
D) Güneşe uzaklıklarına göre

7)

Fen bilimleri dersinde Ahmet Öğretmen öğrencilere Destek ve Hareket sistemi ile ilgili şu bilgileri vermiştir.

Hayrunnisa: Vücudun dik durmasını sağlar.

Zehra: İç organları korur

Merve: Kan hücrelerini üretir

Gamze nur: Besinlerin kana geçişini sağlar.

Öğrencilerde hangisi konu ile ilgili yanlış bir bilgi vermiştir?

- A) Hayrunnisa B) Zehra
C) Merve D) Gamze nur

8)

- I. Düz kaslar yavaş ve düzenli çalışır
II. Kalp kasının çalışması Çizgili kasa, Görünüşü düz kasa benzer.
III. Çizgili kaslar hızlı çalışır, çabuk yorulur

Yukarıdaki ifadelerin hangileri doğrudur?

- A) Yalnız I B) I ve II
C) I ve III D) II ve III

9)

- I. İnce bağırsak
- II. Kol ve bacaklar
- III. Yemek borusu

Yukarıda bazı yapı ve organlar verilmiştir. Verilen yapı ve organları oluşturan kasların çeşidi aşağıdakilerin hangisinde doğru verilmiştir?

	I	II	III
A)	Çizgili	Düz	Çizgili
B)	Düz	Çizgili	Düz
C)	Düz	Düz	Düz
D)	Düz	Çizgili	Çizgili

10) Destek ve hareket sisteminin sağlığı için aşağıda verilenlerden hangisi yapılmamalıdır?

- A) Ders çalışırken dik durulmalıdır.
- B) Düzenli spor ve egzersiz yapılmalıdır.
- C) Sırt çantası tek omuzda taşınmalıdır.
- D) Yerden bir ağır bir yük kaldıracağımız zaman dizlerimizi bükerek kaldırmalıyız

11)

- I. Pazu kemiği
- II. Uyluk kemiği
- III. Kürek kemiği
- IV. Baldır kemiği

Yukarıda verilen kemiklerden hangileri uzun kemiktir?

- A) I ve II
- B) I, II ve III
- C) II, III ve IV
- D) I, II ve IV

12) Sindirim olayı mekanik ve üzere iki yolla gerçekleşir. Sindirim, çigneme ve kas hareketleriyle besinlerin küçük parçalara ayrılmasıdır. Kimyasal sindirim, besinlerin enzimler ve diğer maddeler sayesinde kana karışabilecek kadar küçük parçalara ayrılmasıdır.

Yukarıda noktalı yerlere sırasıyla ne gelmelidir?

- A) Fiziksel ve Kimyasal
- B) Kimyasal ve Kimyasal
- C) Kimyasal ve Fiziksel
- D) Fiziksel ve Fiziksel

13) Aşağıdaki cümleleri doğru veya yanlış olarak belirtiniz.

- Villuslar ile sindirilmiş besinler mideden kana karışır. _____
- Mineraller, vitaminler ve su sindirilmeden kana karışırlar. _____
- Yutakta kimyasal sindirim gerçekleşir. _____
- Mide öz suyunda bulunan enzimler proteinlerin mekanik sindirimini gerçekleştirir. _____

A) D	B) Y	C) Y	D) D
D	D	D	D
Y	Y	Y	Y
D	Y	D	Y

14)

1. Karbonhidrat a. Ağız
 2. protein b. İnce bağırsak
 3. yağ c. Mide

Besin içerikleri ve kimyasal sindirimlerinin başladığı yerleri eşleştirmek isteyen Murat nasıl bir eşleştirme yaparsa doğru yapmış olur?

- A)1-c B) 1-b C) 1-c D)1-a
 2-a 2-c 2-b 2-c
 3-b 3-a 3-a 3-b

15)

	Besin	Sindirim başladığı yer	Sindirim bittiği yer
I	Karbonhidrat	Ağız	İnce bağırsak
II	Protein	Ağız	Mide
III	Yağ	İnce bağırsak	İnce bağırsak

Yukarıdaki tabloda vücuda alınan besin maddelerinin sindiriminin başladığı ve bittiği yerler verilmiştir. Buna göre verilenlerden hangileri doğrudur?

- A) Yalnız I B) I ve II
 C) I ve III D) II ve III

16) Mide bezlerinden salgılanan hidroklorik asit ve enzimler aşağıdaki besinlerden hangisinin kimyasal sindiriminde rol oynar?

- A) Yağ B) Protein
 C) Nişasta D) Karbonhidrat

17)Aşağıda verilen organ çiftlerinden hangisinde mekanik sindirim gerçekleşir?

- A) Mide-yemek borusu
 B) Mide-ince bağırsak
 C) Ağız-yutak
 D) Ağız-yemek borusu

18)

- I. Karbonhidratlar
 II. Proteinler
 III. Yağlar
 IV. Vitamin
 V. Mineral
 VI. Su

Yukarıdaki besinlerden hangisi ince bağırsakta sindirime uğrar?

- A) I-II B) I-II-III
 C) I-II-III-IV D) IV-V-VI

19) Aşağıdaki tabloda mekanik ve kimyasal sindirim yapılan yerler ve sindirim türleri verilmiştir.

	Yer	Kimyasal Sindirim	Mekanik Sindirim
I	Mide	-	+
II	Yemek borusu	+	+
III	İnce bağırsak	+	+
IV	Ağız	+	-

(+ : Görülür , - : Görülmez)

Buna göre tabloda verilen bilgilerden hangileri yanlıştır?

- A) Yalnız I B) I ve II
C) II ve IV D) I, II ve IV

20) İnsandaki sindirim sistemi organları sırasıyla hangi şıkta doğru olarak verilmiştir?

- A) Ağız – Yutak – Yemek Borusu– İnce Bağırsak – Mide – Kalın Bağırsak – Anüs
B) Ağız – Yutak – Yemek Borusu – Mide– Kalın Bağırsak – İnce Bağırsak– Anüs
C) Ağız – Yutak – Yemek Borusu – Mide – İnce Bağırsak –Kalın Bağırsak– Anüs
D) Ağız – Yutak – Mide – Yemek Borusu – İnce Bağırsak -- Kalın Bağırsak – Anüs

Toplumun bireyden statüsüne uygun olarak beklediği durumlara **rol** denir. Doğduğumuz andan itibaren bir çaba sarf etmeden abla, kardeş, yeğen, vatandaş gibi rollere sahip olabiliriz. Sonradan ise anne, baba, doktor, sporcu gibi rolleri kazanabiliriz. Aynı anda birçok role sahip olabiliriz.

Roller,

Yaşa

•Mesleğe

• Cinsiyete göre değişebilir.

Roller beraberinde sorumluluklar getirir.

Sorumlulukları yerine getirmezsek düzen bozulur.

Ön yargı, bir kişi ya da olaya ilişkin yeterli bilgi edinmeden önceden peşin bir karara varma durumudur.

Ön Yargının Nedenleri

• Irkçılık

• Cinsiyet Ayrımı

• Siyasi Görüş

• Statü

• Sosyo-ekonomik Düzey

Ön yargı insanlar arası iletişimi olumsuz etkiler.

Empati ve hoşgörülü olmak, ön yargıların ortadan kalkmasını sağlar.

Kültür, toplumların kendilerine özgü olan ve gelecek nesillere aktarılan maddi-manevi değerlere denir.

Kültürü oluşturan unsurlar,

•Din

•Dil

• Tarih

• Gelenek-göreneklerdir.

Kültür sürekli değişim ve gelişim içindedir.

Kültürel değerler toplumda birlik ve beraberliğin sağlanmasında önemli rol oynar.

Millî Kültürü oluşturan unsurlar,

•Tarih

•Dil

•Gelenek-görenek

•Sanat

•Örf

• Din

BİRLİKTE DAHA GÜÇLÜYÜZ

• Toplum içinde yaşayan insanların tek başlarına çözemedikleri problemleri hep birlikte çözmeye çalışmaları yardımlaşmadır. Toplumda yardımlaşma ve dayanışma birlik beraberliği artırır.

• Dernek, vakıf, sendikalar, sivil toplum kuruluşları bu birlikteliğin sağlanmasında yardımcıdır.

• Dernek, vakıf, sendikalar, sivil toplum kuruluşları bu birlikteliğin sağlanmasında yardımcıdır.

Sivil Toplum Kuruluşları

• TEGV: (Türkiye Eğitim Gönüllüleri Vakfı)

Amaçları, devlet tarafından verilen temel eğitime destek olmaktır.

• **LÖSEV:** (Lösemili Çocuklar Sağlık ve Eğitim Vakfı)

Lösemili çocuklara yardımda bulunan vakıftır.

•**KIZILAY:**

Sel, deprem, yangın gibi felaketlerde, savaş anında ayrıca fakir olup yardıma ihtiyacı olan insanlara yardım eder.

•**DARÜŞŞAFKA:**

Babası, annesi hayatta olmayan maddi olanakları yetersiz, yetenekli çocukları okutan sivil toplum kuruluşudur.

Sorunlarımızın Çözümünü Biliyorum

Başkalarına zarar vermeden dilediğini yapabilmek özgürlüktür.

Hak ve özgürlüklerin sınırlandığı durumlar:

- Savaş
- Seferberlik
- Olağanüstü Hal

Bir şeyi yapabilme yetkisine hak denir. Doğuştan kazanılan haklara herkes sahiptir.

Yaşama, eğitim, seyahat hakkı gibi... Haklarımız ihlal edilirse dilekçe hakkını kullanarak sorunumuzu çözebiliriz.

Türklerin bilinen ilk yurdu Orta

Asya'dır. Orta Asya batıda Hazar Denizi, doğuda Kingan Dağları, kuzeyde Altay Dağları, güneyde ise Tibet Platosu ve Hindukuş Dağları arasında yer alır. Bu coğrafyada Türkler, İslamiyet'ten önce **Hun, Kök Türk ve Uygur** gibi devletler kurmuştur.

Orta Asya'nın Özellikleri:

- Coğrafi özellikler, bozkır kültürünün ortaya çıkmasında etkili olmuştur.
- Çadır, kilim ve demir bu kültürün önemli unsurlarındandır
- Halı, konargöçer yaşam tarzının vazgeçilmez eşyasıdır.
- Konargöçer bir hayat tarzı yaşamakta ve daha çok hayvancılık ile uğraşmaktaydılar.
- Türkler için "at" çok önemlidir ve ilk defa evcilleştirilmiştir.
- Gök Tanrı inancı vardır. Ölümden sonra hayata inanılır.
- Toplumun en küçük birimi aile idi. Aileler sülaleleri, sülaleler boyları, boylar milleti, millet de devleti oluştururdu.

Kurgan: Eski Türklerde ölen kişinin değerli eşyalarıyla birlikte gömüldüğü mezara kurgan denir.

Yuğ: Eski Türklerde cenaze töreni ve cenazede ağıt yakılmasına yuğ denir.

Töre: Örf ve adetlerle belirlenen sözlü hukuk kurallarıdır.

Kut: Hükümdara devleti yönetme yetkisinin Tanrı tarafından verildiği inancıdır.

Kurultay (toy): İlk Türk devletlerinde devlet işlerinin görüşülüp karara bağlandığı **meclistir.**

Hatun: Kağan'ın eşi

Balbal: Mezarların üstüne öldürdükleri insan sayısı kadar insan şeklinde dikilen taşlardır.

Orta Asya'dan Göçlerin Nedenleri:

Nüfusun artması ve otlakların azalması

Salgın hastalıklar

İklimin kurak olması, kışın şiddetli geçmesi

Komşu devletlerin saldırıları ve kendi aralarındaki mücadeleler.

ASYA HUN DEVLETİ (M.Ö 220-MS 216)

Tarihte bilinen **ilk Türk devletidir.**

Teoman tarafından kurulmuştur.

Teoman Türk boylarını tek bir yönetim altında toplamıştır.

Teoman döneminde Çinliler Türk akınlarını önlemek için **Çin Seddi'ni** yaptırdılar.

Devlet en parlak dönemini Metehan döneminde yaşamıştır.

Mete günümüz ordusunda kullanılan **onlu sistemi (10'lu Sistem)** kurdu.

Oğuz Kağan destanındaki Oğuz'un **Metehan** olduğu sanılmaktadır.

UYGUR DEVLETİ (745-840):

Bilge Kül Kağan tarafından kuruldu.

Devletin merkezi Karabalasagundur.

Türk tarihinde **yerleşik hayata geçen ilk uygarlıktır.**

İlk Türk mimari eserler olan saraylar ve tapınaklar bu dönemde yapılmıştır.

Resim, minyatür, heykel türü eserleri oluşturmuşlardır.

Kağıt ve matbaayı kullanan **ilk uygarlıktır.**

18 harften oluşan Uygur alfabesini kullanmışlardır.

Eşyayı kiraya verme, ortaklık kurma, iş sözleşmesi senedi gibi hukuki olayları gerçekleştirdiler.

Posta teşkilatı, vergi sistemleri kurmuşlardır.

Maniheizm dinini benimsemeleri

Türklük ve savaşçılık özelliklerinin yok olmasına neden olmuştur.

Türeyiş ve Göç Destanı Uygurlara aittir

1) Ali'nin babası elektrik faturasını ödemeyi unutmuştu ve bu sebeple Ali'lerin elektrikleri kesilmişti.

Bu durumda Ali'nin babası aşağıdakilerden hangisini yerine getirmemiş olur?

- A) Haklarını
- B) Özgürlüklerini
- C) Sorumluluklarını
- D) Düşüncelerini

2) Aşağıdaki cümlelerden hangisi olgu cümlesidir?

- A) Çok güzel bir araban var.
- B) Güneydoğu Anadolu bölgesi en küçük bölgemizdir.
- C) En sevdiğim renk beyazdır.
- D) Bence o, seni sevmiyor

3)Görüş: Kişiden kişiye göre değişen ve insanların bireysel düşüncelerine denir.

Buna göre aşağıdakilerden hangisi görüş tanımlamasına uygun bir örnek olabilir?

- A) İstanbul, Türkiye'nin en kalabalık şehridir
- B) İstanbul, Türkiye'nin en güzel şehridir
- C) İstanbul, Marmara Bölgesi'ndedir.
- D) İstanbul, tarihi bir şehirdir

4) Aşağıdakilerden hangisi yerleşme özgürlüğünün sınırlandırabileceği bir durum değildir?

- A) Nüfus sayımı yapmak
- B) Kamu mallarını korumak
- C) Suç işlenmesini önlemek
- D) Sosyal ve ekonomik gelişmeyi sağlamak

5)Olgu,doğruluğu ispat edilmiş bilgidir. Aşağıda verilen yargılardan hangisi bir olgudur?

- A)Herkes evinde kedi besler
- B)İnsanlar en çok yeşili sever
- C)Türkiye'nin başkenti Ankara'dır
- D) Dünya'nın en güzel şehri Ankara'dır

6) Aşağıdakilerden hangisi Sosyal Bilgiler dersinin bize kazandırdığı davranışlardan değildir?

- A) Hak ve özgürlüklerini bilen bir vatandaş olmayı öğretir.
- B) Ülkemizi ,ülkemizin zenginliklerini öğretir.
- C) Sorumluluk almayı,aldığı sorumluluğu yerine getirmeyi öğretir.
- D) Hastalık saçan mikroplarla mücadeleyi öğretir.

7)Aşağıdakilerden hangisi vatandaşların devlete karşı olan sorumluluklarından biridir?

- A)Bazı sivil toplum örgütlerine üye olmak.
- B)Kanunlara uymak.
- C)Kültürel etkinliklere katılmak.
- D)Siyasi parti kurmak

8) Aşağıdakilerden hangisi sosyal bilimler arasında yer alır?

- A)Tıp
- B)Biyoloji
- C)Kimya
- D)Sosyoloji

9)Büyük Hun devletiyle ilgili aşağıdakilerden hangisi yanlıştır?

- A) Devletin başında kağan bulunur
- B) Türk Ordusunu temellerini atmışlardır
- C) Orhun alfabetesini kullanmışlardır
- D) Oğuz kağan destanı Hunlara aittir

10)Aşağıdakilerden hangisi hunların yaşam biçimiyle ilgili değildir?

- A) Otlaklarda hayvan beslerlerdi
- B) Surlarla çevrili şehirlerde otururlardı
- C) Kendilerine ait toprakları vardı
- D) At, sığır, koyun beslerlerdi

Çinliler uzaydan dahi görülebilen Çin Seddini yapmışlardır

11)Bunun nedeni aşağıdakilerden hangisidir?

- A) Kuzey rüzgarlarından korunmak
- B) Büyük bir sanat eseri yapmak
- C) Gelecek nesillere bir eser bırakmak
- D) Kuzeyden gelecek Türk akınlarını önlemek

12)Orta Asya'da yaşayan Türkler büyük ölçüde hayvancılık yaparak yaşamlarını sürdürmüşlerdir.

Bu durumun etkisi aşağıdakilerden hangisinde en az görülür?

- A) Büyük şehirler kurmuşlardır
- B) Göçebe olarak yaşamak zorunda kalmışlardır
- C) Otlakların önemi çok büyük olmuştur
- D) Boylar arasında otlaklar yüzünden çatışmalar

13)Büyük Hun İmparatorluğunda ordunun on, yüz, bin gibi birliklere ayrılması hangi hükümdar döneminde olmuştur?

- A) Mete Han
- B) Teoman
- C)Bilge Kağan
- D)İstemi Kağan

14)Aşağıdakilerden hangisi Türk ordusunun özelliği ile ilgili değildir?

- A) Süratli ve isabetli karar verir
- B) Hedefi vurmada tam isabetlidir
- C) Verilen emre her zaman itaat eder
- D) Ülkemize dıştan gelecek tehditleri önemsemez.

15)Orhun yazıtları ile ilgili aşağıdakilerden hangisi söylenemez?

- A) Köktürk devletinin kuruluşu ile ilgili olaylar anlatılmıştır
- B) Bilge kağanın yaşamı anlatılmıştır
- C)Çinlilerin Türlerle ilgili ilişkileri anlatılmıştır
- D)Orhun yazıtları Anadolu 'da bulunmuştur

16)Köktürlere ait Paraların üzerinde kağan ve hatunun resmi bulunmaktadır”

Buna bağlı aşağıdakilerden hangisi söylenemez?

- A) Devlet yönetiminde kadın söz sahibidir
- B) Köktürklerde kadının hiçbir önemi yoktur
- C)Köktürklerde kadına önem verilmektedir
- D)Hatun kağanın en önemli yardımcısıdır

17)Tükler hangi savaşta Abbasilerin yanında yer alarak Çinlilere karşı savaşmışlardır?

- A) Talas savaşı
- B) Bedir savaşı
- C) Hendek savaşı
- D) Malazgirt savaşı

18)Kişinin kendi fikirlerini içeren ve kişiden kişiye değişen cümlelere ne cümlesi denir?

- A) Kavram
- B) Görüş
- C) Olgü
- D) Genelleme

19) Aşağıdakilerden hangisi sosyal bilgilerin sağladığı yaralardan birisi değildir?

- A) Haklarımızı ve sorumluluklarımızı öğreniriz.
- B) İyi bir vatandaş olarak yetişmemizi sağlar.
- C) Bedensel olarak gelişmemizi sağlar.
- D) İnsanlar arası yardımlaşmanın önemini öğreniriz

I.Kediler çok sevimlidir.

II. Papağan en güzel kuştur.

III. Cumhuriyet 29 Ekim 1923'te ilan edildi.

20) Yukarıdaki cümlelerden hangisi ya da hangileri görüü cümlesidir?

- A) Yalnız I
- B) I ve II
- C) II ve III
- D) Yalnız II

1) Allah tarafından inanç esaslarını, ibadet biçimlerini, ahlak kurallarını, Rabbimizin emir ve yasaklarını insanlara bildirmek, onlara iyiyi ve güzeli, doğruyu ve yanlışını açıklamakla görevlendirilmiş ve vahiyle desteklenmiş kişilere.....denir.

Aşağıdakilerden hangisi bu boşluğa gelirse doğru olur?

- a) Peygamber
- b) Melek
- c) Evliya
- d) İnsan

2) Aşağıdaki ayetlerin hangisi Allah'ın insanlara peygamberleri gönderiliş nedenini açıklar?

- a) 'Allah elçilik görevini kime vereceğini daha iyi bilir.'
- b) '(Yerine göre)müjdeleyici ve sakındırıcı olarak peygamberler gönderdik ki insanların peygamberlerden sonra Allah'a karşı (bizi imana çağıran kimse olmadı diye) bir bahaneleri olmasın !Allah izzet ve hikmet sahibidir.'
- c) 'Allah sabredenlerle beraberdir'
- d) Kitapta İdris'i de an. Hakikaten o, pek doğru bir insan, bir peygamberdi'.

3) Aşağıdakilerden hangisi Kur'an'da adı geçen peygamberlerden değildir?

- a) Hz. Bekir
- b) Hz. Lut
- c) Hz. Salih
- d) Hz. İbrahim

4) Kur'an'da en çok adı geçen firavunla mücadelesinde Allah'ın ona Hz. Harun'u yardımcı gönderdiği asası ile kızıl denizi yaran peygamber aşağıdakilerden hangisidir?

- a) Hz. Davut
- b) Hz. Salih
- c) Hz. Musa
- d) Hz. Muhammed

5) Hz. Muhammed'e daha peygamber olmadan önce Mekke halkı arasında doğru sözlülüğü, dürüstlüğü ve güvenilirliği sebebiyle Mekkeliler 'el Emin' yani güvenilir insan lakabı vermişlerdi. Bu durum peygamberlerin hangi özelliği ile ilgilidir?

- a) İsmet
- b) Tebliğ
- c) Emanet
- d) Fetanet

6) Aşağıdakilerden verilenlerden hangisi peygamberlerin gayret gösterdikleri amaçlardan biri olamaz?

- a) İnsanların ahlaklı yaşaması için çaba göstermek
- b) Kendisine inan insanlar için geniş ayrıcalıklar tanımak
- c) İnsanlara Allah'ın kendilerinden ne istediğini bildirmek
- d) Yaşamış oldukları toplumda adalet ve barışı sağlamak

7) Yaşadığı dönemde insanlar aralarındaki anlaşmazlıkları çözüme kavuşturması için her zaman Hz. Muhammed'e (a.s) başvurmuşlardır. Onun getirdiği çözümler kolayca benimsenmiştir.' Peygamberimizin bu durumu peygamberlerin hangi durumu ile ilgilidir?

- a) Emanet
- b) Fetanet
- c) Tebliğ
- d) İsmet

8) Peygamberler Allah'tan aldıkları vahyi eksiksiz olarak insanlara bildirirler. Buna göre aşağıdakilerden hangisi doğrudur?

- a) Peygamberler güler yüzlüdürler
- b) Peygamberler akıllı ve zekidirler
- c) Peygamberlerin tebliğ özelliği vardır
- d) Peygamberler güvenilirlerdir

9) Peygamberlere Allah tarafından Cebrail aracılığı ile gönderilen her türlü haber, ilahi emir ve kurallara ne ad verilir?

- a) Mushaf
- b) İbadet
- c) Vahiy
- d) Mucize

10) Mucize; peygamberlerin, kendilerine inanmayanlara, Allah'ın izni ile peygamberliklerini ispat etmek amacıyla gösterdikleri olağan üstü olaylara denir. Buna göre aşağıdakilerden hangisi yanlıştır?

- a) Hz. İbrahim'i ateşin yakmaması
- b) Hz. Musa'nın asasını yere attığında ejderhaya dönüşmesi
- c) Hz. İsa'nın ölüleri diriltmesi, körleri iyileştirmesi
- d) Hz. Muhammed'in günah işlememesi

11) Peygamberler Allah'ın emir ve yasaklarına tamamen uyarak günah işlemekten sakınırlar. Her peygamber yaşantısında Allah'a şirk koşma, içki, kumar, kul hakkı ve yalan gibi günahlardan hayatının her anında uzak durmuşlardır.' Buna göre peygamberlerin hangi özelliği vurgulanmıştır?

- a) İsmet
- b) Tebliğ
- c) Emanet
- d) Sıdk

12) Aşağıdakilerden hangisi 'şirk' ile ilgili verilen doğru bilgilerdendir?

- a) Allah'ı sevmek onun emir ve yasaklarına uymak
- b) Peygamberimizi örnek almak
- c) Kur'an-ı Kerim' i okuyup anlamaya çalışmak
- d) Allah'a inanmakla birlikte onunla beraber başka varlıkları da tanrı kabul etmek

13) Aşağıdakilerden hangisi 'Tevhid' ile ilgili doğru bilgilerdendir?

- a) Allah'a güvenmek
- b) Allah'ı görüyormuş gibi ibadet etmek
- c) Allah'a bağlanmak
- d) Allah'ı zatında, sıfatlarında ve fiillerinde birlemek, onun tek inanmak, hiçbir şeyi eş koşmadan, ibadeti sadece Allah'a yapmak

14) Aşağıdaki ilahi kitap eşleştirmelerinden hangisi yanlıştır?

- a) İncil Hz. Yusuf
- b) Kur'an Hz. Muhammed
- c) Tevrat Hz. Musa
- d) Zebur Hz. Davut

15) 'Geçmişte yaşamış her ümmet için mutlaka bir uyarıcı peygamber buluna gelmiştir'. Ayet mealinden aşağıdakilerden hangisi çıkarılabilir?

- a) Tarih boyunca insanları Allah'a çağıran birçok peygamber gönderilmiştir
- b) Peygamberler günah işlemekten kaçınırlar
- c) Peygamberlerde hayatlarında sıkıntı çekmiştir
- d) Dinin bazı kuralları peygamberler tarafından belirlenir

16) Aşağıdakilerden hangisi 'üsve-i hasene' kavramının doğru karşılığıdır?

- a) Doğru sözlü olmak
- b) Günahlardan kaçınmak
- c) En güzel örnek olmak
- d) Yardım sever olmak

17) Aşağıdakilerden hangisi Kur'an ile ilgili doğru bilgilerden değildir?

- a) Kur'an-ı Kerim ırk, renk, cinsiyet, milliyet ayrımı gözetmeksizin tüm insanlara gönderilmiştir
- b) Kur'an-ı Kerim, hükümleri ve ilkeleri tüm zamanlar için geçerli olan evrensel bir ilahi kitaptır
- c) Kur'an-ı Kerim ;610 yılının Ramazan ayının Kadir Gecesi'nde indirilmeye başladı
- d) Kur'an-ı Kerim sadece Allah'a nasil ibadet edeceğimizi bildirir

18) Aşağıdakilerden hangisi Kur'an ile ilgili doğru bilgilerden değildir?

- a) Kur'an 114 sureden oluşur
- b) Kur'an'ın ilk suresi Fatıha, son suresi ise Nas suresidir
- c) Kur'an'ın ilk indirilen ayetleri Alak suresinde yer alır
- d) Kur'an'ın en uzun suresi Kevser suresidir

19) 'O (Allah)ki yarattığı her şeyi güzel yapmış ve ilk başta insanı çamurdan yaratmıştır' ayetinde belirtilen ilk insan ve ilk peygamber olan aşağıdakilerden hangisidir?

- a) Hz. Nuh
- b) Hz. Davut
- c) Hz. Âdem
- d) Hz. Muhammed

20) Aşağıdakilerden hangisi kendisine 'suhuf' verilen peygamberlerdendir?

- a) Hz. Salih
- b) Hz. İlyas
- c) Hz. Zekeriyya
- d) Hz. Âdem

UNIT 2 : YUMMY BREAKFAST

1) Kübra : I have breakfast with my family every day.

Lily: Good! What do you eat for breakfast?

Kübra: Cheese, olive, egg.

Which of the followings Kübra **DOES NOT** eat at breakfast?

A)



B)



C)



D)



2) Emily: Do you like butter for breakfast?

Esra: Yes, I like healthy food.

Which of the followings **CAN BE** in the list of healthy food ?

A) Salami

B) chocolate

C) sausages

D) egg

3) Sibelfish and salad.

Kerem.....pancakes.

Which of the followings is **CORRECT** for the blanks?

A) likes / doesn't like

B) like / don't like

C) love / doesn't like

D) loves / don't like

4) Do you like orange juice?

-Yes ,

A) I don't like it.

B) it is my favorite.

C) I 'm sorry.

D) I don't love it.

5) Ali: Can I have some bagels?

Waiter:

Waiter: Do you want some omelette?

Ali: Yes,please.

Which of the followings is suitable for the blank?

- A) No,sorry. It is all gone.
- B) Enjoy it.
- C) No, thanks.
- D) I don't like it.

6) Gül: I like lemonade.. My father loves tea.

Mary: I love milk. My brother doesn't like it.

Who **DOES NOT LIKE** milk?

- A) Gül B) Mary's brother
- C) Mary D) Gül's father

7) Eda: Can I have some muffin with coffee?

Waitress: Sure.

Eda: Thanks.

Waitress:

Which of the followings completes the sentence?

- A) Yes, please.
- B) I don't like it.
- C) No, it is all gone.
- D) Enjoy it.

(Answer the questions below according to the text.)

I'm Deniz. I breakfast with my family every day. I eat cheese,boiled egg, honey and butter at breakfast.I sometimes eat bread with them. I like tea or orange juice. But my favourite is orange juice. My sister toast. She drinks tea with it.

8) A) have B) has
C) eats D) drinks

9) A) drink B) eat
C)drinking D) eats

10) A) likes B) don't like
C) love D) drinks

Answer the questions according to the text.

I am Caroline. I love having breakfast with my family in the mornings. I like having cheese and honey, but I don't like olives or cucumber. I love pasta with tomato souce. It is my favourite. I hate salami for breakfast. My brother John likes having jam and butter, but he doesn't like tomatoes or bagels. He loves croissants. It is his favourite. He hates olives. My mum likes having tomatoes and cucumbers, but she doesn't like sausages. She loves cheese. It is her favourite. She hates jam. My dad likes salamis, eggs and cheese, but he doesn't like jam or honey. He loves bagels. It is his favourite. He hates croissants.

11) Choose the best option according to the text above.

Caroline doesn't like...

- A) Cheese
- B) Honey
- C) Olives
- D) Pasta

12) According to the text, who hates olives?

- A) Mum
- B) Dad
- C) John
- D) Caroline

13) What is Caroline's mum favorite?

- A) Salami
- B) Egg
- C) Bagel
- D) Cheese

14) Which one is DIFFERENT?

- A) Bread
- B) Strawberry
- C) Bagel
- D) Cake

15) Which one is DIFFERENT?

- A) Grape
- B) Banana
- C) Tomato
- D) Apple

16) Zeynep: Can I have some cherry juice, please?

Nur: I'm sorry Would you like some orange juice?

Which of the following completes the conversation?

- A) It's all gone
- B) I'm full
- C) Enjoy your meal
- D) Excuse me

17) Burak: It's too hot. I'm Can I have a glass of water, please.





Furkan: Of course

Which of the following completes conversation?

- A) yummy
- B) thirsty
- C) full
- D) hungry

18) Read the sentence and match it with the correct Picture.

I don't like bagel.

- A) 
- B) 
- C) 
- D) 

19) A: Would you like some cake?
B: Yes,

Which of the following doesn't complete conversation?

- A) why not?
B) a little
C) I'm full
D) please

20) A: Hey honey look at me, I'm getting fat!

B: Don't eat

Which of the following completes conversation?

- A) diet food
B) slow food
C) junk food
D) healthy food

CEVAP ANAHTARI

TÜRKÇE

- 1) B
- 2) D
- 3) A
- 4) A
- 5) A
- 6) C
- 7) A
- 8) D
- 9) D
- 10) A
- 11) B
- 12) D
- 13) D
- 14) D
- 15) B
- 16) C
- 17) A
- 18) B
- 19) B
- 20) D

SOSYAL BİLGİLER

- 1) C
- 2) B
- 3) B
- 4) A
- 5) C
- 6) D
- 7) B
- 8) D
- 9) C
- 10) B
- 11) D
- 12) A
- 13) A
- 14) D
- 15) D
- 16) B
- 17) A
- 18) B
- 19) C
- 20) B

MATEMATİK

- 1) A
- 2) C
- 3) B
- 4) B
- 5) A
- 6) D
- 7) C
- 8) A
- 9) B
- 10) D
- 11) B
- 12) A
- 13) A
- 14) B
- 15) B
- 16) D
- 17) C
- 18) D
- 19) A
- 20) D

DİN KÜLTÜRÜ VE
AHLAK BİLGİSİ

- 1) A
- 2) B
- 3) A
- 4) C
- 5) C
- 6) B
- 7) B
- 8) C
- 9) C
- 10) D
- 11) A
- 12) C
- 13) D
- 14) A
- 15) A
- 16) C
- 17) D
- 18) D
- 19) C
- 20) D

FEN BİLİMLERİ

- 1) C
- 2) D
- 3) C
- 4) D
- 5) C
- 6) D
- 7) D
- 8) C
- 9) B
- 10) C
- 11) D
- 12) C
- 13) B
- 14) D
- 15) C
- 16) B
- 17) B
- 18) B
- 19) D
- 20) C

İNGİLİZCE

- 1) C
- 2) D
- 3) A
- 4) B
- 5) A
- 6) B
- 7) D
- 8) A
- 9) D
- 10) A
- 11) C
- 12) C
- 13) D
- 14) B
- 15) C
- 16) A
- 17) B
- 18) A
- 19) C
- 20) C

EMEĞİ GEÇEN ÖĞRETMENLERİMİZ

SİİRT MİLLİ EĞİTİM AR-GE BİRİMİ

MURAT EKİNCİ

Koordinatör Okul Müdürü

KÜBRA SARAN

Bilişim Teknolojileri Öğretmeni

ELİF BEŞTAŞ
LOKMAN SEDAY
PINAR GÜL KARATUT
Türkçe Öğretmenleri

ESRA KEZER ARSLAN
BAHAR BAKIR
Matematik Öğretmenleri

AHMET ALTUN
Fen Bilimleri Öğretmeni

MEHMET NEZİR TAKDEMİR
Sosyal Bilgiler Öğretmeni

SARİYE İDİN
**Din Kültürü ve Ahlak Bilgisi
Öğretmeni**

EYLEM AYDIN
BÜŞRA YİĞİT
İngilizce Öğretmenleri