



SIIRT İL MİLLİ EĞİTİM MÜDÜRLÜĞÜ

2020

ORTAOKUL

09 - 13 KASIM

5

ÖDEU TAKİP SİSTEMİ

0484 223 10 28

arge56@meb.gov.tr

siirt.meb.gov.tr

@mem_siirt

@siirtmem

ÜNİTE 2: MİLLÎ MÜCADELE VE ATATÜRK

KAZANIMLAR:

- T.5.3.6. Deyim ve atasözlerinin metne katkısını belirler.
- T.5.3.8. Kelimelerin zıt anlamlılarını bulur.
- T.5.4.5. Büyük harfleri ve noktalama işaretlerini uygun yerlerde kullanır.
- T.5.4.14. Kısa metinler yazar. (Mektup)

KONU ÖZETİ

Deyimler: Bir sözcüğün başka sözcüklerle birleşip kalıplaşması ile oluşan söz gruplarıdır. Deyimler, genellikle mecaz anlamlıdır. Ancak gerçek anlamlı olan deyimler de vardır. Deyimler kalıplaşmış sözlerdir. Bu nedenle deyimi oluşturan sözcüklerin yerine başka sözcükler getirilemez, sözcüklerin yerleri değiştirilemez.

Örnek: küplere binmek
burun kıvırmak
göz kulak olmak
karnı zil çalmak

Zıt (Karşıt) Anamlı Sözcükler: Anlam bakımından birbirinin karşıtı, tersi olan sözcüklerdir. Bir sözcüğün olumsuzluğu o sözcüğün karşıt anlamlısı değildir.

Örnek: kolay- zor
aşağı- yukarı
sıcak-soğuk
ağır-hafif

Mektup: Bir haberi, durumu, dileği uzakta olan birine iletmek amacıyla yazılan bir yazı türüdür. Mektuplar hitap cümlesiyle başlar. Haber, durum, dilek iletilir. İyi dileklerle bitirilir.

Büyük Harflerin Kullanıldığı Yerler

1)Cümleler büyük harfle başlar.

Örnek: Okulumu çok özledim.

2) Dizeler büyük harfle başlar.

Örnek: Korkma, sönmez bu şafaklarda yüzen al sancak;
Sönmeden yurdumun üstünde tüten en son ocak.

3) Kişi adlarıyla soyadları büyük harfle başlar.

Örnek: Mustafa Kemal Atatürk, Mehmet Akif Ersoy

4) Ülke, millet, dil adları büyük harfle başlar.

Örnek: Türkiye, Türk, Türkçe

5) Yer adları büyük harfle başlar.

Örnek: Siirt, Kooperatif Mahallesi

6) Belirli bir tarih bildiren gün ve ay adları büyük harfle başlar.

Örnek: 29 Ekim 1923

7) Hitap sözcükleri büyük harfle başlar.

Örnek: Değerli Öğretmenim,

8) Gezegen ve yıldız adları büyük harfle başlar.

Örnek: Dünya, Güneş

9) Resmi ve dini bayramlarla anma ve kutlama günlerinin adları büyük harfle başlar.

Örnek: Cumhuriyet Bayramı, Ramazan Bayramı, Anneler Günü

10) Hayvanlara verilen özel adlar büyük harfle başlar.

Örnek: Pamuk, Boncuk

1) “ Bu kadarlık da olsa yardım edelim de dedik.”
cümlesinde boş bırakılan yere aşağıdaki deyimlerden hangisinin yazılması daha uygun olur ?

- A) Bir baltaya sap olalım
- B) Çorbada tuzumuz olsun
- C) Canımızı dişimize takalım
- D) İçimize bir kurt düştü

2) Aşağıdakilerden hangisi deyim **değildir** ?

- A) Gözlerinin içi gülmek
- B) Kan ter içinde kalmak
- C) Üstün başarılı olmak
- D) Ağzını bıçak açmamak

3) Oğul : “ Zavallı kediye öyle görünce ”

Baba : “ Sen de dayanamadın eve getirdin. ”

Baba ve oğlunun arasında geçen diyalogda çocuğun cümlesinde boş bırakılan yere hangi deyim gelmelidir ?

- A) İçime kurt düştü.
- B) İçim geçti.
- C) İçim karardı.
- D) İçim sızladı.

4) Aşağıdaki atasözlerinin hangisinde zıt anlamlı kelimeler bir arada kullanılmıştır?

- A) Gülme komşuna gelir başına.
- B) Damlaya damlaya göl olur.
- C) Bugünün küçüğü, yarının büyüğü.
- D) Tatlı dil yılanı deliğinden çıkarır.

5) Aşağıdaki cümlelerin hangisinde zıt anlamlı kelimeler bir arada **kullanılmamıştır**?

- A) Bayram kutlamasına büyük küçük herkes katıldı.
- B) Sıcak soğuk demeden çalıştılar.
- C) Birlik ve beraberliğimize zarar verecek davranışlardan kaçınmalıyız.
- D) Buranın havası yaz kış değişmez.

6) **Zıt anlamlı** kelimelerin eşleştirilmesinde hangisi **yanlıştır** ?

- A) İhtiyar – çocuk
- B) Geniş – dar
- C) Şişman - zayıf
- D) Alçak - yüksek

7) Aşağıda büyük harflerin kullanımıyla ilgili verilen bilgilerden hangisi yanlıştır?

- A) Şiirlerde dizelerin ilk kelimesi büyük harfle başlar.
- B) Güneş, dünya ve ay isimleri bir gök cismi olarak kullanıldıkları zaman, büyük harfle başlar.
- C) Tüm noktalama işaretlerinden sonra gelen sözcükler büyük harfle başlar.
- D) Gazete, kitap, dergi isimleri büyük harfle başlar.

8) Aşağıdakilerin hangisinde büyük harflerin kullanımıyla ilgili bir yazım yanlışı yoktur?

- A) Nöbeti Cafer çavuş devraldı.
- B) Ahmet Mithat paşa, edebiyat hakemliği de yapmıştır.
- C) Aylin Hemşire çok iyi biridir.
- D) Sanki Mustafa Kemal paşayla beraberim.

9) Birbirinden uzakta bulunan gerçek kişiler arasında özel nitelikte haberleşmeyi sağlayan yazı türüdür.

Yukarıdaki ifade aşağıdakilerden hangisini anlatmaktadır?

- A) Dilekçe
- B) Özel mektup
- C) İş mektubu
- D) Edebi mektup

10) Alçak yerde tepecik kendini dağ sanır.
Baca eğri de olsa dumanı doğru çıkar
Acındırırsan arsız olur, acıktırırsan hırsız olur.

Dost başa, düşman ayağa bakar.

Numaralanmış atasözlerinin hangisinde karşıt anlamlı sözcükler bir arada kullanılmıştır?

- A) I ve III
- B) I ve IV
- C) II ve III
- D) II ve IV

11) “Savaş herkes için kötüdür.” cümlesindeki altı çizili sözcüğün zıt anlamlısı hangi şıkta yer almaktadır?

- A) iyi
- B) dostluk
- C) barış
- D) kardeşlik

12) “Basit - zor” kelimelerinin arasındaki anlam ilişkisi hangisinde vardır?

- A) beyaz - ak
- B) müsabaka - yarışma
- C) aşağı - yukarı
- D) özgürlük – hürriyet

13) Aşağıdaki cümlelerin hangisinde deyim, açıklamasıyla verilmiştir?

- A) Arkadaşlarının adını hiçbir zaman dilinden düşürmezdi.
- B) Bütün bu olaylar herkesi çok korkutmuş, dehşete düşürmüştü.
- C) Tüm işlerinin önemli olduğunu söylüyor, hiçbirini gözünde büyütüyordu.
- D) Çocukluğundan kalma eşyalarını gözü gibi sakınıyordu.

14) Bu çalışmaya başlamamızın can alıcı sebebi sorunların giderek büyümesidir.

Bu cümledeki altı çizili deyim anlamı aşağıdakilerden hangisidir?

- A)Sıradan
- B)Can sıkıcı
- C)Çok basit
- D)En önemli

15) Gizlediği bir şeyi sonunda söylemek anlamına gelen deyim aşağıdakilerden hangisidir?

- A) Dilinin bağı çözülmek
- B) Dilinin altındaki baklayı çıkarmak
- C) Dilinin ucuna kadar gelmek
- D) Dillere destan olmak

16) Kişi isimlerinden önce ve sonra gelen unvanlar, saygı sözleri, rütbe isimleri ve lakaplar büyük harfle başlar.

Bu açıklamaya göre, aşağıdaki cümlelerden hangisinde yazım yanlışı yapılmıştır.

- A)Komutanımız Binbaşı olmayı bekliyor.
- B)Köyde herkes onu Kara Halit diye tanırdı.
- C)Hasan Efendi sakin bir insandır.
- D)Tedavimi Doktor Harun yaptı.

17) Mahalle, meydan, bulvar, cadde sokak isimlerinde geçen "mahalle, bulvar, cadde, sokak" sözcükleri büyük harfle başlar.

Aşağıdaki cümlelerden hangisinde bu kurala uyulmamıştır?

- A)Araba sizin sokakta kaza yapmış.
- B)Meydana gelen su sızıntısı Barış Mahallesi'ndeymiş.
- C)Arkadaşımla Hürriyet Caddesi'nde karşılaştık.
- D)İleride, Kelebek sokakta terzi dükkanı var.

18) Aşağıdakilerden hangisinde mektup türüyle ilgili bir bilgi yanlışı vardır?

- A) Bir hitap sözü ile başlar.
- B) Girişte yazılış amacı belirtilir.
- C) Kağıdın sol üst köşesine imza atılır.
- D) Kağıdın sağ üst köşesine tarih yazılır.

19) Sevgili Anneciğim,

Geçen hafta gönderdiğin kışlık kıyafetlerimi yurdun görevlisinden teslim aldım. Buralarda havalar soğumaya başladı. Kalın giyinmeliyim. Zahmet edip ellerinle ördüğün çorap ve eldivenleri de göndermişsin. Kar yağmaya başlayınca onları da kullanacağım.

(....)

Bu metnin türü aşağıdakilerden hangisidir?

- A)Hatıra
- B)Mektup
- C)Anı
- D)Günlük

20) "Komşunun komşuya
.....görünür."

Yukarıda boş bırakılmış yerlere aşağıdakilerden hangisi sırasıyla getirilirse atasözü anlamlı bir şekilde tamamlanmış olur?

- A)kazanı – taş
- B)sarayı – konak
- C)horozu – civciv
- D)tavuğu – kaz

ÜNİTE 1 : DOĞAL SAYILAR

BÖLÜM 2 : DOĞAL SAYILARLA İŞLEMLER

Kazanım: Bir doğal sayının karesini ve küpünü üslü ifade olarak gösterir ve değerini hesaplar. En çok iki işlem türü içeren parantezli ifadelerin sonucunu bulur.

KONU ÖZETİ

Bir Sayının Karesi

Sayının kendisiyle çarpımına sayının karesini almak denir. Çıkan sonuçta sayının karesi olmuş olur. Örneğin 6^2 gibi gösterimler altının karesi diye okunur.

	Çarpım Şeklinde Gösterimi	Üslü İfade Olarak Gösterimi	Üslü İfadenin Okunuşu	Modeli	Üslü İfadenin Değeri
a)	2×2	2^2	2'nin karesi		4
b)	3×3	3^2	3'ün karesi		9
c)	5×5	5^2	5'in karesi		25

Yukarıda da görüldüğü gibi çarpımları verilen sayılar üslü ifade olarak gösterilmiş ve aynı zaman da modellenerek değerleri bulunmuştur. Aynı zamanda üslü ifadelerin okunuşları da bu tabloda gösterilmiştir.

Bir Sayının Küpü

Bir sayının kendisi ile iki kere çarpımı o sayının "küpü" şeklinde ifade edilir. Örneğin 3^3 üslü ifadesi "üçün küpü" şeklinde okunur.

Çarpım Şeklinde Gösterimi	Üslü İfade Olarak Gösterimi	Üslü İfadenin Okunuşu	Üslü İfadenin Değeri
$4 \times 4 \times 4$	4^3	4'ün küpü	64

Yukarıdaki tabloda da görüldüğü üzere hem çarpım hem de üslü ifade olarak gösterilen modelin okunuşu ve değeri de belirtilmiştir.

Parantezli İşlemler

Bazı işlemlerde +, -, x ve / nün yanı sıra parantezle de “()” karşılaşabiliriz. Parantez kullanılan işlemlere parantezli işlem ismi verilir.

Parantezli işlemleri çözebilmek için;

Önce parantezin içindeki işlemin sonucunu buluruz. Daha sonra parantezli ifadenin yerine işlem sonucunu yazarız.

Örnek: $3 + (2 \times 3)$ işleminin sonucunu bulalım.

Önce parantez içerisindeki işlem yapılır.

$3 + 6 = 9$ cevabı bulunur.

1. Aşağıdaki sayılardan hangisi bir doğal sayının karesi değildir?

- A) 1 B) 25 C) 42 D) 64

2. Küpü 8 olan sayının 3 fazlasının karesi kaçtır?

- A) 5 B) 11 C) 14 D) 24

3.

$$6 + 6 + 6 + 6 + 6 + 6$$

işleminin sonucu aşağıdakilerden hangisine eşittir?

- A) 2×6 B) 6^3 C) 3^2 D) 6^2

4. Aşağıdaki sayılardan hangisi hem bir doğal sayının karesi hem de başka bir doğal sayının küpüdür?


- A) 16 B) 25 C) 64 D) 100

5. 7^2 ifadesinin değeri aşağıdaki işlemlerin hangisine eşittir?

- A) 7×7
B) 7×2
C) $7 \times 7 \times 7 \times 7 \times 7$
D) $2 \times 2 \times 2 \times 2 \times 2$

6. Aşağıdaki eşitliklerden hangisi yanlıştır?

- A) $7^2 = 49$ B) $3^3 = 27$
C) $9^2 = 81$ D) $2^3 = 6$



7. Şekildeki birim kare sayısı aşağıdaki ifadelerden hangisi ile bulunabilir?

- A) 2^3 B) 3^3 C) 3^2 D) 4^2

8. Aşağıdaki sayılardan hangisinin değeri daha küçüktür?

- A) 3^3 B) 8^2 C) 4^2 D) 7^3

9.

$$(2^2 \times 6) - 4^2$$

İşleminin sonucu kaçtır?

- A) 5 B) 6 C) 7 D) 8

10.

$$1^3 \times 10^2$$

İşleminin sonucu kaçtır?

- A) 1 B) 10 C) 100 D) 1000

11. 5^3 işleminin sonucu 8^2 işleminin sonucundan kaç fazladır?

- A) 44 B) 61 C) 105 D) 189

12. Hangi sayının 2 eksiği 2'nin küpüne eşittir?

- A) 4 B) 10 C) 12 D) 16

13. I. $10^2 - 9^2 = 19$
 II. $5^3 - 5^2 = 100$
 III. $7^2 + 0^3 = 49$
 IV. $2^3 + 3^3 = 35$

Verilen eşitliklerden kaç tanesinin sonucu doğrudur?

- A) 4 B) 3 C) 2 D) 1

14. $4 \times (20 - 6)$ işleminin sonucu kaçtır?

- A) 24 B) 44 C) 56 D) 74

15. $4200 : (300 - 200)$

İşleminin sonucunun yarısı kaçtır?

- A) 18 B) 21 C) 27 D) 42

16. $(306 : 17) : 6$

İşleminin sonucu kaçtır?

- A) 1 B) 2 C) 3 D) 4

17. $240 : (100 + 20)$

İşleminin sonucu kaçtır?

- A) 1 B) 2 C) 3 D) 4

18. $24 \times (48 : 12)$

İşleminin sonucu kaçtır?

- A) 96 B) 124 C) 360 D) 400

19.

$$25 \times (10 + 8)$$

İşleminin sonucu aşağıdakilerden hangisine eşittir?

- A) $25 + (10 \times 8)$
- B) $(10 \times 25) + (10 \times 8)$
- C) $(25 \times 10) + (25 \times 8)$
- D) $(25 + 10) \times (25 + 8)$

20.

$$A \times (12 + 9) = 315$$

Verilen eşitlikte A yerine hangi sayı yazılmalıdır?

- A) 10 B) 15 C) 20 D) 25

ÜNİTE 1: GÜNEŞ,DÜNYA ve AY

KONU/KAVRAMLAR : Güneş, Dünya ve Ay 'ın Birbirlerine Göre Hareketleri

KAZANIM: Güneş, Dünya ve Ayın Birbirlerine Göre Hareketlerini Temsil Eden Model Hazırlar

KONU ÖZETİ

Güneş, Dünya ve Ay sürekli hareket halindedir. Bu hareketlerinin tümünü saat yönünün tersine(batıdan doğuya) yaparlar.

Güneş kendi etrafında dönme hareketi yapar.

Dünya; kendi ekseni etrafında dönme hareketi yaparken Güneş etrafında da dolanma hareketi yapar. Kendi ekseni etrafında dönme hareketini 24 saatte tamamlar ve sonucunda gece-gündüz oluşur. Güneş etrafında dolanma hareketini 365 gün 6 saatte(1yıl) tamamlar ve sonucunda mevsimler oluşur.

Ay, kendi ekseni etrafında dönme hareketi yapar ve bu hareketini 27 gün 8 saatte tamamlar. Ay Dünya etrafında dolanma hareketi yapar ve bu hareketini de 27 gün 8 saatte tamamlar. Ayın kendi ekseni etrafında dönme süresi ile Dünya etrafındaki dolanma süresi birbirine eşittir. Bu nedenle Dünyadan bakıldığında Ayın hep aynı yüzü görülür.

Ay, Dünya ile birlikte eş zamanlı olarak Güneş'in etrafında dolanma hareketi yapar ve bu hareket 365 gün 6 saatte tamamlar.

1.



Gece ve gündüz aşağıda verilen olaylardan hangisinin sonucunda oluşur?

- A) Dünya'nın kendi eksenini etrafında dönmesiyle
- B) Dünya'nın Güneş'in etrafında dolanmasıyla
- C) Ay'ın Güneş etrafında dolanmasıyla
- D) Ay'ın kendi eksenini etrafında dönmesiyle

2. Güneş, Dünya ve Ay sürekli hareket ederler. Bu hareketlerini

.....yönünde yaparlar. Noktalı yere aşağıda verilenlerden hangisi yazılmalıdır?

- A) Kuzeyden Güneye
- B) Doğudan Batıya
- C) Güneyden Kuzeye
- D) Batıdan Doğuya

3. Dünya'dan bakıldığında Güneş ve Ay'ın büyüklükleri birbirine yakın görünmektedir.

Bu durumun nedeni aşağıdakilerden hangisidir?



- A) Ay'ın Güneş etrafında dolanması
- B) Ay ve Dünya'nın aynı büyüklükte olması
- C) Güneş ve Ay'ın Dünya'ya farklı uzaklıkta olması
- D) Güneş ve Ay'ın kendi eksenini etrafında dönmesi

4. Dünya'nın kendi eksenini etrafında dönme süresi

 kadardır.

Dünya'nın Güneş etrafında dolanma süresi

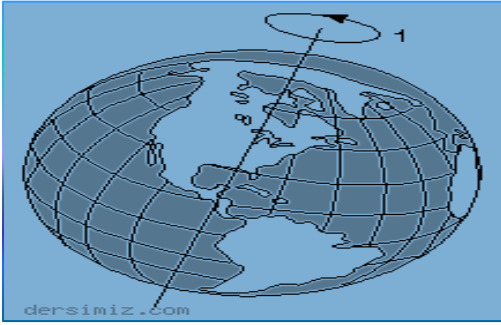
 kadardır.

Verilen cümlelerde  ve  ile gösterilen yerlere aşağıdaki ifadelerden hangisi gelmelidir?

- | | | |
|----|---|---|
| |  |  |
| A) | 365 gün | 6 saat |
| B) | 24 saat | 365 gün |
| C) | 27 gün | 365 gün |
| D) | 365 gün | 24 saat |

5. “Dünya’da bakıldığında Ay’ın hep aynı yüzü görülür.” Bu ifadenin temel nedeni aşağıdakilerden hangisidir?
- A) Ay’ın kendi eksenini etrafında dönme süresi ile Dünya etrafında dönme süresinin birbirine eşit olması
- B) Ay’ın Güneş etrafında dolanması
- C) Dünya’nın Güneş etrafında dolanma süresinin bir yıl olması
- D) Dünya’nın büyüklüğünün Ay’dan farklı olması

6.



Hazel Öğretmen Fen Bilimleri Dersi’nde Dünya’nın dönüş hareketini şekildeki gibi göstermiştir.

Buna göre;

- I. Dünya batıdan doğuya döner.
- II. Önce doğuya sonra batıya döner.
- III. Saat yönünün tersine döner.

Yargılarından hangisi ya da hangileri doğrudur?

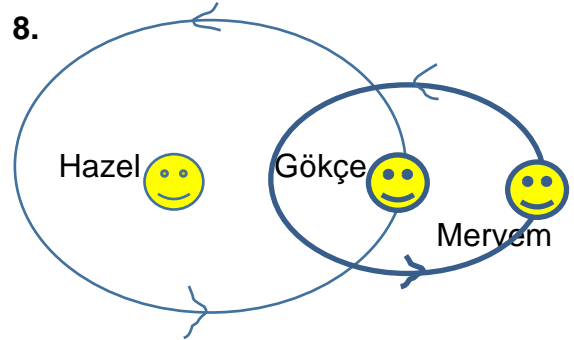
- A) Yalnız I B) I ve II
- B) C) I ve III D) I, II ve III

7. Güneş, Dünya ve Ay için verilen ifadelerden hangisi ya da hangileri **ortaktır**?

- I. Doğal ışık kaynağı olma
- II. Ay’ın etrafında dolanma
- III. Batıdan doğuya dönme

- A) Yalnız I
- B) Yalnız III
- C) I ve II
- D) II ve III

8.



Yukarıdaki görselde Hazel, Gökçe ve Meryem; Dünya, Güneş ve Ay’ın dolanma hareketlerini canlandırmaktadır. Buna göre öğrencilerin canlandırdığı gök cisimleri hangi şıkta verilmiştir?

<u>Güneş</u>	<u>Dünya</u>	<u>Ay</u>
A) Gökçe	Meryem	Hazel
B) Hazel	Meryem	Gökçe
C) Meryem	Hazel	Gökçe
D) Hazel	Gökçe	Meryem

9. Aşağıdaki tabloda Nazlı'nın sorulara verdiği cevaplar görülmektedir.

SORU	CEVAP
1.Güneş kendi eksenini etrafında dönme hareketi yapar mı?	EVET
2.Dünya, Ay etrafında dolanma hareketi yapar mı?	HAYIR
3.Ay, Güneş etrafında dolanma hareketi yapar mı?	HAYIR

Nazlı her doğru cevap için 20 puan alırken her yanlış cevap için 10 puan kaybediyor. Buna göre Nazlı kaç puan almıştır?

- A) 10 B) 20
C) 30 D) 40

10. **Esra;** Ay kendi eksenini etrafındaki dönme süresini 27 gün 8 saatte tamamlar.

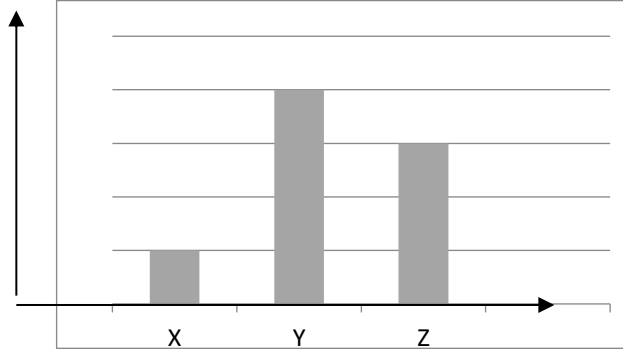
Fehmi; Ay, Dünya etrafındaki dolanma süresini 27 gün 8 saatte tamamlar.

Mert; Ay, Güneş etrafındaki dolanma süresini 365 gün 6 saatte tamamlar.

Esra, Fehmi ve Mert'in söylediği ifadelerden hangisi ya da hangileri doğrudur?

- A) Yalnız Esra
B) Esra ve Mert
C) Fehmi ve Mert
D) Esra, Fehmi ve Mert

11. Aşağıda Güneş, Dünya ve Ay'ın hareketlerine bağlı grafik verilmiştir.



- I. Dünya'nın kendi eksenini etrafında dönme süresi
II. Dünya'nın Güneş etrafında dolanma süresi
III. Ay'ın kendi eksenini etrafında dönme süresi

Buna göre I, II ve III numaralı öncüller hangi harfler temsil eder?

	I	II	III
A) Y	X	Z	
B) X	Y	Z	
C) Y	Z	X	
D) Z	X	Y	

12. Dünya'nın Güneş etrafında dolanma süresi.....I.....ve sonucunda.....II.....oluşur. Verilen cümlede noktalı ifadelere sırasıyla hangileri gelmelidir?

I

II

- | | |
|-----------|-------------|
| A) 365gun | gece-gündüz |
| B) 27gün | mevsimler |
| C) 365gün | mevsimler |
| D) 6 saat | gece-gündüz |

13. Ay kendi eksenini etrafında dönme, Güneş etrafında dolanma hareketi yapar. Buna bağlı olarak;

- I. Ay, kendi eksenini etrafında saat yönünün tersine döner.
- II. Ay'ın Dünya etrafındaki dolanma süresi 27 gün 8 saattir.
- III. Ay, Dünya ile birlikte Güneş etrafında eş zamanlı dolanma hareketi yapar. Verilenlerden hangileri doğrudur?

- | | |
|----------------|-------------|
| A) I,II ve III | B)I ve II |
| C) II ve III | D)Yalnız II |

14. I. 1 yıl=12 aydır.
- II. 1 yıl=365gün 6 saattir.
- III. 1 yıl= 52 haftadır.

Verilen bilgilerden hangisi ya da hangileri doğrudur?

- | | |
|-------------|----------------|
| A)Yalnız I | B) Yalnız II |
| C) I ve III | D) I,II ve III |

15. Aşağıda Güneş, Dünya ve Ay için bilgiler verilmiştir.

1. Güneş, Dünya, Ay sürekli hareket halindedir.

2. Ay, Dünya ile birlikte eş zamanlı olarak Güneşin etrafında dolanma hareketi yapar.

Buna göre verilen ifadeler için ne söylenebilir?

- A) Yalnız 1 doğrudur.
- B) Yalnız 2 doğrudur.
- C) Her ikisi de yanlıştır.
- D) Her ikisi de doğrudur.

16. Dünya'nın Güneş'e olan uzaklığı yaklaşık 150 milyon km , Ay'ın Dünya'ya olan uzaklığı 380bin.kmdir. Bu ifadeye göre aşağıdakilerden hangisi söylenebilir?

- A) Güneş, Ay ile aynı büyüklükte görülür.
- B) Ay, Dünya'dan büyük görülür.
- C) Güneş, Dünya ve Ay aynı büyüklüktedir.
- D) Ay'ın Dünya 'dan görülen yüzü sürekli değişir.

17.

I. Ay, kendi etrafındaki dönüşünü 29 günde mi tamamlar?

II.Ay'ın Dünya'dan görülen yüzü sürekli değişir mi?

III.Ay'ın Güneş etrafındaki dolanımı 29 günmüdür?

Aylin sorulan sorulara;

I.Soruya **Evet**
II. Soruya **Evet**
III.Soruya **Hayır** şeklinde yanıt vermiştir.

Buna göre Aylin hangilerinin cevabında hata yapmıştır?

- A) Yalnız II
- B) I ve II
- C) IIve III
- D) I,II ve III

18. 1.Ay'ın Güneş etrafında dolanma süresi

2. Ay'ın kendi etrafında dönme süresi

3. Dünya'nın Güneş etrafında dolanma süresi

4. Dünya'nın kendi etrafında dönme süresi .

Sürelerden hangi ikisi birbirine eşittir?

- A) 1 ve 2
- B) 1 ve 3
- C) 3 ve 4
- D) 2 ve 4

19. Aşağıdakilerden hangisi Dünyanın kendi etrafında dönmesinin sonuçlarından biri **değildir** ?

- A) Gölge boyu farklılıklarının oluşması.
- B) Gündüz - gece oluşumu.
- C) Gündüz - gece sıcaklık farkının oluşması.
- D) Mevsimlerin yaşanması.

20. Okula gelirken ve okuldan dönerken,
Güneş neden **aynı yerde değildir?**

- A. Dünya, Ay'ın etrafında dolandığı için
- B. Güneş, Dünya'nın etrafında dolandığı için
- C. Dünya kendi etrafında döndüğü için
- D. Güneş kendi etrafında döndüğü için

ÜNİTE 2: GEÇMİŞE YOLCULUK

2.BÖLÜM: ÜLKEMİZİN GÜZELLİKLERİ

KAZANIM 2:Çevresindeki doğal varlıklar ile tarihi mekanları, nesnelere ve eserleri tanır.

KONU ÖZETİ

Ülkemiz, en eski çağlardan itibaren önemli bir yerleşim merkezi olmuştur. Bunda hem iklimin yaşamaya elverişli olması; hem de verimli toprakların bulunması etkilidir. Yurdumuzun bu özellikleri tarih boyunca pek çok uygarlığa ev sahipliği yapmasını sağlamıştır.

Yurdumuzun her yöresi doğal güzellikleri ve tarihî mekânlarıyla oldukça ilgi çekicidir. Bu sebeple ülkemizi her yıl milyonlarca turist ziyaret eder. Ülkemize gelen turistler yurdumuzun tarihi eserlerini ve doğal güzelliklerini görmek ister.

Tarihi eserler, geçmiş uygarlıklardan bugüne kadar kalan din, bilim, düşünce, sanat, edebiyat ve mimari gibi alanlarda ortaya konan eserlerdir.

Saraylar, evler, köprüler, tiyatrolar, kaleler, camiler, hamamlar ve kervansaraylar tarihi eserlere örnek verilebilir.

TARİHİ GÜZELLİKLERİMİZDEN BAZILARI

- Selimiye Cami – Edirne
- Yeşil Türbe/Yeşil Camii – Bursa
- Efes Antik Kenti – İzmir
- Topkapı Sarayı – İstanbul
- Nemrut Harabeleri – Adıyaman
- Saat Kulesi/Artemis Tapınağı – İzmir

DOĞAL VARLIKLARIMIZ

Doğada insan eli değmeden oluşan ve gezilip görülebilecek özelliği olan unsurlara doğal varlık denir. Denizler, deniz kıyıları, adalar, doğal oluşumlar, göller, ırmaklar, ormanlar ve milli parklar turistlerin gezip konakladığı başlıca yerlerdir.

DOĞAL VARLIKLARIMIZDAN BAZILARI

- Harbiye Şelaleleri—Harbiye /Antakya
- Damlataş Mağarası - Antalya
- Pamukkale Travertenleri – Denizli
- Manavgat Şelalesi – Antalya
- Saklıkent – Muğla

1) Doğal varlıklar, doğanın kendisinde var olan coğrafi unsurlardır.

Bu açıklamaya göre aşağıdakilerden hangisi doğal varlıklardan sayılamaz?

- A)Dağlar B)Denizler
C)Köprüler D)Ormanlar

2) Aşağıdakilerden hangisi ülkemizin tarihi eserlerinden biri değildir?

- A)Selimiye Cami B)Topkapı Sarayı
C)Efes Antik Kenti D) Ağrı Dağı

3) Tarihi eserler, geçmiş uygarlıklardan günümüze kalan bilim,sanat,din ve mimari gibi alanlarda ortaya konan eserlerdir.

Buna göre aşağıdakilerden hangisi tarihi eserlerden biri olamaz?

- A)Orman B) Cami C)Saray D) Köprü

4) Aşağıdakilerden hangisi, insanların doğal çevreden faydalanmak için yaptıkları değişikliklere örnek verilemez?

- A) Yollar B)Barajlar
C)Köprüler D)Akarsular

5) **Mevlana Müzesi** hangi ilimizde yer almaktadır?

- A)İstanbul B) Ankara
C) Konya D) İzmir

6) Eski medeniyetlerden günümüze kadar gelen yapı ve eserlere **tarihi eser** denir.

Aşağıdakilerden hangisi tarihi eserlere örnek gösterilemez?

- A)Midas Anıtı B)Augustus Tapınağı
C)Van Gölü D)Hitit Güneş Kursu

7)



Yukarıda görseli verilen tarihi yapı hangi ilimizin sınırları içinde yer almaktadır?

- A)Konya B)Ağrı
C)Niğde D)Kayseri

9)Aşağıda verilen eşleştirmelerden hangisi **yanlıştır?**

- A)Selimiye Cami---Edirne
B)Damlataş Mağarası--- İzmir
C)Topkapı Sarayı----İstanbul
D)Abant Gölü---Bolu

10) Yurtdışından Siirt'e gelen bir turist aşağıdaki **doğal varlıklardan** hangisini **göremez?**

- A) Siirt Mağaraları
B) Billoris (Sağlarca) Kaplıcası
C) Botan Vadisi
D) Van Muradiye Şelalesi



8)

Hitit Güneş Kursu modeli hangi özelliğe sahiptir?

- A)Tarihi Nesne B)Doğal Varlık
C)Tarihi Mekan D)Tarihi Yapıt

11) Aşağıdaki **tarihi eserlerden** hangisi Siirt sınırları içerisinde **yer almaz?**

- A) Veysel Karani Türbesi
B) Siirt Ulu Cami
C) Saat kulesi
D) Anıtkabir

12)



Batman'a bağlı olan, iki yakasını Dicle'nin ayırdığı tarihi bir ilçedir. İlçenin tarihi, 12.000 yıl öncesine kadar gitmektedir. 1981'de doğal koruma alanı ilan edilmiştir. Ilisu Barajının su tutması sonucunda tarihi yerleşim 2020 yılı Mayıs ayında sular altında kalmıştır.

Yukarıda özellikleri verilen tarihi ilçemiz neresidir?

- A)Hasankeyf
- B)Göreme
- C)Marmaris
- D)Tatvan


13)



Yukarıda görseli verilen tarihi ve dini bir yapı olan **VEYSEL KARANI TÜRBESİ** hangi ilimizin sınırları içinde yer almaktadır?

- A) İstanbul
- B) Antalya
- C) Siirt
- D) Ankara

14)



Yukarıda görseli verilen ve geçtiğimiz yıl milli park ilan edilmesiyle Türkiye'nin 44. milli parkı olan, doğanın binbir rengini barındıran ve kartpostallık görüntüsüyle yılın her mevsiminde göz kamaştıran Siirt ilimizdeki vadi hangisidir?

- A) Botan Vadisi
- B) Ihlara Vadisi
- C) Kurtlar Vadisi
- D) Kelebekler Vadisi

15) Geçmiş dönemden günümüze kadar gelen ,tarihi ve sanatsal özelliklere sahip olan yapılara **tarihi mekan** denir.

Aşağıdakilerden hangisi tarihi mekana örnek verilebilir?

- A)Damlataş Mağarası
- B)Ağrı Dağı
- C)Çanakkale Boğazı
- D)Safranbolu Evleri

16) Aşağıdakilerden hangisi ülkemizin tarihi güzellikleri arasında **yer almaz**?

- A) Efes Antik Kenti
- B) Sümela Manastırı
- C) Eysel Kulesi
- D) Topkapı Sarayı

17) Aşağıdakilerden hangisi ülkemizin tarihi ve doğal güzellikleri arasında **yer alır**?

- A) Kapadokya
- B) Eysel Kulesi
- C) Pisa Kulesi
- D) Özgürlük Heykeli

18)



Göbeklitepe, İnsanlığın inşa ettiği ilk tapınak olma özelliği taşıyan alan, tarihin de yeniden yazımına neden oldu. Bilinen en eski yerleşim yerinin inşa edildiği bölge, turizme de kazandırılmış durumda...

Yukarıda özelliği verilen tarihi alan hangi şehrimizde yer alır?

- A) Şanlıurfa
- B) Siirt
- C) Batman
- D) İzmir

19)



Yukarıda görseli verilen ve Türkiye'nin en yüksek dağı olan dağ hangisidir?

- A) Erciyes Dağı
- B) Ağrı Dağı
- C) Nemrut Dağı
- D) Süphan Dağı

20) Aşağıdakilerden hangisi ülkemizin doğal güzelliklerinden biri **değildir**?

- A) Van Gölü
- B) Ihlara Vadisi
- C) Kapadokya
- D) Machu Picchu Antik Şehri

ÜNİTE 1: ALLAH İNANCI

1. BÖLÜM: 6. ALLAH İLE İRTİBAT: DUA

7. BİR PEYGAMBER TANIYORUM: HZ. İBRAHİM (a.s)

KAZANIMLAR: 5.1.6. Duanın anlamı ve önemini örneklerle açıklar.

5.1.7. Hz. İbrahim'in (a.s) tevhide davetini özetler.

KONU ÖZETİ

DUA: Dua kelimesi sözlükte, “çağırarak, seslenmek, istemek ve yakarmak” gibi anlamlara gelmektedir. Yüce Allah’a (c.c.) yalvarmak ve O’ndan birtakım isteklerde bulunmaktır. Dua, Allah (c.c.) ile kul arasında irtibatı sağlayan bir iletişim biçimi ve O’na olan güvenimizin bir göstergesidir. Allah (c.c.), “**Bana dua edin, duanıza karşılık vereyim.**” (*Mümin, 60*) diyerek dua etmemizi istemekte ve kendisinin de yapılan dualara karşılık vereceğini belirtmektedir.

Dua etmek için belirlenmiş bir vakit olmadığından her zaman dua edebiliriz. Ancak bazı vakitlerde edilen dualar Allah (c.c.) katında daha makbuldür. Örneğin; arefe günü, iftar vakti, bayram geceleri, kandil geceleri, cuma gecesi, farz namazlardan sonra ve cemaat hâlinde edilen dualar daha makbuldür.

Duaya euzü besmele, hamd ve şükür ile başlamalıyız. Dua içerisinde Allah’ın (c.c.) güzel isimlerini anmalı ve Hz. Peygamber’e salâvat getirmeliyiz. Bir iyilik isterken sadece kendimiz için değil ailemiz, arkadaşlarımız, sevdiklerimiz ve tüm Müslümanlar için de istemeliyiz. Dualarımızda vatanımızı, milletimizi, şehitlerimizi ve mazlumları unutmamalıyız. Nitekim Kur’an Kerim’de “**Rabbimiz! Hesap görülecek günde, beni, annemi, babamı ve tüm inananları bağışla.**” (*İbrahim, 43*) ayetiyle tüm inananlar için de dua edilmesi istenmiştir. Bütün bunların yanında duamızı samimiyet ve ihlasla yapmak çok önemlidir.

HZ. İBRAHİM (a.s): Tevhid inancının temsilcisi olan Hz. İbrahim (a.s.); Irak ve çevresi, Urfa, Harran, Filistin, Ken’an diyarı, Mısır ve Mekke’yi de içine alacak geniş bir coğrafyada yaşamıştır. “Halil” ve “Halilullah” lakapları verilmiş olan Hz. İbrahim’dir (a.s.). Halil “dost” ve Halilullah da “Allah’ın dostu” demektir. Çocukluğunda bile putlara tapmaktan uzak duran Hz. İbrahim, peygamber olduktan sonra bu bölgelerde insanları bir ve tek olan Allah’a (c.c.) inanmaya çağırmıştır. Ancak başta babası Azer olmak üzere yaşadığı toplumdan bazıları Hz. İbrahim’in (a.s.) bu çağırısına inanmayıp Allah’ı (c.c.) inkar etmişlerdir. Hatta Hz. İbrahim (a.s.) ile mücadele edip onu engellemek istemişlerdir. Ancak Hz. İbrahim (a.s.) tevhid mücadelesinden hiçbir zaman vazgeçmemiş yaşadığı her yerde insanları tevhide çağırmaya devam etmiştir. Bunların yanında Kur’an’da İbrahim suresi isimli bir sure de vardır.

KAVRAMLAR

Kâbe: İslam dinin en önemli sembollerinden biridir. Müslümanlar her namazda ona yönelirler. Ayrıca hac ve umre ibadeti yapılırken Kâbe'nin etrafı tavaf edilir. Kâbe, Hz. İbrahim (a.s.) ve oğlu İsmail (a.s.) tarafından yapılmıştır.

Kıssa: Kur'an-ı Kerim'de, geçmişte yaşamış toplumlar ve peygamberler ile ilgili anlatılan ibret verici hikâye ve olaylardır.

Hanif: Peygamberimiz henüz peygamber olarak görevlendirilmeden önce Arap Yarımadası'nda az sayıda da olsa Hz. İbrahim'in (a.s.) dini üzere yaşayan ve tevhid ilkesine bağlı olan kimseler vardı. Bu kimselere "Hanif" denilmekteydi.

Tevhid: Allah'ı (c.c.) zatında, sıfatlarında ve fiillerinde birleme, tek ve eşsiz olduğuna inanma, ona hiçbir şeyi şirk koşmadan ibadeti yalnızca Yüce Allah için yapma demektir.

İhlas: Her türlü dinî görevimizi sırf Allah (c.c.) için yapmak ve bütün işlerimizde samimi ve dosdoğru olmak demektir.

1) Aşağıdakilerden hangisi dua kavramının kelime anlamlarından biri **değildir**?

- A) Çağırarak B) İstemek
C) Selamlaşmak D) Yakarmak

2) Dua etmek ile ilgili aşağıdakilerden hangisi **yanlıştır**?

- A) Dua Allah'a yapılmalıdır.
B) Dua etmek ibadettir.
C) Dua her zaman edilebilir.
D) Dua sadece Cuma günü yapılır.

3) *Kullarım sana beni sorduklarında bilsinler ki şüphesiz ben yakınım, bana dua ettiğinde duacının dileğine karşılık veririm. Şu halde benim davetime gelsinler ve bana iman etsinler ki doğru yolu bulsunlar.* (Bakara, 186. Ayet)

Yukarıdaki ayette aşağıdakilerden hangisi **vurgulanmaktadır**?

- A) Allah'ın kullarına çok yakın olduğu ve dualara karşılık vermesi
B) Allah'ı her zaman hatırlamak
C) Allah'a şükretmek
D) Allah'ın merhametli olması

4) Aşağıdakilerden hangisi bir dua ifadesi olarak **kabul edilemez**?

- A) Allah'ım sana şükürler olsun.
B) Rabbim benim günahlarımı affet.
C) Allah'ım bana senin rızanı nasip et.
D) Rabbim iyi insanlara imreniyorum.

5) Dua ibadetin (Hz. Muhammed)

Yukarıdaki boşluğa aşağıdakilerden hangisi gelmelidir?

- A) özüdür. B) açıklamasıdır.
C) sesidir. D) içindedir.

6) *“(Ey Muhammed) de ki: Duanız olmasa Rabb'im size ne diye değer versin!* (Furkan, 77. Ayet)

Yukarıdaki ayette verilmek istenen mesaj nedir?

- A) Dua ederken abdestli olmak gereklidir.
B) Duasız hayatın Allah katında bir değeri yoktur.
C) Dua tüm insanlık için de yapılmalıdır.
D) Dua namazdan sonra edilmelidir.

7) Dualarımızı içimizden geldiği gibi ve en samimi bir biçimde doğrudan Allah'a (c.c.)

yönelmeliyiz. Allah'tan (c.c.) ne istediğimizi kesin bir şekilde belirtmeli ve asla ümitsiz olmamalıyız. Bunun için Peygamberimiz (s.a.s) şöyle buyurmuştur: *"Sizden biriniz dua ederken: 'Allah'ım! Dilersen beni bağışla; dilersen bana merhamet et.' demesin. Dilediğini kesin bir dille istesin."* (Buhari, Deavat, 21)

Yukarıdaki metinde vurgulanmak istenen konu nedir?

- A) Hz. Peygamber gibi dua etmek.
- B) Allah'a ne istediğimizi söylerken çekinmek.
- C) Allah'ın adını anarak duaya başlamak.
- D) Dua ederken Allah'tan kesin bir dille doğrudan istemek ve ümitli olmak.

8) Dua etmek için belirlenmiş bir vakit olmadığından her zaman dua edebiliriz. Ancak bazı vakitlerde edilen dualar Allah (c.c.) katında daha makbuldür.

Buna göre aşağıdakilerden hangisi bu vakitlerden biri **değildir**?

- A) Arefe günü
- B) Hafta sonları
- C) İftar vakti
- D) Kandil geceleri

9) Ferhat çok sevdiği yakın arkadaşı Fatih'in evine misafir olarak gitmiştir. Fatih de Ferhat'ı oldukça güzel bir şekilde misafir etmiş ve ona çeşitli ikramlarda bulunmuştur.

Buna göre, Ferhat arkadaşı Fatih'in evinden ayrılırken aşağıdaki dua ifadelerinden hangisini kullanmış olabilir?

- A) Allah rahmet eylesin.
- B) Allah şifa versin.
- C) Allah'a emanet ol.
- D) Allah bağışlasın.

10)

- I- Faydalı ilim
- II- Temiz rızık
- III- Güzel ahlak
- IV- Boş bir hayat

Peygamber efendimiz yapmış olduğu dualarda Yüce Allah'tan yukarıdakilerden hangilerini istemiştir?

- A) I ve IV
- B) II, III ve IV
- C) Yalnız III
- D) I, II ve III

11) “Mûsâ ‘Rabbim!’ dedi: Kalbime genişlik ver. İşimi bana kolaylaştır. Dilimden düğümü çöz ki sözümü iyi anlasınlar.” (Tâhâ, 25-28. Ayetler)

Yukarıda verilen ayette aşağıdakilerden hangisi **geçmez**?

- A) Allah’tan işini kolaylaştırmasını istenmektedir.
- B) Allah’tan bol rızık istenmektedir.
- C) Allah’tan sözlerinin iyi anlaşılması için dilinin düğümünü çözmesi istenmektedir.
- D) Allah’tan kalp genişliği istenmektedir.

12) Sanat eserlerimiz de dua örnekleri bakımından çok zengindir. Örneğin çeşme, evlerin kapı girişleri, cami kapıları ve mezar taşlarında da birbirinden güzel dua örnekleri yer almaktadır. Örneğin Üçüncü Ahmet tarafından yaptırılan bir çeşmede şöyle bir ifade yer almaktadır: “Aç besmeleyle iç suyu, Han Ahmet’e eyle dua!”

Yukarıda altı çizilen cümlede aşağıdakilerden hangisi ifade edilmektedir?

- A) Suyu Han Ahmet’in çeşmesinden iç.
- B) Besmele çekmeden Han Ahmet’in sudan iç.
- C) Han Ahmet dua bekler.
- D) Besmele çekerek suyu aç ve iç. Han Ahmet’e dua et.

13) Kur’an-ı Kerim’de geçmiş toplumlar ve peygamberler ile ilgili ibret verici birtakım olaylar anlatılmaktadır. Bu olaylara **ARGE** denir.

Yukarıdaki boşluğa aşağıdaki kavramlardan hangisi gelmelidir?

- A) Tevhid
- B) Kıssa
- C) Basar
- D) Semi

14) Aşağıdakilerden hangisi Hz. İbrahim için **söylenemez**?

- A) Kur’an’da ismi geçen peygamberlerden biridir.
- B) Hz. Muhammed’in (s.a.s) soyu ona dayanmaktadır.
- C) Tevhid inancına sahip bir peygamberdi.
- D) Babasının adı Hz. Süleyman’dır.

15) Peygamberimiz Hz. Muhammed (s.a.s) henüz peygamber olarak görevlendirilmeden önce Arap Yarımadası'nda az sayıda da olsa Hz. İbrahim'in (a.s.) dini üzere yaşayan ve tevhid ilkesine bağlı olan kimseler vardı. Bu kimselere denilmekteydi.

Yukarıdaki boşluğa hangisi gelmelidir?

- A)Tevhid B) Hanif
C)Tekbir D)Hatip

16) *Gecenin karanlığı onu kaplayınca bir yıldız gördü. "Rabbim budur" dedi. Yıldız batınca da "Batanları sevmem" dedi. Ayı doğarken görünce, "Rabbim budur" dedi. O da batınca, "Rabbim bana doğru yolu göstermezse elbette yolunu şaşırmış kimselerden olurum" dedi. Güneşi doğarken görünce, "Rabbim budur; zira bu daha büyük" dedi. O da batınca dedi ki: "Ey kavmim! ben, sizin (Allah'a) ortak koştuğunuz şeylerden uzağım." "Ben, O'nun birliğine inanarak yüzümü, gökleri ve yeri yoktan yaratan Allah'a çevirdim ve ben müşriklerden değilim." (En'am, 76-79. Ayetler)*

Yukarıdaki ayette hangi peygamberden bahsedilmektedir?

- A) Hz. İbrahim B) Hz. İsa
C) Hz. İsmail D) Hz. Nuh

17) Aşağıdakilerden hangisi Hz. İbrahim peygamberin sıfatı olan "halil" kelimesinin anlamıdır?

- A) Arkadaş B) Kardeş
C) Dost D) Kul

18) Aşağıdakilerden hangisinde bilgi yanlışlığı yapılmıştır?

- A) Hz. İbrahim Nemrut adındaki kral tarafından ateşe atılmıştır.
B) Hz. İbrahim ilk insan ve ilk peygamberdir.
C) Kabe Hz. İbrahim ve oğlu Hz. İsmail tarafından inşa edilmiştir.
D) Hz. İbrahim'in getirdiği din tevhid inancına dayanmaktadır.

19) Öğretmen: Sevgili öğrenciler, Hz. İbrahim ile ilgili neler biliyorsunuz?

Yukarıdaki soruya hangi öğrenci **yanlış** cevap vermiştir?

- A) Hz. İbrahim ateşe atılmıştır ancak ateş onu yakmamıştır.
- B) Kur'an'da İbrahim suresi isimli bir sure vardır.
- C) Hz. İbrahim'e 10 sayfa vahiy indirilmiştir.
- D) Hz. İbrahim peygamber olmadan önce putlara tapmaktaydı.

20) Allah'ı (c.c.) zatında, sıfatlarında ve fiillerinde birleme, tek ve eşsiz olduğuna inanma, ona hiçbir şeyi şirk koşmadan ibadeti yalnızca Yüce Allah için yapma demektir.

Yukarıda verilen tanım hangi kavrama aittir?

- A) Tevhid
- B) Tekvin
- C) Tekbir
- D) Tedbir

ÜNİTE 2: MY TOWN

KAZANIM: Students will be able to understand simple directions to get from one place.

KONU ÖZETİ

Her gün yapılan veya sık sık tekrarlanan, bu yüzden de alışkanlık haline gelmiş eylemlerin anlatılmasını öğreneceğiz. Aşağıdaki örnekleri dikkatle inceleyiniz.

I have lunch at school canteen. (Ben, öğle yemeğini okul kantininde yerim.)

He goes to school at eight o'clock. (O, saat sekizde okula gider.)

You do your homework at home. (Sen, ödevini evde yaparsın.)

We watch television at eight o'clock.(Biz, saat sekizde televizyon seyrediyoruz.)

İngilizce'de bu yapıya **The Simple Present Tense** denir. Bu kipi, Türkçe'ye **Basit Geniş Zaman** diye çevirebiliriz.

Geniş zaman kipiyle kurulmuş, öznesi üçüncü tekil kişi (**he, she, it ...**) olan olumlu bir cümlenin fiili sonuna - **s**, - **es**, - **ies** eklerinden birisini alır. Fiillerin çoğunun sonuna **s** eklenir.

Hakan gets up at eight o'clock.

Aysu returns home at five o'clock.

Son hecesi - **ch**, - **sh** veya - **x** ile biten fiillerin sonuna – **es** eki getirilir.

My sister watches television after school.(Kız kardeşim, okuldan sonra televizyon seyrediyor.)

Son iki harfi sessiz, son harfi – **y** olan fiilde bu harf kalkar ve yerine – **ies** eki getirilir.

Jill studies her lessons every day.

A pilot flies a plane.

1 - 5. sorularda boş bırakılan yerlere uygun gelen kelime ya da ifadeyi işaretleyiniz.



1. The cat is the library.

- A) next to B) in front of
C) behind D) opposite

2. **Kate** : Hello, is Sarah at home?

Jane : No, she isn't.

Kate :

Jane : She is at the cinema.

- A) Where is she
B) How old is she
C) How is she today
D) Where is she from

3. **Edward** : Excuse me, ?

Clara : No, but there is a café on the corner of the street.

- A) do you often go to the restaurant
B) what time do you have a snack
C) is there a restaurant near here
D) where is the nearest café

4. **Michael** : Excuse me sir - ?

Clark : Go straight ahead. Then turn right.
It's on your left.

- A) how can I go to the municipality
B) are you in the city centre
C) what is there near you
D) when does the bus stop

5. **Mom**: Where is your sister? She isn't at home.

Son: - - - -. She needs some books for her homework.

- A) It's on your right
B) She is at the library
C) You are welcome
D) Take the second right



6. Look at the sign above. Choose the correct option.

- A) It's on your left.
- B) Turn left!
- C) Go straight ahead!
- D) Turn right!

7. Thank you.

II. Excuse me, is there a supermarket near here?

III. You are welcome.

IV. Well, go straight ahead. Turn left. It's on your right.

Yukarıda karışık olarak verilen cümlelerin anlamlı bir bütün oluşturacak şekilde sıralandığı seçeneği işaretleyiniz.

- A) III - I - IV - II
- B) I - II - III - IV
- C) II - IV - I - III
- D) IV - III - II - I

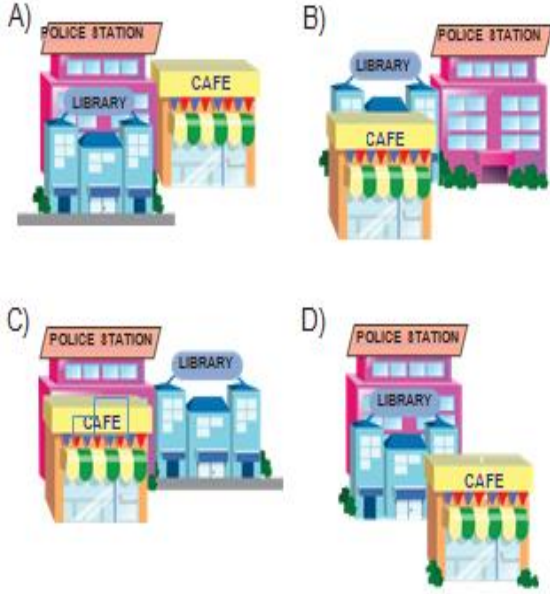
8. Aşağıda verilen eşleştirmelerden yanlış olanı işaretleyiniz.



9. Aşağıda verilen cümle-resim eşleştirmelerinden doğru olanı işaretleyiniz.



10. "The police station is behind the library and next to the café." cümlesini ifade eden resmin bulunduğu seçeneği işaretleyiniz.



11 - 12. soruları aşağıdaki resme göre cevaplayınız.



11. Where is Kevin?

- A) He's in the museum.
- B) He's in the library.
- C) He's at the hospital.
- D) He's at the toy shop.

12. Amy is at the - - - - .

- A) stationery
- B) school
- C) restaurant
- D) café

Aşağıdaki sorularda boş bırakılan yere uygun gelen kelime ya da ifadeyi işaretleyiniz.

13



The dog is _____ the box.

- A) in front of
- B) behind
- C) under
- D) on

14 Clara _____?

Mark : She's in the library with her classmates.

- A) How old is your mum
- B) How does she feel today
- C) Where is she from
- D) Where is your sister

15 Max _____? I need some pills.

Ann: It's next to the bus station, behind the supermarket. GE

- A) Is there a grocery near here
- B) Where is the nearest pharmacy
- C) How can I go to the bank
- D) What is there in front of the park

16 Steve : Hey, dad. Where is mum? She isn't at home.

Dad : - - - -. She needs some vegetables for dinner.

- A) She is at the supermarket
- B) She likes going to the library
- C) She is at home
- D) She goes to the bakery

17. Tourist: Excuse me, how can I go to the city museum?

Police officer : - - - -. It's on your right.

- A) There is a toy shop behind the city hall
- B) The stationery is next to the school
- C) Go straight ahead and turn left
- D) You are in the Tulip street

19- Playground ?

- A) Kız Kulesi
- B) Oyun Alanı
- C) Yakınlarda
- D) rtasiye

18



What does the sign above mean?

- A) Take the first left.
- B) Take the second left.
- C) Take the second right.
- D) Take the first right.

20- On your left?

- A) Restoran
- B) Sağında
- C) Solunda
- D) Önünde

19- Playground ?

- A) Kız Kulesi
- B) Oyun Alanı
- C) Yakınlarda
- D) Kırtasiye

TÜRKÇE

1. B
2. C
3. D
4. C
5. C
6. A
7. C
8. D
9. B
10. D
11. C
12. C
13. B
14. D
15. B
16. A
17. D
18. C
19. B
20. D

MATEMATİK

1. C
2. A
3. D
4. C
5. A
6. D
7. C
8. C
9. D
10. C
11. B
12. B
13. A
14. C
15. D
16. C
17. B
18. A
19. C
20. B

FEN B.

1. A
2. D
3. C
4. B
5. A
6. C
7. B
8. D
9. C
10. D
11. B
12. C
13. A
14. D
15. D
16. A
17. B
18. B
19. D
20. C

SOSYAL B.

1. C
2. D
3. A
4. D
5. C
6. C
7. B
8. A
9. B
10. D
11. D
12. A
13. C
14. A
15. D
16. C
17. A
18. A
19. B
20. D

DİN K.

1. C
2. D
3. A
4. D
5. A
6. B
7. D
8. B
9. C
10. D
11. B
12. D
13. B
14. D
15. B
16. A
17. C
18. B
19. D
20. A

İNGİLİZCE

1. B
2. A
3. C
4. A
5. B
6. C
7. D
8. A
9. B
10. C
11. D
12. C
13. A
14. D
15. B
16. A
17. C
18. C
19. B
20. C

EMEĐİ GEÇEN ÖĐRETMENLERİMİZ

AR-GE EKİBİ

MEHMET SALİH YILMAZ

MÜDÜR YARDIMCISI

HACER ARMAĐAN

BİLİŐİM TEKNOLOJİLERİ ÖĐRETMENİ

Abdulhalim ENÜCÜK- NeĐla ASLA

TÜRKÇE ÖĐRETMENİ

GökhanYILDIZ

MATEMATİK ÖĐRETMENİ

Büşra UR- Hatice BATUR

FEN BİLİMLERİ ÖĐRETMENİ

İsmail NAS Hüseyin BENEK

SOSYAL BİLGİLER ÖĐRETMENİ

MELTEM DANIŐ

İNGİLİZCE ÖĐRETMENİ

FERHAT ÇORAK

DİN KÜLT. VE AHLAK BİLGİSİ ÖĐRETMENİ