



SIIRT İL MİLLİ EĞİTİM MÜDÜRLÜĞÜ

2020

# ORTAOKUL

02 - 06 KASIM

# 5

ÖDEU TAKİP SİSTEMİ

0484 223 10 28

arge56@meb.gov.tr

siirt.meb.gov.tr

@mem\_siirt

@siirtmem

## 2.TEMA: MİLLÎ MÜCADELE VE ATATÜRK

- KAZANIM:** 1.Büyük harfleri ve noktalama işaretlerini uygun yerde kullanır.  
2.Metindeki söz sanatlarını tespit eder.(Kişileştirme)

### KONU ÖZETİ:

#### Soru İşaretinin Kullanım Alanları

#### 1.Soru eki veya sözü içeren cümle veya sözlerin sonuna konur.

Kurtuluş Savaşı'nda Türk kadınının payı nedir?

Bu akşam bize gelecek mi?

#### 2.Soru bildiren ancak soru eki veya sözü içermeyen cümlelerin sonuna konur.

Adınız?

#### 3.Bilinmeyen,kesin olmayan veya şüpheyile karşılanan yer,tarih vb. durumlar için kullanılır.

Yunus Emre(1240?-1320),(Doğum Yeri:?) vb. (Kesin olmadığını ve bilinmediğini ifade eder.)

Ankara'dan Antalya'ya arabayla üç saatte (?) gitmiş.(Şüphe ifade eder.)

#### UYARI:Soru ifadesi taşıyan sıralı ve bağlı cümlelerde soru işareti en sona konur.

İşini halledebildin mi,bitti mi her şey?

### KİŞİLEŞTİRME

İnsan dışındaki varlıklara insana ait özelliklerin kazandırılmasıdır.İnsan dışındaki varlıklara "düşünme,anlatma,ağlama,üzülme,kızma,gülme vb."özellikler verilir.

"Rüzgar uyumuş,ay gülüyor;her taraf ıssız." cümlesinde insana ait olan uyuma eylemi rüzgara,gülme eylemi ise aya aktarılarak kişileştirme yapılmıştır.

1."Nasıl filmlerden hoşlanırsın" cümlesinin sonuna hangi noktalama işareti getirilmelidir?

- A)Virgül B)Soru İşareti  
C)Nokta D)Üç Nokta

2.Aşağıdaki cümlelerin hangisinde noktalama yanlışı yapılmıştır?

- A) Beni neden aramıyorsun?  
B)Dik mi dik bir yokuşu tırmandık?  
C)Soruların cevabını bulabildin mi?  
D)Türkçe dersini sever misin?

3.Aşağıdaki cümlelerin hangisinin sonuna soru işareti(?) getirilmelidir?

- A)Bu evi onlar mı temizlemiş  
B)Her şeyi ona anlattım  
C)Sana çok şey borçluyum  
D)Güzel mi güzel bir iş çıkardık

4. Aşağıdaki cümlelerin hangisinin sonuna farklı bir noktalama işareti getirilmelidir?

- A)Ali okula gitti  
B)Derslerine çok çalıştı bugün  
C)Yarın denize gideceğiz  
D)Futbol kaç kişiyle oynanır

5) Aşağıdaki cümlelerin hangisinin sonuna soru işareti(?) getirilemez?

- A)Öğretmenimizin verdiği görevleri yerine getiremedik  
B)Cumhuriyet ne zaman ilan edildi  
C)Kaçınıcı katta oturuyor  
D)Dün beni mi aramış

6)"Kaçınıcı sınıfta okuyor" cümlesinde hangi noktalama işareti kullanılmalıdır?

- A)Ünlem B)Nokta  
C)Soru İşareti D)İki Nokta

7)Aşağıdaki cümlelerden hangisinin sonuna farklı bir noktalama işareti getirilmelidir?

- A)Bu kitabı hangi kırtasiyeden aldın  
B)Yıllardır ormanla iç içe yaşıyordun  
C)Macera romanlarını severim  
D)Kitap en iyi dosttur

8) Aşağıdaki cümlelerden hangisinin sonuna soru işareti getirilmelidir?

- A)Kapıda tatlı mı tatlı bir çocuk vardı  
B)Babam geldi mi hep birlikte sofraya otururuz  
C)Müdürle konuşmaya sen mi gideceksin  
D)Bana da bir simit alır mısın,dedi ablasına

9) "Bu ödevi üç(?)saatte hazırlamış." Bu cümlede yay ayrıç içinde kullanılan soru işaretinin kullanım amacı hangisidir?

- A) Bu ödevin daha kısa sürede yapıldığını vurgulamak için kullanılmıştır.
- B) Üç sayısının özellikle akılda kalması için kullanılmıştır.
- C) Ödevin üç saatte yapılmasını şüpheyle karşıladığını göstermek için kullanılmıştır.
- D) Yay ayrıç içinde hangi noktalama işaretinin gelmesi gerektiğini sormak için kullanılmıştır.

10) Aşağıdaki cümlelerden hangisinin sonuna farklı bir noktalama işareti gelmelidir?

- A) Bu kavgayı devam ettirmekteki amacın ne anlamıyorum
- B) Geçmişe dönmek mi daha güzel yoksa geleceğe bakmak mı
- C) Bunu neden yaptığını anlamayacağımı mı düşündün
- D) Neden bunu yaptığınızı kim anlatacak sen mi, o mu

11) Aşağıdaki cümlelerin hangisinde kişileştirme vardır?

- A) Ali'nin yürüyüşü sence de yengece bezemiyor mu yan yan?
- B) Bir gün de mutluluk yolunu şaşırıp bize misafir olsa.
- C) Bir of çeksem karşıki dağlar yıkılır.
- D) Ahmet bir aslan gibi kalabalığın içine daldı.

12) Aşağıdaki dizelerin hangisinde kişileştirme yapılmıştır?

- A) Bir ağacın dalları şefkat gösterir bize.
- B) Öğretmenimizin inci dişleri çok güzeldir.
- C) Bulutlar pamuk balyaları gibi yayılmışlardı.
- D) Fazla oyun oynayınca telefon bozulmuş.

Aslıma karışıp toprak olunca  
Çiçek olur mezarımı süslerim  
Dağlar yeşil giyer, bulutlar ağlar  
Gökyüzünde dalgalanır seslerim

13) Yukarıdaki şiirde kişileştirilen unsurlar hangileridir?

- A) Toprak – çiçek
- B) Bulutlar – sesler
- C) Dağlar – sesler
- D) Dağlar – bulutlar

Bir yağmur başlar gökyüzünde  
Bak da gör topraktaki sevinci.

14) Bu dizelerdeki söz sanatı aşağıdakilerden hangisidir?

- A) Benzetme
- B) Kişileştirme
- C) Konuşturma
- D) Abartma

Güzel bir kış akşamıydı.(1)Henüz ortalık yeni kararıyordu.(2)Gökyüzünün kızılıığı yeni kaybolmuştu.(3)Bulutlar tüle benzeyen eteklerini ağır ağır toplamaya başlamışken bir kuş yanımızdan geçiverdi.(4)

15) Parçanın hangi bölümünde kişileştirme yapılmıştır?

- A) 1
- B) 2
- C) 3
- D) 4

16) Aşağıdakilerin hangisinde kişileştirme yoktur?

- A) Çıkarım kürsüye, en iyi konuşmamı yaparım.
- B) Ağaçlar bizi saygıyla karşıladı.
- C) Sonbahar, son şarkısını söylüyor.
- D) Uzaktan uzağa ağlıyor çoban çeşmesi

17) "Bir serçe bitiverdi,önümde selam getirdi babamdan." cümlede hangi söz sanatı kullanılmıştır?

- A) Kişileştirme
- B) Benzetme
- C) Konuşurma
- D) Abartma

Baharda coşan bulanık sular  
Durmadan kendini taşlara vurur  
Eşinden ayrılmış bir geyik bağırır  
Dağlar ses verir inler

18) Dörtlükte hangi varlığa insana ait bir özellik verilmiştir ?

- A) Dağlar
- B) Geyik
- C) Taşlar
- D) Bahar

Islak kanatlarında güneşi taşıyor kuşlar,  
Badem çiçeklerine yağmur yağıyordu.  
Kadersiz şarkılar söylüyor rüzgar,  
Ümidin berrak eli gökten uzanıyordu.

19) Dörtlükte aşağıdaki varlıklardan hangisi kişileştirilmiştir?

- A) Kuş
- B) Badem çiçekleri
- C) Gök
- D) Rüzgar

Toplanırken göklerde bulutlar yığın yığın  
Hırçın bir fırtınaya dönüşüyordu deniz

20)Yukarıdaki dizede geçen "hırçın" sözcüğü hangi söz sanatının göstergesidir?

- A)Kişileştirme
- B)Benzetme
- C)Abartma
- D)Konuşurma

## ÜNİTE 1: DOĞAL SAYILAR

## BÖLÜM 2: DOĞAL SAYILARLA İŞLEMLER

**Kazanım:** Doğal sayılarla çarpma ve bölme işlemlerinin sonuçlarını tahmin der.

## KONU ÖZETİ

Gerçek yaşamda doğal sayılarla çarpma ve bölme işlemlerini zihinden yapmamızı gerektiren durumlarda sık sık karşılaşırız. Kimi zaman markette alışveriş yaparken kimi zaman okul harçlığımızla kantinden neler alabileceğimizi düşünürken zihinden çarpma ve bölme işlemlerini yaparız.

- ❖ Doğal sayılarla çarpma işleminin sonucunu tahmin etmek için yuvarlama yöntemi kullanılabilir.

Örnek:  $32 \times 47$  işleminin sonucunu tahmin edelim,

$$\begin{array}{l} 32 \times 47 = 1504 \text{ Gerçek sonuç} \\ \downarrow \downarrow \\ 30 \times 50 = 1500 \text{ Tahmini sonuç} \end{array}$$

İki sonuç arasındaki fark 4'tür.

Gerçek sonuç ile tahmini sonuç arasındaki farkın küçük olması gerçek sonuca yakın bir sonuç tahmin ettiğimizi gösterir.

- ❖ Üç veya dört basamaklı bir sayı iki basamaklı bir doğal sayıya bölerken sonucu tahmin etmek için bölünenin soldan ilk iki basamağını bölenin en yakın katına yuvarlayarak tahminde bulunuruz.

Aşağıda verilen örneklerdeki bölme işlemlerinin sonuçlarını tahmin edelim.

Örnek 1:  $523 \div 12$

$$\begin{array}{l} \downarrow \downarrow \\ 480 \div 12 = 40 \text{ olarak tahmin edilir.} \\ \downarrow \end{array}$$

12'nin 52'ye en yakın katı 48'dir.

Örnek 2:  $3672 \div 20$

$$\begin{array}{l} \downarrow \downarrow \\ 4000 \div 20 = 200 \\ \downarrow \end{array}$$

20'nin 36'ye en yakın katı 40'tır.

1.  $418 \times 19$

**Çarpma işlemindeki sayıları en yakın onluğa yuvarlanırsa tahmin sonucu kaç olur?**

- A) 8200 B) 8400 C)8500 D)8600

2.  $2317 \times 31$

**Çarpma işlemindeki birinci çarpım en yakın yüzlüğe ikinci çarpım en yakın onluğa yuvarlanırsa tahmini sonuç kaç bulunur?**

- A) 72000 B) 69900 C)68600 D)69000

3. Bir okulda covid-19 tedbirleri kapsamında günlük yapılan temizlik çalışmalarında su ve dezenfektan ürünleri tüketimi 197 litredir.

**Buna göre bu okulda 8 ayda tüketilen su ve dezenfektan ürünleri miktarı yaklaşık kaç litredir? (1 ay 30 gündür)**

- A) 42000 B)48000 C)50000 D)45000

4. Mehmet dayı ramazan ayında ihtiyaç sahibi ailelere günlük 502 ekmeğin yardımında bulunuyor.

**Mehmet dayı anlaştığı fırından ekmeğin tanesini 90 kuruşa alıyorsa 30 günlük Ramazan ayı boyunca tahmini kaç TL harcama yapar?**

- A)16000 B)17000 C)15000 D)20000

5. İbrahim amca, serasından topladığı 3360 kg domatesi kapasitesi 32 kg olan kasalara dolduracaktır.

İbrahim amcanın bu iş için kaç kasaya ihtiyacı olduğunu önce tahmin ediyor daha sonra gerçek sonucu hesaplıyor.

**Buna göre gerçek sonuç ile tahmini sonuç arasındaki fark kaçtır?**

- A) 3 B) 4 C) 5 D) 7

6.  $285 \times 429$

Yukarıdaki çarpma işlemindeki sayılar en yakın yüzlüğe yuvarlanarak sonuçları tahmin ediliyor. Buna göre tahmini sonuç kaçtır?

- A) 120000 B) 140000  
C) 150000 D) 100000

7. Aşağıdaki bölme işlemlerinin sonuçları tahmin edilirse hangi işlemin sonucu en büyük olur?

- A) 7413 : 25                      B) 8285 : 36  
C) 6256 : 13                      D) 6945 : 12

8.  $180 \times 20 = 3600$

Verilen çarpma işlemi sayılar en yakın onluğa yuvarlanarak yapılmıştır.

Bulunan tahmini çarpım aşağıdaki işlemlerden hangisinin sonucu olabilir?

- A)  $184 \times 19$                       C)  $187 \times 18$   
B)  $178 \times 25$                       D)  $185 \times 19$

9.  $5500 : 11 = 500$

Verilen bölme işleminde bölünen sayının soldan ilk iki basamağı bölenin en yakın katına yuvarlanarak yapılmıştır.

Bulunan tahmini sonuç aşağıdaki işlemlerden hangisinin sonucu olabilir?

- A)  $6434 : 11$                       C)  $5987 : 11$   
B)  $4831 : 11$                       D)  $3999 : 11$

10. Bir tiyatro gösterinde bilet fiyatları 12 TL'dir. Basılan tiyatro biletlerinden 204 tanesi satılıyor.

Bu satıştan elde edilen toplam para aşağıdaki sayı çiftlerinden hangisi arasında yer alır?

- A) 3000 ile 4000  
B) 2000 ile 3000  
C) 1000 ile 2000  
D) 500 ile 1000

11. Şehirlerarası bir otobüs terminalinde 4923 yolcu seyahat etmek için beklemektedir.

Buna göre terminalde bekleyen tüm yolcuların seyahat etmeleri için 48 yolcu kapasiteli otobüslerden yaklaşık kaç tane gereklidir?

- A) 90      B) 100      C) 110      D) 120



12.

- I. 58x30
- II. 62x20
- III. 47x40
- IV. 74x10

Yukarıdaki çarpma işlemlerindeki sayılar en yakın onluğa yuvarlanarak işlemlerin sonuçları tahmin ediliyor.

**Hangilerinin tahmini sonucu gerçek sonuçtan küçüktür?**

- A) I ve II B) II ve III C) III ve IV D) II ve IV

13. Bir şirkette yarı zamanlı çalışan işçilerin aylık maaş tutarı toplam 9852 TL'dir.

**Bu şirkette 12 işçi yarı zamanlı çalıştığına göre bir işçinin kazandığı ücret tahmini kaç TL'dir?**

- A) 800 B)850 C) 900 D)950

14. Okulların açılmasıyla birlikte covid-19 salgını kapsamında alınan önlemler TV ve Radyo yayınları vasıtasıyla milyonlarca kişiye 14 kural konusunda bilgilendirmiştir. Fevzi Çakmak Ortaokulu'nda pandemi için alınan tedbirleri araştıran 5. Sınıf öğrencisi Ahmet her öğrenciye günlük 2 adet maske dağıtılacağını öğrenmiştir.

**Buna göre okullar 02 Kasımda açılacak olup 1.Dönemde 11 hafta ve haftada 2 gün ders işlenecekse 872 öğrenci kapasiteli Fevzi Çakmak Ortaokulu öğrencilerine yaklaşık kaç maske dağıtır?**

- A) 26600 B)30200 C)32800 D)34800

15. Bir manav halden aldığı elmanın kilosunu 5 TL den satmak istiyor. Her kasada 22 kg kapasiteli ve manav 28 kasa elma sattığına göre kaç TL kazanır?

- A) 2500 B) 2800 C)3000 D) 3500

16.  $6854 \div 33$

**Bölme işleminin tahmini sonucu kaçtır?**

- A)200 B) 220 C) 240 D) 300

- I.  $663 \div 13$   
II.  $768 \div 24$   
III.  $560 \div 16$   
IV.  $861 \div 21$

17. Yukarıdaki bölme işlemlerinin sonucunu tahmin etmek isteyen Duru hangi öncüllerdeki bölmelerin gerçek sonucu ile tahmini sonucu arasındaki farkı 3' ten küçük bulur?

- A) I ve II B) I ve III C) I, II ve IV D) I ve IV

18.  $256 \times 124$

Yukarıdaki çarpma işleminde çarpanlar en yakın onluğa yuvarlanırsa sonuç yaklaşık kaç bulunur?

- A) 31200 B) 32000 C) 33200 D) 34000

19. 5642 sayısını en yakın yüzlüğe ve 73 sayısını en yakın onluğa yuvarlanırsa tahmini sonuç kaç bulunur?

- A) 70 B) 80 C) 85 D) 90

20. Bir okulda her öğrenci 14 kg kağıdı geri dönüşüme kazandırmak için yıl sonunda okul idaresine teslim etmiştir.

Okulda toplamda 8390 kg atık kağıt geri dönüşüme kazandırıldığına göre okulda yaklaşık kaç öğrenci öğrenim görmektedir?

- A) 900 B) 800 C) 700 D) 600

ÜNİTE 1: GÜNEŞ, DÜNYA VE AY

4.BÖLÜM: GÜNEŞ DÜNYA VE AYIN BİRBİRLERİNE GÖRE HAREKETLERİNİ TEMSİL EDEN BİR MODEL HAZIRLAR

**KAZANIM 1:**Ayın Dünyanın etrafında dolanma yönünü belirtir

**KAZANIM 2:**Dünyanın Güneş etrafındaki dolanma yönünü belirtir.

**KAZANIM 3:**Dünyadan bakıldığında Ayın aynı yüzünün görüldüğü belirtir

### KONU ÖZETİ

Dünya ,Güneş ve Ay'ın dönüş yönünü tanımlamada akrep ve yelkovanın hareket yönü kullanılır.Saat yönünün tersi dönüş akrep ve yelkovanın zıttı yönde döndüğünü ifade eder.

**Güneş'in temel hareketi:**Kendi etrafında dönme yönü saat yönünün tersi yönündedir.

**Dünya'nın temel hareketi:**

1-Kendi etrafında dönme yönü saat yönünün tersi yönündedir.(Hareket süresi 24 saat)

2-Güneş'in etrafında dolanma yönü saat yönünün tersi yönündedir.(Hareket süresi 365gün 6 saatte)

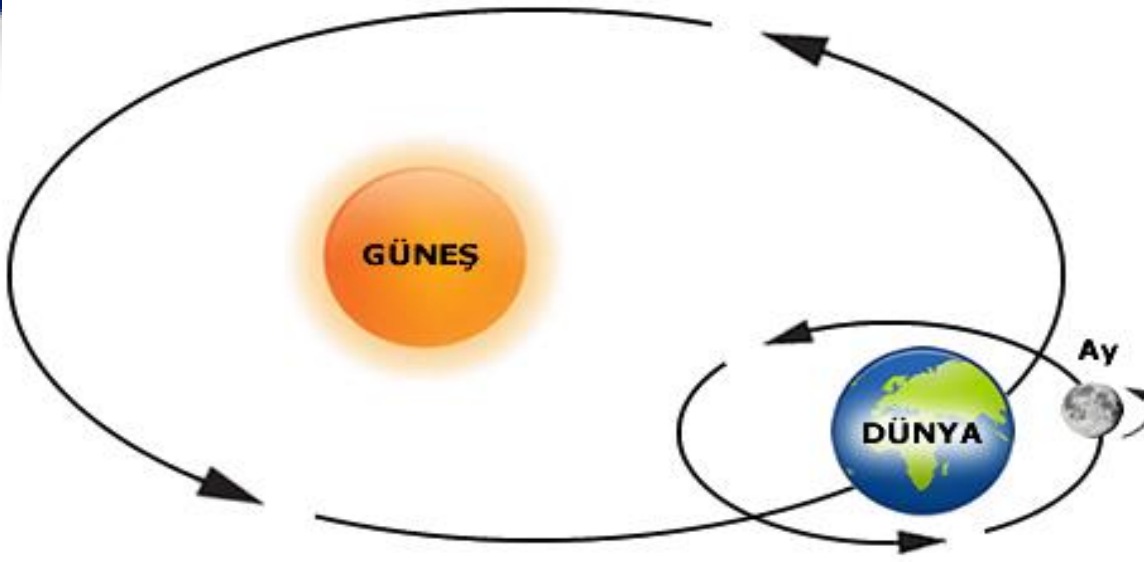
**Ay'ın temel hareketi:**

1-Kendi etrafında dönme yönü saat yönünün tersi yönündedir.(Hareket süresi 27 gün 8 saat)

2-Dünya'nın etrafında dolanma yönü saat yönünün tersi yönündedir.(Hareket süresi 27 gün 8 saat)

3-Dünya ile eş zamanlı Güneş'in etrafında dolanma yönü saat yönünün tersi yönündedir.(Hareket süresi 365 gün 6 saat)

**NOT:**Ay'ın kendi eksenini etrafında dönme süresi=Ay'ın Dünya'nın etrafında dolanma süresi (Hareket süresi 27 gün 8 saat ) Bu nedenle Dünya'dan ayın hep aynı yüzü görülür.



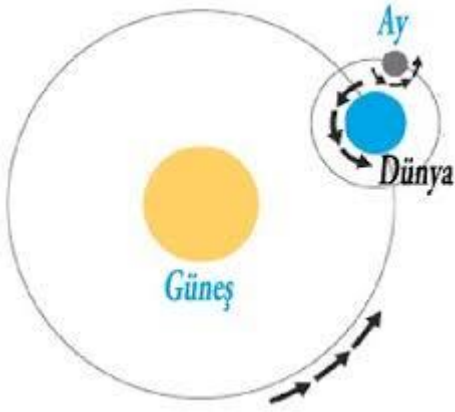
1)

Dünya Güneş'in etrafında .....1..... hareketi yapar,kendi etrafında ise.....2..... hareketini yapar.

**Buna göre 1 ve 2 ile gösterilen ifadeler hangi seçenekte doğru verilmiştir?**

1	2
A)dolanma	dolanma
B)dönme	dolanma
C)dönme	dönme
D)dolanma	dönme

2)



**Dünya'nın hareketi ile ilgili yukarıda verilen görsele göre hangisi doğru ifadedir?**

- A)Dünya kendi etrafında dolanma hareketi yapar.
- B)Dünya Güneş etrafında dönme hareketi yapar.
- C)Dünya Ay etrafında dolanma hareketi yapar.
- D)Dünya Güneş etrafında dolanma hareketi yapar.

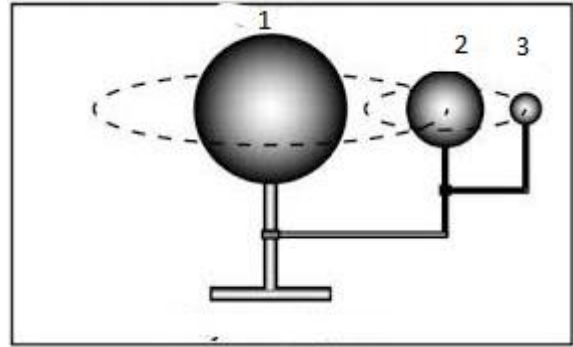
3)

- 1-Dönüş hareketi yapmaları
- 2-Dönüş yönlerinin aynı olması
- 3-Küre şeklinde olmaları

**Verilen ifadelerden hangileri Dünya ,Ay ve Güneş için ortak özelliklerdir?**

- A)Yalnız 1
- B)2 ve 3
- C)1ve 2
- D)1,2ve 3

4)



Mina, fen öğretmenin verdiği ödev olan Güneş ,Dünya ve Ay'ın birbirlerine göre hareketini temsil eden bir model hazırlıyacaktır.**Görsele 1 ,2 ve 3 yerine gelecek ifade hangi seçenekte doğru verilmiştir?**

1	2	3
A)Dünya	Ay	Güneş
B)Güneş	Dünya	Ay
C)Ay	Güneş	Dünya
D)Güneş	Ay	Dünya

5) Ay'ın Dünya etrafında dolanma süresi hangi seçenekte doğru verilmiştir?

- A)27,3 gün      B)25,3 gün  
C)28,3gün      D)29,3gün

6) Güneş Dünya ve Ay ile ilgili aşağıdaki ifadelerden hangileri doğrudur?

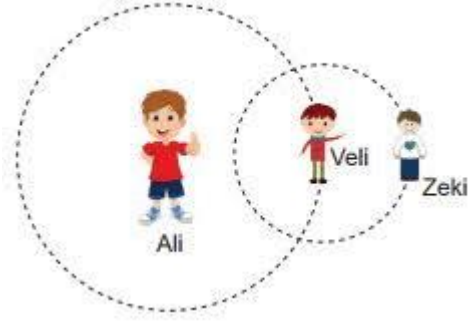
1-Ay Dünya ile eş zamanlı olarak Güneş'in etrafında döner.

2-Ay'a Dünya'dan bakıldığında hep aynı yüzü görülür.

3-Güneş Dünya'nın etrafında dolanma hareketi yapar.

- A)Yalnız 1      B)1ve 2  
C)2ve 3      D)1,2ve 3

7)



Ali,Veli ve Zeki öğretmenlerinin verdiği ödevi yapabilmek için Güneş,Dünya veAy'ı temsil eden bir oyun kuruyor.

Ali:Benim adım Güneş Dünya'nın etrafında dolanırım.

Veli:Benim adım Dünya Güneş'in etrafında dolanırım.

Zeki:Benim adım Ay kendi etrafımda dönerim.

Öğrencilerin verdiği bilgilerden hangileri doğrudur?

- A)Ali ve Veli  
B)Veli ve Zeki  
C)Ali ve Zeki  
D)Ali,Veli ve Zeki

8)



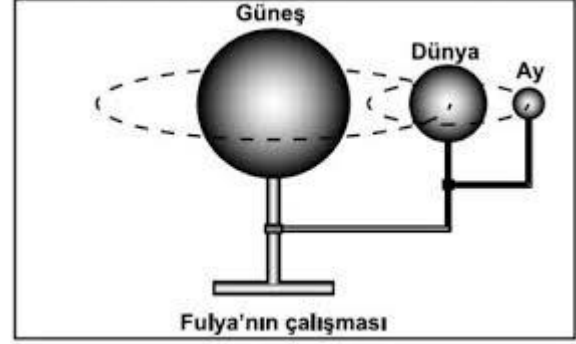
Yukarıda verilen bilgiler doğrultusunda hangi çıkışa ulaşılır?

- A)1 B)2 C)3 D)4

9) Dünya'dan bakıldığında Ay'ın neden hep aynı yüzü görülür?

- A)Ay'ın kendi etrafında dolanmasından  
B)Ay'ın kendi eksenini etrafında dönme süresi ile Ay'ın Dünya etrafında dolanma süresinin eşitliğinden  
C)Ay'ın Güneş'in etrafında dolanma hareketi yapmasından  
D)Dünya'nın Güneş'in etrafında dolanmasından

12)



Fulyanın çalışması ile ilgili yorumlardan hangisi doğrudur?

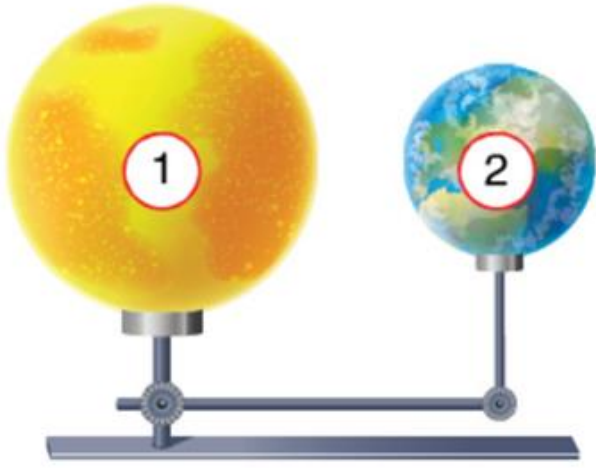
- A)Güneş Dünya'nın etrafında dolanır.  
B)Dünya Ay'ın etrafında döner.  
C)Dünya Güneş'in etrafında döner.  
D)Ay Dünya'nın etrafında dolanır.

13)



Dünya'nın kendi etrafında ve Ay'ın kendi etrafında dönüş yönleri hangi seçenekte doğru verilmiştir?

- |    | Dünya | Ay |
|----|-------|----|
| A) | 3     | 1  |
| B) | 2     | 4  |
| C) | 4     | 4  |
| D) | 2     | 3  |



**14) Yukarıda verilen görselle ilgili;**

1-2 numaralı gök cismi Güneş'tir.

2-1 numaralı gök cismi kendi etrafında dönme hareketi yapar.

3-2 numaralı gök cismi saat yönünün tersi yönde döner.

**Yukarıda verilen maddelerden hangileri doğrudur?**

- A)1 ve 2                      B)2 ve 3  
C)1ve 3                      D)1,2ve 3

**15)Ay'ın kendi eksenini etrafındaki dönme süresi kaç gündür?**

- A)27 gün 8 saat  
B)365 gün 6 saat  
C)30 gün  
D)360 gün

**16)\*Dünya Güneş'in etrafında saat yönünün tersi yönde hareket eder.**

\*Dünya'dan bakıldığında Ay'ın hep aynı yüzü görülür.

\*Güneş Dünya'nın etrafında dolanma hareketi yapar.

**Yukarıda verilen bilgilerden kaç tanesi doğrudur?**

- A)1    B)2    C)3    D)0

**17) Ay.....1.....etrafında dönme hareketi, .....2..... ve .....3.....etrafında dolanma hareketi yapar.**

**Yukarıda verilen bilgilde numaralandırılmış boşluklara aşağıdaki ifadelerden hangileri gelmelidir?**

	1	2	3
A) Güneş	Kendi	Dünya	Güneş
B) Kendi	Dünya	Güneş	Güneş
C) Dünya	Kendi	Güneş	Kendi
D) Güneş	Dünya	Kendi	Kendi



18)Güneş ,Dünya ve Ay'ın hareketleri için aşağıdaki seçeneklerden hangisi doğrudur?

- A)Üçüde saat yönünde hareket eder.  
B)Güneş ve Dünya saat yönünde,Ay saat yönünün tersi yönde hareket eder.  
C)Üçüde saat yönünün tersi yönde hareket eder.  
D)Ay ve Dünya saat yönünde,Güneş saat yönünün tersi yönde hareket eder.

19)Aylin gökyüzünde yaptığı bir aylık gözlem sonucunda Ay'ın ; Dünya'nın etrafında dolanma ve kendi etrafında dönme sürelerinin eşit olduğunu görüyor.

**Bu bilgi doğrultusunda Aylin hangi sonuca ulaşmıştır?**

- A)Ay saat yönünün tersine dönmektedir.  
B)Ay Dünya'nın doğal uydusudur.  
C)Dünya'dan Ay'ın hep aynı yüzü görülür.  
D)Ay'ın şekli küreseldir.

1-Ay saat yönünün tersine döner.

2-Güneş Dünya'nın etrafında dolanma hareketi yapar.

3-Ay Dünya ile eş zamanlı olarak Güneş'in etrafında dolanma hareketi yapar.

4-Dünya Güneş etrafında dolanma hareketini 365 gün 6 saatte tamamlar.

**20) Yukarıda verilen bilgilerden kaç tanesi doğrudur?**

- A)1 B)2 C)3 D)4

## 2. ÜNİTE: KÜLTÜR ve MİRAS

### KONU: UYGARLIKLARI ÖĞRENİYORUM (KONU ÖZETİ)

**Uygarlık:** Bir ülkenin veya bir toplumun maddi ve manevi varlıklarını; düşünce, sanat, bilim ve teknoloji ürünlerinin tümünü uygarlık denir.

#### 1) MEZOPOTAMYA UYGARLIKLARI

**NOT:** Fırat ve Dicle nehirleri arasında kalan bölgeye Mezopotamya denir. İklimin uygun olması ve verimli araziler sebebiyle birçok uygarlığa ev sahipliği yapmıştır

#### A)- SÜMERLER (MÖ 3500-2000)

- Dünyanın ilk bilinen uygarlığıdır.
- Mezopotamya'da kurulan ilk uygarlıktır.
- İlk defa yazıyı kullanarak tarih çağlarını başlatmışlardır.
- Ur, Uruk, Eridu ve Lagaş gibi şehir devletleri kurdular.
- Tarihte ilk tekerleği kullandılar.
- “Ziggurat” denilen tapınakları gözlemevi olarak kullandılar.
- Astronomi ile ilgilendiler, ay ve güneş tutulmasının inceleyerek Ay Takvimini yaptılar. --- Gezegenleri buldular, matematikte dört işlemi hesapladılar.

#### B-) BABİLLER (MÖ 2105-338)

- Kral Hammurabi “Hammurabi Kanunları” adıyla tarihte bilinen ilk anayasayı hazırladı.
- Astronomi ile ilgilenmiş, güneş saatini bulmuşlardır.
- Kral Hammurabi eşi için “asma bahçeleri”ni yaptırmıştır ve dünyanın yedi harikasındandır. --- Kral Hammurabi ülke denetiminin sağlayabilmek için “Babil Kulesi’ni” inşa ettirmiştir.

#### C-) ASURLULAR (MÖ 2000-612)

- Başkentleri Ninova’dır.
- Anadolu’da ticaret kolonileri kuran Asurlular, Mezopotamya uygarlığını Anadolu’ya tanıtmıştır. Çivi yazısını Anadolu’ya taşımışlardır.
- Başkentleri Ninova’da dünyanın ilk kütüphanesini kurdular.
- Kayseri’de ticaret merkezi kurdular.

## 2)ANADOLU UYGARLIKLARI

### A-) HİTİTLER (MÖ 2000-700)

- Başkenti Hattuşaş (Çorum)
- Anadolu'da kurulan ilk uygarlıktır.
- Çivi ve hiyeroglif (resim yazısı) kullanıldı.
- Anal denilen tanrıya hesap verdikleri yıllıklar ilk tarih yazıcılığı sayılır.
- Geçim kaynakları tarım ve hayvancılıktır.
- Hititler ile Mısırlılar arasında tarihte ilk bilinen yazılı antlaşma olan Kadeş antlaşması imzalanmıştır.

### B-) FRİGLER (MÖ 1200-676)

- Başkentleri Gordion (Ankara ili Polatlı ilçesi) --- En önemli geçim kaynakları tarımdır.
- Madencilik, dokumacılık, seramik sanatı ile uğraştılar.
- "Fibula" denilen çengelli iğneyi, kilim ve seramiği kullandılar.
- En ünlü kralı Midas'dır.
- "Tapates" denilen kilimler dokunurdu.
- Kaya mezarları kabartmalarla süslenmiştir. C-) İYONLAR (MÖ 1260-546)
- Şehir devletleri halinde yaşadılar, başkentleri yoktur, Efes, Milet, Foça, İzmir önemli şehirlerdir.
- Deniz ticareti ve kolonicilik yaptılar.
- En gelişmiş uygarlıktır, bugünkü Avrupa ülkelerinin temelini atmışlardır.
- Özgür düşünce ve bilim gelişmiştir. Tales-Felsefe Pisagor-Matematik Hipokrat-Tıp Herodot-Tarih Homeros-Edebiyat

### D-) URARTULAR (MÖ 900-600)

- Başkenti Tuşpa (Van ili) --- Maden işçiliği ve mimari gelişmiştir.
- Sulama amaçlı ilk göletleri yaptılar.
- Mezarlarını oda biçiminde yapıp içine eşyalarını koydular, ölümden sonraki hayata inanmışlardır.

## E-) LİDYALILAR (MÖ 700—547)

- Başkentleri Sard (Sardes-Manisa ili yakınlarında)
- Tarihte bilinen ilk madeni parayı kullandılar. --- Takas (değiş-tokuş) usulünü kaldırdılar.
- Ticaret yapmak için Kral yolunu açtılar

1) Sosyal bilgiler öğretmeni öğrencilerden Anadolu Medeniyetlerini söylemelerini istemiştir.

**Aşağıdaki öğrencilerden hangisi yanlış cevap vermiştir?**

- A) Mert : İyonlar  
 B) Cansu : Urartular  
 C) Ahmet : Hititler  
 D) Yağmur: Babiller

2)Aşağıdaki bilgi ve medeniyet eşleştirmelerden hangisi yanlıştır?

- A) Parayı bulmuşlardır. → Lidyalılar  
 B) Çivi yazısını bulmuşlardır. → Asurlar  
 C) Kraliçelerine Tavananna denilir.→ Hititler  
 D) Van Kalesini yapmışlardır → Urartular

3) Mezopotamya'nın tarih boyunca pek çok kavmin istilasına uğramasında;

- I. Bölge ikliminin elverişli olması  
 II. Topraklarının verimli olması  
 III. Bölgede güçlü bir devletin bulunmaması  
 durumlarından hangilerinin etkili olduğu söylenebilir?

- A) Yalnız I                      B) Yalnız II  
 C) I ve III                        D) I, II ve II

4) Sümerler;

-Yazıyı bulmuşlar, geometri, aritmetik ve astronomi gibi bilimlerin temellerini oluşturmuşlar, ilk yasaları ve edebi eserleri ortaya koymuşlardır.

-Güney Mezopotamya'da, birbirleriyle mücadele içinde olan kentlerde yaşamışlar, sınırları çok geniş olmayan devletler kurmuşlardır.

**Buna göre, Sümerler hakkında hangisi söylenemez?**

- A)Uygarlığa önemli katkılarda buldukları,  
 B)Birbirleriyle mücadele ettikleri,  
 C)Askeri açıdan güçlü devletler kurdukları,  
 D)Yazılı belgeleri ortaya koydukları,

5) İyonya'da felsefe, bilim, sanat ve edebiyat gelişmiştir.

Bu durumda, İyonyalıların;

- I Özgür düşünce ortamına sahip olmaları  
 II Ticaret sayesinde kültür alışverişinde bulunmaları  
 III Dini inanışların baskıcı olmayışı ve dünyevî olması

**Özelliklerinden hangileri etkili olmuştur?**

- A) Yalnız I    B) Yalnız II  
 C) II ve III    D) I, II ve III

6) Aşağıdaki, bilgilerden hangisi Lidyalıların ticaret alanında geliştiklerini gösterir?

- A) Kral Yolu'nu yaparak doğu-batı ticaretini geliştirdiler.
- B) Aristokratik bir idare ile yönetildiler.
- C) Büyük Menderes ve Gediz arasında yaşadılar.
- D) Fildişi oymacılığında ilerlediler.

7) Anadolu'da bilim ve sanatın gelişmesinde, kendisinden zaman bakımından eski, kültür seviyesi bakımından yüksek olan Mısır ve özellikle Mezopotamya'nın büyük etkisi olmuştur.

**Buna göre, Anadolu'nun yüksek bir kültüre sahip olmasında;**

- I Çevre uygarlıklarıyla ilişkiye girilmesi
- II Etkileşime açık bir coğrafya olması
- III Çok tanrılı inancın hakim olması

**durumlarından hangileri etkili olmuştur?**

- A) Yalnız I
- B) Yalnız II
- C) I ve II
- D) I, II ve III

8) Frigyalılar halı ve kilim dokumacılığı, kuyumculuk, müzik ve kaya mimarisinde önemli çalışmalar yapmışlardır.

**Buna göre Frigyalıların aşağıdakilerden hangisinde ileri gittiği söylenebilir?**

- A) Eğitim
- B) Sanat
- C) Bilim
- D) Tarım

9) İlkçağ'da başta Hammurabi Kanunları olmak üzere doğu kanunlarında kısas prensibi (göze göz, dişe diş) varken Anadolu'da pek çok suçun cezası tazminat olarak ödenirdi. Ölüm cezası da nadiren uygulanırdı.

**Buna göre;**

I Anadolu kanunlarının doğu kanunlarına göre daha insancıl olduğu

II Anadolu uygarlıklarında suç oranının az olduğu

III Mezopotamya'da yargılamalarda adaletli davranılmaya çalışıldığı

**durumlarından hangileri söylenebilir?**

- A) Yalnız I
- B) Yalnız II
- C) II ve III
- D) I ve II

10) Kayseri yakınlarındaki Kültepe'de yapılan kazılarda Asurlulara ait ticari nitelikli kil tabletler bulunmuştur.

**Kültepe'de bulunan bu ilk yazılı belgeler, Anadolu ile ilgili aşağıdakilerden hangisine kanıt oluşturur?**

- A) Değişik uygarlıkların kurulduğuna
- B) Anadolu'nun tarihi devirlere geçtiğine
- C) Siyasi birliğin sağlandığına
- D) Yerleşik hayatın Asurlularla başladığına

11) İlkçağ'da Babil Devleti'nde;

- I Valilerin sık sık merkeze rapor vermesi
- II Hammurabi yasalarının yapılmış olması
- III Babil Asma Bahçelerinin yapılması

**Özelliklerinden hangileri Babil'in merkezi bir devlet olduğunu gösterir?**

- A) Yalnız I
- B) Yalnız II
- C) I ve II
- D) II ve III

12) Kadeş Barış Antlaşması'nın Hititçe metninde kral ve kraliçenin imzaları bulunmaktadır.

Bu durum;

- I Hitit kralları merkezi otoriteyi sağlayamamışlardır
- II Kadınlar Hitit yönetiminde etkilidir.
- III Hititlerde antlaşmadan kazançlı çıkmıştır.

**yargılarından hangilerini kanıtlar?**

- A) Yalnız I
- B) Yalnız II
- C) Yalnız III
- D) I ve II

13) Hititler, "Anal" adı verilen yıllıklara başarılarını ve galibiyetlerini yazarken, başarısızlıklarını ve yenilgilerini de yazmışlardır.

Bu yönleriyle tarih yazıcılığı yapmalarından çok

objektif tarih yazılığını başlatmaları ile ön plana

çıkışlardır.

**Hititleri buna yönelten neden olarak;**

I Gelecek kuşaklara tarih öğretme isteği

II Bilime önem verdiklerini kanıtlama düşüncesi

III Tanrılarına hesap verme inancı

**durumlarından hangileri gösterilebilir?**

- A) Yalnız I
- B) Yalnız II
- C) Yalnız III
- D) I ve II

14) İyon şehir devletlerinin kendi yurtları dışında yaşam kaynakları arayışı için gerçekleştirdikleri koloni hareketleri aşağıdakilerden hangisine neden olmuştur?

- A) Akdeniz siyasi birliğinin kurulmasına
- B) Doğu-batı çatışmasının sona ermesine
- C) Asker gereksiniminin azalmasına
- D) Farklı uygarlıkların etkileşimlerinin hızlanmasına

15) Tarihte Sümerler yazıyı, Fenikeliler alfabeyi, Lidyalılar ise parayı bulmuşlardır.

**İlkçağ'dan beri insanların yeni buluşlara yönelmesinin sebebini aşağıdakilerden hangisi en iyi şekilde açıklamaktadır?**

- A) İhtiyaçlarını karşılama çabasıyla
- B) Özgün kültür yaratma düşüncesiyle
- C) Bilimsel alanda ilerlemek istemeleriyle
- D) Diğer toplumları etkileme düşüncesiyle

16) Anadolu uygarlıklarından olan Hititlerin, pek çok tanrısı vardı. Hititler kendi tanrılarında başka, bütün Anadolu ve Ön Asya tanrılarını kutsal saymışlar ve onlara tapmışlardır.

**Buna göre;**

I Hititler dini içerikli bir devlet teşkilâtı oluşturmuşlardır.

II Öldükten sonra hayatın devam ettiğine inanmışlardır.

III Sadece bir dine bağlı kalmamışlardır.

**Gibi yargılarından hangilerine ulaşamaz?**

- A) Yalnız I
- B) Yalnız III
- C) I ve II
- D) II ve III

17) Hititlerdeki;

I Kölelere mülkiyet hakkı verilmiştir.

II Çok tanrı inancı vardır.

III Cezalarda fidye esası uygulanmıştır.

**uygulamalarından hangileri diğer Eski çağ toplumlarına göre daha insancıl olduklarına kanıt olarak gösterilebilir?**

- A) I ve II
- B) II ve III
- C) Yalnız I
- D) I ve III

18) Hititler'de çok tanrılı bir inanç sistemi vardı. Hitit Devleti egemenliğindeki toplumları dini inançlarında serbest bırakmış, tapınaklarını koruyarak, tanrılarını kendi tanrısı kabul etmiştir.

**Bu durumun Hitit devlet yönetiminde aşağıdakilerden hangisinin olduğunu gösterir?**

- A) Hoşgörü B) Baskı C) Asimile D) Kölecilik



19) İlkçağ 'da ticaret hayatının gelişip yaygınlaşmasın da aşağıdakilerden hangisinin katkısı olduğu söylenemez?

- A) Anadolu ile Mezopotamya arasında Kral Yolu'nun yapılması
- B) Paranın kullanılmaya başlanması
- C) Çok tanrılı dine inanılması
- D) Nüfus ve üretim artışı

20) ) Frigyalılarda;

- Keçi kılından dokumaların yapılması
- "Tapates" adlı halı ve kilim üretilmesi durumları;

I Ekonomilerinde hayvancılık da önemlidir.

II Köle emeğinden yararlanılmıştır.

III Dokumacılık gelişmiştir.

Yargılarından hangilerini desteklemektedir?

- A) Yalnız II
- B) I, II ve III
- C) I ve III
- D) Yalnız I

ÜNİTE 1 : ALLAH İNANCI

KONU : ALLAH (c.c) İLE İRTİBAT - DUA

KAZANIM : Duanın anlamını ve önemini örneklerle açıklar.

### KONU ÖZETİ

**Dua**, Arapça kökenli bir kelime olup istemek, çağırmak, davet etmek, seslenmek, yardım talep etmek ve çağırmak demektir. Kişinin bütün benliği ile Rabbine yönelerek her türlü dileğini kendisini yaratan yaratıcıdan, Allahü Teala'dan istemesine dua denir. Dua, bireyin Allah'la olan iletişim vasıtalarında birisidir. Kişi dua ederek yalnız olmadığının farkına varır, sevincini, üzüntüsünü ve isteklerini dua yolu ile Allah'a iletir. Bir Cümle ile

#### Dua Nedir ?

- Allah ile iletişim kurmaktır.
- Kişinin isteklerini Allah'a iletmesidir.
- Bireyin sevinç ve üzüntülerini Allah ile paylaşmasıdır.
- Verdiği nimetler için Allah'a şükür etmektir.
- Allah'a sığınmaktır.
- Kişiye moral ve destek veren manevi bir güçtür.
- Yapılan hatalar için Allah'tan bağışlanma dilemektir.

Dua İbadetin Özüdür! İbadet, kişinin Allah'a olan teşekkürünün bir simgesidir. Kişi, Allah'a olan bağlılığını ve teslimiyetini ibadet ile gösterir. İnsanın Allah'a olan sevgi ve saygısını en iyi gösterme şekli ibadet etmektir. Dua etmek de ibadetler arasında yer alır. Kişi, isteklerini Allah'a dua yoluyla iletir. Peygamberimiz bir hadisinde "Dua, ibadetin özüdür" buyurmuştur. Dua ile ibadet ayrılmaz bir bütündür. Dua etmek kişinin Allah katındaki derecesini artırır. " De ki duanız olmasa Rabb'im size ne diye değer versin!..." Furkân, 77. Ayet

#### Niçin Dua Ederiz?

- a) İnsanın kendisine verilmiş olan nimetlere şükretmesi için.
- b) İnsanın Allah katındaki değerinin artması için.
- c) Kişinin zor anlarında içini Allah'a açarak sığınacak bir yer araması, yalnızlık ve ümitsizliğe düşmemesi için.
- d) Kişinin iç dünyasının huzurlu ve mutlu olması için.
- e) Kişiyi başına gelebilecek olan musibetlerden ve kötülüklerden korumak için.

## Nasıl Dua Ederiz ?

- ✓ Dua ederken kişi Allah ile arasına bir aracı koymamalıdır.
- ✓ Dua etmenin bir şekli yoktur. Kişi dua ederken istediği dili kullanabilir.
- ✓ Kişi, yaptığı duanın kabul olacağı hissi ile dua etmelidir.
- ✓ Dua da sadece kendimiz için değil tüm insanlar için istemeliyiz.
- ✓ Dua etmeden önce kişi üzerine düşen sorumlulukları yerine getirmelidir.
- ✓ Bireysel olarak dua edilebileceği gibi toplu da dua edilebilir.
- ✓ Kısık sesle, bağırp çağırmadan ve Allah'ın güzel isimleri ile dua edilmelidir.
- ✓ Dua bittikten sonra "Amin" diyerek Allah'tan dualarımızı kabul etmesini isteriz.

## Kültürümüzden Dua Örnekleri:

Ülkemiz ve milletimiz için dua etmenin önemi büyüktür. Kültürümüzde duaya büyük önem verilir. Pek çok dua çeşidi de vardır: Gerek günlük konuşmalarımızda gerekse özel günlerimizde dua ederiz. Biri bize bir iyilik yaptığı zaman "Allah razı olsun." diye dua ederiz. Bir derdi ve sıkıntısı olan kişiye "Allah yardımcın olsun." deriz. Çocuklarımızı vatan nöbetini tutmak için askere gönderirken evin önünde topluca dua ederiz. Evleneceğimiz kimse ile mutlu bir hayat sürmek için nikah duası yaparız. Sünnet törenlerinde, yemek yedikten sonra, sınava girmeden önce ve yolculuğa çıkarken de dua yaparız.

1) Kişinin bütün benliği ile Rabbine yönelerek her türlü dileğini kendisini yaratan yaratıcıdan Allahu Taala'dan istemesine ne ad denir?

- A) Tevhit
- B) Dua
- C) Tekbir
- D) İstek

2) Dua ..... Hadisteki boşluğa ne gelmelidir?

- A) İbadetin tamamıdır.
- B) İbadetin zirvesidir.
- C) İbadetin özüdür.
- D) İbadetin yarısıdır.

3) Niçin dua etmeliyiz? Sorusunun cevabı aşağıdakilerden hangisi olamaz?

- A) İnsanın Allah katındaki değerini artırmak için
- B) İnsanın kendisine verilen nimetlere şükür etmesi için
- C) Kişinin iç dünyasında huzurlu ve mutlu olması için
- D) Kısa yoldan cennete gitmek için

4) "Dua inen ve henüz inmeyen her musibet için faydalıdır. Kazayı sadece dua geri çevirir.

**Öyle ise dua ediniz." Hadis-i şerife göre dua için aşağıdakilerden hangisi söylenemez?**

- A) Dua başımıza gelebilecek musibeti def eder
- B) Musibetlerden korur
- C) Herkes için dua etmeliyiz
- D) Dua kazayı geri çevirir

5) Dua bir ibadettir ve bu ibadette de uyulması gereken kurallar vardır.

**Aşağıdakilerden hangisinde buna uyulmadığı söylenebilir?**

- A) Derslerine çalışan öğrencinin Allah tan yardım dilemesi
- B) Maske takmayan birinin corona virüse yakalanmamayı dilemesi
- C) Esnafın çalışarak Allah tan bol kazanç sağlaması
- D) Sağlık kurallarına uyan kişinin şifa dilemesi

6) "Ey Muhammed de ki; -Duanız olmasa Rabbim size niye değer versin? (Furkan 77)

**Ayetinin vermek istediği mesaj aşağıdakilerden hangisidir?**

- A) Kişinin iç huzurunu artırdığı
- B) Kişinin Allah katındaki değerini artırdığı
- C) Kişiyi musibetten kurtardığı
- D) Allah a şükür etmek için dua etmemiz gerektiği

7) "Kullarım sana benden sorduklarında bilsinler ki ben onlara çok yakınım benden isteyenin dua ettiğinde duasını kabul ederim.

**Artık onlarda benim davetime uysunlar" Ayetinin vermek istediği mesaj aşağıdakilerden hangisidir?**

- A) Kişi dua ederken duasının kabul olacağı hissi ile dua etmeli
- B) Kişi dua ile iç huzura ulaşır
- C) Dua etmenin belli şekil ve kalıpları vardır
- D) Kişi dua etmeden önce sorumluluklarını yerine getirmeli

8) "Allah'ım, kötü huy, kötü iş, kötü arzu ve kötü hastalıklardan sana sığınırız." (Hz. Muhammed)

**Bu duadan hareketle hangi öğrencinin söylediği doğrudur?**

- A) **Merve:** "Kötülüklerden korunmak için Allah'a sığınmalıyız."
- B) **Kerim:** "Kötülükleri irademizle tamamen yok edebiliriz."
- C) **Hasan:** "Hastalıklar için duaya gerek yok, ilaç tedavisi yeterlidir."
- D) **Sadri:** "Kötü iş yoktur, iş iştir."

**9) Aşağıdakilerden hangisi dua örneği olamaz?**

- A) " Allah'ım, Sen'den tükenmeyen bir nimet diliyorum. Sen'den bitmeyen bir sevinç diliyorum."
- B) " Allah'ım, bana sevgini ve sevgisi Sen'in katında fayda verecek kimselerin sevgisini nasip et."
- C) " Allah'ım, ibadetlerini tam olarak ve içtenlikle yapanlara imreniyorum. "
- D) "Allah'ım, hoşnutken de, öfkeliyken de, içten ve samimi söz söylemeyi Sen'den diliyorum. "

10) "Allah'ım! Yalnız sana ibadet ederiz ve yalnız senden yardım dileriz." Bu dua ayeti, beş vakit namazların her rekatinde günde kırk defa okunmaktadır.

**Bu duanın yer aldığı süre aşağıdakilerden hangisidir?**

- A) Kevser suresi
- B) İhlas suresi
- C) Fatıha suresi
- D) Bakara suresi

11) Ey Rabbimiz! Bizi ve bizden önce iman etmiş olan kardeşlerimizi bağışla. Kalplerimizde, iman edenlere karşı hiçbir kin tutturma. Ey Rabbimiz! Şüphesiz sen çok esirgeyicisin, çok merhametlisin." (Haşır suresi, 10. ayet)

**Bu duada aşağıdakilerden hangisine değinilmemiştir?**

- A) Allah'ın merhametinin çokluğuna
- B) İnançsız olan kimselerin de affedilmesine
- C) İnananlara karşı kin duyulmaması gerektiğine
- D) Allah'ın esirgeyici olduğuna

12) Aşağıdakilerden hangisinde dua örneklerini daha çok bulabiliriz?

- A) Türbe
- B) Ku'an-ı Kerim
- C) Cami
- D) Mescit

13) Azra: Allah yardımcın olsun

Feyza: Allah'a emanet ol

Aslı: Allah şifa versin

**Yukarıda bazı öğrencilerin günlük konuşmalarına yer verilmiştir. Dini içerikli bu ifadeler aşağıdakilerden hangisi için kullanılmış olamaz?**

- A) Zor durumda olanlar için
- B) Vefat eden kişiler için
- C) Evden ayrılırken geride kalanlar için
- D) Hasta olan kişiler için

14) " Ey Rabbim! Beni ve soyumdan gelecekleri namazını dosdoğru kılanlardan eyle! Ey Rabbimiz! Duamı kabul et."

**Yukarıdaki dua hangi peygambere aittir?**

- A) Hz İbrahim
- B) Hz Yusuf
- C) Hz Adem
- D) Hz İsa

15) -Nasıl dua ederiz? Sorusuna aşağıdakilerden hangisini cevap olarak veremeyiz?

- A) Dua etmeden önce kişi üzerine düşen sorumluluğu yerine getirmelidir
- B) Kişi yüksek sesle dua etmelidir
- C) Kişi dua ederken istediği dili kullanabilir
- D) Dua ederken Allah ile arasına aracı koymamalıdır.

16) Onlar, ayakta dururken, otururken, yanları üzerine yatarken Allah ı anarlar, göklerin ve yerin yaratılış hakkında derin derin düşünürler ve şöyle derler: -Rabbimiz! Sen bunu boşuna yaratmadın Sen yücesin Bizi cehennem azabından koru"(Ali imran 191)

**Aşağıdakilerden yukarıdaki ayette vurgulanan konulardan değildir?**

- A) Evrendeki uyum ve denge
- B) İbadetin devamlılığı
- C) Dua etmenin önemi
- D) Duanın şekli

17) Aşağıdakilerden hangisi Kur'an'daki dua örneklerinden biri değildir?

- A) "...Rabbimiz! Bize dünyada da iyilik ver, ahirette de iyilik ver..." (Bakara suresi, 201. ayet)
- B) "Ey Rabbimiz! Hesabın görüleceği gün beni, ana-babamı ve müminleri bağışla!" (İbrahim suresi, 41. ayet )
- C) "Rabbim! Beni ve soyumdan gelecekleri namazı devamlı kılanlardan eyle..." (İbrahim suresi, 40. ayet)
- D) "Bugün size kınama yok, Allah günahlarınızı bağışlar, O merhametlilerin en merhametlisidir." (Yusuf suresi, 92. ayet)

18) Rabbim! Gönlüme ferahlık ver. İşimi bana kolaylaştır. Dilimdeki tutukluğu çöz ki sözümü anlasınlar." (Taha Suresi, 25-28. ayetler)

**Aşağıdakilerden hangisi üstteki duada dile getirilmektedir?**

- A Allah'ın affetmesi isteniyor.
- B Anlaşılabilir şekilde konuşma isteğinde bulunuluyor.
- C Çokça namaz kılma arzusu dile getiriliyor.
- D Allah'tan savaşları sona erdirmesi isteniyor.

19) "... Dua edin, kabul edeyim..." (Mümin suresi, 60. ayet)

**Bu dua ayeti aşağıdaki sorulardan hangisinin yanıtı olabilir?**

- A Dualar kabul edilir mi?
- B Nasıl dua edilmelidir?
- C Ne zaman dua edilmelidir?
- D Nerede dua edilmelidir?

20)

- I. İnsanın Allah ile iletişim kurmasıdır.
- II. İsteklerimizi Allah'a iletmektir.
- III. Sevinç ve üzüntülerimizi Allah ile paylaşmaktır.
- IV. Allah'tan yardım dilemektir.
- V. Allah'a sığınmaktır.
- VI. Hatalarımızdan dolayı Allah'tan af dilemektir.

**Dua ile ilgili yukarıdakilerden kaç tanesi doğrudur?**

- A) 3
- B) 4
- C) 5
- D) 6



## UNIT 1: Hello

### Function: Greeting and Meeting People

#### Greeting and Introducing

*Vocabulary:*

*Study: Çalışmak, Öğrenim görmek*

*Student: Öğrenci  
Dersleri*

*Secondary School: Ortaokul*

*Nationality: Milliyet*

*Country: Ülke  
olmak*

*Hometown: Memleket  
olmak*

*Guest: Misafir*

*Flag: Bayrak*

*Speak: Konuşmak*

*Language: Dil*

*School Subject: Okul*

*Like: Sevmek*

*Dislike: Sevmemek*

*Good at: Bir konuda iyi*

*Bad at: Bir konuda kötü*

Hello. My name is George. I am twelve years old. I am from Italy. I am Italian. I can speak Italian and English

COUNTRIES	NATIONALITIES	LANGUAGE
Turkey	Turkish	Turkish
Italy	Italian	Italian
Spain	Spanish	Spanish
France	French	French
Germany	German	German
Russia	Russian	Russian
Japan	Japanese	Japanese

**1) Where are you from? (Nerelisin?)**

I am from Spain.

I am from Germany

I am from Japan

**2) What is your nationality? (Milliyetin nedir?)**

I am Spanish

I am Japanese.

I am German

**School Subjects**

**Vocabulary:**

**Doing experiment: Deney Yapmak**  
**Söylemek**

**Solving Problem: Problem Çözmek**  
**Resim Çizmek**

**Doing Exercise: Egzersiz Yapmak**  
**Öğrenmek**

**Singing Song: Şarkı**

**Drawing Pictures:**

**Learning Language: Dil**

<b>History</b>	<b>Tarih</b>
<b>Science</b>	<b>Fen Bilgisi</b>
<b>Geography</b>	<b>Coğrafya</b>
<b>Social Studies</b>	<b>Sosyal Bilgiler</b>
<b>English</b>	<b>İngilizce</b>
<b>Physical Education</b>	<b>Beden Eğitimi</b>
<b>Art</b>	<b>Resim</b>
<b>Maths</b>	<b>Matematik</b>
<b>Music</b>	<b>Muzik</b>

Sevdiğimiz dersleri tarif ederken;

-like: hoşlanmak

-love: sevmek

-enjoy: keyif almak

Fiillerini kullanırız

I like doing experiments. I enjoy Science lesson.

I love Physical Education lesson. I like doing exercises

Sevmediğimizi belirtirken:

-dislike: hoşlanmamak

-hate: nefret etmek

-don't like: hoşlanmamak

Fiillerini kullanırız.

I dislike solving problems, I don't like Maths lesson.



1. Hi! I am Jane. I am from England. I am English. I study at Grandview Secondary school. My favourite classes are P.E. and Science.

**Jane hangisi ile ilgili bilgi vermemiştir?**

- A) Country                      B) Nationality  
C) Age                              D) Favourite  
Classes

2. Aşağıda verilen tablodaki boşlukları hangi şıkta doğru verilmiştir?

Coutry	Nationality
Turkey	.....
France	.....
.....	Spanish
Japan	.....

- A) Turkey- France-Spain-Japanese  
B) Turkey- French- Spanish-  
Japanese  
C) Turkish- French-Spain-Japan  
D) Turkish- French-Spain-  
Japanese

3. Hello friends! I am Jack. I am a student. I love my school. I like my lessons. I enjoy doing experiments and doing exercise. I also enjoy learning languages. I dislike solving problems.

**Jack'in hoşlanmadığı ders hangisidir?**

- A) P.E.                              B) Maths  
B) English                        D) Science

4.

Jane: Hello! .....

Mary: Hi ! I am Mary. What is your name?

Jane: My name is Jane.  
.....?

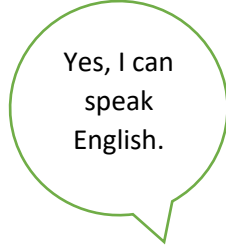
Mary: I am from Italy.  
.....?

Jane: I am German. ....?

Mary: Yes, I can speak German.

**Boşluklarda hangi soru sorulmamıştır?**

- A) Can you speak Italian?  
B) Where are you from?  
C) What is your name?  
D) What nationality are you?



**5. Aşağıdakilerden hangisi konuşma balonunda eksik olan sorudur?**

- A) What is your nationality?
- B) Can you speak English?
- C) Are you English?
- D) Are you from England?

**6. Aşağıdakilerden hangisi doğrudur?**

- A) Mark and Danny like Geography
- B) Mark is from Italy
- C) Jimmy and Danny like Art
- D) Danny and Jimmy dislike Maths

**7. Aşağıdakilerden hangisi boşlukları tamamlar?**

Danny and Mark dislike..... and Jimmy likes.....

- A) Geography / P.E.
- B) Maths / Art
- C) Maths / Geography
- D) Geography / Maths

	Age	Nationality	Likes	Dislikes
Jimmy	11	French	Art and P.E.	Maths
Mark	14	Spain	Maths and Science	History and Geography
Danny	13	Italian	Maths and Art	Geography and Music

**6,7 ve 8. Soruları tabloya göre cevaplayınız.**

**8. Aşağıdakilerden hangisi doğrudur?**

- A) Danny is from Spain
- B) Jimmy and Dany like Maths.
- C) Mark is fourteen
- D) Mark likes History

9. Emma: Excuse me! Is there a hospital near here?  
Michael: ..... Go straight ahead. Take the second left. It is on your left.  
Emma: Thank you.

**Aşağıdakilerden hangisi diyalogu tamamlar?**

- A) Not at all.  
B) No, There isn't.  
C) How can I get to the hospital?  
D) Yes, there is one near.

10. Sue is sitting next to the Amy.  
Jack is sitting between Sue and Mary.  
Mary is next to the Jack.  
Mary is sitting between Jack and Joe.

**Verilen bilgilere göre aşağıdaki oturma sıralarından hangisi doğrudur?**

A)

Sue	Amy	Mary	Jack	Joe
-----	-----	------	------	-----

B)

Amy	Sue	Jack	Mary	Joe
-----	-----	------	------	-----

C)

Jack	Mary	Joe	Sue	Mary
------	------	-----	-----	------

D)

Sue	Joe	Jack	Mary	Amy
-----	-----	------	------	-----

11.

- 1- Hmm. It is near here. Go straight ahead. Go past the cafe. Is between cafe and butcher's.  
2-Not at all.  
3-Excuse me! How can I get to the pharmacy?  
4- Thank you very much.

**Verilen cümleleri anlamlı şekilde bir diyalog oluşturacak şekilde sıraladığınızda doğru sıralama hangi seçenekte verilmiştir?**

- A) 3-4-1-2  
B) 3-1-4-2  
C) 3-2-4-1  
D) 3-2-1-4

12. Mary: Is there a toy shop near here?

Jane:.....  
.....

Mary: Is Academy Street near ?

Jane:.....

Mary: Thank you.

Jane:.....

**Hangisi boşluğu tamamlamaz?**

- A) Yes it is.  
B) Thank you  
C) Yes, go straight and turn to the Academy Street. It is next to the butcher's  
D) You are welcome.

**13 ve 14. Soruları verilen diyaloga göre yapınız.**

Matt: I am good at solving problems but I am bad at doing exercises.  
Cindy: I like learning languages. They are my favourite lessons.

George: I dislike drawing pictures but I like listening and singing songs.

Lisa: I am good at doing experiments but I am not good at learning languages.

**13. Diyaloga göre hangisi doğrudur?**

- A) George's favourite lesson is Art.
- B) Lisa's favourite lesson is not English
- C) Cindy's favourite lessons are not Turkish and English
- D) Matt's favourite lesson is P.E.


**14. Diyaloga göre kim matematik dersini sever?**

- A) George
- B) Lisa
- B) C) Matt
- D) Lisa

I	Where is the bank?	a.	On Tuesday
II	When is Maths?	b.	I am Italian.
III	What is your favourite lesson?	c.	It is Geography.
IV	What is your nationality?	d.	It is next to the cafe.

**15. Tabloda verile sorular ve cevapları eşleştiriniz.**

- A) I-a II-d III-c IV-b
- B) I-d II-a III-b IV-c
- C) I-d II-a III-c IV-b
- D) I-b II-a III-c IV-d



**16. Yukarıdaki görseli anlatan seçenek hangisidir?**

- A) Turn left
- B) Go straight ahead
- C) Turn right
- D) On your left



17. Hi, I am Dave. I am from Italy. I can speak English and Italian. My favourite school subjects are Maths and Science.

**Yukarıda hangisi ile ilgili bilgi verilmemiştir?**

- A) Age
- B)Language
- C)Country
- D)Favourite lessons

18. Hi. My name is Hans. I am twelve years old. I am from Germany. My favourite lessons are Art and P.E. I am good at drawing. I am bad at solving problems. I dislike Maths.

**Hangi sorunun cevabı yoktur?**

- A) What are his favourite lessons?
- B) Does he like drawing pictures?
- C) Where is he from?
- D) Where does he study?

19. Jane: .....?  
Edward: Yes, She speaks Spanish.

**Boşluğa gelecek soru hangisidir?**

- A) Do you speak Spanish?
- B) Does she from Spain?
- C) Is she Spanish?
- D) Does she speak Spanish?

20.



**Görseli anlatan seçenek hangisidir?**

- A) Go straight.
- B) Turn left.
- C) Turn right.
- D)Take the second left.

## CEVAP ANAHTARI

## TÜRKÇE

## MATEMATİK

## FEN B.

## SOSYAL B.

## DİN K.

## İNGİLİZCE

1.B  
2.B  
3.A  
4.D  
5.A  
6.C  
7.A  
8.C  
9.C  
10.A  
11.B  
12.A  
13.D  
14.B  
15.D  
16.A  
17.A  
18.B  
19.D  
20.A

1. B  
2. D  
3. B  
4. C  
5. C  
6. A  
7. D  
8. A  
9. C  
10.B  
11.B  
12.D  
13.A  
14.D  
15.C  
16.A  
17.C  
18.A  
19.B  
20.D

1-D  
2-D  
3-D  
4-B  
5-A  
6-B  
7-B  
8-C  
9-B  
10-B  
11-C  
12-D  
13-A  
14-B  
15-A  
16-B  
17-B  
18-C  
19-C  
20-C

1)D  
2)B  
3)D  
4)C  
5)D  
6)A  
7)C  
8)B  
9)A  
10)B  
11)C  
12)B  
13)B  
14)D  
15)A  
16)C  
17)D  
18)A  
19)C  
20)C

1. B  
2. C  
3. D  
4. C  
5. B  
6. B  
7. B  
8. A  
9. C  
10.C  
11.B  
12.B  
13.B  
14.A  
15.B  
16.D  
17.D  
18.B  
19.A  
20.D

1. C  
2. D  
3. B  
4.A  
5.B  
6.C  
7.A  
8.C  
9.D  
10.B  
11.B  
12.B  
13.B  
14.C  
15.C  
16.C  
17.A  
18.D  
19.D  
20.A

## EMEĞİ GEÇEN ÖĞRETMENLERİMİZ

### AR-GE EKİBİ

**MEHMET SALİH YILMAZ**  
Müdür Yardımcısı

**HACER ARMAĞAN**  
Bilişim Teknolojileri Öğretmeni

**DENİZ TOMAR YILDIZ**  
Türkçe Öğretmeni

**İSMAİL TOPÇUL**  
Matematik Öğretmeni

**AYŞEGÜL ÜZÜM**  
Fen Bilimleri Öğretmeni

**Mürsel SAGİR**  
Sosyal Bilgiler Öğretmeni

**ŞAHİDE BAYSAL**  
Din Kültürü Öğretmeni

**Gözde AVCİ**  
İngilizce Öğretmeni