



SIIRT İL MİLLİ EĞİTİM MÜDÜRLÜĞÜ

2020

ORTAOKUL

02 - 06 KASIM

6

ÖDEU TAKİP SİSTEMİ

0484 223 10 28

arge56@meb.gov.tr

siirt.meb.gov.tr

@mem_siirt

@siirtmem

KAZANIMLAR :

Kazanım 1 : Çekim eklerinin işlevlerini ayırt eder.

Kazanım 2 : Okuduğu metindeki sözcük ve sözcük gruplarının cümle içinde kazandığı anlamı fark eder.

Kazanım 3 : Kelimelerin arasındaki anlam ilişkilerini kavrayarak birbirleriyle anlamca ilişkili sözcüklere örnek verir.

Kazanım 4 : Metinle ilgili görsel öğeleri yorumlar.

Kazanım 5 : Okuduklarında anlatım biçimini fark eder.

Kazanım 6 : Okuduklarının ana duygusunu belirler.

Kazanım 7 : Oluşturduğu taslakta giriş, gelişme ve sonuç bölümlerine yer verir.

Kazanım 8 : Şiirin hece ölçüsünü bulur.

Kazanım 9 : Dize sonlarındaki ek benzerliklerini kavrar.

ÇEKİM EKLERİ KONU ÖZETİ

Çekim ekleri kendi içerisinde ikiye ayrılır. İlk türüne isim çekim ekleri ikincisine fiil çekim ekleri denir. Birincisinde özne ya da öznelerin biçimini değiştirirken, ikincisinde yüklemi yapısına göre tamamlar.

Çekim ekleri isim ya da fiil kökenli kelimelerin sonuna getirilir. Çoğul ve ismin hal ekleri bu eklere örnek olarak gösterilebilir. Öznenin yönelme durumunu ve diğer eylemlerle olan ilişkisini de çekim ekleri belirler.

A) İsim Çekim Ekleri**1) Çoğul ekleri:**

Çokluk eki adıyla da bilinir. Özne ve nesnelere getirilerek sayıca fazla olduğunu belirtir.

- Pazardan aldığım elma-lar çürük çıktı.
- Otobüs-ler eskisi gibi kalabalık değil.

Çekim ve çokluk ekleri genel olarak kelimelerin anlamını değiştirirse de belli başlı durumlarda bu kural bozulur.

- Ayşelerden hiç haber yok mu?

Bu cümlede Ayşe ve ailesi kastedildiği için kelimenin anlamı değişmiştir.

- Sadece Pazarları izin yapıyor.

Bu cümlede her pazar demek yerine Pazarları ifadesi kullanılmıştır. Çoğulluk değil genellik anlamı vardır.

- Adam elli yaşlarında görünüyordu.

Burada -lar eki tahmin/ yaklaşık manasında kullanılmıştır. Dolayısıyla çoğul eki işlevi görmez.

2) Tamlama ekleri:

İlgi eki adıyla da bilinir. Genelde belirtili isim tamlamalarında yer alır.

- O sen-in bileceğin iş.
- Ahmet'in canı bugün çocuk sıkkın.

3) İsmiñ hal ekleri:

Kendi içerisinde dört gruba ayrılan çekim ekleridir. -ı / -i / -a / -e / -da / -de ve -dan / -den eklerinden oluşur.

a. Belirtme eki

- Masa-yı kaldırırken zorlandım.
- Ayşe'yi bugün gördün mü?

b. Yönelme eki

- Aldığım kitaplar kargo-ya verilmiş.
- O-na verdiğim sözü tutacağım.

c. Bulunma eki

- Kurşun kalemin Ayşe'de kaldı.
- Bugün kütüphane-de kalıp ders çalışacağım.

d. Çıkma eki

- Ev-den çıkmadan önce annemi aramam gerekiyor.
- Bu şehir-den çok sıkıldım.

4) İyelik eki:

Aitlik bildiren eklerdir. Hem nesnelere hem de öznelerin sonuna getirilir.

- Ali'nin kedisi çok tatlı.
- Bluz-umun düğmesi koptu.

İyelik ekleri sıklıkla belirtme ekleri ile karıştırılır.

- Gömleği makineye attın mı?

Burada -i- belirtme eki olarak kullanılmıştır.

- Gömleği çok şık görünüyor.

Burada -i- iyelik eki olarak kullanılmıştır.

5) Eşitlik / Denklik ekleri

Genellikle benzerlik kurmak ya da kıyas yapmak için kullanılan çekim ekleridir.

- Bilge-ce konuşması salondaki herkesi etkiledi.

Bilge gibi.

- Benden yaş- ça büyük biri.

Yaş olarak.

B) Fiil Çekim Ekleri

Haber kipi ve kişi ekleri olarak ikiye ayrılır. Cümledeki eylemlere /yüklemlere eklendiği için bu ismi almıştır.

Fiil çekim eklerine örnekler:

- Bu sabah yeni bir romana başla-dım.

Bilinen geçmiş zaman eki.

- Ben uyurken çok yağmur yağ-mış.

Öğrenilen / Sonradan fark edilen geçmiş zaman eki.

- Bir varmış bir yokmuş

Masallarda kullanılan geçmiş zaman eki.

- Annem evi süpürüyor.

Şimdiki zaman

- Ali, sınıfın en çalışkan öğrencisidir.

Geniş zaman eki

Not: Bazı durumlarda -yor eki şimdiki zaman değil geniş zaman için kullanılabilir.

- Ali, her yaz basketbol ve futbol oynuyor.
- Ali, çalışkanlığıyla tüm öğretmenlerin takdirini topluyor.

1) "Soğuk" sözcüğü aşağıdaki cümlelerin hangisinde mecaz anlamda kullanılmıştır?

- A) Ayakları soğuktan buz kesmişti.
- B) Soğuk davranışlarıyla kendinden uzaklaştırıyordu herkesi.
- C) Bu ürünü soğuk hava deposunda tutmalısınız.
- D) Hava böyle soğuk olursa pikniğe gidemeyiz.

2) Duvarın önüne yerleştirilen perdeye ilânları yapıştırdık.

Perdelerle koltukların rengi hiç uymamış.

Oyunun ikinci perdesini izleyemedik.

Bana anlattıklarıyla gözümdeki perde kalktı, her şeyi anladım.

" Perde " sözcüğünün cümlelerdeki anlam özellikleri hangi seçenekte doğru sıralanmıştır?

- A) Yan – Temel – Terim – Mecaz anlam
- B) Temel – Yan – Terim – Mecaz anlam
- C) Mecaz – Temel – Terim – Yan anlam
- D) Yan – Terim – Mecaz – Temel anlam

3)

I-) Yassı tabanlarını sürükler bir kenarda

Boynu kısa develer, boynu uzun develer

II-) Gücenmesin yakın sana

Uzak sana incinmesin

III-) İster ağla ister uyu bebeğim

Yüreğime kundakladım ben seni

IV-) Bir güvercin uçar akça kanatlı

Barıştan savaşa selam götürür

Numaralandırılmış dizelerin hangisinde zıt anlamlı sözcükler bir arada kullanılmamıştır?

- A) I
- B) II
- C) III
- D) IV

4)

1. Sağlığı
2. Akla
3. Sarsılmadıkça
4. Gelmez
5. Vücut
6. Korumak

Yukarıdaki sözcüklerle kurallı ve anlamlı cümle oluşturulmak istense sıralama nasıl olur?

- A) 1-3-2-5-6-4
- B) 1-2-3-4-5-6
- C) 5-3-1-6-2-4
- D) 5-1-3-2-6-4

5) Aşağıdaki cümlelerin hangisinde dolaylama yoktur?

- A) Balıkçı derya kuzusu bunlar diyordu.
- B) Çevremizi temiz tutmak insanlık görevidir.
- C) Sarı kanaryalar şampiyonluğa hazırlanıyor.
- D) Sihirli kutu daha çok çocuklara hitap ediyor.

6) Aşağıdaki deyimlerden hangisi gerçek anlamı değildir?

- A) Çoğu Gitti Azı Kaldı
- B) İyi gün dostu olmak
- C) Kimi kimsesi olmamak
- D) Kulak misafiri olmak

7) "Ev alma komşu al" bu atasözü aşağıdakilerden hangisi ile anlam yönünden aynıdır?

- A) Damlaya damlaya göl olur.
- B) Sakla samanı gelir zamanı.
- C) Komşu komşunun külüne muhtaçtır.
- D) Ak akçe kara gün içindir.

8) Aşağıdakilerden hangisinde dayanışmanın önemini anlatan bir atasözü vardır?

- A) El el ile değirmen yel ile.
- B) Ayağını yorganına göre uzat.
- C) Eğri otur doğru konuş.
- D) Eskisi olmayanın yenisi olmaz.

- 9) Aşağıdaki cümlelerin hangisi kanıtlanabilirlik açısından diğerlerinden farklıdır?
- A) En güzel pastayı annem yapar
- B) Bence Kısa boylular daha hareketlidir.
- C) 19 Mayıs 1919 Kurtuluş Savaşının başlangıcıdır.
- D) Bana göre en güzel müzik aleti gitardır.

- 10) Aşağıdaki cümlelerin hangisinde diğerlerinden farklı bir anlam ilişkisi vardır?
- A) temiz bir dünya istiyorsan Yerlere çöp atma.
- B) Canım sıkıldığında dışarı çıktım.
- C) Sınıfı geçtiğim için bana bisiklet alındı.
- D) Aşık olduğundan gözü hiçbir şey görmüyor.

- 11) Aşağıdaki cümlelerin hangisinde –ler eki eklendiği kelimeye “her” anlamı katmıştır?
- A) Arkadaşların seni soruyordu.
- B) Elif evdeki dolapları toplasın.
- C) Sabahları erken uyanmayı seviyorum.
- D) Furkanlar birazdan bize gelecek.

- 12) “den” ayrılma eki aşağıdakilerin hangisinde neden sonuç ilişkisi kurmuştur?

- A) Oyuncaklar bezden yapılmıştı.
- B) Arabadan unuttuğunu valizini aldı.
- C) Sevinçten havalara uçmuştu.
- D) Annem teyzemlerden geliyordu.

- 13) Aşağıdaki sözcüklerden hangisi birden fazla çekim eki almıştır?

- A) Tuzluklar
- B) Annemin
- C) Çiçekçi
- D) Okuldalar

- I. Koyun verdi, kuzu verdi, süt verdi.
 II. Yemek verdi, ekmek verdi, et verdi.
 III. Kazma ile döğmeyince kıt verdi.
 IV. Benim sadık yârim kara topraktır
14. ve 15. Soruları yukarıdaki dörtlüğe göre cevaplayınız.

- 14) Yukarıdaki şiirin hangi dizesinde redif veya kafiye yoktur?

- A) I
- B) II
- C) III
- D) IV

15) Yukarıdaki dörtlüğün hece ölçüsü nedir?

- A) 7'li hece ölçüsü.
- B) 8'li hece ölçüsü.
- C) 11'li hece ölçüsü.
- D) 14'lü hece ölçüsü.

16)



Yukarıdaki görselden hangi atasözü çıkarılabilir?

- A) İki karpuz bir koltuğa sığmaz.
- B) Birlikten kuvvet doğar
- C) Acemi katır kapı önünde yük indirir.
- D) Abanın kadri yağmurda bilinir.

17) Mustafa henüz ilkokula yeni başlamıştır. Ailesi günde yarım saat televizyon izlemesine izin vermektedir.

Mustafa televizyon izlerken aşağıdaki sembollerden hangisini içeren programları seyredebilir?

A)



B)



C)



D)



18) Çolo köyünde güneş batarken geniş yapraklı incir ağaçlarının dallarını koyu kıvıllık kaplar. Yeşille kırmızının birleşmesinden doğan bu renk yağmuru gözleri kamaştırır. Sazların arasında süzülen dere köyün dört saat uzağındaki ırmağa kavuşmak için dümdüz ova üstünde mavi bir şerit gibi uzanır.

Bu paragrafta aşağıdakilerden hangisi kullanılmıştır?

- A) Açıklama
- B) Öyküleme
- C) Betimleme
- D) Tartışma

19)

“Uçun kuşlar uçun, doğduğum yere;
Şimdi dağlarında mor sümbül vardır.
Ormanlar koynunda bir serin dere
Dikenler içinde sarı gül vardır.

Orda geçti benim günlerim;
O demleri anıp bugün inlerim;
Destan-ı ömrümü okur, dinlerim,
İçimde oralı bir bülbül vardır.”

Şiirin ana duygusu(teması) nedir?

- A) Tabiat ve kuş sevgisi
- B) Memleket sevgisi
- C) Yaşama isteği
- D) Sıla özlemi

20) Aşağıdaki cümlelerden hangisi bir paragrafın giriş cümlesi olamaz?

- A) Meddah tek kişilik bir oyundur.
- B) Anadolu coğrafyası medeniyetlerin beşiğidir.
- C) Bu saçmalıklara artık bir son verin.
- D) Akıl, insana verilen en büyük hediyedir.

1) Mustafa'nın sadece üslü nicelikleri hesaplayan hesap makinası vardır. Buna göre Mustafa aşağıdaki işlemlerden hangisini hesaplayabilir?

- A) $2+2+2+2$
 B) $3.3+2+2$
 C) $5.5.5.5$
 D) $7+7+7+7+7+7$

2) $25+27$ ifadesinin üslü nicelik şeklinde gösterimi hangisidir?

- A) 5^2+3^3
 B) 5^3+3^3
 C) 2^5+2^7
 D) 5^5+3^3

3) $\triangle^x = 125$ eşitliğinde $\triangle+x$ işleminin sonucu aşağıdakilerden hangisidir?

- A) 7 B) 8
 C) 9 D) 10

4) $2^4 \cdot 5 + 3$ işleminin sonucu kaçtır?

- A) 43 B) 83
 C) 163 D) 323

5) Bir tiyatro oyununu 232 kişi izlemiştir. İzleyicilerden 152'si tam, geriye kalanlar öğrenci bileti almıştır. Tam bilet ücreti 22 TL, öğrenci bileti ise 16 TL'dir. Bu tiyatro sahibi Ömer Bey izleyicilerden ne kadar kazanmıştır?

- A) 4624 B) 4264
 C) 4642 D) 4622

6) Esmâ ile kardeşi Zeynep'in paraları toplamı 421 TL'dir. Esmâ'nın parası, Zehra'nın parasına bölündüğünde bölüm 5, kalan 7'dir. Buna göre, Esmâ'nın parası kaç TL'dir.

- A) 352 B) 354
 C) 356 D) 358

7) Ali'nin boy uzunluğu Yusuf'un boy uzunluğunun 2 katından 55 cm kısadır. Ali ve Yusuf'un boylarının uzunluğu toplamı 305 cm'dir. Buna göre Ali'nin boyunun uzunluğu kaç cm'dir?

- A) 120 B) 125
 C) 145 D) 185

8) Feride Hanım, 6'lı çikolatalı süt paketlerinden 14 tane, 10'lu çikolatalı süt paketlerinden de bir miktar alıyor. Feride Hanım, toplam 314 tane çikolatalı süt aldığına göre kaç paket 10'luk çikolatalı süt almıştır?

- A) 21 B) 23
C) 25 D) 27

9) Semanur, $36-6:6+4.2-3$ işlemini doğru çözdüğüne göre bulması gereken sonuç aşağıdakilerden hangisidir?

- A) 15 B) 18
C) 40 D) 45

10) $(4^2 - 2^2):(13-5^0)$ işleminin sonucu kaçtır?

- A) 1 B) 0 C) -1 D) 2

11) $[(3^2+2^2:2)+2]+5.3$ işleminin sonucu kaçtır?

- A) 22 B) 36 C) 28 D) 30

12) Bir çiftlikteki 50 kümeden her birinde 10 tavuk ve 7 horoz bulunmaktadır. Çiftlikte bulunan horoz ve tavukların toplam sayısı aşağıdakilerden hangisiyle bulunur?

- A) $50.(10+7)$
B) $50.(10-7)$
C) $10.(50+7)$
D) $10.(50-7)$

13) Ruken , anne ve babası ile dolmuşa biniyor. Dolmuş ücreti kişi başına 3 TL olduğuna göre, şoföre 20 TL veren Ruken kaç TL para üstü alır?

- A)10 B) 11 C) 12 D) 13

14) 28 sayısının çarpanlarından kaç tanesi çift sayıdır?

- A) 6 B) 5 C) 4 D) 3

15) 30 sayısının 108 den büyük en küçük katı kaçtır?

- A)109 B)120
C) 138 D) 140

16) Aşağıdakilerden hangisi asal sayı değildir?

- A) 37 B) 51 C) 61 D) 97

17) $\triangle - 12 = \bullet$
 $\bullet + 3 = \Delta$
 $\Delta - 8 = 2$

Yukarıdaki verilere göre;
 $(\Delta + \triangle) - (\bullet \cdot 2)$ işleminin sonucu aşağıdakilerden hangisidir?

- A) 36 B) 15
 C) 44 D) 25

18) Sadık pazartesi günü 2^6 sayfa , Salı günü 7^2 sayfa kitap okumuştur. Sadık iki günde toplam kaç sayfa kitap okumuştur?

- A) 113 B) 81
 B) C) 78 D) 26

19)



2. Doktor



1. Doktor

Yukarıdaki doktorlardan;

1.Doktor: Ben günde 4^2 adet hasta muayene ediyorum.

2.Doktor: Ben günde 5^2 adet hasta muayene ediyorum.

Buna göre; bu hastanede iki günde kaç hasta muayene ediliyor?

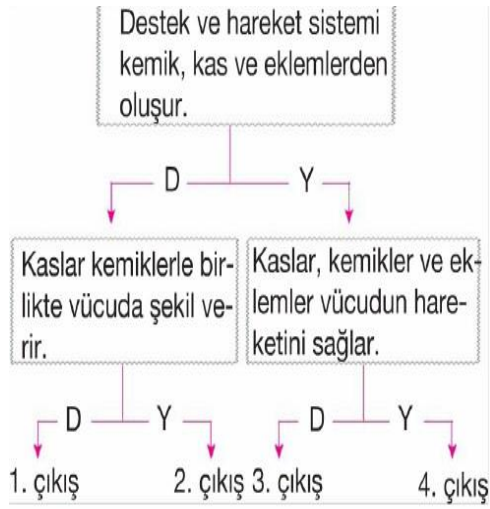
- A) 41 B) 18
 C) 82 D) 36

20) Buna göre Ömer'in şifresi aşağıdakilerden hangisi olabilir?



Ömer'in cep telefonu şifresi hem 3'e hem de 5'e kalansız bölünebilen dört basamaklı bir çift sayıdır.

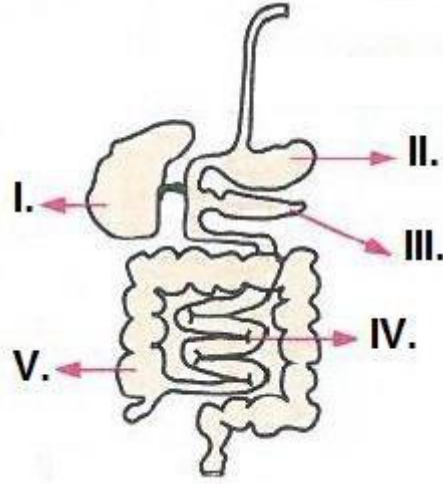
- A) 365 B) 3470
 C) 6180 D) 7515



1) Yukarıda verilen şekilde 3. çıkışa ulaşan bir öğrenci için hangisi söylenebilir?

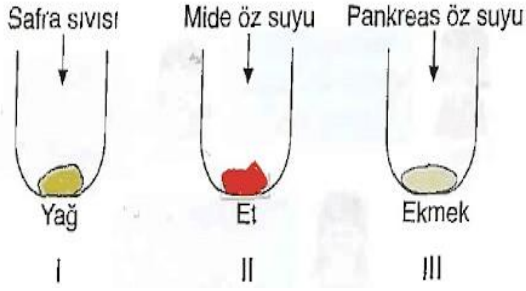
- A) Öğrenci ilk cevabında hata yapmış ikinci cevabını doğru vermiştir.
- B) Öğrenci doğru çıkışa ulaşmıştır.
- C) Destek ve hareket sisteminin temel yapılarını doğru biliyordur.
- D) Öğrenci ilk kısmı doğru cevaplayıp ikinci kısımda hata yapmıştır.

Aşağıdaki şekilde sindirim sistemine ait yapılar numaralarla gösterilmiştir.



2) Buna göre hangisi söylenemez?

- A) IV numara ile gösterilen yapı ince bağırsak olup tüm besin maddelerinin kimyasal sindirimi burada tamamlanır.
- B) I ve II ile gösterilen yapılar sindirimde doğrudan görev almayıp yardımcı organlardır.
- C) II numara ile gösterilen kısım mide olup yağların kimyasal sindirimi burada başlar.
- D) V numara ile gösterilen yapıda emilim olayı gerçekleşir




Şekilde I, II ve III numaralı deney tüpleri ve bu deney tüplerine eklenen sıvılar gösterilmiştir.

1. Safra sıvısı safra kesesinde üretiliyor olup I numaralı deney tüpünde kimyasal sindirimi gerçekleştirilmektedir.
2. Pankreas öz suyu I, II ve III numaralı tüplere eklenirse tüm deney tüplerinde kimyasal sindirim olayı görülür.
3. Mide öz suyu tüpün içerisindeki et'e etki ederek proteinlerin kimyasal sindirimini gerçekleştirir.

3) Buna göre hangisi veya hangileri söylenebilir?

- A) Yalnız 1
- B) 1 ve 2
- C) 2 ve 3
- D) 1, 2 ve 3



Tuba, Nimet ve Meltem isimli öğrenciler gezegenler konusunu tekrar etmek için gezegen kartları hazırlayarak bir torbaya atıyor. Kartlar gezegenlerin Güneş'e yakınlık sıralamasına göre 1'den 8' e kadar numaralandırılıyor.

Kurala göre: Her öğrenci torbadan 1 kart seçecektir. Çekilen karttaki gezegenden bir sonra gelen gezegenin özelliklerini söyleyecektir.

Tuba: Güneş sisteminin en büyük gezegeniyim.

Çok sayıda uydum var.

Nimet: Kızıl gezegen olarak anılırım. 2 doğal uydum var.

Meltem: Güneş'e en uzak olan benim. Teleskop yoksa eğer göremezsiniz beni.

4) Buna göre verilenlerden hangisi ya da hangileri doğrudur?

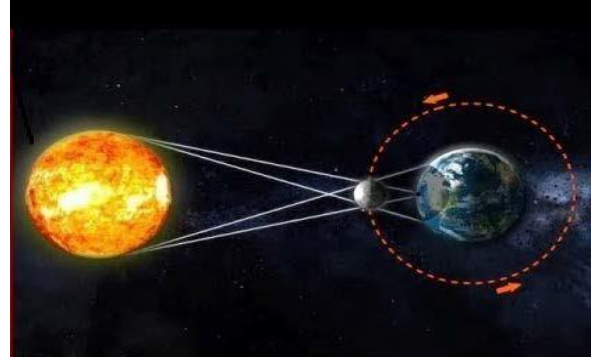
- I. Nimet'in söylediği özellikler Tuba'nın çektiği karttaki gezegene aittir.
- II. Meltem'in söylediği özellikler Neptün gezegenine ait olduğuna göre çektiği kart Satürn gezegenidir.
- III. Meltem'in çektiği karttaki gezegenden 2 gezegen geriye gelirse Tuba'nın söylediği gezegene gelinir.

- A) Yalnız I
- B) I ve II
- C) I ve III
- D) I, II ve III



5) Verilen şekli tamamen doğru cevaplayan bir öğrenci kaçınıcı çıkışa ulaşır?

- A) 4. çıkış
- B) 3. çıkış
- C) 2. çıkış
- D) 1. çıkış

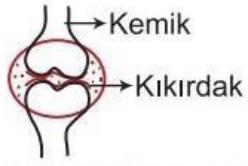


Yukarıda şekli verilen tutulma olayıyla ilgili Deniz'in yaptığı yorumlar şu şekildedir.

- I) Bu tutulmanın gerçekleşebilmesi için Güneş, Dünya ve Ay aynı konumda olmalıdır.
- II) Bu şekil Ay tutulmasına aittir.
- III) Bu tutulma Ay'ın yeni ay evresinde gerçekleşir.

6) Buna göre hangisi doğrudur?

- A) Deniz'in yaptığı tüm yorumlar doğrudur.
- B) Deniz şekilde verilen tutulmanın hangi evrede gerçekleştiğini yanlış söylemiştir.
- C) Deniz şekilde verilen tutulmanın hangi tutulma olduğunu yanlış söylemiştir.
- D) Deniz'in yaptığı I ve II. yorumlar doğru, III. yorum ise yanlıştır.



Hareket eder.	Kıkırdak vardır.	Sınırlı hareket eder.
Göğüs kafesinde bulunur.	Kafatasında bulunur.	Kol ve bacaklarda bulunur.
Hareket etmez.	Omurgada bulunur.	Kıkırdak yoktur.

7) Şekilde gösterilen eklem çeşidiyle ilgili tabloda verilen özelliklerden doğru olanlar tarandığı zaman nasıl bir görüntü oluşur?

A)

		■
■		
	■	

B)

■	■	
		■

C)

	■	
■		

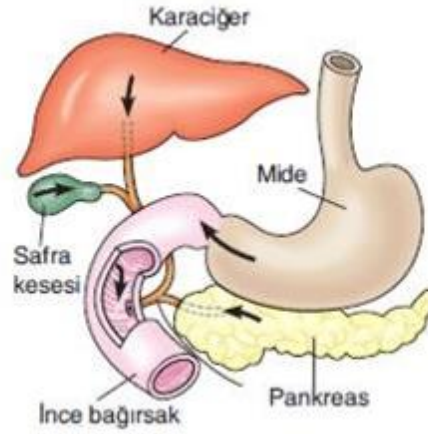
D)

	■	■
	■	

Kas Çeşidi	Yorulma Özelliği	Kasılma Biçimi	Çalışma Şekli
K	Yok	Yavaş	İstemsiz
L	Yok	Hızlı	İstemsiz
M	Var	Hızlı	İstemli

8) Yukarıda verilen tabloya bakılarak hangi yorum yapılamaz?

- A) K ile belirtilen kas çeşidi ince bağırsakların yapısında bulunur.
- B) L ile belirtilen kas çeşidinin bir ismi de iskelet kaslarıdır.
- C) M ile belirtilen kas çeşidi kol ve bacaklarda bulunur.
- D) K, L ve M kasları, kemikler ve eklemlerle beraber vücudun hareketini sağlar.



9) Şekilde sindirimde görev alan organların yerleri gösterilmiştir. Bu organlar ve görevleri ile ilgili hangisi doğrudur?

- A) Safra kesesi safra sıvısını üretip ince bağırsağa boşaltarak sindirime yardımcı olur.
- B) Midede protein, yağ ve karbonhidratların kimyasal sindirimi gerçekleşir.
- C) Pankreas öz suyu ince bağırsakta sadece karbonhidrat sindirimi yapar.
- D) İnce bağırsakta tüm besin maddelerinin kimyasal sindirimi tamamlanır.

10) Verilen şekilde numaralandırılmış yerlere hangi kemik şekilleri yazılmalıdır?

I II III

- A) Yassı kemik Kısa kemik Uzun kemik
 B) Yassı kemik Uzun kemik Kısa kemik
 C) Kısa kemik Uzun kemik Yassı kemik
 D) Kısa kemik Yassı kemik Uzun kemik

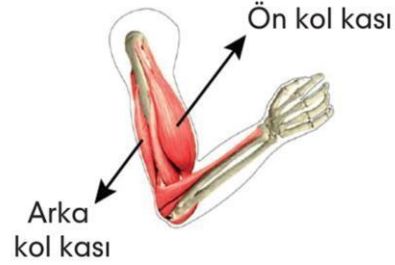
Kemik uçlarında veya kemiklerin birleşme bölgelerinde bulunur. Büyüme döneminde kemiğin boyunun uzamasını sağlar.

Kemik kadar sert olmayan, esnek ve canlı dokudur.

11) Yukarıda özellikleri belirtilen destek ve hareket sistemi yapısı hangi seçenekte verilmiştir?

- A) Eklem
 B) Kas
 C) Kıkırdak
 D) Omur

12)



Kol kasları ile ilgili aşağıdakilerden hangisi söylenemez?

- A) İstemli çalışır.
 B) Yavaş ve ritmik kasılır.
 C) Çabuk yorulur.
 D) Çizgili kaslara örnek verilebilir.

13)

Besinler, sindirim sisteminden sırasıyla;

Ağız → Yutak → Yemek borusu → Mide → Karaciğer → İnce Bağırsak → Kalın Bağırsak → Anüs

yapılarını izleyerek geçer diyen Murat'ın hangi organı silmesi gerekir?

- A) Yemek Borusu B) Karaciğer
 C) İnce Bağırsak D) Kalın Bağırsak



Mars gezegeniyle ilgili olarak

I: Kızıl gezegen olarak adlandırılır.

II: Güneşe uzaklık sıralamasında dördüncü sıradadır.

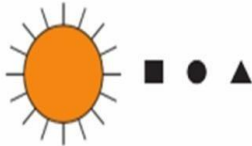
III: Uydusu vardır, fakat halkası yoktur.

14) Yukarıdaki ifadelerden hangileri doğrudur?

- A) Yalnız I
- B) I ve II
- C) I ve III
- D) I, II ve III

15)

Aşağıda ■, ●, ▲ sembolleriyle gösterilen ardışık üç gezegenin Güneş etrafındaki konumları verilmiştir.



Buna göre, aşağıdaki ifadelerden hangisi söylenemez?

- A) ■ Venüs ise ▲ Dünya'dır.
- B) ● Uranüs ise ▲ Neptün'dür.
- C) ▲ Jüpiter ise ● Mars'tır.
- D) ● Satürn ise ■ Jüpiter'dir.

16)

- Kimyasal sindirim
- Emilim
- Mekanik sindirim

Hipotez: Yukarıda verilen üç olay da midede gerçekleşebilir.

Buna göre hipotez ile ilgili aşağıdaki değerlendirmelerden hangisi doğrudur?

- A) Tamamen doğrudur.
- B) Yanlıştır. Çünkü midede sadece mekanik sindirim gerçekleşir.
- C) Yanlıştır. Çünkü midede sadece proteinlerin kimyasal sindirimi gerçekleşir.
- D) Yanlıştır. Çünkü emilim olayı sadece ince ve kalın bağırsakta gerçekleşir.

17)

- Minerallerin depo edilmesini sağlar.
- Kan hücresi üretilir.
- Vücudun dik durmasını sağlar.
- Vücudun hareket etmesini sağlar.
- Solunuma yardımcı olur.

Yukarıda verilenlerden kaç tanesi iskelet sisteminin görevlerindedir?

- A) 2
- B) 3
- C) 4
- D) 5

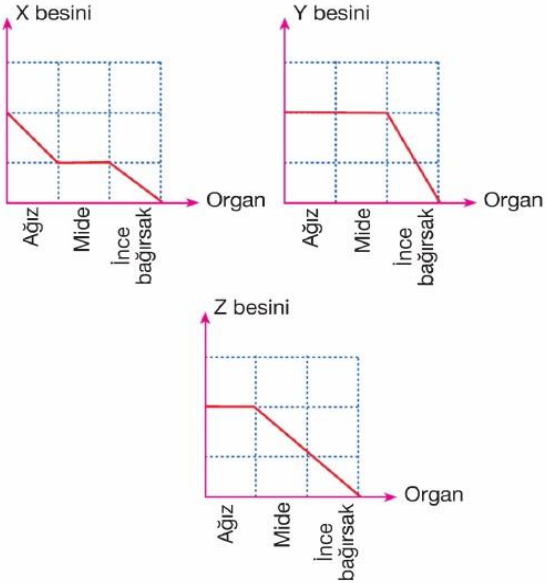
18)

- I. Mide
- II. İdrar kesesi
- III. Atardamar
- IV. Bacak

Yukarıdaki organlardan hangilerinin yapısında çizgili kas bulunur?

- A) Yalnız I
- B) Yalnız IV
- C) III ve IV
- D) I, II ve III

19)



Yukarıda X, Y ve Z besinlerinin sindirildikleri organlara göre grafikleri verilmiştir.

Verilen grafiklere göre, X, Y ve Z besinleri aşağıdakilerden hangisinde doğru verilmiştir?

- | X | Y | Z |
|-----------------|--------------|--------------|
| A) Karbonhidrat | Protein | Yağ |
| B) Protein | Yağ | Karbonhidrat |
| C) Karbonhidrat | Yağ | Protein |
| D) Protein | Karbonhidrat | Yağ |

20) Ay tutulmasının gerçekleştiği sırada aşağıdaki olaylardan hangisi gerçekleşmez?

- A) Dünya, Ay ve Güneş arasına girer.
- B) Ay'ın gölgesi Dünya'nın üzerine düşer.
- C) Ay'ın tamamında gözlemlenir.
- D) Güneş, Dünya ve Ay aynı doğrultudadır.

1) Aşağıdakilerden hangisi o dönemin askeri sistemini gösteren bir cümledir?

- A) Ordu millet anlayışı
- B) Her an savaşa katılabilecekleri
- C) Güçlü bir ordu oluşturmayı
- D) Bütün savaşları kazanmayı.

Merhaba arkadaşlar ben orta Asya'da yaşamaktaydım. Benim zamanımda kurultaya hakanın eşi olan hatun da katılırdı. Ve devlet işleriyle ilgili alınan kararlarda söz sahibi olurdu.

2) Yukarıda verilen bilgiyle ilgili olarak Aşağıdakilerden hangisi söylenbilir?

- A) Son sözün kadında bittiği.
- B) kadına büyük bir değer verildiği.
- C) her kararın kadının aldığı.
- D) Merhametli ve affedici olduğu.

3) Aşağıdakilerden hangisi Orta Asya'da yaşayan, Türklerin ölümlerini gömmek için düzenledikleri törendir?

- A) Kut
- B) Kurgan
- C) Yuğ
- D) Balbal

4) Konargöçer yaşamı benimseyen Türkler en çok at, koyun ve sığır yetiştirmişlerdir. Bunun yanında tahılı öğütürerek un ve ekme yapmışlardır. Çadırlarını keçeden yapmışlar. Kilim eşyalara dokudukları desen ve motiflerle sanat anlayışını yansıtmışlardır?

Açıklamaya göre Türkler aşağıdaki ekonomik faaliyetlerden hangisiyle ilgilenmiş olamaz?

- A) Hayvancılık
- B) Tarım
- C) Dokumacılık
- D) Ticaret

1. Ekonomileri ticarete

Dayanırdı.

2. Konar göçer bir yaşam

Sürerlerdi.

4. Tarımla uğraşırlardı.

4. Atı evcilleştirip savaşta

Kullanmışlardır.

5) Yukarıda orta Asya Türkleriyle ilgili verilen bilgilerden kaç tanesi doğrudur?

- A) 1
- B) 2
- C) 3
- D) 4

6) İlk Türk devletlerinde, Türklerin genellikle çadırlarda yaşamaları ve hayvancılıkla uğraşmaları aşağıdakilerden hangisinin göstergesidir?

- A) Bozkırlarda yaşadıkları
- B) Yerleşik hayata geçtikleri
- C) Tarımsal faaliyetlerle uğraştıkları
- D) Göçebe yaşamı benimsedikleri

7) Aşağıdakilerden hangisi Türklerin orta Asya'dan göç etme nedenlerinden biri değildir?

- A) Bozkır yaşamı sevmediklerinden
- B) Türklerin bağımsızlığına düşkünlüğü
- C) Salgın hayvan hastalıkları
- D) Çin ve diğer devletlerin baskısı

Merhaba arkadaşlar ben orta Asya'da Yaşamaktaydım. Benim zamanımızda mezarların başına, ölen kişinin, öldürdüğü düşman sayısınca taş heykeller dikilirdi. Bu heykellere ne ad verilirdi?

8) Aşağıdakilerden hangisi Yukarıda verilen bilgiyle ilgili kavramdır?

- A) Balbal
- B) kurultay
- C) Töre
- D) Kağan

9) Aşağıdakilerden hangisi Orta Asya Türklerinde mimari yapının gelişmemesinin nedenlerinden biridir?

- A) Taş eksikliği yaşandığından
- B) Göçebe bir yaşam sürdürdüklerinden
- C) Mimari yapılara önem vermediklerinden
- D) Mimari ile uğraşmak istediklerinden

10) Ayşe sosyal bilgiler dersinde orta Asya da yaşayan Türklerle ilgili olarak arkadaşlarından yardım alarak okul panosu için sloganlar hazırlayacaktır.

Buna göre Ayşe'nin aşağıda verilen sloganlardan hangisini alması uygun olmaz?



A) Hayvancılık yap ekonomini geliştir!



B) Karasal iklimdesin bozkırda yaşa.!



C) Sürekli göçebe ediyorsan çadırda yaşa.!



D) saraylar yap ve etrafını surlarla kapla.!

11) Orta Asya'da kurulmuş olan ilk Türk devletlerinde

I-taşınabilir sanat eserlerinin yapılması,

II-hayvancılığın temel geçim kaynağı olması,

III-insanların savaşçı ve mücadeleci bir yapıya sahip olması

Durumlarından hangilerinin oluşumunda coğrafi şartların etkili olduğu söylenebilir?

- A) Yalnız I B) I ve II
C) II ve III D) I, II ve III

12) Kök Türkler, yılın belirli zamanlarında kutladıkları bayram ve şölenlerde tanrı adına kurbanlar keserek beraberce eğlenirlerdi. Bu kutlamalarda şarkılar söylerler, çeşitli yarışmalar düzenlerlerdi. En sevilen ve beğenilen yarışma ise at yarışlarıydı.

Verilen parçaya göre, Türklerin yaptıkları bu faaliyetlerde, aşağıdaki kültür unsurlarından hangisine ait bir örnek yoktur?

- A) Dil B) Din C) Spor D)Yönetim

13) Türk devletlerinde hükümdar öldüğünde hanedandaki tüm erkek üyelerin başa geçme hakkı vardı.

Aşağıdakilerden hangisi verilen bu durumun bir sonucudur?

- A) Kara ticaretinin gelişmesi
B) Sözlü edebiyatın oluşması
C) Taht kavgalarının çıkması
D) Halkın boylar hâlinde yaşaması

14) Orta Asya Türk devletlerinde görülen aşağıdaki durumlardan hangisi coğrafi şartların bir sonucudur?

- A) Ülkenin hükümdar ailesinin ortak malı sayılması
B) Gök Tanrı inancına sahip olunması
C) Kut anlayışının benimsenmesi
D) Hayvancılıkla uğraşılması

15) Oğuz Kağan büyük kurultayı topladı. Büyük bir ziyafet verdi. Ülkesini oğulları arasında bölüştürdü...

Oğuz Kağan Destanı'ndan yapılan bu alıntıya göre ilk Türk devletleri devlet yönetiminde aşağıdaki anlayışlardan hangisini benimsemiştir?

- A) Ordu-millet işbirliğinin sağlanması
- B) Ülkenin hükümdar ailesinin ortak malı sayılması
- C) Devlet yönetiminde hakan eşlerinin söz sahibi olması
- D) Hükümdara devlet yönetme yetkisinin tanrı tarafından verilmesi

16) İlk Türk devletlerinde devlet işlerinin görüşüldüğü meclise -----
-----adı verilirdi.

Bu cümlede boş bırakılan yere aşağıdakilerden hangisi getirilmelidir?

- A) kurultay B) kut
- C) kurgan D) töre

17) Türk milleti! Kendine gel, aklını başına dev-şir! İtaatsizliğin yüzünden, seni kalkındırmış bilgili kağanına ve zenginleşmiş, kalkınmış güzel yurduna karşı kendin yanıldın, kötülük getirdin.

Bu metne göre Bilge Kağan Türk milletine aşağıdakilerden hangisini öğütlemektedir?

- A) Dürüstlüğü B) Çalışkanlığı
- C) Devlete bağlılığı D) Hoşgörüyü

18) "Hun sanatının temeli konargöçer yaşam tarzına dayanır." diyen bir tarihçiye göre aşağıdaki eserlerden hangisinin bu döneme ait olması beklenmez?

- A) Pazırık halısı
- B) Demir savaş aletleri
- C) Deri çizmeler
- D) Dinî tapınaklar

19) İlk Türk topluluklarında ölen kişi kıymetli eşyalarıyla beraber “kurgan” adı verilen mezarlara gömülürdü. Bu bilgiye göre ilk Türk topluluklarıyla ilgili aşağıdakilerden hangisi söylenebilir?

- A) Ölümden sonraki yaşama inandıkları
- B) Savaşçılık özelliklerini kaybettikleri
- C) İdari teşkilatlanmada geliştikleri
- D) Yerleşik yaşama geçtikleri

20)Ünlü Tarihçi Jean Paul Roux, Türkler ve Orta Asya hakkında şu bilgileri vermiştir:

“Aslında Türkler kendilerini “güçlüler” olarak adlandırmakta haklıydılar. Ülke şartları son derece acımasızdı ancak buna uyanlar yaşayabilirdi. Çünkü bu bölge ortalama yükseltisi 1200 ile 1400 metre arasında değişen bir yayladır. Dağların yükseltisi ise 4000 metrenin üstündedir. Büyük çöküntüler ve yüksekliklerden oluşur. Bölge çok az yağış almaktadır. Kışın şiddetli soğuklar olur, sıcaklık -50 dereceye kadar düşer, akarsular ve göller donar.”

Yukarıdaki açıklamayı yapan tarihçi Türklerin hangi özelliğini vurgulamak istemiştir?

- A) Orta Asya bölgesinin coğrafi özelliklerini.
- B) Bölgenin doğal güzelliklerinin neler olduğunu.
- C) Doğal şartların zorluğuna rağmen Türklerin uyum sağlamayı bildiklerini
- D) Türklerin bu bölgeyi çok sevdiğini ve doğasını koruduğunu.

KAZANIM 1: Peygamber ve peygamberlik kavramlarını tanımlar.

KAZANIM 2: Peygamberlerin özelliklerini ve görevlerini açıklar.

KAZANIM 3: Peygamberlerde insanlar için güzel örnekler olduğunu fark eder.

KAZANIM 4: Vahinin gönderiliş amacını araştırır.

KAZANIM 5: İlahi kitap ve peygamberleri eşleştirir.

1) Allah'tan aldıkları mesajları insanlara iletmekle görevli elçilere ne ad verilir?

- A) Halife
- B) Derviş
- C) Evliya
- D) Peygamber

2) Allah'ın emir ve yasaklarını peygamberlerine bildirmesine ne ad verilir?

- A) Mesaj
- B) İletişim
- C) Vahiy
- D) Haber

3) Allah'tan almış olduğu vahyi peygamberlerine iletmekle görevli melek aşağıdakilerden hangisidir?

- A) Mikail
- B) Cebrail
- C) Halife
- D) İsrail

4) Aşağıdakilerden hangisi peygamberlerin gönderiliş amaçlarındandır?

- A) İnsanlara Allah'ın varlığını ve birliğini anlatmak
- B) İnsanların sadece Allah'a ibadet etmelerini sağlamak
- C) İnsanlara örnek olmak.
- D) Hepsi

5) Aşağıdakilerden hangisi peygamberlerin niteliklerinden biri değildir?

- A) Okuryazar olmak
- B) Doğru olmak
- C) Güvenilir olmak
- D) Akıllı ve zeki olma

6) İlk peygamber ve ilk insan aşağıdakilerden hangisidir?

- A) Hz. Musa
- B) Hz. Âdem
- C) Hz. Nuh
- D) Hz. İbrahim

7) Peygamberlerle ilgili olarak aşağıda verilen bilgilerden hangisi yanlıştır?

- A) İnsanı iyiliğe ve doğruluğa yönlendiren yol göstericilerdir
- B) İnsanları yanlış ve kötü davranışlardan uzaklaştırmak için çalışmışlardır.
- C) Yaşadıkları toplumları iyiliğe ve güzelliğe çağırmışlardır.
- D) Sadece kendi dönemlerindeki insanlara örneklerdir.

8) Aşağıdakilerden hangisi kutsal kitaplardan değildir?

- A) Zebur
- B) Risaleler
- C) İncil
- D) Kur'an-ı Kerim

9) **Arzu:** Bazı peygamberler güvenilir değildirler.

Esra: Peygamberler son derece doğru insanlardır.

Cansu: Peygamberler sözlerinde ve davranışlarında asla doğruluktan ayrılmazlar.

Derya: Peygamberler asla yalan söylemezler.

Yukarıda bazı öğrencilere ait görüşlere yer verilmiştir. Hangi öğrencinin görüşü doğru olarak kabul edilemez?

- A) Derya
- B) Cansu
- C) Arzu
- D) Esra

10) Allah, insanlara peygamberler aracılığı ile bildirmiştir. Noktalı yere uygun kelime aşağıdakilerden hangisidir?

- A) mesajını
- B) milletlere
- C) melek
- D) tarihte

11) Kuranda adı geçen kaç peygamber vardır?

- A) 22
- B) 25
- C) 24
- D) 23

12) "Bütün peygamberler" cümlesinde noktalı yere aşağıdakilerden hangisi yazılmalıdır?

- A) melektir
- B) cindir
- C) şeytandır
- D) insandır

13) Peygamberlerin öteki insanlardan ayıran en önemli farklı yönü hangisidir?

- A) İnsanlara iyiyi öğretmeleri
- B) Allah'tan vahiy almaları
- C) İbadet yapmaları
- D) İnsanlara dini tebliğ etmeleri

14) Aşağıda verilen davranışlardan hangisi peygamberlere ait bir özellik olamaz?

- A) Günah işlemek
- B) Allah'a ibadet etmek
- C) İnsanlara örnek olmak
- D) Doğru olmak

15) Aşağıdaki peygamberlerden hangisine ilahî kitap gönderilmiştir?

- A) Hz. Harun
- B) Hz. Hızır
- C) Hz. Süleyman
- D) Hz. Musa

16) Sayfalar hâlinde gönderilen ilahî kitaplara verilen isim aşağıdakilerden hangisidir?

- A) İlmihal
- B) Suhuf
- C) Zebur
- D) Hadis

17) Aşağıdakilerden hangisi peygamberlerin niteliklerinden değildir?

- A) Bekar olmak
- B) Allah'tan aldığı mesajları olduğu gibi insanlara açıklamak
- C) Doğruluk ve dürüstlük
- D) Emanete ihanet etmemek

18) İlahî kitaplarla ilgili olarak aşağıdakilerden hangisi yanlıştır?

- A) Kulların yapması gereken görevler öğretilmiştir.
- B) Dünya ve ahirette mutlu olmanın yolları gösterilmiştir.
- C) Allah'ın emirlerini ve yasaklarını bildirilmiştir.
- D) Gönderilen kitapların hiç birisi değiştirilmemiştir.

19) Aşağıdaki peygamber- ilahi kitap eşleştirmelerinden hangisi yanlıştır?

- A) Hz. Adem - Zebur
- B) Hz. Musa - Tevrat
- C) Hz. İsa - İncil
- D) Hz. Muhammed - Kur'an-ı Kerim


20) Aşağıdakilerden hangisi Kutsal Kitapların gönderiliş amaçlarından değildir?

- A) Emir ve yasaklar koymak
- B) Deneysel bilgiler hakkında açıklamalar yapmak
- C) Ahlaki hükümler koymak
- D) Ahiret ile ilgili bilgiler vermek

1) Jack _____ her hands before and after breakfast.

- A- washing
- B- washs
- C- is washes
- D- washes

2) What is the time?



- A- It is twelve to two.
- B- It is twenty past two
- C- It is twenty past twelve.
- D- It is twenty to twelve.

3) Which one is NOT correct?

- A- 14:40 – It's twenty to three.
- B- 07:30 – It's half past seven.
- C- 21:15 – It's quarter past nine.
- D- 11:45- It's quarter past eleven.

4) _____ is the tenth month of the year ?

- A- October
- B- September
- C- April
- D- January

5) A: _____ you tidy your room?

B: Yes, I _____ .

- A- Does / does
- B- Do / does
- C- Do / do
- D- Does / do

6) My brother _____ at seven o'clock and _____ with his friends at weekends.

- A- get up/ plays
- B- gets up/ plays
- C- get up / play
- D- gets up /play

7) Choose the odd one out.

- A- Monday
- B- November
- C- March
- D- May

Hi! My name is Sally. I'm Sally. I'm eleven years old. I'm a student. At weekends, I get up at nine o'clock. I have breakfast and I leave from home at ten o'clock. Because my tennis course starts at half past ten.

Answer 8. 9. And 10. questions according to the paragraph.

8) When does Sally get up at nine o'clock?

- A- On weekdays
- B- At weekends
- C- On Sundays
- D- On Saturdays

9) What time does her tennis course start?

- A- at nine
- B- at ten o'clock
- C- at eleven
- D- at half past ten

10) Does Sally have breakfast?

- A- Yes, she do.
- B- No, she doesn't.
- C- Yes, she does.
- D- No, she don't.

11) " a- read- I- nights- book- at"

Write the correct form of sentence.

- A- I book a read at nights.
- B- I at nights read a book.
- C- I read a book at nights.
- D- I book at nights a read.

12) Tuesday _____ Thursday _____
Saturday

Which one is CORRECT?

- A- Wednesday- Friday
- B- Wednesday- Sunday
- C- Monday- Wednesday
- D- Sunday- Wednesday

13) Which one is NOT correct?

- A- studies
- B- catches
- C- goes
- D- kisses

14) Melisa:

.....
Burak: My father usually reads newspaper after lunch.

Which of the following questions **does** Melisa ask Bill?

- A- What does your father do?
- B- What do you do after breakfast?
- C- What does your father do after lunch?
- D- What is your father's job?

15) 10.06.2014 :

Which one is TRUE ?

- A- Sixth of October, two hundred fourteen
- B- Tenth of June, two hundred fourteen
- C- Sixth of October, two thousand fourteen
- D- Tenth of June, two thousand fourteen

16) She brushes her teeth at ten to twelve.

- A- 12:10
- B- 10:12
- C- 23:50
- D- 22:10

17) honey
Butter
Milk
Tea

Which one is suitable title for the list?

- A) Weekdays
- B) Family members
- C) Daily routines
- D) Yummy breakfast



18) My mother doesn't like for breakfast.

- A- Cereal
- B- Olive
- C- Jam
- D- Croissant

19) Waiter: Would you like to drink something?

George:

- A- Yes, I'm thirsty
- B- Enjoy it
- C- Yes, I'm hungry
- D- I love cake

20) Choose the odd one.

Orange juice
Bagel
Muffin
Pancake

- A- Orange juice
- B- Muffin
- C- Bagel
- D- Pancake

CEVAP ANAHTARI

TÜRKÇE

- 1) B
- 2) A
- 3) C
- 4) D
- 5) B
- 6) D
- 7) C
- 8) A
- 9) C
- 10)A
- 11)C
- 12)C
- 13)D
- 14)D
- 15)C
- 16)B
- 17)A
- 18)C
- 19)D
- 20)C

SOSYAL BİLGİLER

- 1) A
- 2) B
- 3) C
- 4) D
- 5) C
- 6) D
- 7) A
- 8) A
- 9) C
- 10)D
- 11)C
- 12)D
- 13)C
- 14)D
- 15)B
- 16)A
- 17)C
- 18)D
- 19)A
- 20)C

MATEMATİK

- 1) C
- 2) A
- 3) B
- 4) B
- 5) A
- 6) A
- 7) D
- 8) B
- 9) C
- 10)A
- 11)C
- 12)A
- 13)B
- 14)C
- 15)B
- 16)B
- 17)B
- 18)A
- 19)C
- 20)C

DİN KÜLTÜRÜ VE
AHLAK BİLGİSİ

- 1) D
- 2) C
- 3) B
- 4) D
- 5) A
- 6) B
- 7) D
- 8) B
- 9) C
- 10)A
- 11)B
- 12)D
- 13)B
- 14)A
- 15)D
- 16)B
- 17)A
- 18)D
- 19)A
- 20)B

FEN BİLİMLERİ

- 1) A
- 2) B
- 3) C
- 4) C
- 5) D
- 6) C
- 7) B
- 8) B
- 9) D
- 10)A
- 11)C
- 12)B
- 13)B
- 14)D
- 15)A
- 16)D
- 17)C
- 18)B
- 19)C
- 20)B

İNGİLİZCE

- 1) D
- 2) C
- 3) D
- 4) A
- 5) C
- 6) B
- 7) A
- 8) B
- 9) D
- 10)C
- 11)C
- 12)A
- 13)B
- 14)C
- 15)D
- 16)C
- 17)D
- 18)B
- 19)A
- 20)A

EMEĞİ GEÇEN ÖĞRETMENLERİMİZ

SIİRT MİLLİ EĞİTİM AR-GE BİRİMİ

Murat EKİNCİ

Koordinatör Okul Müdürü

Kübra SARAN

Bilişim Teknolojileri Öğretmeni

Ayşegül SIRMA

Kübra ÇELİK

Aydan KAHYALAR

Vedat TATLI

Mustafa ÇIK

Türkçe Öğretmenleri

Ömer YAŞAR

Matematik Öğretmeni

Esra TUNÇ

Meral GÜREL YILDIZ

Sosyal Bilgiler Öğretmenleri

Deniz DALAN

Fen Bilimleri Öğretmeni

Hamit SULTAN

Din Kültürü ve Ahlak Bilgisi

Öğretmeni

Esra KARANFİL

İngilizce Öğretmeni