



SIIRT İL MİLLİ EĞİTİM MÜDÜRLÜĞÜ

2020

ORTAOKUL

12 - 16 EKİM

6

ÖDEU TAKİP SİSTEMİ

0484 223 10 28

arge56@meb.gov.tr

siirt.meb.gov.tr

@mem_siirt

@siirtmem

- 1-Yemeğin acı az olmuş.
 2-Yaşanan acı günler artık bitti.
 3-Onun bakışları bana çok tatlı gelirdi.
 4-Tatlı yemek için pastaneye gittik.

1)Yukarıdaki cümlelerde altı çizili olan kelimelerin hangileri mecaz anlamlıdır?

- A)1 ve 2 B) 2 ve 4
 C)2 ve 3 D) 1 ve 4

2) Göz kelimesi aşağıdaki cümlelerin hangisinde deyim içinde kullanılmamıştır?

- A) Konuşurken aniden gözümden yaş boşandı.
 B) Son yaptıklarından sonra iyice gözümden düştü.
 C) Küçükken bir şey alamayınca onlarda gözüm kalırdı.
 D) Gözüm çok kaşındığı için doktora gittik.

3)Şurubu günaşırı içersem iyileşirim.

Bu cümlede altı çizili kelimenin cümleye kattığı anlam aşağıdakilerin hangisinde vardır?

- A) Genellikle tatile nisan ayında gideriz.
 B) Her yıl burada olimpiyatlar yapılıyor.
 C) İki günde bir koşunca insan alışıyor.
 D) Bazen sinemaya da giderdi.

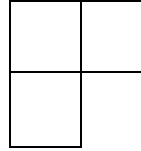
Karşımda onu görünce uzun uzun baktım.

Vitrin camından kırmızı ayakkabılara baktım.


Senelerce, hasta olan anneme ben baktım.

Neden kızdığını anlamak için yüzüne baktım.


4) Yukarıdaki tabloda “bakmak” kelimesinin mecaz anlamda kullanıldığı kutucuk tablodan çıkarıldığında yeni oluşacak şekil hangisi olur?



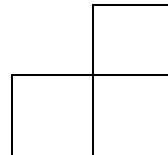
A)



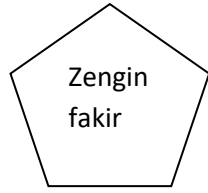
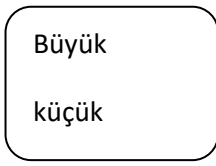
B)



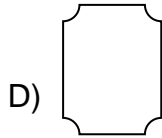

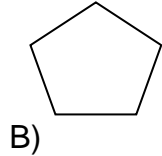
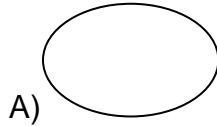
C)



D)



5) Yukarıda şekiller içinde yer alan kelime çiftlerinden hangisi anlam ilişkisi bakımından farklıdır?



6) Aşağıda altı çizili kelimelerle ilgili verilen bilgilerden yanlış bilgi verilen kutucuk hangisidir?

	Eş Anlam	Zıt Anlam
1) <u>Yaşlı</u> amca bize doğru yaklaştı.	var	var
2) <u>Elin</u> ne dediğini umursamamalıyız.	var	var
3) <u>Aşağı</u> iner inmez bana seslendi.	var	var
5) <u>Üzerinde siyah</u> bir elbise vardı.	var	var

A)1

B)2

C)3

D)4

7) Aşağıdaki cümlelerin hangisinde terim anlamlı bir kelime kullanılmıştır?

- A) Okula gitmek için evden ayrıldım.
 B) Türkçe dersinde kökleri öğrendik.
 C) Annem bana pasta yapmayı gösterdi.
 D) Yaz tatili için Datça'ya gideceğiz.

8) Aşağıdaki cümlelerin hangisinde zıt anlamlı sözcükler bir arada kullanılmıştır?

- A) Doğru düzgün insanlarla karşılaştım.
 B) İleri geri konuşup annemi sinirlendirdi.
 C) Her şey yoluna girecek, biliyorum.
 D) Mutlu ve mutsuz anlarımda yanımda o olur.

Ayla : Babam uzun zaman sonra yanıma geliyor. Aylardır yurt dışında çalışıyordu. Onu göreceğim için çok heyecanlıyım, mutluyum. Adeta.....

9) Ayla'nın sözleri anlatım akışına göre aşağıdaki deyimlerden hangisiyle tamamlanmalıdır?

- A) Etekleri tutuşmak.
 B) Elimden geleni yapmak.
 C) Etekleri zil çalmak.
 D) Kabuğuna çekilmek.

10) Gerektiğinde bir konuya yeniden dönebilme imkanı bırakmak. Kesip atmamak, ileriye düşünerek ılımlı davranmak.

Yukarıda açıklaması verilen deyim aşağıdakilerden hangisidir?

- A) Ağırdan almak
- B) Açık kapı bırakmak
- C) Ağzını bıçak açmamak
- D) Akla karayı seçmek.

11) Aşağıdaki cümlelerin hangisinde nesnel bir anlatım kullanılmıştır?

- A) Okul en güzel yerdir.
- B) Çiçekler insana mutluluk verir.
- C) Bu kitapta yüz otuz sayfa var.
- D) Deniz herkesin huzur bulduğu yerdir.

12) Aşağıdaki cümlelerin hangisinde neden-sonuç anlamı vardır?

- A) Ankara'ya gitmek için bilet aldım.
- B) Okumak uğruna her şeyi göze aldı.
- C) Çok harcadığı için parası kalmadı.
- D) Başarılı olabilmek için uğraşıyordu.

13) Aşağıdaki cümlelerin hangisinde altı çizili sözcük soyut anlamlıdır?

- A) Ekmek almaya her gün o gidiyordu.
- B) Mutluluktan havalara uçuyordu.
- C) Çiçeklerini düzenli olarak sulardı.
- D) Dosyada hiçbir eksik yoktu.

14) Aşağıdaki cümlelerin hangisinde nokta farklı bir amaçla kullanılmıştır?

- A) Bugün okul alışverişi için bir liste hazırladık.
- B) Prof. Dr. Haldun Bey ile görüşmem var.
- C) Çiçek Sok. nerede, söyler misiniz?
- D)Av. Handan Hanım da bizimle geliyor.

15)Aşağıdaki cümlelerin hangisinde yazım yanlışı yapılmıştır?

- A) Senin de mi ödevlerin daha bitmedi?
- B) Evde kimseyi göremeyince biraz korktum.
- C) Herkes pikniğe geliyor mu?
- D)Ankara da uzun yıllar yaşadım.

-Bir oturuşta dünyalar kadar yemek yer
-İzlediğimiz filme gülmekten öldük.

16) Yukarıdaki dizelerde aşağıdaki söz sanatlarından hangisi vardır?

- A) Konuşturma
- B) Benzetme
- C) Abartma
- D) Zıtlık

17) Hedefi olmayan gemiye hiçbir rüzgar yardım edemez.

Yukarıdaki cümleyi anlamca en iyi karşılayan cümle aşağıdakilerden hangisidir?

- A) Fırsatlardan yalnızca hedefini bilen insanlar yararlanabilir.
- B) Fırsatlara ulaşmak için doğru koşulları bekleyelim.
- C) İnsanın amacı varsa başaracaktır.
- D) Doğru yolu takip ederek hedefe ulaşabiliriz.

18) Bir zamanlar İngiltere’de yaşayan fakir bir kız, bir zenginle evlenmiş. Uzun zaman sonra da çocukları olmuş. Kime götürdülse çocuğa bir şifa bulamamışlar. Sonunda herkesin dilinde dolanmaya başlayan bir doktorun kapısını çalmışlar. Ondan çocuklarının iyi olması için çareler istemişler.

Bu hikayeye ilgili aşağıda verilen bilgilerden hangisi yanlıştır?

- A) Hikaye kahramanları verilmiştir.
- B) Hikayede zaman unsuru belirgindir.
- C) Hikayede yer belirlidir.
- D) Hikayede olay örgüsü vardır.

19) Aşağıdaki olaylardan hangisi 3.kişi ağzıyla anlatılmıştır?

- A) Köye giderken yanımıza yiyeceğimizi alır ve yol boyunca sohbet ederek ilerlerdik.
- B) O her şeyin en iyisini bildiğini düşünür ve kimsenin fikrini almaya gerek duymazdı.
- C) Hepimiz birbirimizi çok sevmemizin ne kadar önemli olduğunu biliyorduk. Sevdikçe güçleniyorduk.
- D) Çiçeklerimi büyüttüm. Onları her gün kendimden bir şeyler vererek büyüttüm. Sevgimi, ilgimi, sohbetimi verdim onlara.

20)Dünyayı verelim çocuklara, hiç
değilse bir günlüğüne
Allı pullu bir balon gibi verelim
oynasınlar,
Oynasınlar türküler söyleyerek
arasında.

Dünyayı çocuklara verelim,
Kocaman bir elma gibi verelim, sıcacık
bir ekmek somunu gibi,
Bir günlüğüne de olsa öğrensin dünya
arkadaşlığı.
Çocuklar dünyayı alacak elimizden,
Ölümsüz ağaçlar dikecekler.

Nazım Hikmet RAN

**Yukarıdaki şiire en uygun başlık
aşağıdakilerden hangisidir?**

- A) Dünya
- B) Çocuk ve Dünya
- C) Dünyayı Verelim Çocuklara
- D) Çocukların Dünyası

KAZANIM 1: DOĞAL SAYILARLA DÖRT İŞLEM YAPMAYI GEREKTİREN PROBLEMLERİ ÇÖZER.

KAZANIM 2: DOĞAL SAYILARIN ÇARPANLARINI VE KATLARINI BELİRLER. 2,3,4,5,6,9 VE 10 İLE KALANSIZ BÖLÜNEBİLME KURALLARINI AÇIKLAR VE KULLANIR.

1) Saatte 80 km hızla giden bir arabanın aldığı yolu 5 saatte alabilmesi için hızını kaç km azaltmalıdır?

A)30 B)32 C)40 D)45

2) Aralarında 8 yaş bulunan iki kardeşin yaşları toplamı 50 ise büyük kardeş kaç yaşındadır?

A)20 B)21 C)25 D)29

3) 68AB dört basamaklı doğal sayı 10 ile tam bölünebiliyor. Buna göre bu sayının 9 ile de tam bölünebilmesi için A'nın alacağı değer kaçtır?

A)2 B)3 C)4 D)5

4) Beş basamaklı 12A4B doğal sayısı 3 ve 10 ile kalansız bölünebiliyor. Buna göre A+B 'nin alabileceği en büyük değeri kaçtır?

A)2 B)4 C)5 D)8

5) 5A7B dört basamaklı doğal sayısı 2,5 ve 9 ile kalansız bölünebildiğine göre A+B' nin toplamı kaçtır?

A)6 B)7 C)8 D)9

6) Beş basamaklı 6A48B tek doğal sayısı 5 ve 9 ile kalansız bölünebiliyor. Buna göre A+B' nin değeri kaçtır?

A)7 B)8 C)9 D)10

7) 15'in 41 ile 101 arasında kaç tane tam katı vardır?

A)4 B)5 C)6 D)7

8)Aşağıdakilerden hangisi 60'ın bir çarpanı değildir?

A)2 B)4 C)5 D)7

9)23'ün 180'e kadar kaç tane tam katı vardır?

A)5 B)6 C)7 D)8

10)80'in en büyük tamsayı böleni ile en küçük tamsayı böleninin toplamı kaçtır?

A)0 B)1 C)80 D)81

11)30 sayısının çarpanlarından çift olanlarının toplamı kaçtır?

A)48 B)50 C)52 D)54

12)A3 iki basamaklı doğal sayısı asal sayı ise A'nın alabileceği en büyük değer kaçtır?

A)5 B)6 C)7 D)8

13)5A iki basamaklı doğal sayısı asal sayı ise A'nın alabileceği en küçük değer kaçtır?

A)2 B)3 C)5 D)7

14)Aşağıdakilerden hangisi hem 3'ün hem 7'nin bir katıdır?

A)18 B)25 C)36 D)42

15)Aşağıdakilerden hangisi hem 12'nin hem 8'in ortak bir bölenidir?

A)3 B)4 C)5 D)6

16)45 sayısının asal çarpanlarının toplamı kaçtır?

A)5 B)6 C)7 D)8

17)300 sayısının en büyük asal çarpanı ile en küçük asal çarpanının toplamı kaçtır?

A)7 B)8 C)9 D)10

18)Aşağıdakilerden hangisi asal sayı değildir?

A)37 B)47 C)57 D)67

19)Aşağıdakilerden hangisi asal sayıdır?

A)27 B)33 C)71 D)81

20)Aşağıdakilerden hangisi 16'nın bir tam katıdır?

A)30 B)48 C)60 D)82

ÜNİTE 1: GÜNEŞ, DÜNYA VE AY
2.BÖLÜM: GÜNEŞ VE AY
TUTULMALARI
KAZANIMLAR: (6.1.2.3) GÜNEŞ VE
AY TUTULMASINI TEMSİL EDEN
BİR MODEL OLUŞTURUR. (2 SAAT)

KONU ÖZETİ


A- Güneş Tutulması



- Ay, Güneş'in ve Dünya'nın arasında kaldığında gerçekleşir.
- Güneş, Dünya üzerinde belirli bölgelerde gözlenemez.
- Ay, Dünya üzerinde Güneş tutulmasının gözlemlendiği bölgelerde Güneş ışığının bir kısmını veya tamamını engeller.
- Ay'ın yeniay evresinde gerçekleşir.
- Ay tutulmasına göre daha seyrek gerçekleşir.
- Dünya üzerinde dar bir alanda gözlemlenir.
- Filtreli gözlükle izlenmelidir.
- Parçalı güneş tutulmasında güneşin bir kısmı görülür yarı gölge gerçekleşir.
- Güneş tutulması, Güneş'in katmanları hakkında bilgi edinmemizi sağlamıştır.

DİKKAT: Güneş tutulması sadece Ay, "yeni ay" evresinde iken meydana gelebilir. Ay, Dünya etrafındaki dönüşünü 29.5 tamamladığına göre her ay Güneş tutulması olabilir. Fakat, Ay'ın yörünge düzlemi arasında 5 derecelik fark olduğu için Güneş tutulması her ay gerçekleşmez.

B- Ay Tutulması



- Dünya, Güneş'in ve Ay'ın arasında kaldığında gerçekleşir.
- Ay, karanlıkta kaldığı için Dünya üzerinden gözlenemez.
- Dünya, Güneş ışınlarının Ay'a ulaşmasını engeller.
- Gece gerçekleşir.
- Yalnızca Ay'ın dolunay evresinde gerçekleşir.
- Güneş tutulmasına göre daha sık gerçekleşir.
- Dünya üzerinde daha geniş bir alanda gözlenir.
- Tutulma uzun süre gözlenir.
- Çıplak gözle izlenebilir.

DİKKAT: Ay tutulması boyunca Dünya, Güneş ışınlarının Ay'a ulaşmasını engeller. Ancak Dünya atmosferini geçip Ay'a ulaşan ışınlar tarafından aydınlatılan Ay, tamamen karanlığa gömülmez. Güneş ışığı Dünya atmosferinden geçerken içerdiği mavi ışığı yitirir. Böylece arta kalan Güneş ışığının rengi koyu kırmızı ve turuncudur. Dolayısıyla Ay, tam tutulma sırasında koyu kahverengi, kırmızı, parlak turuncu ve sarıya doğru bir renk dağılımına sahip olarak gerçekleşebilir. Ay tutulması Ay'ın dolunay evresinde iken gerçekleşebilir fakat her ay, Ay tutulması olmaz.

ÜNİTE 2: VUCUDUMUZDAKİ SİSTEMELER

1.BÖLÜM: DESTEK VE HAREKET S. KAZANIMLAR: (6.2.1.1) DESTEK VE HAREKET SİSTEMİNE AİT YAPILARI ÖRNEKLERLE AÇIKLAR. (2 SAAT)

KONU ÖZETİ

Destek ve Hareket Sistemi

Destek ve hareket sistemi iskelet ve kaslardan oluşur.

İskelet sistemi de kemik, eklem ve kıkırdaktan meydana gelir.

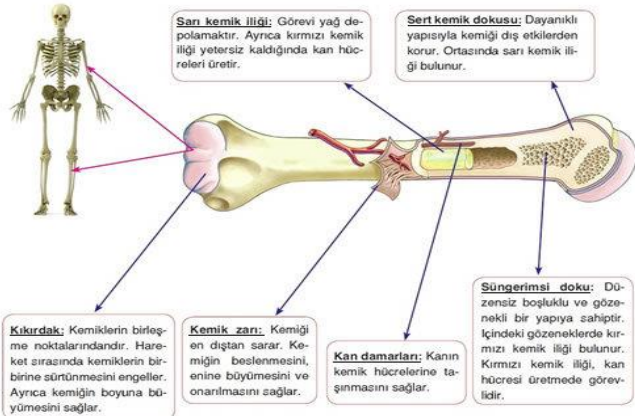
A- Kemikler

Kemikler kıkırdığın sertleşmesi sonucu oluşur.

Anne karnında kıkırdak doku kalsiyum birikerek kemiğe dönüşür.

Kemikleşme yirmili yaşlara kadar devam eder.

Kemiğin Kısımları



Kemiklerin Görevleri

- İskeletimizi oluşturan kemikler vücudumuzun dik durmasını sağlar.
- Kaslara ve diğer organlara tutunma görevi yapar.
- Kan yapımında görevlidir.
- Vücudumuz için gerekli kalsiyum, magnezyum ve fosfor gibi mineraller kemiklerde depo edilir.

- İç organları dış etkilere karşı korur. (Kafatası beyini, göğüs kafesi kalp ve akciğeri korur.)

- Kemikler kaslarla beraber hareket etmemizi sağlar.

Not: Yetişkin insan iskeletinde 206, yeni doğmuş bebeklerde ise 300 kemik bulunur.

Kemikler yapısı ve şekline göre üçe ayrılır.

1. Uzun kemik

- Boyu eninden fazla olan kemiklerdir.
- İçlerinde sarı kemik iliği bulunur.
- Kol ve bacak kemikleri (Uyluk, kaval, baldır, dirsek, ön kol, pazı) uzun kemiktir.
- İnsanda en uzun kemik uyluk kemiğidir.

2. Kısa kemik

- Eni boyuna yakın olan kemiklerdir.
- El ve ayak bilek kemikleri, omurlar kısa kemiktir.

3. Yassı kemik

- Yassı şeklindeki kemiklerdir.
- Yapısında sarı kemik iliği yoktur.
- Kafatası, kaburga, leğen, kürek kemikleri yassı kemiklerdir.

Not: İnsan vücudunda en uzun kemik uyluk kemiği, en kısa kemikte kulakta bulunan üzengi kemiğidir.

B- Eklemler

Kemiklerin birbirine bağlandığı yerlere eklem denir.

Hareket yeteneklerine göre üçe ayrılır.

1. Oynar eklem

- Hareket yeteneği fazladır.
- Kemikler arasında boşluk ve eklem sıvısı vardır.
- Eklem sıvısı ve eklem kıkırdığı kemiklerin aşınmasını önler.

- Kol, bacak, parmak, bilek, omuzda bulunur.

2. Yarı oynar eklem

- Hareket yeteneği çok azdır.
- Kemikler arasında kırkırdak bulunur, eklem sıvısı bulunmaz.
- Göğüs kafesi, boyun, omurgadaki eklemler ve alt çenede guruba girer.

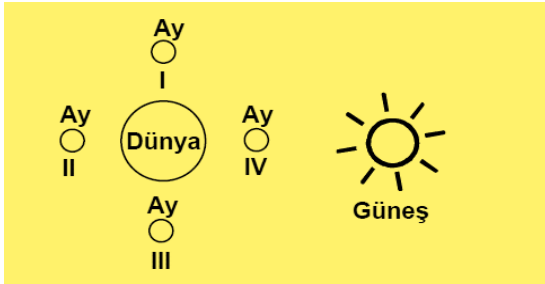
3. Oynamaz eklem

- Hareketsiz eklemlerdir.
- Oynamaz eklem içerisinde eklem sıvısı yoktur.
- Testere dişleri gibi birbirine bağlanmışlardır.
- Kafatası, yüz, kalça ve kuyruk sokumu oynamaz eklem bulunur.

1) Ay tutulması ile ilgili aşağıda verilen ifadelerden hangisi doğrudur?

- A) Ay'ın "Yeni Ay" evresinde gerçekleşir.
 B) Senede sadece bir kere yaşanır.
 C) Ay, Dünya'nın gölge konisi içerisinde kalır.
 D) Ay, konum olarak Güneş ile Dünya'nın arasında bulunur

2) Aşağıdaki görselde Güneş ve Dünya aynı doğrultuda bulunmaktadır.



Güneş tutulmasının gerçekleşebilmesi için Ay, numaralanmış konumların hangisinde bulunmalıdır?

- A) I B) II C) III D) IV



3) Ay tutulmasını modellemek isteyen bir öğrenci bu gök cisimlerini hangi sıraya göre aynı doğrultuda dizmelidir.?

- A) I - III - II B) II - III - I
 C) II - I - III D) III - II - I

4) Aşağıdaki olaylardan hangisi hem Güneş hem de Ay tutulması için ortak bir özelliktir

- A) Her ay gerçekleşmesi
 B) Ay'ın yeni ay evresinde gerçekleşmesi
 C) Ay'ın dolunay evresinde gerçekleşmesi
 D) Güneş, Dünya ve Ay'ın aynı doğrultuda olması

5)Güneş tutulması ile ilgili

- I Ay'ın ilk dördün evresinde görülür
 II Dünya'nın gündüz yaşanılan sürelerinde gözlemlenir
 III Ay'ın yeni ay evresinde meydana gelir

Yukarıda verilen ifadelerden hangisi yanlıştır?

- A)Yalnız I B)Yalnız II
 C)I ve II D)I ve III

6)I Ay tutulması Ay'ın evresinde gerçekleşir.

II Güneş tutulması gerçekleşmesi için Dünya, Ay ve Güneş'indoğrultuda konumlanmaları gerekir.

III Güneş tutulması Ay'ınevresinde gerçekleşir

Yukarıda verilen bilgilere göre noktalı yerlere hangi kavramlar gelmelidir.?

- A) Yeni ay-farklı-dolunay
 B) Yeni ay-aynı-dolunay
 C) Dolunay-aynı-yeni ay
 D) Dolunay-farklı-yeni ay

7) Güneş sisteminde bulunan gezegenlerin isimleri numaralanarak aşağıdaki tabloda verilmiştir.

1- Mars	2Jupiter	3 Satürn	4-Merkür
5.Dünya	6.Uranüs	7.Venüs	8- Neptün

Buna göre hiç uydusu olmayan gezegenlerin numaraları hangi seçenekte doğru verilmiştir?

- A) 1 - 3 B) 4 - 7
C) 2 - 5 - 7 D) 3 - 6 - 8

8) Gezegenimsi gök cisimleri olarak da bilinen asteroitler, Güneş'in çevresinde dolanırlar. Ancak asteroitlerin iki gezegenin yörüngeleri arasında yoğun olarak buldukları bir bölge vardır ki buraya "Asteroit Kuşağı" denir.

Buna göre bu gezegen çifti aşağıdakilerin hangisinde verilmiştir?

- A) Dünya- Jüpiter
B) Merkür - Venüs
C) Mars- Jüpiter
D) Uranüs – Neptün

9) Ay tutulması ile ilgili aşağıdakilerden hangisi yanlıştır?

- A) Dünya Güneş ile Ay arasına girer
B) Güneş gözlüğü kullanmak gerekmez
C) Gündüz yaşanan bölgelerde gözlenir.
D) Gece yaşanan bölgelerde gözlenir.

10) I Dünya,Ay tutulması sırasında Ay'a göre Güneş'e daha yakındır

II Ay,Güneş tutulmasında Dünya'ya göre Güneş'e daha uzak konumdadır.

III Güneş tutulması her ay gerçekleşir.

Yukarıda verilen bilgilerden hangisi yada hangileri yanlıştır?

- A)Yalnız I B) II ve III
C) I ve III D) I II ve III

11)Aşağıdakilerden hangisi iskelet sisteminin görevlerinden biri değildir?

- A) Kan hücresi üretmek
B)İç organları korumak
C)Kaslara bağlanma yüzeyi oluşturmak
D)Vücut sıcaklığını düzenlemek

12)Düşme, çarpma, zorlama gibi durumlar sonucunda oluşan kemiklerdeki çatlamlar, aşağıdaki kısımların hangisi tarafından onarılır?

- A) Kemik iliği B) Kemik zarı
C)Sıkı kemik D) Kemik kırırdağı

13)Aşağıda verilen cümlelerden hangisi doğrudur?

- A) Yeni doğan bir bebeğin kemik sayısı bir yetişine göre azdır.
B) Kemikler kaslarla birlikte vücuda şekil verir
C) Yaşlıların kemikleri gençlere göre daha sağlamdır.
D)Bütün kemiklerin yapıları aynıdır.

14)Leyla Öğretmen sınıfa girdiğinde, sınıftaki öğrencilerin yorgun ve bitkin olduğunu fark eder. Nedenini sorduğunda bir önceki dersin Beden Eğitimi dersi olduğunu öğrenir.

Buna göre öğrencilerin yorgun olma sebebi sizce aşağıdakilerden hangisidir?

- A) İç organlarımızdaki kasların hızlı kasılması
B) Kalp kasımızın çizgili kas olması
C)Vücudumuzu saran çizgili kasların çabuk yorulması
D)Kalbimizin istemsiz çalışması

15)Yürümeye yeni başlayan bebeklerin özellikle protein ve kalsiyum yönünden iyi beslenmeleri ve yeterince D vitamini için güneş ışığı almaları tavsiye edilir.

Bebeklik döneminde önemle vurgulanan bu tavsiyeler hangi sistemimizin sağlığını olumlu etkiler?

- A) Dolaşım Sistemi
B) Destek ve Hareket Sistemi
C)Boşaltım Sistemi
D)Sindirim Sistemi

16) I.Platin çubuk takma

II.Alçıya alma

III.Protez yapılar kullanma

Vücudumuzdaki bazı kısımların yaralanmalarında veya eksikliklerinde kullanılan tedavi yöntemleri verilmiştir.

Bu yöntemler hangi rahatsızlıkların veya eksiklerin giderilmesinde kullanılır?

- A) Kalp rahatsızlıkları
B) Kalp nakli
C)Kas krampları
D) Kemik hasarları

17)Şevket: Yumuşak ve kaygandır.
Yasin: Kemiklerin aşınmasını engeller.
Mustafa: Burunda ve kulakta bulunur.
İsmail: Bebeklik döneminde vücudumuzda fazla bulunur.

Öğrencilerin söylediği özellikler aşağıdaki yapılardan hangisine aittir?

- A) Kemik Zarı B) Eklem
C)Kıkırdak D) Kaslar

18)Sirke içerisinde bekletilen kemik esnekleşir. Bunun nedeni sirkenin kalsiyumu kemikten uzaklaştırmasıdır.

Yukarıda verilen ifadeye göre aşağıdakilerden hangisine ulaşılabilir?

- A) Kalsiyum kemiğin canlılığını korur.
B) Kalsiyum kemiğin boyuna uzamasını sağlar.
C)Kalsiyum kemiğe sertlik kazandırır.
D)Kalsiyum kemiğin onarılmasında görevlidir.

19)Masadan yere düşen kitabımızı alırken aşağıdakilerden hangisi kullanılmamıştır?

- A) Kemik B) Kıkırdak
C)Eklem D) Kas

20)İskeletin yapısında aşağıdakilerin hangisi bulunmaz?

- A) Kıkırdak B) Kemik
C)Eklem D) Kas

Değişen Rollerimiz

- Rollerimiz, içinde bulunduğumuz gruba veya kuruma göre değişebilir ve çeşitlilik gösterebilir.

1) Okulun İzcilik Kulübü üyeleri olarak hafta sonu Palandöken dağında kamp kurduk. Kampta öğretmenimiz kulüp üyelerine görev dağılımı yaptı ve “Çocuklar herkes görevini layıkıyla yaparsa kamp sorunsuz geçer.” dedi.

Yukarıda verilen parçada öğretmen neyin önemini vurgulamaktadır?

- A) İçinde bulunduğumuz gruptaki rollerin
- B) Kamp yerinin
- C) İzcilik Kulübünün
- D) Sınıftaki arkadaş ilişkilerinin

2) 6.sınıf öğrencisi olan Nurullah okul kurallarına uyma, derslerine çalışma ve arkadaşlarıyla uyumlu olma gibi sorumlulukları yerine getirmektedir.

Aşağıdakilerden hangisi Nurullah'ın öğrenci rolüne uygun bir sorumluluk değildir?

- A) Okula zamanında gelmek
- B) Sınıfı temiz tutmak
- C) Ailesinin ekonomik geçimini sağlamak
- D) Öğretmenlerine saygılı olmak

3) Yaşamımız boyunca grup ve kurumlarda farklı roller üstleniriz. Önemli olan içinde bulunduğumuz role uygun davranışlarda bulunmak ve farklı rollerin davranışlarını birbirine karıştırmamaktır.

Açıklamaya göre aşağıdaki rol-beklenen davranış eşleştirmelerinden hangisi yanlıştır?

	Rol	Beklenen davranış
A)	Öğretmen	Örnek insan olmak
B)	Hakim	Yasaya uygun karar vermek
C)	Çiftçi	Sağlıklı ürünler yetiştirmek
D)	Doktor	Güvenliği sağlamak

Biz ve Değerlerimiz

- Kuşaktan kuşağa aktarılan ve bir toplumu diğer toplumlardan ayıran hayat tarzı o toplumun milli kültürüdür.
- Dil, tarih, inanç, gelenek, örf gibi milli kültürü oluşturan unsurlar, milletin birliği ve beraberliğinde önemli rolle sahiptir.

4) Kültürün nesilden nesile aktarılması, yaşaması ve gelişmesi dil yoluyla olur. Böylece millet hayatındaki devamlılık dil sayesinde sağlanmış olur. Kültürün bazı unsurları varlığını ve devamını dile borçludur. Bu yüzden Türkçemizin korunması ve geliştirilmesi, kültürün yaşaması için gereklidir.

Sadece metne göre aşağıdakilerden hangisine ulaşılamaz?

- A) Dil, kültürün geleceğe aktarılmasında köprü vazifesi görür.
- B) Dil, kültürel sürekliliğin sağlanmasında rol oynar.
- C) Kültürümüzün en önemli ögesi dilimizdir.
- D) Kültürün yaşaması dilimizin korunması ve geliştirilmesine bağlıdır.

5) Her yıl ülkemizde takvimler 18 Mart'ı gösterdiğinde Çanakkale Zaferi çeşitli etkinliklerle kutlanır, şehitlerimiz anılır. Yine ülkemizde 30 Ağustos günü Zafer Bayramı olarak kutlanmaktadır. Türk milleti olarak geçmişimizle olan bağlarımızın kopmadığını yukarıdaki örneklerdeki gibi yaşadığı zaferleri çeşitli etkinliklerle kutlayarak göstermektedir.

Yukarıdaki parçaya göre kültür öğelerimizden hangisiyle ilgili milli bir bilincin oluştuğu söylenebilir

- A) Ebru sanatı
- B) Dil
- C) Din
- D) Tarih

6) Toplumsal birlikteliğin oluşmasında sosyal, kültürel ve tarihî bağların önemli bir rolü vardır. **Aşağıdaki öğrencilerden hangisi sosyal, kültürel ve tarihi bağların toplumsal birlikteliğin oluşmasına olumlu etkilerine yanlış bir örnek vermiştir?**

- A) Toplum içerisinde ayrımları artırır.
- B) Birlik ve beraberliği güçlendirir.
- C) Dayanışma duygusunu geliştirir.
- D) Saygı ve hoşgörünün artması sağlar.

7) Önyargı; Bir kişi ya da olaya ilişkin yeterli bir bilgi edinmeden, önceden, peşin bir karara varmış olma durumudur. Buna göre;

Aşağıdakilerden hangisi önyargının nedenleri arasında gösterilemez?

- A) Farklılıklara saygılı olmamak.
- B) Empati kurmamak.
- C) Toplumsal teması arttırmak.
- D) Karşımızdaki kişiyi yeterince tanımamak.

8) Kültürümüzün unsurlarından birisi de akrabaları, hastaları, büyükleri ziyaret etmektir. **Bu ziyaretlerin faydası olarak hangisi gösterilemez?**

- A) Ön yargılar artar.
- B) Sevinçler paylaşılır.
- C) Birlik beraberlik artar.
- D) Sevgi saygı bağı güçlenir.

9) Bir işyeri sahibi fabrikasında çalıştırılmak üzere yeni elemanlar alacaktır. Fakat fabrika sahibi alınacak kişilerin erkek olmasını istiyor. Çünkü bayan personel alırsa, fabrikada iş veriminin düşeceği ve bundan dolayı fabrikanın kârının azalacağını düşünmektedir. Fabrika sahibi bu nedenlerden dolayı işe girmek isteyen bayan personelleri eleyerek erkek personeli tercih etmiştir.

Bu fabrika sahibinin uyguladığı davranış aşağıdakilerden hangisi ile açıklanabilir?

- A) İrk ayrımcılığı
- B) Cinsiyet ayrımcılığı
- C) Mezhep ayrımcılığı
- D) Etnik ayrımcılık

10) Bir toplumda sosyal yardımlaşma ve dayanışma faaliyetlerine bireylerin fazla katılım göstermesi aşağıdakilerden hangisi ile açıklanabilir?

- A) Toplumda ihtiyaç sahipleri fazladır.
- B) Toplumda yardımlaşma ve dayanışma duygusu gelişmiştir.
- C) Bireyler bu faaliyetlerden ekonomik kazanç sağlamaktadır.
- D) Faaliyetlere katılımlar devlet tarafından zorunlu tutulmaktadır.

11) Ali Bey, yeni bir çamaşır makinesi almıştır. Kısa bir süre sonra ürün arızalanmıştır. Ürünün faturasıyla aldığı firmaya müracaat ederek mağduriyeti'nin giderilmesini istemiştir.

Ahmet Bey, probleminin giderilmesi için aşağıdaki hakların hangisinden yararlanacaktır?

- A) Dilekçe hakkı
- B) Tüketici hakkı
- C)Özel yaşamın gizliliği hakkı
- D)Eğitim

12) Rollerimizin zaman içerisinde değişebileceğini söyleyen bir Sosyal Bilgiler Öğretmeni, görüşünü aşağıdaki örneklerden hangisiyle destekler?

- I- Ahmet, sınıfta aynı anda hem öğrenci hem de sınıf başkanıdır.
- II- Ayşe, kardeşi doğunca abla olmuştur.
- III- Dilek, voleybol takımında oynamaktadır.

- A) Yalnız I
- B)Yalnız III
- C) I ve II
- D)II ve III

13) Ela'nın annesi Matematik öğretmenidir. Annesi, okula başlamadan, ona "Kızım okulda bana anne diye hitap etme. Okulda bana öğretmenim demelisin." demiştir. Seda "Neden?" diye sormuştur.

- I- Her grupta tek rolümüz vardır.
- II- Gruplardaki rollerimizi birbirine karıştırmamalıyız.
- III. Okulda öğretmenin, evde annenim.

Seda'nın sorusuna annesi yukarıdaki açıklamalardan hangilerini yapmış olabilir?

- A) Yalnız I
- B)Yalnız III
- C) I ve II
- D)II ve III

14)

- İnsanlarla iletişimimizi artırır.
- Bir arada yaşamamızı sağlar.
- Sosyal bağlarımızı güçlendirir.
- Toplumsal huzuru sağlar.

Yukarıdakilerden kaç tanesi sosyal yardımlaşma ve dayanışmanın bireysel ve toplumsal katkılarındandır?

- A)1
- B)2
- C)3
- D)4

15) Din, Dil, Tarihle birlikte kültürümüzü oluşturan öğelerdendir. Nesilden nesile aktarılan bize ait milli yiyecekler, giyecekler El sanatları, düğünler, eğlenceler, spor oyunları vb'den oluşur

Yukarıda bahsedilen bilgilerden yola çıkarak milli değerlerimizden hangisinden bahsedilmiştir?

- A) Dil
- B) Din
- C) Gelenek ve Görenekler
- D) El Sanatları

16) Bir kişi ya da olaya ilişkin yeterli bir bilgi edinmeden, önceden, peşin bir karara varmış olma durumuna önyargı denir. **Yukarıdaki açıklamaya göre aşağıdakilerden hangisi önyargının sonuçlarından biri değildir?**

- A) Farklılıklara saygılı olmamak
- B) Toplumda ayrışma
- C) Toplumsal çatışma
- D) Arkadaşlık ilişkilerinde düzelme

17) Ali onların mahallesinde çöp sorunu vardır. Bu sorunu nasıl çözeceğini düşünürken birden Sosyal Bilgiler Dersinde işlediği konu olan: "Anayasanın 74. maddesine göre haklarının çiğnendiğini düşünen herkesin yetkili kuruluşlara başvurarak sorun ve şikâyetlerine çözüm arama hakkı olduğu "bilgisi aklına gelerek çöp sorununun çözümü için gerekli yerlere başvurmuştur.

Yukardaki bilgilere dayanarak Ali hangi hakkını kullanmış olduğunu söyleyebiliriz?

- A) Dilekçe Hakkı
- B) Bilgi Edinme Hakkı
- C) İstek ve Şikâyet Hakkı
- D) Düşünce Özgürlüğü

18) Tüketicilerin ister mesafeli alışverişlerde ister doğrudan alışverişlerde aldıkları her türlü ürün ve hizmetlere yönelik şikâyetlerini bildirebilecekleri, problem ve mağduriyetlerine çözüm arayabilecekleri hat aşağıdakilerden hangisidir?

- A) ALO 155
- B) ALO 175
- C) ALO 178
- D) ALO 150

19) --- Doğal afetlerde zarar görenlere çadır, battaniye, giysi ve yiyecek yardımı yapar.

--- Yoksul, kimsesiz, düşkünler için aşevleri açar.

--- Kan bankasıyla kan bağıışı toplar, ihtiyacı olanlara gönderir.

--- Savaşta geçici sağlık merkezleri kurar.

Yukarıdaki açıklamalar aşağıdaki hangi Sivil Toplum Kuruluşu (STK) ya aittir?

- A) Mehmetçik Vakfı
- B) Yeşilay
- C) Kızılay
- D) Türkiye Eğitim Gönüllüleri Vakfı

20) Kültürün aktarıcısıdır. Bütün kültürel değerlerimizin nesillerden nesillere iletilmesini ve bir milletin dünyaya bakış açısının ifade edilmesini sağlar.

Ahmet'in sosyal bilgiler dersinde yaptığı bu tanım, aşağıdaki kültür unsurlarından hangisini ifade etmektedir?

- A) Dil
- B) Din
- C) Tarih
- D) Mimari

Ders: Din Kültürü ve Ahlak Bilgisi

Konu: Vahiy ve vahyin gönderiliş amacı

Kazanım: Vahiy ve vahyin gönderiliş amacını araştırır

Vahiy, Sözlük anlamı fısıldamak, gizli konuşmak, ilham etme, ima ve işaret etmek ve ortaya çıkarmak anlamlarına gelir. Terim anlamı ise Allah Teala'nın emir ve isteklerini peygamberlerine ilettiği haberleşme yoluna ve ilettiği olduğu bilgilere **vahiy** denir.

Allah, peygamberlerine isteklerini vahiy yolu ile iletir. Peygamberler de Allah'tan aldıkları bu vahyi insanlara herhangi bir ilave eksiltme yapmadan olduğu gibi aktarmakla görevlidirler.

Vahiy Meleği: Cebrail (a.s)

Allah İnsanlara Niçin Vahiy Göndermiştir?

- * Her iki dünyada da mutlu olmaları için,
- * İnsanların akıllarını kullanıp doğru yolu bulmaları için,

- * Sorumluluklarını öğretmek için,
- * Yanlış inanç ve yollara sapmamaları için,
- * Allah'ı doğru bir şekilde tanımları için,
- * Ahlaklı ve erdemli bir hayat sürmeleri için,
- * İnsanları güzel davranışlara ve hayırlı işlere yönlendirmek için,
- * Kötü davranışların hangileri olduğunu öğretmek için,
- * İnsanların ahirette hesap verirken "Bilmiyorduk, işitmedik" gibi bahanelerinin önüne geçmek için Allah Teala vahiy göndermiştir.

Vahyin gönderiliş amacı ayet: "Biz bu kitabı sana sırf hakkında ihtilafa düştükleri şeyi insanlara açıklayasın ve iman eden bir topluma da doğru yolu göstereyim ve rahmet olsun diye indirdik." (Nahl suresi, 64. ayet)

1) Aşağıdakilerden hangisi Yüce Allah'ın insanlara vahiy göndermesinin nedenlerinden biri değildir?

- A) insanların yanlış inançlara yönelmelerini engellemek
- B) insanları ahirette cezalandırmak
- C) İnsanları doğru biçimde bilgilendirmek
- D) İnsanlara iyi ve kötüyü bildirmek

Allah, vahiy göndererek insanların, "Bizler bilmiyorduk." veya "Eğer bize de ilahi kitap gelmiş olsaydı biz de doğru yolda olurduk." gibi bahanelerinin önüne geçmiştir.

2) Bu metne getirilebilecek en uygun başlık aşağıdakilerden hangisidir?

- A) Peygamberlere iman
- B) Kutsal Kitaplara İman
- C) Peygamberlerin Özellikleri
- D) Allah'ın Vahiy Gönderme Nedenleri

Vahiy; dünyada nasıl yaşamamız gerektiğini, sorumluluklarımızın! neler olduğunu öğretir. Anne ve babamıza, akrabalarımıza, komşularımıza nasıl davranmamız gerektiğini bildirir. Erdemli bir insan olmamızı tavsiye eder.

3) Bu metinde vahyin gönderilme nedenlerinden hangisi vurgulanmıştır?

- A) İnsanlara ibadet etme yollarını göstermesi
- B) Allah'ın bir olduğunun anlatılması
- C) İnsanları ahlaklı olmaya yönlendirmesi
- D) Ahiret hayatının bilinmesini sağlaması

"Sana kitabı, ancak ayrılığa düştükleri şeyleri onlara açıklaman için ve iman eden bir topluma doğru yolu gösterici ve rahmet olarak indirdik." (Nahl suresi, 64. ayet)

4) Bu ayete göre, vahyin gönderiliş amacı aşağıdakilerden hangisi olamaz?

- A) İnsanların birlik ve beraberliğini sağlamak
- B) İnsanı iyiye, güzele yönlendirmek
- C) Farklı bildikleri konularda insanları bilgilendirmek
- D) İnsanlar arasındaki görüş farklılıklarını artırmak

Allah, gönderdiği vahiylerle insanların kendisini tanımalarını sağlamıştır. Onların nasıl ibadet etmeleri gerektiğini öğretmiştir. İnsanların uymaları gereken ahlak kurallarını bildirmiş, ahiret hayatının varlığını haber vermiştir.

5) Bu metinde aşağıdaki sorulardan hangisine cevap verilmektedir?

- A) İnsan, akıyla Allah'ı bulabilir mi?
- B) Vahiylerin farklı olan yönleri var mıdır?
- C) Allah niçin vahiy göndermiştir?
- D) Vahiyde bir değişiklik olmuş mudur?

"Bu Kur'an; kendisiyle uyarılınsınlar Allah'ın ancak tek ilah olduğunu bilsinler ve akıl sahipleri düşünüp öğüt alsınlar diye insanlara bir bildiridir."
(İbrahim suresi, 52. ayet)

6) Bu ayette aşağıdakilerden hangisi belirtilmektedir?

- A) Vahyin hangi yollarla iletiliği
- B) Vahyin gönderiliş amacı
- C) Vahyin ne zaman başladığı
- D) Vahyin hangi peygamberlere iletiliği

İnsan, akıyla Allah'ın varlığını kavrayabilir. Ancak o, Allah'ın özelliklerini ve ona nasıl ibadet edileceğini tam olarak bilemez. Neye, nasıl inanacağını ve Allah'ın hoşnutluğunu kazanmak için neler yapması gerektiğini kavrayamaz. Allah, insanları bütün bu konularda bilgilendirip aydınlatmak istemiştir. Bu amaçla da

7) Bu metin aşağıdakilerden hangisiyle sürdürülebilir?

- A) İnsanlar arasından seçip görevlendirdiği peygamberlere vahiy göndermiştir.
- B) Her peygambere mucize verilmiştir.
- C) İnsanlar dünyada imtihan olmaktadır.
- D) Peygamberler güvenilir insanlardan seçilmiştir.

Vahiy kavramı sözlükte; gizli konuşma, fısıldama, ilham etme, ima ve işaret etme ve ortaya çıkarma anlamlarına gelir.

8) Vahiy kavramının anlamı hakkında hangisi yanlıştır?

- A) Peygamberler aracılığıyla insanlara bildirir.
- B) Hz. Muhammed'in vefatıyla birlikte vahiy kapısı kapanmıştır.
- C) İnsanların akıllarını kullanıp doğru yolu bulmaları için gönderilmiştir.
- D) Günümüzde vahiy gelmeye devam etmektedir.

Kur'anı Kerim'de ismi geçen üç kişi vardır ki bunların peygamber mi yoksa evliya mı olduğu konusunda net bir bilgi verilmemiştir.

9) Aşağıdakilerden hangisi bu üç kişiden birisi değildir?

- A) Hz. Lokman B) Hz. Zülkarneyn
C) Hz. Yusuf D) Hz. Üzeyr

İslâm inancına göre bütün peygamberler, peygamber olmaları yönüyle eşit kabul edilir ve aralarında bir ayırım yapılmaz. Ancak görevinin büyüklüğü ve Cenab-ı Hak nezdindeki yeri bakımından aralarında derece ayrılığı bulunabilir. Bu peygamberlere Ulü'l Azm peygamberler denir.

10) Aşağıdakilerden hangisi Ulü'l Azm Peygamberlerden birisi değildir?

- A) Hz. Muhammed (a.s)
B) Hz. İbrahim (a.s)
C) Hz. Musa
D) Hz. Âdem (a.s)

11) Aşağıda verilen peygamberlerin özelliklerinden hangisi peygamberlerin güvenilir olması ile ilgili özelliğidir?

- A) Emanet B) Sıdk
C) Fetanet D) İsmet

12) Aşağıdakilerden hangisi Kur'anı Kerim'de ismi geçen bir peygamber değildir?

- A) Hz. Süleyman (a.s)
B) Hz. İsmail (a.s)
C) Hz. Ali (r.a)
D) Hz. İsa (a.s)

İlk insan ve ilk peygamber dir. Son peygamber ise dir.

13) Yukarıda verilen boşluklar aşağıdaki şıklardan hangisi ile doldurulmalıdır?

- A) Hz. Adem (a.s) Hz. Muhammed (s.a.v)
B) Hz. Musa (a.s) Hz. İsa (a.s)
C) Hz. İbrahim (a.s) Hz. İsmail (a.s)
D) Hz. Nuh (a.s) Hz. Eyüp (a.s)

14) Aşağıda verilen peygamberlerin özelliklerinden hangisi peygamberlerin doğruluk ve yalan söylememek ile ilgili özelliğidir?

- A) İsmet B) Sıdk
C) Fetanet D) Emanet

15) Kur'anı Kerim'de Peygamberler için "Üsve-i Hasene" kavramı geçmektedir. Aşağıda verilen şıklardan hangisi bu kavramın anlamıdır?

- A) En güzel örnek B) En iyi insan
C) En zeki insan D) En güzel ahlaklı

Allah Teala vahyi peygamberlere bir melek aracılığı ile göndermiştir.

16) Peygamberler'e vahiy getirmekle görevli olan melek aşağıdakilerden hangisidir?

- A) İsrail B) Mikail
C) Azrail D) Cebrail

Mucize: Peygamberlerin, kendilerine inanmayan insanlara, Allah'ın (c.c) izniyle peygamberliklerini ispat etmek amacıyla gösterdikleri olağanüstü olaylara denir.

17) Aşağıdakilerden hangisi Kur'anı Kerim'de geçen peygamberlerin göstermiş olduğu mucizelerden birisi değildir?

- A) Hz. İbrahim'i (a.s) ateşin yakmaması
B) Hz. Musa'nın (a.s) asasını yere attığında yılanın dönüşmesi
C) Hz. İsa'nın (a.s) ölüleri diriltmesi
D) Hz. Adem'in (a.s) çiftçilik yapması

18) Aşağıda verilen peygamberlerin özelliklerinden hangisi peygamberlerin günah işlememeleri ile ilgili özelliğidir?

- A) Fetanet B) İsmet
C) Sıdk D) Emanet

19) Aşağıdaki kavramlardan hangisi peygamberlik ile ilgili bir kavram değildir?

- A) Semavi B) Resul
C) Nebi D) Risalet

Allahü Teala insanlara emir ve yasaklarını peygamberler aracılığı ile bildirmiştir. Bazı peygamberlere de risalet risalet konusunda yardımcı olması için ilahi kitap göndermiştir. İlahi kitaplara, semavi kitap veya kutsal kitapta denir.

20) Aşağıda verilen ilahi kitap peygamber eşleştirmelerinden hangisi yanlıştır?

- A) Kur'anı Kerim Hz. Muhammed (s.a.v)
B) Tevrat Hz. Musa (a.s)
C) İncil Hz. İsa (a.s)
D) Zebur Hz. İbrahim (a.s)

1)The day after Thursday is

.....

A)Tuesday

B)Friday

C)Monday

D)Saturday

2)Mathilda: When is your birthday?

Amanda:

A)at 3 o'clock

B)It's on 4th July

C)I like birthdays

D)I go to school three times a week

ANSWER THE QUESTIONS 3, 4, and 5 ACCORDING TO THE PARAGRAPH BELOW.

Ali and Mehmet are close friends. They are thirteen years old and they study at secondary school. They can speak English and Spanish. Ali likes playing volleyball and collecting stamps but Mehmet doesn't. Mehmet is interested in playing football and drawing. They play chess together every weekend. On Wednesday, they usually go cycling after school. They also swim every weekday for half an hour.

3)Which one is false?

A)They swim on Monday and Tuesday

B)They like playing chess

C)They can speak two foreign languages

D)They are students

4)Which of the following can complete the information given below according to the paragraph?

I.Age.....

II.Likes.....

III.Languages.....

A)I.Board Games

II.Fifty

III.Mehmet

B)I.13

II.Outdoor sports

III.English and Spanish

C)I.Tuesday

II.At 5 pm

III.Drawing

D)I.Footbal and volleyball

II.English and Spanish

III.Thirteen

5)..... on
Saturday and Sunday.

- A)They swim
- B)They play chess
- C)They climb mountains
- D)They hate backgammon

6)Children: Mummy! Mummy!
Can we play with the kittens?

Mum: No, not now. They
are.....

- A)eating Pizza
- B)drinking milk
- C)flying over the roof
- D)playing hopscotch

7)It is a wild animal. It lives in
Africa. It has a long neck and it is
herbivore. Which animal is it?

- A)Lion
- B>Zebra
- C)Deer
- D)Giraffe

8)Ahmet: During Sacrifice feast,
we eat a lot of meat and share
with the poor.

Amanda: How
interesting!.....?

Ahmet: It is a four day feast.

Which of the following completes
the dialogue above?

- A)How long is it?
- B)Which days do you celebrate it?
- C)What do you usually do on the weekend?
- D)How many people do you visit?

9)Give the correct spelling for
the numbers below.

I.106 II.47
III.3300

- A)I.Fourty four
- II.One thousand three
- III.Thirty three thousand
- B)I.A hundred and six
- II.Fourty seven
- III.Thirty three hundred
- C)I.One hundred six
- II.Forty seven
- III.Three thousand three hundred
- D)I.Six hundred
- II.Seventy four
- III.Thirty three

10)Şenkal: Why don't we decorate the class for Youth and Sports Day?

Emre:It sounds good.
.....?

Şenkal:Flags, flowers and balloons.

Which of the following completes dialogue above?

- A)Shall I help you?
- B)What do we need for it?
- C)Do you like your country?
- D)What do you do?

11)Suzan:?

Esma: It is 3 pm.

Suzan: Oh, I am late. I must go online for my live class.

- A)What time do you wake up?
- B)What is the time?
- C)How do you?
- D)Why are you in a hurry?

12.Ali: What time does your course start?

Mehmet: At 16:20.

Which of the following gives the correct spelling for the underlined word above?

- A)Twenty past three
- B)Twenty to four
- C)Four twenty pm
- D)Four past two

13)Cansu:?

Canan: 4 October 2020.

Cansu: Oh, today we should visit the National History Museum. Do you want to come with us?

Canan: Definitely!

- A)What is the date today?
- B)When is your birthday?
- C)Are you interested in History?
- D)What time is it?

14) Davut: Does Melek run errands at home?

Şeyma:

.....

- A) He never runs errands
- B) She usually takes the garbage out
- C) No, she doesn't
- D) At 6 pm

15) (I) Hasan always does something after school. (II) At first, he does his homework and takes a nap. (III) He brushes his teeth before sleep. (IV) Then, he goes out with his friends.

Find the odd sentence in the paragraph.

- A) III B) I
- C) II D) IV

ANSWER THE QUESTIONS 16, 17, and 18 ACCORDING TO THE PARAGRAPH BELOW.

Hi! My name is Leyla. I am ten years old. I'm from Turkey. I always wake up at 7 on weekdays. I wash my face and have a shower. I always have breakfast and leave home at 8:15. My classes start at 8:30. At 12:30, I have lunch with my friends at school canteen.

16) She always at seven.

- A) sleeps
- B) gets up
- C) has breakfast
- D) ten years

17) After breakfast, she leaves home at

.....

- A) seven pm
- B) eight fifteen am
- C) quarter to eight
- D) half past two

18)What does she do at half past twelve?

- A)She has lunch
- B)She leaves school
- C)She gets up
- D)She has breakfast

19)I.Salih takes a nap after school.

II.Salih visits his grandparents at the weekends.

III.Salih reads a book.

IV.Salih goes online everyday.

A.Salih hergün internete girer.

B.Salih kitap okur.

C.Salih okuldan sonra biraz uyur.

D.Salih hafta sonları büyük anne ve babasını ziyaret eder.

Which of the following matching is True according to Turkish-English meaning?

- A)I-A II-B III-C IV-D
- B)I-C II-D III-B IV-A
- C)I-C II-D III-A IV-B
- D)I-D II-C III-B IV-A

20)Selin: What do you do after school?

Mustafa: I arrive home at 4 pm., have a rest and do homework. In the evenings, I have dinner with my family.

What time does Mustafa arrive at home?

- A) 14:00 B) 18:00
- C) 20:00 D) 16:00

CEVAP ANAHTARI

TÜRKÇE

- 1) C
- 2) D
- 3) C
- 4) B
- 5) A
- 6) C
- 7) B
- 8) B
- 9) C
- 10) B
- 11) C
- 12) C
- 13) B
- 14) A
- 15) D
- 16) C
- 17) B
- 18) B
- 19) B
- 20) C

MATEMATİK

- 1) B
- 2) D
- 3) C
- 4) D
- 5) A
- 6) C
- 7) A
- 8) D
- 9) C
- 10) D
- 11) A
- 12) D
- 13) B
- 14) D
- 15) B
- 16) D
- 17) A
- 18) C
- 19) C
- 20) B

FEN BİLİMLERİ

- 1) C
- 2) D
- 3) D
- 4) D
- 5) A
- 6) C
- 7) B
- 8) C
- 9) C
- 10) B
- 11) D
- 12) B
- 13) B
- 14) C
- 15) B
- 16) D
- 17) C
- 18) C
- 19) B
- 20) A

SOSYAL BİLGİLER

- 1) A
- 2) C
- 3) D
- 4) C
- 5) D
- 6) A
- 7) C
- 8) A
- 9) B
- 10) B
- 11) B
- 12) C
- 13) D
- 14) D
- 15) C
- 16) D
- 17) A
- 18) B
- 19) C
- 20) A

DİN KÜLTÜRÜ VE AHLAK BİLGİSİ

- 1) B
- 2) D
- 3) C
- 4) D
- 5) C
- 6) B
- 7) A
- 8) D
- 9) C
- 10) D
- 11) A
- 12) C
- 13) A
- 14) B
- 15) A
- 16) D
- 17) D
- 18) B
- 19) A
- 20) D

İNGİLİZCE

- 1) B
- 2) B
- 3) A
- 4) B
- 5) B
- 6) B
- 7) D
- 8) A
- 9) C
- 10) B
- 11) B
- 12) C
- 13) A
- 14) C
- 15) A
- 16) B
- 17) B
- 18) A
- 19) B
- 20) D

EMEĞİ GEÇEN ÖĞRETMENLERİMİZ

SIİRT MİLLİ EĞİTİM AR-GE BİRİMİ

Murat EKİNCİ

Koordinatör Okul Müdürü

Kübra SARAN

Bilişim Teknolojileri Öğretmeni

Elif KORKMAZ

Türkçe Öğretmeni

Abdurrahman MARAL

Matematik Öğretmeni

Sinem YALÇIN

Zübeyit ASLANCI

Songül GEREZ

Fen Bilimleri Öğretmenleri

Ömer Faruk ÇELEPKOLU

Zafer YILDIZ

Sosyal Bilgiler Öğretmenleri

Memduh TOKLU

Ebru GÜLEÇ

**Din Kültürü ve Ahlak Bilgisi
Öğretmenleri**

Kemal GÜÇLÜ

İngilizce Öğretmeni