



SIIRT İL MİLLÎ EĞİTİM MÜDÜRLÜĞÜ

2020

ORTAOKUL

28 EYLÜL - 2 EKİM

6

ÖDEU TAKİP SİSTEMİ

0484 223 10 28

arge56@meb.gov.tr

siirt.meb.gov.tr

@mem_siirt

@siirtmem

- 1) I. Odaya solgun bir ışık yayılıyordu.
 II. Son günlerde havalar daha da ısındı.
 III. Heyecandan açlığını unutmuştu.
 IV. Kararsız adımlarla dolanıp duruyordu.

Numaralanmış cümlelerin hangi ikisinde sadece gerçek anlamlı sözcükler kullanılmıştır?

- A) I ve II B) I ve III
 C) II ve III D) III ve IV

- 2) Resme olan merakı yüzünden evi fırça ve boyalarla doldurdu.

Aşağıdaki sözcüklerin hangisinde “merak” sözcüğü bu cümledeki aynı anlamında kullanılmıştır?

- A) Bizim çocuk bilgisayar meraklısıdır.
 B) Arayıp ulaşamayınca meraklandık.
 C) Meraktan neredeyse çatlayacaktı.
 D) Bu aralar bahçe işlerine merak saldı.

3)



Yukarıdaki harflerle adlandırılmış kutucukları yan yana farklı şekillerde yerleştirerek sözcükler oluşturulduğunda, aşağıdaki sözcüklerden hangisinin karşıt anlamı oluşturulamaz?

- A) Çok B) Kuru
 C) Kış D) Yemek

4) Aşağıdaki sözcüklerle anlamca bir grup oluşturulursa hangi seçenek dışarıda kalır?

- A) üst üste B) aynı zamanda
 C) tekrar tekrar D) birbiri ardına

5) Eğer işini yapmazsa insanlar da ,, ,, ,, ,, ,, ,, ,, ,, ,, ,, bir daha oy vermezler.

Bu cümleyi anlamca tamamlamak için boşluklara sırasıyla aşağıdaki sözcük çiftlerinden hangisi gelmelidir?

- A) zamanında – ancak
 B) iyi – ona
 C) güzel – bize
 D) özenerek – bana göre

6) Aşağıdaki ifadelerden hangisi herkes için doğrudur?

- A) Aslan, omurgalı ve yırtıcı bir hayvandır.
 B) Çeşmeden akan suyun tadını beğenmedim.
 C) Bu akşam televizyonda güzel bir film var mı?
 D) Sabahları erken kalkmak dünyanın en güzel şeyi.

7)Aşağıdaki cümlelerin hangisinde amaç-sonuç anlamı vardır?

- A) Son günlerde çok az uyuduğu için gözlerinin altı mosmor olmuştu.
 B) Yarım bıraktığı öğrenimini tamamlamak için okula dönecek.
 C) Uzun süredir görüşemediğimiz için telefon açtığında
 D) Kar yağdığı için perdeleri açıp dışarıyı seyretmek istedi.

8)Aşağıdaki cümlelerin hangisinde "ters" sözcüğü soyut bir anlam taşır?

- A) Ayakkabılarını yine ters giymişti.
 B) Kalemin ters tarafıyla yazmaya çalışıyor.
 C) Bu nehir nasıl böyle ters akıyor?
 D) Amcası, ters adamın tekiydi.

9)



Ömer'in yukarıdaki özelliklerini belirtmek için Ali şöyle bir cümle kurmuştur: Ömer ses sanatçısı, türkülerin omuzlayıcısı, akli aydınlık, yüreği kocaman insan...

Ali belirlediği özelliklerden kaçınıcısına yer vermemiştir?

- A)1 B) 2
 C) 3 D) 4

- ∞ O gün evde bir bayram havası esti.
 ∞ Dişe dokunur bir şey bulmadık.
 ∞ Hatırı kalmasın diye onu da çağırdık.
 ∞ Kutu gibi bir evleri vardı.

10) Aşağıdakilerden hangisi altı çizili deyimlerin anlamlarından birisi değildir?

- A) Küçük ama kullanışlı
 B) Sevinçli, neşeli bir ortam
 C) Anısı olmak
 D) İşe yarar

11) Doğru ile yanlış, haklı ile haksız, iyi ile kötü hatta güzel ile çirkin bile, hızlı değişme dönemlerinde çoğunlukla birbirlerinden kesin çizgilerle ayrılamaz **Bu paragrafta asıl anlatılmak istenen aşağıdakilerden hangisidir?**

- A) Hızlı değişen toplumlarda her şey birbirine karışır.
 B) Değişim, hızlı olduğu sürece toplumda etkili olabilir.
 C) Birbiriyle zıt olan kavramlar, toplumu etkiler
 D) Toplum, doğruyu, iyiyi, haklıyı ve güzeli yüceltmelidir.

12) Tel dolap kullanırken buzdolabının bulunması ya da kömür sobanın karşısına kaloriferin çıkarılması kimilerince bir moda gibi algılanabilir. Oysa bunların modayla bir ilgisi yoktur. Bunlar sadece teknolojik gelişim ve değişmelerdir.

Bu paragraf aşağıdakilerden hangisiyle sürdürülebilir?

- A) Moda ancak zenginleri ilgilendirir.
- B) Sadece Avrupa ülkelerinde kullanılmaktadır.
- C) İnsanların daha iyi yaşaması için yeni olanaklardır.
- D) Bunların modası geçecektir.

13) Çınar ağaçları güzel ve dayanıklı ağaçlardır. İri ve güzel yaprakları ile taçlanmış başarılarıyla gölge yaparlar bize. Dayanıklı gövdeleriyle yıllarca varlıklarını da sürdürebilirler. Çınar ağaçlarının sanayide kullanıldığı da olur.

Bu parçanın konusu nedir?

- A) Çınar ağacının türleri
- B) Çınar ağacı
- C) Ağaç sevgisi
- D) Çınar ağacı ve ağacın kullanımı

14)(1) Porselen mutfaklarımızın özellikle de çay keyfimizin önemli öğelerindedir. (2) Porselen demlikte demlenmiş çay diğerlerine göre daha güzel ve duru olur. (3) Porseleni ilk defa Çinliler üretmişlerdir. (4) Çinlilerin ince sanat anlayışı porselene yansımıştır.

Bu parça iki paragrafa ayrılmak istense, ikinci paragraf kaçınıcı cümleyle başlar?

- A) 1
- B) 2
- C) 3
- D) 4

15) Bu kitap, yaşamımın değişik dönemlerinden seçilmiş ürünlerden oluşuyor. (I) Ağırlık 1970'lerden önce yazdığım şiirlerde. (II) Öykülerimde başarılı olduğumu okurlarım bana iletiyor. (III) Anılarımda da belirttiğim gibi bunlar kendimle uzun bir hesaplaşmadan sonra oluşan şiirler. (IV) Dolayısıyla beni bütün yönlerimle okurlarıma tanıtacaktır.

Numaralanmış cümlelerden hangisi düşüncenin akışını bozmaktadır?

- A) I
- B) II
- C) III
- D) 4

16)Siyah, kahverengi, kıvıl, beyaz, sarı... Atların vücutlarını kaplayan kıllar farklı renklerde olabilir. Bazen belli bölgelerde beyaz kıllar çıkar. Beyaz kılların oluşturduğu bu lekeler "nişane" denir. Beyaz lekeler, atın bacaklarında bulunuyorsa "seki", alnından başlayıp burnuna doğru uzanıyorsa "akıtma", alnında ve hilal biçimindeyse "ay" olarak adlandırılır.

Bu parçada aşağıdaki sorulardan hangisinin yanıtı yoktur?

- A) Hangi renk atlar daha çok beğenilir?
- B) Atlar hangi renklerde olur?
- C) Akıtma ne demektir?
- D)Atlardaki beyaz lekeler nasıl adlandırılır?

17)Aşağıdaki cümlelerin hangisinde yazım yanlışı vardır?

- A) Yüreğime de su serpildi.
- B) Sema sınıfın en gözde öğrencisi.
- C) Buraya erken geldik de ne oldu!
- D) Yaşadım, yaşatamadım.

18)Aşağıdaki cümlelerin hangisinin sonuna nokta konmaz?

- A) Onu görünce çılgına döndüğümü mü sandın
- B) Kıvıl saçlarına bayıldım
- C) Hayatta iki şeye önem verdim; sevgi ve güven
- D) Verilen görevi yerine getirebilir miyim bilemiyorum



19) Resim yeteneği yok değil.

Bu cümle aşağıdakilerden hangisiyle aynı anlamdadır?

- A) Resim yeteneği var.
- B) Resimde yeteneksiz.
- C) Resimde yetenekli değil.
- D) Resim yeteneği var diyemem.

20)Onu ilk gördüğümde yaşantımda çok önemli bir yer tutacağını hissetmişti. Bu tıpkı bir filmin daha ilk karesinden bütünü kavramak, sonunu tahmin etmek gibi bir duyguydu.

Bu paragrafta aşağıdaki sanatsal anlatım yollarından hangisi kullanılmıştır?

- A) Abartma
- B) Kişileştirme
- C) Konuşurma
- D) Benzetme

1)

1. $5 \cdot 5 \cdot 5 \cdot 5 = 5^3$
2. $12 \cdot 12 \cdot 12 = 12^2$
3. $3 \cdot 3 \cdot 3 \cdot 3 \cdot 3 = 3^5$
4. $8 \cdot 8 \cdot 8 \cdot 8 \cdot 8 \cdot 8 = 8^5$

Yukarıdaki eşitliklerden hangisi

doğrudur?

- A) 1 B) 2
C) 3 D) 4

2)

1. $8^0 < 9^0$
2. $2^4 = 4^2$
3. $3^3 > 5^2$
4. $1^8 = 1^6$

Yukarıdaki ifadelerden hangisi

yanlıştır?

- A) 1 B) 2
C) 3 D) 4

3) $85 \cdot 10^{12}$ Sayısı kaç basamaklı bir sayıdır.

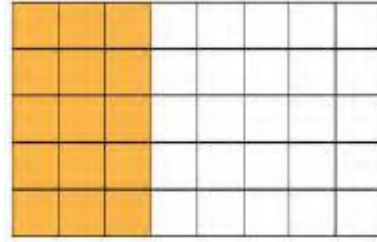
- A) 15 B) 14
C) 13 D) 12

4) $39 - 4 \cdot (24 : 3) + 8 = ?$ işleminin sonucu aşağıdakilerden hangisidir ?

- A) 12 B) 13
C) 14 D) 15

5) Abdullah Hoca kandil dolayısıyla sınıfındaki 44 öğrencinin her biri için, içinde şekerlerin olduğu bir paket hazırlayacaktır. Her paket içerisinde 6 adet kakaolu ve 3 adet sütlü şeker bulunacağına göre öğrencilere dağıtılan toplam şeker sayısı aşağıdaki işlemlerden hangisiyle bulunabilir.

- A) $6 \cdot (44 - 3)$ B) $44 \cdot (6 - 3)$
C) $3 \cdot (44 + 6)$ D) $44 \cdot (6 + 3)$



6) Yukarıdaki dikdörtgen eş karelerden oluşmuştur. Buna göre boyalı kare sayısını veren ifade aşağıdakilerden hangisidir?

- A) $5 \cdot (8 - 3)$ B) $5 \cdot (5 + 3)$
C) $5 \cdot (8 - 5)$ D) $3 \cdot (8 - 5)$

7) $30 \cdot 98$ işleminin sonucu aşağıdaki işlemlerin hangisiyle bulunabilir?

- A) $30 \cdot 100 - 2$ B) $30 \cdot 100 - 30 \cdot 2$
C) $30 \cdot 100 + 30 \cdot 2$ D) $30 \cdot 100 + 2$

8) $16.A + 16.13 = B.(12 + 13)$ olduğuna göre B-A aşağıdakilerden hangisine eşittir)

- A) 1 B) 2
C) 3 D) 4

9) Aşağıdaki işlemlerden hangisinin sonucu 20 ile 30 arasındadır?

- A) $27 - 6 : 3$ B) $112 : 4 + 4$
C) $5 \cdot 6 - 12$ D) $7 + 5 \cdot 2$

10) "18 sayısının 6 eksiğinin 2 katı"

Kağan'ın söylemiş olduğu ifadeyi gösteren işlem aşağıdakilerden hangisidir?

- A) $18 - 6 \cdot 2$ B) $(18 - 6) \cdot 2$
C) $18 \cdot 2 - 6$ D) $(18 - 2) \cdot 6$

11) $7.12 + 7.8$

işleminin ortak çarpan parantezine alınarak yazılışı aşağıdakilerden hangisidir?

- A) $12.(8 + 7)$
B) $18.(7 + 15)$
C) $7.(12 + 8)$
D) $7.(12 + 7)$

12) $12.(11 - 7)$ işleminin çarpma işleminin dağılma özelliğinden yararlanılarak yazılışı aşağıdakilerden hangisidir?

- A) $12.11 - 7$
B) $12.11 - 12$
C) $12 - 7$
D) $12.11 - 12.7$

13) $(16 + \blacktriangle).5 = 16.5 + 13.5$ eşitliğini sağlayan \blacktriangle değeri kaçtır?

- A) 5 B) 11
C) 13 D) 24

14) $17.8 + 17.14 = \blacksquare.(8 + 14)$ eşitliğini sağlayan \blacksquare değeri kaçtır?

- A) 17 B) 14
C) 8 D) 6

15) $A.B = 45$
 $A.C = 30$

olduğuna göre $A.(B + C)$ işleminin sonucu kaçtır?

- A) 15 B) 30
C) 45 D) 75

16) İrem, 8 tuşunun çalışmadığı bir hesap makinesinde 24.88 işleminin sonucunu bulmak istiyor. Buna göre İrem, işlemin sonucunu aşağıdaki işlemlerden hangisini yaparak **bulamaz?**

- A) $24.40 + 24.48$
- B) $24.90 - 24.2$
- C) $65.24 + 23.24$
- D) $100.24 - 12.24$

17) $30 : 3 \cdot (7 - 5) + 4$ işleminin sonucu kaçtır?

- A) 9
- B) 24
- C) 39
- D) 45

18) $K = 15 + 9 : 3$ ve

$$L = (14 + 4) : 6$$

olduğuna göre $K - L$ işleminin sonucu kaçtır?

- A) 9
- B) 12
- C) 15
- D) 18

19) Bir torbadaki bilyeler, her birinde 6 mavi ve 4 sarı bilye olacak şekilde 7 arkadaşta veriliyor. Torbada 10 bilye kaldığına göre, başlangıçta torbada bulunan bilye sayısı aşağıdaki işlemlerden hangisi yapılarak bulunabilir?

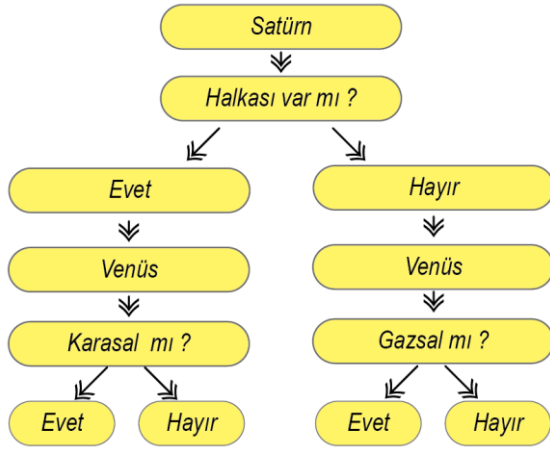
- A) $6 + 4 \cdot 7 + 10$
- B) $7 \cdot (6 + 4) + 10$
- C) $7 \cdot 6 + 4 + 10$
- D) $10 \cdot (6 + 4) + 7$

20) $6 + 12 \cdot 8 - 6 : 3 = 14$

Yukarıdaki eşitliğin doğru olabilmesi için hangi işlem parantez içine alınmalıdır?

- A) $6 + 12$
- B) $12 \cdot 8$
- C) $8 - 6$
- D) $6 : 3$

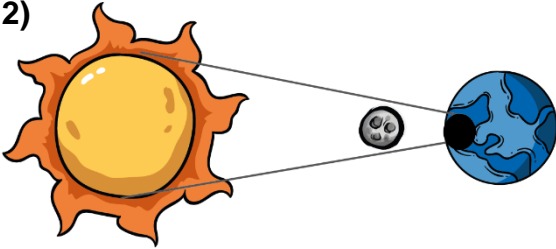
1)



Gezegenlerle ilgili etkinliği uygun şekilde tamamlayan Hamza verdiği cevaplar sırasıyla hangi seçenekte doğru verilmiştir?

- A) Hayır- Evet
- B) Hayır - Hayır
- C) Evet - Hayır
- D) Evet – Evet

2)



Her ay, Güneş ve Ay tutulmaları meydana gelmez. Bu durumu en iyi aşağıdaki ifadelerden hangisi açıklar?

- A) Ay'ın Dünya etrafındaki dolanımını yaklaşık 29 günde tamamlaması
- B) Her ay Güneş, Dünya ve Ay aynı doğrultuya gelmemesi
- C) Ay'ın çok küçük olması
- D) Dünya ve Ay'ın Güneş etrafında dolanıyor olması

3) Narin öğretmen öğrencisi Salih'e Güneş Sistemiyle ilgili 4 soru sormuştur.

Narin Öğrt.: Sistemdeki en küçük gezegen hangisidir?

Salih: Merkür

Narin Öğrt.: Dünya'nın ikizi olarak bilinen gök cismi hangisidir?

Salih: Mars

Narin Öğrt.: Gezegenlerin geometrik şekli nasıldır?

Salih: Küresel

Narin Öğrt.: İç gezegenler hangileridir?

Salih: Merkür, Venüs, Dünya ve Mars

Buna göre Salih kaç soruya **doğru** cevap vermiştir?

- A) 1
- B) 2
- C) 3
- D) 4

4) Gezegenler, bir yıldızın etrafında belirli bir yörüngede dolanan gök cisimleridir. Güneş sistemimizde sekiz gezegen bulunmaktadır. Bu gezegenlerin yapıları, büyüklükleri, Güneş'e olan uzaklıkları ve Güneş etrafındaki dönme süreleri birbirinden farklıdır.

Güneş sistemindeki gezegenler, Güneş'e en yakın olandan başlayarak en uzak olana doğru sıralanacaktır.

Buna göre en yakın ve en uzak olan gezegenler aşağıdakilerden hangisinde doğru verilmiştir?

En yakın gezegen **En uzak gezegen**

- A) Merkür Jüpiter
- B) Mars Dünya
- C) Merkür Neptün
- D) Mars Neptün

5)



* Güneş sisteminde yer alan altıncı büyük gezegendir.

*Atmosferi vardır fakat üzerinde yaşam bulunmayan gezegendir.

*Uydusu ve halkası vardır.


*Halk arasında ki adı mavi gezegen olarak bilinir.

*Diğer gezegenlerin tersine dönmektedir.

Yukarıda bazı gezegenlere ait bilgiler verilmiştir. Bu bilgilerden kaç tanesi Venüs'e aittir?

- A) 2 B) 3
C) 4 D) 5

6) Güneş Sisteminde olan Uranüs gezegeni ile ilgili aşağıda verilenlerden hangisi yanlıştır?



A) Güneş Sistemi'ndeki en küçük gezegendir.

B) Güneş sisteminin en büyük üçüncü gezegenidir.

C) Zehirli gazlardan (Metan gazı) oluşan atmosferi canlı yaşamına uygun değildir.

D) Gazsal gezegenler sınıfındadır.

7) Özellikle Mars ile Jüpiter arasında kalan bölgede bulunan, Güneş çevresinde dolanan, aşınmış kaya ve metal parçalarına ne ad verilir?

- A) Meteor
B) Göktaşı
C) Asteroit
D) Uydu



8) Bir gezegen ya da kendisinden büyük bir başka nesnenin etrafında yörüngede bulunan gök cisimlerine uydu denir. Güneş sistemindeki gezegenlerin birkaçı hariç diğerlerinin farklı sayılarda uyduları bulunmaktadır.

Güneş sisteminde uydusu olmayan gezegenler hangileridir?

- A) Mars – Neptün
B) Merkür – Venüs
C) Uranüs – Venüs
D) Merkür – Mars

9) Aşağıda bazı gezegenlere ait bilgiler verilmiştir.

* Kızıl Gezegen olarak bilinir.

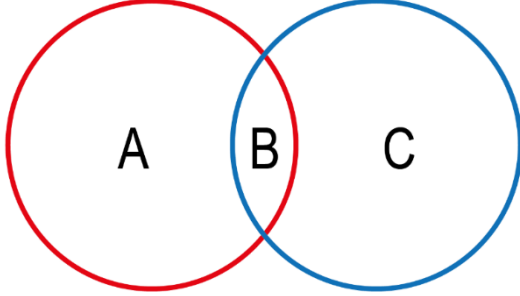
* En büyük gezegendir.

* Üzerinde yaşam olduğu bilinen tek gezegendir.

Buna göre hangi gezegene ait bilgi verilmemiştir?

- A) Jüpiter B) Mars
C) Venüs D) Dünya

10) Narin Öğretmen, öğrencilerine derste Güneş ve Ay tutulmasının özellikleriyle ilgili aşağıdaki küme şemasını tahtaya çizmiştir.



Bu şemada sadece Güneş tutulmasına ait özellikler A bölümüne, Sadece Ay tutulmasına ait özellikler C bölümüne ve Hem Güneş hem de Ay tutulmasına ait bilgiler B bölümüne yazılmıştır.

- 1- Ay'ın Dolunay evresinde gerçekleşir.
- 2- Ay'ın Yeni ay evresinde gerçekleşir.
- 3- Işığın doğrusal yayılıp gölge oluşturduğu olaydır.
- 4- Güneş, Dünya ve Ay aynı doğrultu üzerinde yer alır.
- 5- Gece gözlemlenir.
- 6- Gündüz gözlemlenir.

Buna göre öğrencilerin doldurduğu bu şemanın doğru yerleşimi aşağıdakilerden hangisinde verilmiştir?

	A	B	C
A)	1-6	2-5	3-4
B)	2-6	3-4	1-5
C)	1-5	3-4	2-6
D)	1-6	3-4	2-5

11) Güneş Sisteminde bulunan bazı gezegenlerle ilgili bilgiler verilmiştir.

X: Z gezegeninden daha küçük ama karasal gezegenlerin en büyüğüdür.

Y: Gazsal gezegenlerin en büyüğüdür.

Z: Y gezegeninden hemen sonraki halkalı gezegendir.

Bu gezegenlerle ilgili öğrenciler şu bilgileri veriyor.

Semih: Y gezegeni Jüpiter, X gezegeni Mars'tır.

Bilal :X gezegeni Satürn, Z gezegeni Dünya'dır.

Buna göre Semih ve Bilal'in söyledikleri ile ilgili aşağıdakilerden hangisi doğrudur?

- A) İkiside doğru cevap vermiştir.
- B) Semih, Mars yerine Merkür derse doğru olur.
- C) Bilal, Satürn yerine Mars, Dünya yerine Neptün derse doğru olur.
- D) Bilal Satürn yerine Dünya, Dünya yerine Satürn derse doğru olur.

12) Sadece tabloda verilenlere göre bu üç gezegenle ilgili,

Gezegen	Çap	Gündüz Ort. Sıcaklık	Güneş etrafında dolanma süresi
Mars	6792	-23	687 gün
Neptün	49552	-173	165 yıl
Jüpiter	142984	-145	12 yıl

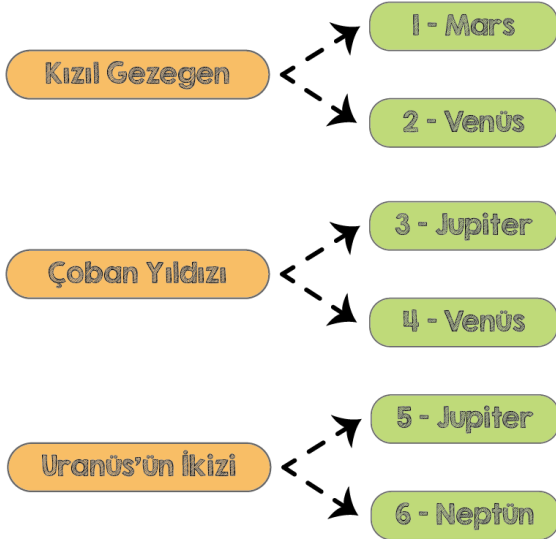
1- Güneş'e en uzak gezegen Neptün'dür.

2- En fazla uydusu olan Jüpiterdir.

3- En sıcak gezegen Mars'tır.

Yargılarından hangilerine ulaşılabilir?

- A) Yalnız 1
B) 1 ve 2
C) Yalnız 3
D) 2 ve 3



13) Yukarıdaki ifadeler uygun kavramlar ile eşleştirildiğinde yanındaki rakamların toplamı kaçtır?

- A) 10
B) 11
C) 12
D) 13

14) 6.Sınıf öğrencileri olan Zeliha ve Ruken "Evet" ve "Hayır" oyunu oynarak Fen Bilimleri dersini oyunla tekrar etmektedirler.

Zeliha: Uydusu var mı?

Ruken: Evet.

Zeliha: İç Gezegen mi?

Ruken: Hayır.

Zeliha: En büyük gezegen mi?

Ruken: Hayır.

Oynadıkları oyunda Zeliha'nın bulmaya çalıştığı gezegen aşağıdakilerden hangisi olamaz?

- A) Jüpiter
B) Neptün
C) Satürn
D) Uranüs

15) Öğretmen: Uzaydan gelerek, Dünya atmosferine giren, atmosferdeki maddelere sürtünmesi sonucu yanarak ışık saçan katı cisimlere ne ad verilir

Öğretmenin sorduğu soruya hangi öğrenci doğru cevap vermiştir?

- A) Feride :Göktaşı
B) Dicle :Asteroit Kuşağı
C) Şahin :Gezegen
D) Semanur :Meteor

16)

		D	Y
1	Mars, İç gezegendir.		X
2	Güneş Sistemi sadece gezegenlerden oluşur.		X
3	Güneş Sisteminde 8 gezegen bulunmaktadır.	X	

Yukarıdaki bulunan doğru (D), yanlış (Y) etkinliğinde hangi işaretleme ya da işaretlemelerde hata yapılmıştır ?

- A) Yalnız 1 B) 1 ve 2
 C) 1 ve 3 D) 2 ve 3

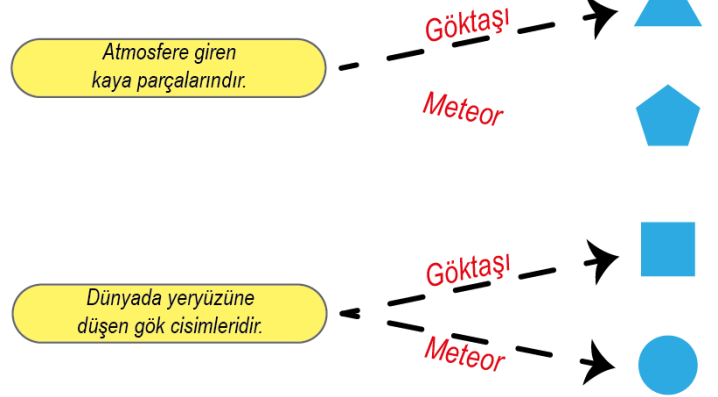
17) Bazı gezegenlerin Güneş'e yakınlık sıralaması verilmiştir.



Buna göre 1. ve 4.gezegenin ortak özelliği aşağıdakilerden hangisinde verilmiştir?

- A) Atmosferleri vardır.
 B) Uyduları yoktur.
 C) İç gezegen sınıfında yer alırlar.
 D) Gazsal gezegendirler.

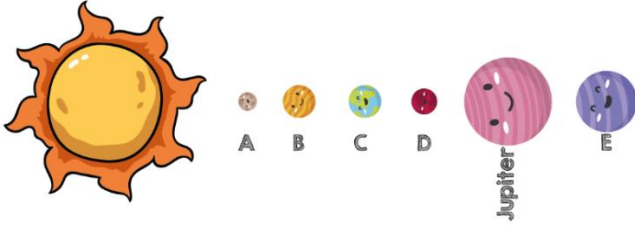
18)



Yukarıdaki etkinliği doğru yapan bir öğrenci hangi şekillere ulaşır?

- A-)  B-) 
 C-)  D-) 

19) Büyüklüklerine ve Güneş'e uzaklıklarına göre sıralanan A, B, C, D ve E gezegenleri aşağıdaki gibi modellenmiştir.



* A ve C'nin halkası yoktur. Ancak A'nın uydusu vardır.

* A Güneş Sistemindeki en küçük gezegendir.

* E'nin halkası vardır.

* D Sistemin en sıcak gezegenidir.

* B halk arasında Çoban Yıldızı olarak bilinir.

Buna göre bu gezegenlerle ilgili söylenen cümlelerin kaç tanesi doğrudur?

A) 1 B) 2 C) 3 D) 4

20) Güneş Sistemiyle ilgili öğrendiklerini birbirleriyle paylaşan 3 öğrenci aşağıdaki ifadeleri kullanıyorlar.



Hüseyin

Uzayda atmosfere bir çok gök cisminin girdiğini ve bu gök cisimlerinin parçalanarak yer yüzüne ulaşamadığını öğrendim.

Mars ve Jüpiter arasında gök cisimleri olduğunu öğrendim.



Nesrin



Muhammet

Uzaydan gelen gök cisimlerinin bazen yeryüzüne ulaşarak Dünya'ya çarpabileceğini öğrendim.

Öğrencilerin verdiği bilgilere göre hangi kavramlardan bahsetmişlerdir ?

Hüseyin Nesrin

Muhammet

A) Asteroit	Meteor	Göktaşı
B) Meteor	Meteor	Göktaşı
C) Asteroit	Göktaşı	Meteor
D) Meteor	Asteroit	Göktaşı

-Toplumdaki Rollerim -Rol

1) Rollerimiz bize bazı hak ve sorumluluklar yükler. Haklarımız hukukun çizdiği sınırlar çerçevesinde sahip olduğumuz kazanımlar ya da yapabileceklerimizle ilgilidir. Sorumluluklarımız ise üstlendiğimiz rollerimizin gereklerini yerine getirmeyle ilgilidir.

Buna göre aşağıdakilerden hangisi evdeki rollerimize uygun bir hakkımızdır?

- A) Evlat olarak güvenli bir ortamda yaşamak
- B) Evlat olarak odamızı temiz tutmak
- C) Öğrenci olarak eğitim imkanlarından faydalanmak
- D) Müşteri olarak alışveriş yapmak

2) Birey olarak dünyaya geldiğimiz andan itibaren çeşitli sosyal roller üstleniriz. Rollerimizin bir kısmı doğuştan sahip olduğumuz rollerdir.

Buna göre aşağıdakilerden hangisi doğuştan sahip olduğumuz rollerden biridir?

- A) Öğrenci
- B) Takım Kaptanı
- C) Baba
- D) Evlat

3) Bazı sosyal roller bireyin aldığı eğitim, yaptığı çalışmalar ve elde ettiği başarılar sonucunda değişir.

Buna göre;

I- Üniversiteden mezun olup öğretmen olmak

II- Sınıf başkanı olmak

III- İzciler lideri olmak

IV- Yeni doğan kardeşine abi ya da abla olmak

gibi rollerden hangileri bu açıklamaya uymaz?

- A) Yalnız IV
- B) I ve II
- C) II ve III
- D) I-II ve III

4) Mehmet Bey, gün boyu öğretmen rolünü üstlendikten sonra akşam taksile eve giderken müşteri rolündedir. Evine geldiğinde ise çocuklarına karşı baba rolündedir.

Buna göre sosyal roller;

- I. aynı anda birden fazla üstlenebilir,
- II. bazıları sonradan kazanılır,
- III. hiç değişmez.

Yargılarından hangilerine ulaşılabilir?

- A) Yalnız I
- B) I ve II
- C) II ve III
- D) I, II ve III

-Bizi Biz Yapanlar

Din, dil, gelenek, görenek, kültür,

Milli tarih

5) Milli birlik ve beraberliğin en önemli yapı taşı kültür birliğidir.

Aşağıdakilerden hangisi kültür içerisinde yer almamaktadır?

- A) İrkinin üstün tutma
- B) Ortak amaç
- C) Geçmişten gelen birliktelik
- D) Millet olma bilinci

- 6) I-Din ve vicdan özgürlüğü
II- Bireysel özgürlükler
III-Devlet kurumlarının rolleri
IV-Milli kültürü koruma

Mustafa Kemal Atatürk'ün üzerinde sıklıkla durduğu birleştirici ve bütünleyici niteliğe sahip olan unsur hangisidir?

- A)I B)II
C)III D)IV

7)Aşağıdakilerden hangisinin sosyal, kültürel ve tarihi bağlarımızın oluşmasında bir katkısı olmamıştır?

- A) Dini bayramların
B) Milli bayramların
C)Gelenek ve göreneklerin
D)Ön yargılı olmanın

- 8) -Vergi verme
-Askerlik yapma
-Oy kullanma

Yukarıdaki sorumluluklar birlikte düşünüldüklerinde aşağıdakilerden hangisi ile açıklanabilir?

- A) Devlet başkanının sorumluluklarıyla
B) Vatandaşın sorumluluklarıyla
C)Öğrencinin sorumluluklarıyla
D)Öğretmenin sorumluluklarıyla

9)Aynı devlet üzerinde bir arada yaşayan ve temel çıkarlarını sağlamak amacı ile iş birliği yapan insanların tümüne toplum denir.

Buna göre, aşağıdakilerden hangisi toplumu oluşturan unsurlar arasında yer almaz?

- A) Ortak bir toprak parçası
B) Bireylerin birlikte yaşama isteği
C)Bireylerin iş birliği yapması
D)Etnik ve dini ayrımcılığın bulunması

10)“Bir milletin kâinatı ve hayatı kendisine göre adlandırması, seslendirmesi, onu kendince yorumlamasıdır.”

Yukarıdaki metinde kültürel öğelerden hangisinin önemine vurgu yapılmıştır?

- A) Dil B) Din
C) Gelenek D) Tarih

11)Bir toplumu millet yapan en önemli özelliklerden biri de ortak bir geçmişe sahip olmasıdır. Geçmiş olmayan bir toplumun geleceği de olmaz. İbn-i Haldun şöyle der: “Ve sen geçmişini bilerek devlet adamlarının bu kapıdan nasıl geçtiğini anlayacaksın.”

Yukarıdaki metinde kültürel öğelerden hangisinin önemine vurgu yapılmıştır?

- A) Dil B) Din
C) Dayanışma D) Tarih

-Kır Çiçekleri Gibiyiz Rengarenk

Ayrımcılık, farklılık, kalıp yargı, önyargı, saygı

12) Canan Öğretmen: Bir kimse ile ilgili olarak, belirli bir olaya veya duruma önceden edinilmiş olumlu ya da olumsuz yargılara denir.

Buna göre Canan Öğretmenin yukarıda tanımını yaptığı kavram aşağıdakilerden hangisidir?

- A) Önyargı
- B) Tartışma
- C)Çatışma
- D)Nefret

13) Bir kimse veya bir şeyle ilgili olarak belirli şart, olay ve görüntülere dayanarak önceden edinilmiş olumlu veya olumsuz yargı, peşin yargı, peşin hüküm, peşin fikre ön yargı denir. Buna göre ön yargıların azalması

Yukarıdaki cümlelerin anlamlı bir bütün oluşturması için hangisi ile devam ettirilmesi uygun olur?

- A) Toplumsal uyumun, birlik ve beraberliğin kuvvetlenmesini sağlar.
- B) Toplumda fikir ayrılıklarının artmasını sağlar.
- C) Bireyler arasındaki çıkar çatışmalarını kuvvetlendirir.
- D) Kalıp yargıların artmasını sağlayacaktır.

14)Önyargılar insanlar arasındaki ilişkileri nasıl etkiler?

- A) Arkadaşlık bağlarını kuvvetlendirir.
- B) İletişimdeki hataları azaltır.
- C) Kişilerin doğru anlaşılmasını sağlar.
- D) İnsanları birbirinden uzaklaştırır.

-Bir Elin Nesi Var, İki Elin Sesi Var

Sivil Toplum Kuruluşu (STK), Sosyal Yardım, Toplumsal Yardım

15)İnsanların birbirlerine karşı yardımcı olmaları ve birbirlerinin maddi veya manevi eksikliklerini tamamlamaları aşağıdakilerden hangisini ortaya çıkarmıştır?

- A) Hukuk kurallarını
- B) Ticareti
- C)Sosyal yardımlaşmayı
- D)Tarımsal faaliyetleri

16) Sivil toplum kuruluşları topluma farklı alanlarda hizmet verirler.

Aşağıdakilerden hangisi eğitim alanında hizmet veren sivil toplum kuruluşlarından biri değildir?

- A) Türk Eğitim Vakfı
- B) Milli Eğitim Vakfı
- C) Darüşşafaka
- D) Kızılay

17) Aşağıdakilerden hangisi ülkemizde toplumsal birlikteliğin oluşmasında faaliyet sürdüren bir sosyal yardımlaşma kurumu değildir?

- A) Milli eğitim vakfı
- B) Kızılay
- C) Milletler cemiyeti
- D) Çocuk esirgeme kurumu

Hak, Özgürlük Ve Sorumluluk

Hak, Özgürlük, Sorumluluk

18) Aşağıdakilerden hangisi sorunların çözümünde kullanacağımız yöntemlerden biri olamaz?

- A) Yetkili kurumlara başvurarak çözmeye çalışmak
- B) Sorunla ilgili dilekçe vermek
- C) Bakanlık hatlarını arayarak yardım istemek
- D) Sorunu görmezlikten gelmek

19) İnsanların sahip oldukları doğal haklarını ve özgürlüklerini yaşamaları olarak ifade edilen kavram aşağıdakilerden hangisidir?

- A) Bireysel tartışmalar
- B) Ön yargılar
- C) Hak ve hürriyetler
- D) Yardımlaşma duygusu

20) Aşağıdakilerden hangisi sorunlarımızın çözümünde kullanacağımız yöntemlerden biri olamaz?

- A) Sorunları dilekçe ile çözmeye çalışmak
- B) Sorunu göz ardı etmek
- C) Resmi kurum hatlarını arayarak yardım istemek
- D) Sorunlar karşısında kamuoyu oluşturmak

Hız. Muhammed (s.a.v.) bir gün kızı Hız. Fatıma (r.a.) evine gider. Hız. Hasan (r.a.) ve Hız. Hüseyin (r.a.) bu sırada uyumaktadırlar. Bir ara Hız. Hasan (r.a.) ve hemen arkasından Hız. Hüseyin (r.a.) uyanarak su isterler. Hız. Muhammed (s.a.v.) hemen su kabına koşarak onlara su verir. Bunun üzerine Hız. Fatıma (r.a.) dayanamayarak; "Hasan'ı Hüseyin'den daha çok seviyor gibisin" diyince, "Hayır ayırım yapmıyorum ancak suyu ilk olarak Hasan istedi." Buyurmuştur.

1) Yukarıda verilen olayda Hız. Muhammed'in aşağıdakilerden hangisini önemseydiği vurgulanmıştır?

- A) İstişareye önem vermeyi
- B) Cesur ve Kararlı olmayı
- C) Adetli ve Hakkı gözetmeyi
- D) Merhametli ve affedici olmayı

2) Aşağıdakilerden hangisi zararlı alışkanlıklara başlama nedenlerinden biri değildir?

- A) Bilgisizlik
- B) Kötü arkadaş çevresi
- C) Merak ve heves
- D) Spor yapmak

Hız. Muhammed 571 yılında Medine'de doğdu.

1

Mekke'den Medine'ye hicret edenlere Ensar denir.

2

Hız. Muhammed'in 7 tane çocuğu vardır.

3

Hız. Muhammed'in ilk eşinin ismi Aminedir.

4

3) Yukarıda Hız. Muhammed'in hayatı ile ilgili verilen bilgilerden kaç tanesi doğrudur?

- A) 1
- B) 2
- C) 3
- D) 4

4) Ayşe Din Kültürü ve Ahlak Bilgisi dersinde arkadaşlarından yardım alarak okul pa nosu için sloganlar hazırlayacaktır. **Buna göre Ayşe'nin aşağıda verilen sloganlardan hangisini alması uygun olmaz?**



A) Kumar oynama,aileni kaybetme.!



B) Kumara son ver, aileni sevindir.!



C) Kumar oynama,paranı kaybetme.!



D) Kumar kazandırır. Paranı artırır.!

“Kişi arkadaşının dini üzerinedir. Öyleyse her biriniz kiminle arkadaşlık ettiğine dikkat etsin.”
HZ. MUHAMMED

5) Aşağıdaki sözlerden hangisi anlam ilişkisi bakımından yukarıda verilen hadisle özdeş değildir?

A) Üzüm üzüme baka baka kararır.

B) Kır atın yanında duran ya huyundan ya da suyundan olur.

C) İyilerle dost olmayan kötülere komşu olur.

D) Ayağını yorganına göre uzat.

6)Aşağıdakilerden hangisi Müslümanların Mekke'li müşrikler ile yaptığı savaşlardan biri değildir?

A) Bedir Savaşı

B) Uhud Savaşı

C) Hendek Savaşı

D) Tebuk Savaşı

7) Hz. Muhammed'e ilk vahiy ne zaman, nerede indirilmiştir?

- A) 610- Nur dağının Hira mağarasında
- B) 622- Nur dağının Hira mağarasında
- C) 632- Nur dağındaki Sevr mağarasında
- D) 610- Nur dağındaki Sevr mağarasında

8) Aşağıdakilerden hangisi namazın kılınış şartlarından değildir?

- A) Kıyam
- B) Kıraat
- C) Setr-i avret
- D) Kade-i ahire

9) Aşağıdakilerden hangisi namazın bir kişiye farz olması için gerekli şartlardan değildir?

- A) Müslüman olmak
- B) Akıllı olmak
- C) Erkek olmak
- D) Ergenlik çağına girmiş olmak

10) Aşağıdaki namazlardan cemaatle kılınması zorunludur?

- A) Sabah namazı - Yatsı namazı
- B) Teravih namazı - Bayram namazı
- C) Cuma namazı - Bayram namazı
- D) Öğle namazı – İkinci namazı

11) Namaz,

- I- İnsanın kulluk vazifesidir.
- II-Namaz ruhun ihtiyacıdır.
- III-Namaz insanı yapacağı kötülüklerden alıkoyar.

Yargılardan hangileri doğrudur?

- A) Yalnız I
- B) Yalnız III
- C) I ve II
- D) I , II , III

12) Aşağıdakilerden hangisi birlik beraberliğimizi sağlayan temel değerlerimizden değildir?

- A) Paylaşma
- B) Dayanışma
- C) Selamlaşma
- D) Gıybet

13) “Sevdiğiniz şeylerden (Allah yolunda) harcamadıkça iyiliğe eremezsiniz. Her ne harcarsanız, Allah onu hakkıyla bilir.” (Âl-i İmrân suresi, 92. ayet)

Yukarıdaki ayette hangi değer vurgulanmıştır?

- A) Doğruluk
- B) Dürüstlük
- C) Paylaşma
- D) Güvenilirlik

14) Mevlana'nın ya olduğun gibi görün ya da görüldüğün gibi ol.

Sözü hangi değerle ilişkilidir?

- A) Dürüstlük
- B) Yardımlaşma
- C) Adalet
- D) Sevgi

Kendisine yeni bir din ve kitap verilen peygamberlere Resul, kendisinden önceki peygamberin din ve kitabını insanlara tebliğ eden peygamberlere ise Nebi denir.

15) Yukarıda verilen bilgiye aşağıda verilen peygamberlerden hangisi Resul peygamberlerdendir?

- A) Hz. İshak(a.s)
- B) Hz. Adem(a.s)
- C) Hz. Musa(a.s)
- D) Hz. İbrahim(a.s)

16) “ Ben ateşten yaratıldım o ise topraktan yaratıldı. Ben ondan üstünüm!” diyen, Hz. Adem'e secde etmeyen ve Allah'a karşı gelerek kibirlenip Cennet'ten kovulan varlık aşağıdakilerden hangisidir?

- A) Hz. Adem
- B) İblis
- C) Ebu Cehil
- D) Hz. Cebrail

17) Peygamberler ile ilgili aşağıda verilen bilgilerden hangisi doğru **kabul edilemez?**

- A) Kurban ibadeti Hz.Yusuf(as) ile başlamıştır.
- B) Son peygamber Hz.Muhammed (sav)'dir.
- C)Hz.Adem(as) ilk peygamber ve yaratılan ilk insandır.
- D)Zebur Hz.Davud'a (as) indirilmiştir.

18) Aşağıda verilen bilgilerden hangisi peygamberlerin görevlerinden **biri olamaz?**

- A) Allah'ın emir ve yasaklarını kendi hayatına uygulayarak insanlara örnek olurlar.
- B) Dini konularda insanlara doğru ve eksiksiz bilgiler verirler.
- C)İnsanların Allah'a inanmaları ve doğru yolu bulmaları için çaba sarf ederler.
- D)Kendisine inanan insanlara geniş ayrıcalık tanırlar.

19)Peygamberler insanların ve toplumların huzur ve mutluluğu için Allah'ın emir ve yasakları doğrultusunda birçok öğütte bulunurlar.

Aşağıda verilen davranış biçimlerinden hangisi peygamberlerin gönderilmiş oldukları toplumlara verdikleri öğütlerden biri olamaz?

- A) Adalet ve Barışı yaygınlaştırmak
- B) Allah'a şirk(ortak) koşmamak
- C) Yardımlaşmayı yaygınlaştırmak
- D)Kendini diğer insanlardan üstün görmek

20) Aşağıdaki ayetlerden hangisi peygamberlerin fetanet özelliği ile ilgilidir?

- A) "(Hepsi de) güçlü bir iradeye ve keskin bir kavrayış yeteneğine sahip olan İbrahim, İshak ve Yakup'u hatırla!"
- B) "Şüphesiz bu Kur'an sana, hüküm ve hikmet sahibi, hakkıyla bilen Allah tarafından verilmektedir."
- C) "O, sizi karanlıklardan aydınlığa çıkarmak için kulu Muhammed'e apaçık ayetler indirendir..."
- D) "O peygamberler ki Allah'ın gönderdiği emirleri duyururlar, Allah'tan korkarlar ve O'ndan başka kimseden korkmazlar..."

VOCABULARY**(UNITS 7- 10)****Tortoise** : kara kaplumbağası**Beverage** : içecek, meşrubat**Vet** : veteriner**Birthday** : doğum günü**Visit** : ziyaret etmek**Clown** : palyaço**Wing** : kanat**Cookie** : kurabiye**Dolphin** : yunus**Decoration** : süsleme**Celebrate** : kutlamak**Gift** : hediye**April 23 National Sovereignty and Children's Day** : 23 Nisan**Invitation card** : davetiye kartı
Ulusal Egemenlik ve Çocuk Bayramı**Invite** : davet etmek**Parade** : gecit töreni**Diving** : dalma, dalış**Pocket money** : harçlık**Fitness** : formda olma, sağlık**Republic Day** : Cumhuriyet Bayramı**Goal** : amaç, hedef**Traditional** : geleneksel**Gymnastics** : jimnastik, beden eğitimi**Victory Day** : Zafer Bayramı**Hiking** : doğa yürüyüşü**Youth and Sports Day** : Gençlik ve Spor Bayramı**Horse riding** : binicilik, ata binme**Jogging** : koşu**Sailing** : yelken sporu**Skateboarding** : kayak**Snowboarding** : karda kayma sporu**Work out** : antrenman yapmak**Adopt a cat** : kedi sahiplenmek**Donate** : bağışta bulunmak**Examine** : muayene etmek**Feed** : beslemek**Frog** : kurbağa**Kitten** : yavru kedi**Parrot** : papağan**Puppy** : yavru köpek**Animal Shelter** : hayvan barınağı**Squirrel** : sincap**Stork** : leylek**Months of the Year****January** : Ocak **July** : Temmuz**February** : Şubat **August** : Ağustos**March** : Mart **September** : Eylül**April** : Nisan **October** : Ekim**May** : Mayıs **November** : Kasım**June** : Haziran **December** : Aralık**Parts of the Day****Morning** : Sabah**Noon** : Öğle**Afternoon** : Öğleden sonra (İkinci)**Evening** : Akşam**Night** : Gece

- I. We must go shopping.
- II. My mum must order the cake.
- III. We must decorate the party room.
- IV. We must clean the party room.



a



b



c



d

1) Put the pictures in the correct order according to the sentences above.

- A) b-a-c-d B) d-c-a-b
C) b-d-a-c D) d-a-b-c

2 – 3 : For these questions, choose the best option to fill in the blanks.

2) Sally: Are you busy next weekend?

Ted : I don't have any plans. Why?

Sally: I have a birthday party next weekend. Would you like to come?

Ted :

Sally: It's on Sunday, 22nd March.

Ted : What time is it? And Where?

Sally: It's at 4 o'clock in the afternoon and at my home

Ted : Ok. See you then.

Sally: See you. Bye.

- A) I'm afraid I must finish my homework.
B) Sorry, but I'm too busy on Sunday.
C) Of course. When is the party?
D) Can I ask my mum first?

3) Harry : What's your favourite festival? Zeynep : My favourite festival is Children's Day.

Harry : When do you celebrate it?

Zeynep : We celebrate it on 23rd April every year.

Harry :

Zeynep : We read poems, sing songs, and meet children from different countries.

- A) Where are you from?
B) How do you celebrate it?
C) Do you visit your relatives?
D) Where do you celebrate it?

4) Hello! I'm Nancy. I like many fitness and sports activities, but my favourite one is We need a ball and two teams of six players on a court. We must hit the ball with our hands. Each team has three hits to attempt to return the ball.

Which of the following does Nancy enjoy doing?

A)



B)



C)



D)



- One hundred and fifty-eight
- Seven hundred and forty-five
- Nine hundred twenty

5) Which of the following is CORRECT according to the numbers above?

- A) 156- 545-922
B) 158-745-927
C) 155-745-956
D) 158-745-920


6) Sheila : How about doing skateboarding tomorrow?

Janet : That sounds I hate skateboarding.

Which of the following completes the conversation?

- A) awesome B) great
C) excellent D) boring

7)



Which of the following is NOT related to the pictures above?

- A) The ducks are swimming on the lake.
B) The vet is examining the rabbit.
C) The turtles are sleeping under the tree.
D) The puppies are playing with a ball.

8) Linda : What's your favourite game?

Ali : My favourite game is soccer.

Linda :

Ali : I need a ball

Linda :

Ali : Two teams with 11 players in each. **Linda :**

Ali : We must kick the ball with our feet.

Which of the following does NOT complete the conversation above?

- A) What equipment do you need for this game?
B) How long is it?
C) What are the rules?
D) How many players do you need?

9)

Kate is turning 12!

It's Kate's birthday next Sunday. We are organising a surprise birthday party for her. Come and join us.

On Sunday, 17th September at 4 p.m.
At my home.
Larry Wood

Which of the following questions does NOT have an answer in the invitation card?

- A) When is Kate's birthday?
B) Where is the birthday party?
C) Who is organising the party?
D) What does Kate need for the party?

Hello! I'm Elif. I'm from Turkey. I'm twelve years old. My favourite festival is Children's Day. We celebrate it on 23rd April every year. We read poems, sing songs, perform dances and meet children from different countries.

10) Which of the following shows the festival Elif talks about in her speech?

A)



B)



C)



D)



11) Which month belongs to a different season?

- A) June
- B) August
- C) March
- D) July

12) Which of the following is NOT necessary for a birthday party?

- A) Making a cake
- B) Buying presents
- C) Inviting friends
- D) Calling a doctor

13) Jack's birthday is between Sunday and Friday. Which of the following CAN NOT be Jack's birthday?

- A) Saturday
- B) Tuesday
- C) Wednesday
- D) Monday

14) Jim wants to be fit and muscular. Which activity should he do?

- A) Skateboarding
- B) Working out
- C) Horse riding
- D) Playing board games

15) Which of the following is NOT an outdoor activity?

- A) Camping
- B) Riding a bike
- C) Fishing
- D) Playing chess

16) Which of the following is TRUE?

- A) Cows can talk.
- B) Birds can swim.
- C) Cats can run.
- D) Fish can fly.

17) Which of the following is NOT a farm animal?

- A) Cow
- B) Elephant
- C) Sheep
- D) Chicken

18) Which day do we celebrate on 19th May?

- A) Children's Day
- B) Victory Day
- C) Republic Day
- D) Youth and Sports Day

19) Which of the following is NOT a festival activity?

- A) Working out
- B) Performing folk dances
- C) Singing songs
- D) Watching firework shows

20) Which pairing is CORRECT?

- A) 540 - Five hundred and fourteen
- B) 157 - One hundred and fifty-seven
- C) 692 - Six hundred and twenty-nine
- D) 283 - Three hundred and eighty-three

CEVAP ANAHTARI

TÜRKÇE

- 1) C
- 2) D
- 3) D
- 4) B
- 5) B
- 6) A
- 7) B
- 8) D
- 9) C
- 10)C
- 11)A
- 12)C
- 13)B
- 14)C
- 15)B
- 16)A
- 17)D
- 18)A
- 19)A
- 20)D

SOSYAL BİLGİLER

- 1) A
- 2) D
- 3) A
- 4) B
- 5) A
- 6) D
- 7) D
- 8) B
- 9) D
- 10)A
- 11)D
- 12)A
- 13)A
- 14)D
- 15)C
- 16)D
- 17)C
- 18)D
- 19)C
- 20)B

MATEMATİK

- 1) C
- 2) A
- 3) B
- 4) D
- 5) D
- 6) C
- 7) B
- 8) D
- 9) A
- 10)B
- 11)C
- 12)D
- 13)C
- 14)A
- 15)D
- 16)A
- 17)B
- 18)C
- 19)B
- 20)C

DİN KÜLTÜRÜ VE
AHLAK BİLGİSİ

- 1) C
- 2) D
- 3) A
- 4) D
- 5) D
- 6) D
- 7) A
- 8) C
- 9) C
- 10)C
- 11)D
- 12)D
- 13)C
- 14)A
- 15)C
- 16)B
- 17)A
- 18)D
- 19)D
- 20)A

FEN BİLİMLERİ

- 1) D
- 2) B
- 3) C
- 4) C
- 5) B
- 6) A
- 7) C
- 8) B
- 9) C
- 10)B
- 11)D
- 12)C
- 13)B
- 14)A
- 15)D
- 16)A
- 17)C
- 18)C
- 19)C
- 20)D

İNGİLİZCE

- 1) C
- 2) C
- 3) B
- 4) A
- 5) D
- 6) D
- 7) C
- 8) B
- 9) D
- 10)A
- 11)C
- 12)D
- 13)A
- 14)B
- 15)D
- 16)C
- 17)B
- 18)D
- 19)A
- 20)B

EMEĞİ GEÇEN ÖĞRETMENLERİMİZ

SIİRT MİLLİ EĞİTİM AR-GE BİRİMİ

Murat EKİNCİ

Koordinatör Okul Müdürü

Kübra SARAN

Bilişim Teknolojileri Öğretmeni

Özge SEZER

Reva KAYA

Türkçe Öğretmenleri

Abdullah ŞALCI

Süleyman KAYAN

Matematik Öğretmenleri

Narin ÇAKMAK

Fen Bilimleri Öğretmeni

Murat ERDEN

Sosyal Bilgiler Öğretmeni

Betül SEVGİ

M. Emin ULU

Esmâ PEKDOĞAN

Din Kültürü ve Ahlak Bilgisi

Öğretmenleri

Mahsun KAYA

Ali Emre ATEŞ

İngilizce Öğretmenleri